

# 近三年上海市考真题卷

公考通网校

[www.chinaexam.org](http://www.chinaexam.org)



公考通 APP



微信公众平台

目录

1	2016年上海行测真题卷（A卷） .....	1
2	2016年上海行测真题卷（B卷） .....	32
3	2016年上海申论真题卷（A卷） .....	75
4	2016年上海申论真题卷（B卷） .....	82
5	2017年上海申论真题卷（A卷） .....	90
6	2017年上海申论真题卷（B卷） .....	98
7	2018年上海申论真题卷（B卷） .....	106

# 1 2016 年上海行测真题卷 (A 卷)

## 第一部分 常识判断

1~33 题为不定项选择题。

1. 对外是我国的一项基本国策,党的十八届五中全会提出,“十三五”期间要完成对外开放新体制,完成( )的营商环境,健全服务贸易促进体系,全面实行准入前国民待遇如负面清单管理体制,有序扩大服务业对外开放。

- A. 法治化                      B. 国际化                      C. 便利化                      D. 平台化

2. 2015 年 3 月 25 日国务院常务会议强调,要顺应“互联网+”的发展趋势,以( )为主线,重点发展新一代信息技术、高档数控机床和机器人等 10 大领域,强化工业基础能力,提高工艺水平和产品质量,推进智能制造、绿色制造。

- A. 信息化与工业化深度融合                      B. 信息化带动现代化  
C. 实施中国制造 2025                      D. 市场主导、改革创新

3. 经中共中央批准,《中国共产党统一战线工作条例(试行)》正式颁布,自 2015 年 5 月 18 日起施行。其中规定,政党协商是中国共产党同民主党派的政治协商,主要采取( )等形式。

- A. 会议协商、约谈协商、辩论协商  
B. 专题协商、约谈协商、书面协商  
C. 会议协商、约谈协商、书面协商  
D. 专题协商、约谈协商、辩论协商

4. 2015 年 1 月 14 日国务院发布《关于机关事业单位工作人员养老保险制度改革的决定》关于此次改革的基本思路,表述正确的是( )

- A. 党政机关、事业单位建立与企业相同的基本养老保险制度  
B. 从制度和机制上化解“双轨制”矛盾  
C. 先机关、后事业单位,逐步推进  
D. 职业年金与基本养老保险制度同步建立

5. 2015 年 6 月 29 日,《亚洲基础设施投资银行协定》签署仪式在北京举行,亚洲基础设施投资银行(简称亚投行)的建立将有利于推动完善便于金融治理。下列关于亚投行的说法,正确的是( )

- A. 英国是加入亚投行的第一个主要西方国家  
B. 亚投行是一个政府间性质的亚洲区域多边开发机构  
C. 亚投行致力为亚洲基础设施建设提供融资支持  
D. 亚投行是由我国提出倡议筹建的,总部设在上海

6. 《中共中央、国务院关于深化国有企业改革的指导意见》明确,要划分国有企业不同类别,根据国有资本的战略定位和发展目标,结合不同国有企业在经济社会发展中的作用、现状和发展需要,将国有企业分为( )

- A. 商业类                      B. 工业类                      C. 科技类                      D. 公益类

7. 国家税务总局 2015 年 2 月 26 日向社会公布了第一批税务行政处罚权力清单,共涉及账簿凭证管理类、纳税申报类和税务检查类等 3 类 8 项处罚权力事项,这是由国家部委发布的首份( )

- A. 执法权力清单                      B. 权力运行负面清单  
C. 行政权力清单                      D. 不规范行为负面清单

8. 《行政许可法》规定,“行政许可所依据的法律、法规、规章修改或者废止、或者准予行政许可所依据的客观情况发生重大变化的,为了公共利益的需要,行政机关可以依法变更或者撤回已经生效的行政许可,由此给公民、法人或者其他组织造成财产损失的,行政机关应当依法给予补偿”,这主要体现了行政法中的( )

- A. 行政合法性原则  
B. 行政合理性原则  
C. 正当程序原则  
D. 信赖利益保护原则
9. 下列关于行政合同的特征，说法错误的是（ ）
- A. 行政合同是行政主体履行行政职责的一种手段  
B. 行政合同应当遵循平等原则和自愿原则  
C. 行政主体可以根据情况，单方变更或者解除行政合同  
D. 行政主体在行政合同中享有优先处分权
10. 下列关于行政机关责任制的说法，正确的有（ ）
- A. 国务院实行总理负责制  
B. 外交部实行集体负责制  
C. 直辖市实行常委会负责制  
D. 自治区实行集体负责制
11. 根据《行政复议法》的规定，公民、法人或者其他组织认为行政机关的具体行政行为所依据的规定不合法，在对具体行政行为申请行政复议时，可以一并向行政复议机关提出对该规定的审查申请。对此，下列说法正确的有（ ）
- A. 可以对镇人民政府规定提出审查申请  
B. 可以对公安部的规定提出审查申请  
C. 可以对上海市政府规章提出审查申请  
D. 可以对国务院的规定提出审查申请
12. 根据《公务员法》的规定，对有下列（ ）情形的公务员，不得辞退
- A. 丧失工作能力的  
B. 身患严重疾病，在规定的医疗期内的  
C. 因社会公益而受到过嘉奖的  
D. 女性公务员有年幼子女需要抚养的
13. 2015年10月8日，上海市政府常务会议审核通过《上海市清理取缔涉渔“三无”船舶专项行动工作方案》，决定自今年10月至2016年底，在全市范围内统一开展清理取缔涉渔“三无”船舶专项行动，关于这一行政决策行为，下列说法正确的是（ ）
- A. 集体讨论决定是重大行政决策的法定程序  
B. 在提交市政府常务会议讨论前，要对该方案进行合法性审查  
C. 该方案属于上海市政府规章  
D. 公民、法人和其他组织对该方案不服，可以直接提起行政诉讼
14. 纵观历史，行政制度从产生以来，就起着规范行政权力运作的作用，如中国古代政治家管仲所云：“法律政令者，吏民规矩绳墨也”。行政管理制度在规范行政权力运作方面的作用有（ ）
- A. 行政制度确认行政权力是相对独立的国家权力  
B. 行政制度规定对行政权力主体进行监督的范围和方式  
C. 行政制度保障行政权力对行政相对人的有效行使  
D. 行政制度规定行政活动的程序，使行政活动有章可循
15. 推进预决算公开是政府公信力的体现，也是深化预算管理制度改革的体系。新《预算法》对财政预决算信息公开提出了更严格的要求，如明确提出要对机关进行经费的安排，使用情况以及政府采购情况等重要事项做出说明，政府预决算信息未按规定公开或作出说明，将被追究（ ）
- A. 法律责任  
B. 刑事责任  
C. 民事责任  
D. 行政责任
16. 近年来，城市暴雨洪涝灾害时有发生，不仅会给人们带来财产损失，也会造成人员伤亡。下列对城市

暴雨洪涝灾害发生原因的分析，不正确的是（ ）

- A. 城市的扩张导致土地硬化，渗水能力下降
- B. 城市的排水设施抵御暴雨能力不同
- C. 城市发展扩张过程中，填埋了大量的地表径流
- D. 台风是导致我国城市暴雨洪涝灾害的主要原因

17. 2015年8月，为筹建纪念中国人民抗日战争及世界反法西斯战争胜利70周年，国务院公布第二批100个国家抗战纪念设施、遗址名录，下列国家级抗战纪念遗址中，属于上海的是（ ）

- A. 国歌展示馆
- B. 中国人民抗日战争纪念馆
- C. 八路军太行纪念馆
- D. “九一八”历史博物馆

18. 格林威治时间2015年6月30日午夜增加了1秒，使2015年比2014年长1秒，这1秒成为闰秒。产生闰秒的原因是（ ）

- A. 2015年地球绕太阳公转一周的时间比2014年多1秒
- B. 和闰年一样，每四年会出现一次闰秒
- C. 正好当天的地球自转比往常慢了1秒
- D. 为了弥补原子钟计时与基于地球自转得出的“世界时”的差异

19. 带有微处理器的IC卡也称智能卡，广泛应用于金融、交通、社会等诸多方面……如：银行卡正逐步由磁条卡转为智能卡，下列关于智能卡的说法，不正确的是（ ）

- A. 智能卡不仅具有记忆能力，还具有处理信息的功能
- B. 智能卡是通过卡里的集成电路存储信息，而磁卡是通过卡内的磁力记录信息
- C. 智能卡克服磁卡信息存储量小、磁条易读出和伪造、保密性差等缺点
- D. 智能卡的成本比磁卡高，且只能和读卡器接触才能读取信息

20. 现在沪宁线上使用的是长达303公里的超长无缝钢轨，无缝钢轨并不是没有缝隙，而是把25米长的钢轨焊接起来连成几百米甚至几千米长，然后再铺在路基上，每段无缝钢轨之间还是有11毫米的空隙，下列关于无缝钢轨的说法，正确的是（ ）

- A. 采用无缝钢轨可能减少噪音污染
- B. 与普通钢轨相比，采用无缝钢轨可大大减少磨损
- C. 提高了轨道的可靠性，使列车更加平稳、舒适
- D. 无缝钢轨的制造使用了特殊钢材，没有热胀冷缩现象

21. 截止2015年5月25日，据世界卫生组织公布数据显示，全球累计实验室确认的感染中东呼吸综合征共1139例，其中431例死亡，中东呼吸综合征主要是通过接触动物引起的，这种动物是（ ）

- A. 果子狸
- B. 斑马
- C. 骆驼
- D. 羚羊

**阅读下列文字，回答22~25题。**

网络舆论共识度是网民社会心态的真实反映，也是衡量网络舆论场正负能量和理性程度的重要指标。为此，人民网舆情检测室推出国内首个“网络舆论共识度”指标体系和季度报告，旨在为中国网络舆论场的研究和社会舆论的理性引导提供新的观察视角和决策依据。根据研究报告情况，2015年第一季度舆论共识主要呈现出以下特点：

一是“舆论共识度”在波动中有所提升。通过研究2015年第一季度舆情热点事件，“舆论共识度”呈现出波动中提升的状态，官方舆论和民间舆论就热点舆情事件意见趋于一致。

二是“网民正能量指数”走高。2015年第一季度的“网民正能量指数”，由1月的0.38，2月的0.35增至3月

的 0.67。

三是反腐倡廉长期占据“政府认同度”首位。检视 2015 年第一季度舆情热点事件，反腐倡廉类事件众多且处于舆论关注高位，更以政府认同度 3.9，4.0，3.8 的高分分别占据各月榜首，成为政府认同度最高的一类舆情事件。

四是政府舆情危机处置仍待改善。相比反腐倡廉的高度“政府认同度”，突发危机类事件的“政府认同度”处于低位。

22. 网络舆论共识度是网民社会心态的真实反映，也是衡量网络舆论场正负能量和理性程度的重要指标。造成网络舆情持续不断升温或引发一系列网络舆情危机的事件，说明了以网络传播为代表的新媒体具有（ ）

- A. 公益性与危害性
- B. 传播及时性与广泛性
- C. 客观性与不可控性
- D. 主观性与隐蔽性

23. 在 2015 年第一季度舆情热点事件中，反腐倡廉类事件众多且处于舆论关注高位，更以“政府认同度”3.9，4.0，3.8 的高分分别占据各月榜首，成为政府认同度最高的一类舆情事件。这说明（ ）

- A. 政府强力反腐受到社会的认可
- B. 反腐倡廉是社会公众关注的焦点
- C. 网络舆情有助于反腐倡廉工作的进一步推进
- D. 在信息时代，政府公务员都是公众人物

24. “网络舆论共识度”指标体系和季度报告告诉我们，面对新时期复杂的媒体环境，各级政府在突发事件中，与媒体沟通时要（ ）

- A. 坚持积极主动的原则
- B. 多个部门、多种渠道发布舆情信息
- C. 快速反应、慎报原意、速报事实
- D. 采取一定的舆情管制措施

25. 2015 年第一季度的网民正能量指数渐趋提升，由 1 月的 0.38，2 月的 0.35 增至 3 月的 0.67。官方舆论和民间舆论就热点舆情意见趋于一致，说明政府在推进公共治理中需要（ ）

- A. 提升媒体沟通能力
- B. 及时监测舆情动态
- C. 充分发挥公众、社会组织等多元治理主体作用
- D. 坚持正面引导舆情，变被动应对为主动服务

#### 阅读下列文字，回答 26~29 题。

某市乙公司获准使用该市一块土地，用途是设置综合农场，发展农业。2014 年 3 月 26 日，该市规划局查获知乙公司在地块内陆续建房，搭脚手架，但并没有用来发展农业，而是以“乙农庄”的名义对外经营。规划局遂于 2014 年 4 月 2 日向乙农庄作出《关于拆除违法建设的通告》，要求乙公司在通告之日起四日之内，自行无条件拆除违法建设房屋。该行政决定未告知乙公司所依据的事实、法规，也未告知乙公司依法享有的陈述、申辩的权利。同月 3 日，规划局直接在乙农庄门口张贴该通告，未通过其他任何方式向乙公司送达。同月 18 日，规划局组织有关人员对违法建筑物实施强制拆除。拆除期间未申请公证机构对现场拆除情况、财务清点情况进行证据保全和临时保管，亦未出具任何财务的交接手续，只由该市某镇法律服务所于当日制作了《用品清单》，有规划局、某镇政府、村委会和乙农庄一名员工的签名。5 月 19 日，乙公司向某公证处出具了《公证书》，乙公司据此于 2014 年 8 月 15 日提起诉讼，要求该市规划局予以赔偿。

26. 根据案例，该市规划局行为违法之处有（ ）

- A. 未告知乙公司作出行政决定的理由和依据  
B. 要求乙公司四日内自行拆除违法建筑物  
C. 未告知乙公司依法享有的陈述、申辩的权利  
D. 未向乙公司送达《通告》
27. 根据《国家赔偿法》的规定，该市规划局不应当赔偿的范围有（ ）  
A. 乙公司的违法建筑物  
B. 乙公司在乙农庄里的合法财产  
C. 乙农庄的经营性损失  
D. 受拆迁惊吓的乙公司员工的精神损害赔偿
28. 该市规划局应当作出的强制执行决定，须载明的事项有（ ）  
A. 乙公司的名称、地址  
B. 强制执行的时间  
C. 强制执行的方式  
D. 复议机关的名称、地址
29. 根据《行政诉讼法》及其相关司法解释，关于该市某镇法律服务所当日制作的《用品清单》和某公证处制作《公证书》的证据效力，下列判断正确的是（ ）  
A. 公证的书证优于其他书证  
B. 国家机关依职权制作的公务文书优于其他书证  
C. 原始证据优于传来证据  
D. 原物优于复制品

阅读下列文字，回答 30~33 题。

### 关于 2015 年全国“爱眼日”活动的通知

各区县卫生计生委，市眼病防治中心，市医学会：

2015 年 6 月 6 日是第二十次全国“爱眼日”，今年“爱眼日”活动的主题为“告别沙眼盲，关注眼健康”。近日，国家卫生计生委办公厅、中国残联会办公厅联合转发了《关于开展 2015 年全国“爱眼日”活动的通知》（国卫办医函〔2015〕398 号）。现将该通知印发给你们，并就本市开展 2015 年“爱眼日”活动有关事项通知如下：

#### 一、市级活动安排

（一）6 月 1 日上午，市卫生计生委联合市残联 XX 公园举行“爱眼日”大型主题咨询活动，组织全市 14 家三级医疗机构知名眼科专家开展眼病义诊和咨询，发放眼病防治和眼保健知识宣传资料。

（二）6 月 1 日—3 日，在 XX 公园举办“本市沙眼防治历史回顾展”。

#### 二、工作要求

（一）市眼病防治中心要做好本次市级“爱眼日”活动的组织落实，加强对区县活动的技术指导，市医学会应加大对相关学科临床医生的培训力度，切实提高临床医生预防糖尿病致盲等并发症发生的意识。

（二）各区县卫生计生委要充分认识“爱眼日”的重要作用，紧紧围绕今年主题，会同残联等部门，深入社区、农村开展义诊、咨询、专题讲座等，进一步提升市民沙眼防治知识水平，巩固根治致盲性沙眼成果。

（三）各区县要认真总结本次“爱眼日”宣传活动，并于 6 月 13 日前将活动总结等报送至市卫生计生委。

XX 市卫生和计划生育委员会办公室

2015 年 5 月 29 日

30. 下列针对以上公文的标题提出的修改意见，正确的是（ ）

- A. “关于”前要添加发文机关全称或规范化简称

- B. “关于”后套添加“开展”二字  
 C. “通知”应改成“通告”  
 D. 事由中“全国”二字删去
31. 下列针对以上公文正文用词提出的修改意见，恰当的是（ ）  
 A. 开头部分第二句中“转发”应改成“印发”  
 B. 开头部分末句中“印发”应改成“转发”  
 C. “本市沙眼防治历史回顾展”中“本市”应改成“XX市”  
 D. “工作要求”（三）中“各区县”应改成“市医学会”
32. 以上公文正文中的写作格式和内容存在的问题是（ ）  
 A. “市级活动安排”和“工作要求”位置颠倒  
 B. “工作要求”（一）、（二）两条位置颠倒  
 C. “工作要求”（三）缺少联系人和联系电话  
 D. 正文末尾缺少附件说明
33. 下列针对以上公文的落款提出的修改意见，正确的是（ ）  
 A. 署名中“办公室”应删去  
 B. 成文日期应改成“二〇一五年五月二十九日”  
 C. 成文日期右边应空两格  
 D. 成文日期右边应空四格

## 第二部分 言语理解与表达

### 34~100 题为单项选择题。

34. 只要微观主体都具有创新活力，国家就能迸发出巨大的创新活力。\_\_\_\_\_对大部分创业创新者来说，与杰出科学家与知名企业家相比，他们的创业创新成果微不足道。\_\_\_\_\_，这些看上去微小的成果，组合在一起能够发挥强大的“长尾效应”。\_\_\_\_\_，对微观主体来说，只要有心，创新不需要付出太大的成本。在平时工作中注重改进方法，在经验积累的基础上做出改变，就能够让创新成为一种习惯。

依次填入横线处的最恰当词语是（ ）

- A. 因为，所以，但是  
 B. 也许，当然，因为  
 C. 可能，然而，更何况  
 D. 但是，虽然，当然

35. 有人说刘慈欣仅凭一己之力，就使中国的科幻小说\_\_\_\_\_于世界先进水平之列。这对于作家本人来说，\_\_\_\_\_是崇高的盛誉；但若从另一方面解读，其中何尝不隐含着十分的无奈。刘慈欣和《三体》的一花独放、单峰耸峙\_\_\_\_\_出的是科幻小说界的整体低迷。就整体而言无论是科幻小说的创作、出版、阅读和传播还是改编拍摄成影视作品等\_\_\_\_\_艺术形式，中国跟世界先进水平都存在着巨大的差距。

依次填入横线处的最恰当词语是（ ）

- A. 跃居 虽然 衬托 延伸  
 B. 跻身 固然 反衬 衍生  
 C. 跻身 当然 反映 派生  
 D. 踏入 固然 烘托 多种

36. （1）秋是代表成熟，对于春天之\_\_\_\_\_娇艳，夏日之茂密浓深，都是过来人，不足为奇了，所以其色淡，叶多黄，有古色苍茏之慨，不单以葱翠争荣了。

（2）\_\_\_\_\_，在利益多元、观念多样的时代，每个人都会有自己的打算、个性的选择。但如果人人只顾



自己的“一亩三分地”，留下的只会是一片冷漠荒原。

(3) 20 国集团，又称 G20，旨在推动已工业化的发达国家和新兴市场国家之间就实质性问题进行开发及有建设性的讨论和研究，以\_\_\_\_\_合作并促进国际金融稳定和经济的持续增长。

依次填入横线处的最恰当词语是（ ）

- A. 明艳，总而言之，寻觅                      B. 明丽，推己及人，谋求  
C. 明媚，不可否认，寻求                      D. 明朗，毋庸置疑，谋取

37. 丰子恺的散文\_\_\_\_\_，用著名学者赵景深的话说，“文字的干净流利和漂亮，怕只有朱自清可以和他媲美”。于是，令人\_\_\_\_\_的绘画原理，在丰子恺的笔下也显得\_\_\_\_\_起来。印象派为什么要在户外写生？色彩跟光的反射有什么关联？艺术家是如何观看一张椅子的？……丰子恺逐一\_\_\_\_\_，辅以直观的彩图，让读者悠然掌握绘画妙理，更好地与美相遇。

依次填入横线处的最恰当词语是（ ）

- A. 妙笔生花，罄牙佶屈，朴实无华，循循善诱  
B. 脍炙人口，望而生畏，平易近人，娓娓道来  
C. 行云流水，枯燥无味，绘声绘色，滔滔不绝  
D. 栩栩如生，望而却步，生动活泼，侃侃而谈

38. 古人早有“腹有诗书气自华”的\_\_\_\_\_，更直言过“士大夫三日不读书，则义理不交于胸中，对镜觉面目可憎，向人亦语言无味”。足见，读书对人心善良与审美韵味的\_\_\_\_\_价值。而且，不同的人生阶段赋予人不同的读书境界，这就更使人\_\_\_\_\_一生与书为伴。清人张潮就写过：“少年读书，如隙中窥月；中年读书，如庭中望月；老年读书，如台上玩月，皆以阅历之浅深，为所得之浅深耳。”人生历练助读书得真意，而读书本身\_\_\_\_\_不是借他人之笔丰富自我的人生。

依次填入横线处的最恰当词语是（ ）

- A. 感慨，培养，须，未尝                      B. 叹息，培育，需，如何  
C. 感叹，塑造，需，怎么                      D. 喟叹，养成，须，何尝

39. 下列句子没有语病的是（ ）

- A. 科学家最新研究发现人类并不是宇宙中唯一生命，但可能是第一批智慧生命。  
B. 交通拥堵和空气污染，不仅在中国，同样是国际性的难题。  
C. 1981 年 6 月 7 日，以色列空军的战斗机悄悄地偷袭了伊拉克的原子能中心。  
D. 外贸发展不仅对稳增长、保就业至关重要，而且有利于促进中国经济与世界经济深度融合。

40. 下列语句中，会产生歧义的是（ ）

A. 网民和专家表示，原因查明后，在对直接责任企业和责任人依法依规严厉问责之外，对供水企业、环保、建设等部门也应进行尽职调查。

B. 藏书，传统意义中高端文雅的兴趣爱好，洗去浮华，悄然走进百姓生活。书友们在发黄的书页中收获幸福，在浩瀚的书海中淘得快乐。

C. 发展经济学的理论渊源是人类关于推进社会经济快速发展的思想。

D. 艺术节的举办实际上就是在发掘与追求一种社会认同、并通过艺术节的一系列活动来体现这种认同。

41. 下列三个句子，分别最可能出现在什么类型的文本中（ ）

(1) 我们必须相信，艾滋病群体不是一种异数，只是一种病人；不是一种例外，只是一种意外；不是一种伤疤，只是一种伤痛；不是一种耻辱，只是一种现实。

(2) 自我国 1985 年发现第一例艾滋病人以来，截至今年 10 月底，报告现存活的艾滋病感染者和病人达 49.7 万例，死亡 15.4 万例。

(3) 行动起来, 向零艾滋迈进; 全面预防、积极治疗、消除歧视。

- A. 宣传海报, 医学文献, 新闻报道
- B. 抒情散文, 教科书, 政论文
- C. 新闻报道, 政府报告, 医学文献
- D. 报刊评论, 政府报告, 宣传海报

42. 将下列句子重新排列, 语序最恰当的是 ( )

- ①所以, 在医生准入这件事情上, 任何国家都不敢“任性”, 宁缺毋滥。
- ②良医治病, 庸医要命。
- ③让不合格的人穿上白大褂, 等于让“隐形杀手”混入医生队伍。
- ④而庸医之害, 甚于无医。
- ⑤医生有良医和庸医之分。
- ⑥如果良医短缺了, 就用庸医来充数, 无异于饮鸩止渴, 拿人命当儿戏。
- ⑦降低当医生的门槛, 必然导致医疗质量下降, 最终受害的是患者。

- A. ⑦⑤②⑥③④①
- B. ③⑥⑤②④⑦①
- C. ⑤②④⑥⑦③①
- D. ⑥⑤④⑦②③①

43. 月球之所以能对地球自转轴起到重要影响, 是因为它异乎寻常得大——事实上, 它是太阳系卫星之中最大的。不仅如此, 按照目前最流行的观点, 月球乃是起源于地球演化早期——约 45 万亿年前——的一次超级碰撞, 碰撞的双方一方是正在成长中的原地球, 另一方是一个差不多火星那么大的超级“陨石”。

这段文字中有三处破折号, 它们的作用是 ( )

- A. 前一个破折号是表示转折式说明, 后两个破折号是引出下文
- B. 前一个破折号是表示强调, 后两个破折号是引出下文
- C. 前一个破折号是插入例子, 后两个破折号是表示插入补充说明
- D. 前一个破折号是表示递进式说明, 后两个破折号是表示插入补充说明

44. 中国文化产品走出国门, 要善于运用世界能理解接受的方式和话语, 更要不断揣摩并捕捉时代焦点, 这样才能传得开、走得远。\_\_\_\_\_。从农耕时代与人类和谐共处之美, 到工业化社会受到生存威胁濒临灭绝, 成为博物馆中标本的切肤之痛, 再到因人类悉心呵护而重生的喜悦, 舞剧《朱鹮》将人类对于环境的忧思与关切, 细密编织于演员们优美的舞姿之中, 让中外观众都能在此找到共鸣。

如在上文划线处添加过渡句, 最恰当的是 ( )

- A. 而舞剧《朱鹮》的成功, 恰好是最佳的例证
- B. 如果说舞剧《朱鹮》的成功有诸多因素, 那真正为演出成功奠定基石的就是题材
- C. 舞剧《朱鹮》成为了“真正的文化使者”
- D. 而舞剧《朱鹮》的编剧尚未深刻地认识到这一点

45. 子路问老师: 什么样的人算是君子? 孔子说“修己以敬”。子路意犹未尽, 追问道: “如斯而已乎?” 孔子回答道: “修己以安人。”子路仍心有不甘, 继续追问道: “如斯而已乎?” 孔子答: “修己以安百姓”, 接着又补充说, 修己以安百姓, 这是尧、舜大概还难以做到的啊! 从这个“修身之答”中, 我们可以看到修身要达到的三方面要求和目标, 即“以敬”、“以安人”、“以安百姓”, 这是值得今天的领导干部认真学习和体会的。

对上面语段概括最准确的是 ( )

- A. 说明了孔子诲人不倦, 值得学习
- B. 阐释了孔子“修身之答”及其现实意义
- C. 说明了孔子所谓修身的要求和目标

D. 介绍了著名的师生“修身之答”

46. 在农业越来越依靠现代科学知识和农耕技术的当下，在越来越多的年轻人被卷入城镇化大潮而失去种地技能之后，农民职业化可以有效促进家庭小农经济变革为家庭农场或庄园经济，从而解放农村的落后生产力，也能够促进农业生产的现代化。然而农民职业化，不是农民证书化，更不是相关部门设立几个条条框框，外加做一些培训工作，就能让农民实现职业化了的。

关于这段文字所表述的内容，下列说法正确的是（ ）

- A. 农民职业化不应当给农民颁发证书或组织农民进行培训
- B. 农民职业化意味着农业生产力的现代化，对农民适当培训也是需要的
- C. 当下农业面临着由于现代科学技术的发展而越来越丧失传统种地技能的问题
- D. 农民职业化意味着吸引更多年轻人回到农村务农，形成家庭农场

47. 文风之“简”，主要表现在三个方面：一是\_\_\_\_\_。华丽的语言常常被用来掩饰思想的贫乏。二是\_\_\_\_\_。“真传一句话，假传万卷书”。三是\_\_\_\_\_。“随风潜入夜，润物细无声。”对于领导干部来说，在文风上是不是注重、能不能做到“简”，意义更为重大，它直接关系到能不能做好群众工作和能不能有效实施领导。

将以下三句分别填入上文的划线部分，最恰当的的顺序是（ ）

- ①简单生动，就是用形象的语言说明抽象的道理
- ②简朴深刻，就是用朴实的语言表达深刻的道理
- ③言简意赅，就是用简明的语言阐述完备的思想

- A. ②③①
- B. ②①③
- C. ③①②
- D. ①③②

阅读下列文字，回答 48~54 题。

城市是纯粹的人为产物，大部分由混凝土组成，环境干燥，人来人往，污染严重。很难想象，在这种环境下还有物种能平静地生长。

不过，近年来科学家观察到，一些物种具有惊人的能力，逐渐适应了这种新的生活空间——尤其是那些具有活力、能迅速定居的机会主义物种。

以乌鸦为例。直到 1990 年代初，城市里还没有乌鸦。

但现在它们已经大举进攻，甚至成为城市公害：巴黎的乌鸦毁坏垃圾箱，欺侮行人。其他鸟类也被易得的食物所吸引，适应了城市生活：麻雀、椋鸟、喜鹊、田鸫、鸽子……哺乳动物也不例外：从獾到麝鼠、松鼠，甚至还包括赤狐。

法国国家农业研究院的劳拉·福特尔（Laura Fortel）在 2014 年夏天指出，里昂市区和市郊的蜜蜂种类已接近全法蜜蜂多样性的三分之一。

植物方面，状况同样惊人。城市生态学家已在巴黎发现一千多种野生植物（聚合草、芝麻菜、兰花、蒲公英、荨麻……）。

随着时间流逝，混凝土周围必然生成了一种新生活。

鸟类学家贝尔纳·卡迪乌（Bernard Cadiou）发现，几十年间形成了一类独特的城市海鸥：“1990 年起，自然界的海鸥数量每十年减少一半，城市里的海鸥却仍在增加，并且离海岸越来越远。在巴黎，它们生活在城市群岛中，每片房屋就是一个小岛。城里的一切条件都更加优越：垃圾箱，家庭废品，有时在中心广场或公园里还能找到蚯蚓……人类已为它们造好了避风港。”

动植物群落就这样在城市里安居下来。更妙的是，它们还在城市开发了新的组织策略。法国国家自然历史博物馆（MNHN）的保护生物学家罗曼·朱利亚（Romain Julliard）强调：“动物的可塑性使它们能够利用现有资源。”

这种可塑性也使得动植物改变它们的生活方式。例如，不必再筑巢——电梯装置、通风管道或一片屋顶都

可为许多动物提供理想的居所。这位学者描述说：“在乡村，绿头鸭通常在地面筑巢，城市里则在高处栖息。”

食物易得，物种多样性较少，这都抑制了种间的敌对行为，也限制了捕食关系。和平化进程的结果是一些种群数量迅速增加、寿命延长：“在城里，乌鸦寿命能比在乡村长两年。”

另一突出现象是：动物开始定居，减少迁徙行为。这是由于城市的微气候比乡村更暖，适于过冬。“城市茧居”同样更加普遍。繁殖季延长，亲缘联系增强：“城市乌鸦的繁殖期比乡村乌鸦早开始一至四周，夏季幼鸟离巢的时间也晚一个月。”

生态学家菲利普·柯莱若确认：“动物随着城市改变。我们甚至在巴黎地铁里见到蟋蟀以烟草和香烟过滤嘴为食！”红隼的捕猎方式也与以往不同，不再捕食鼯鼠和田鼠，而是食用麻雀和大型昆虫。

生态学家娜塔莉·玛冲研究了植物界的情况。“所有人类活动都对植物种类构成有影响。植物采取针对城市环境的特殊行为。”城市里的雏菊更能耐受踩踏，蒲公英更倾向于在近处散播种子，使之能够享有珍稀的可用土地。

48. 文中提到“机会主义物种”，下列选项对该词含义理解正确的是（ ）

- A. 指一些动植物抓住机会不择手段大举进攻城市，并成为城市公害
- B. 指一些动植物能够利用现有资源、适当改变生活习性，谋求生存
- C. 指城市环境对一些动植物的生存更有利，它们从而获得更多生存机会
- D. 指城市环境迫使一些动植物改变生活习性，它们从而获得进化的机会

49. 根据文意，下列（ ）不是城市对生物生存有利的方面

- A. 城市有丰富充足的食物来源
- B. 混凝土建筑是动物更理想的居所
- C. 城市气候更温暖
- D. 城市的物种较少

50. 动植物面对城市化所做出的改变不包括（ ）

- A. 改变居住方式
- B. 改变繁殖方式
- C. 改变饮食方式
- D. 改变迁徙路径

51. 如给本文拟一个标题。下列选项最合适的是（ ）

- A. 面对城市化：动植物改变习性
- B. 城市：让动植物生活更美好
- C. 警惕！动植物入侵城市生态
- D. 城市：因动植物而改变

宋代青白瓷作为一种器物符号，是以景德镇窑为代表烧制的一种单色釉瓷器。”，它兼具了物质文化和精神文化的双重功能，包含着丰富的文化符号意义，不但是历史长河中器物文明的里程碑，也体现了中华民族的审美观和人文精神。

青白瓷取得的成就与宋代发达的经济分不开。北宋后期，宋金对峙。南方经济明显超过了北方，景德镇青白瓷也在此时得到了相当大的发展。但是富庶的社会经济也让宋人失去了汉唐那种博大、开阔、外向、奋发的眼界、胸襟、抱负和理想，代之而起的是克制自持、问问儒家、宁静自适的审美理想，所以，不是华贵富丽的彩瓷，而是景德镇的青白瓷，成为宋代真正优秀的艺术作品。

自青白瓷问世，制瓷工匠便特别注意成型技艺的提高，坯体加工十分精细。这是由青白瓷的工艺特征决定的。青白瓷胎骨较轻薄而洁白。釉质具有通透感。造型轻巧，因而坯体上如有任何痕迹和杂物，在经施釉烧成后，都会在这种透明釉下暴露无遗。

青白釉常出现的纹饰有婴戏、兰草、莲纹、海浪纹、云龙纹等。其中，莲纹流传甚广，常见的有莲花或莲藕纹、缠枝莲纹或折枝莲。莲纹与相应器形结合。呈现一种婀娜多姿之态。青白瓷的造型以秀丽挺拔为特色，如瓜棱形的壶身，细长弯曲的壶流，盘口的折沿，碗、盘、碟等口部多用花口或内壁饰五至六条凸起的出筋纹，轻巧玲珑的造型、清雅柔美的纹样、莹润恬静的釉色相结合，使器物呈现一种柔美优雅的韵味。

宋代审美风潮的变化与理学的兴起也有着密切的关系。宋代理学思想的核心是“存天理、灭人欲”，这种哲学理念对中国传统艺术审美产生了深刻影响。体现在工艺美术上，使得宋代工艺的造型和装饰都显得较为平实。宋代景德镇青白瓷端庄典雅的风致，显然是深受理学的影响，与宋代整个审美思潮相一致，青白瓷承担着道德教化的崇高社会任务，其目的不是为了享受，而是为了平欲；不是为了审美，而是为了致善。

青白瓷使用的青白釉在化学组成上属于重石灰釉，钙含量很高，入窑焙烧后积釉处呈水绿色，呈现湿润如玉的风姿。宗白华曾说：“中国向来把‘玉’作为美的理学。玉的美，即‘绚烂之极归于平淡’的美。可以说，一切艺术的美，以至于人格的美，都趋向玉的美：内部有光彩，但是含蓄的光彩，这种光彩极绚烂，又极平淡。”瓷器追求温润莹澈的效果一方面是农耕文明对土、石、玉审美的延伸，另一方面，受到“君子比德于玉”思想的影响，是儒家重礼，重德精神贯通生活方方面面的具体体现，青白瓷就是这样一种承载玉德的瓷器。瓷器至唐五代以来，不仅不断适应和满足这变化的时代以及与此相适应的生活方式，同时也追随这审美情趣的变化轨迹。青白瓷的如玉质地和釉色在宋代匠师的手中赫然而出，渗透了淡泊虚静的人生。在宋人的精神世界里拓疆统驭，更在中国审美传统中发展壮大。

52. 下列选项中，不是宋代景德镇青白瓷的特点的是（ ）

- A. 轻巧挺拔的造型  
B. 莹润通透的釉色  
C. 清新质朴的纹样  
D. 绚烂多姿的风格

53. 根据文意，下列说法正确的是（ ）

- A. 青白瓷又称白地青花瓷，其胎质细腻，釉质肥润，底釉莹白，纹饰青翠  
B. 青白瓷纹饰丰满紧密，多而不乱；器形厚重饱满，端庄大气  
C. 青白瓷是中国人对玉的审美的延伸，这也同儒家精神在生活中的渗透有关  
D. 青白瓷承担着道德教化的崇高社会任务，具有惩恶扬善的功能

54. 关于本文的主旨，下列说法最恰当的是（ ）

- A. 青白瓷的成就与工艺特征  
B. 青白瓷蕴含的宋代美学思想  
C. 青白瓷与宋代经济社会发展  
D. 理学思想影响下的瓷器工艺

### 第三部分 数量关系

55. 小张购买艺术品 A，在其价格上涨 X% 后卖出盈利 Y 元，用卖价的一半购买艺术品 B，又在其价格上涨 X% 后卖出盈利 Z 元，发现 Z 大于 Y。则 X 的取值范围是（ ）

- A. 大于 100  
B. 大于 200  
C. 小于 100  
D. 小于 200

56. 某大型社区提供巴士换乘地铁服务，规定车满载后直达地铁站，中间站不再停留上客。如果巴士共有座位 48 个，第一站上来 1 人，第二站 2 人，第三站 3 人，按照这个规律，第（ ）站司机将不再停车。

- A. 8  
B. 9  
C. 10  
D. 11

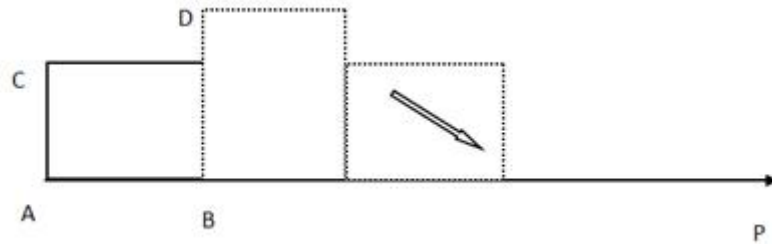
57. 一艘轮船先顺水航行 40 千米，再逆水航行 24 千米，共用了 8 小时。若该船先逆水航行 20 千米，再顺水航行 60 千米，也用了 8 小时。则在静水中这艘船每小时航行（ ）千米

- A. 11  
B. 12  
C. 13  
D. 14

58. 某收藏家有三个古董钟，时针都掉了，只剩下分针，而且都走的较快，每小时分别快 2 分钟、6 分钟及 12 分钟。如果在中午将这三个钟的分针都调整指向钟面的 12 点位置，（ ）小时后这 3 个钟的分针会指在相同的时钟位置。

- A. 24  
B. 26  
C. 28  
D. 30

59. 长方形 ABCD，从图示的位置开始沿着 AP 每秒转动 90 度（无滑动情况），AB=4 厘米，AC=3 厘米，当长方形的右端到达距离 A 为 46 厘米的位置时是（ ）秒后。



- A. 11                      B. 12                      C. 13                      D. 14

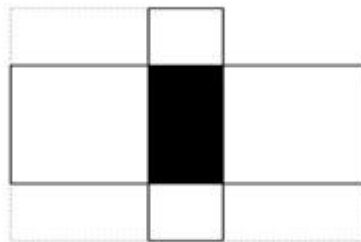
60. 现有 21 本故事书要分给 5 个人阅读，如果每个人得到的数量均不相同，那么得到故事书数量最多的人至少可以得到（ ）本。

- A. 5                      B. 7                      C. 9                      D. 11

61. 甲乙丙三员工共同修剪 6060 平方米草地，甲的修剪效率为 30 平方米/分钟，乙的修剪效率为 40 平方米/分钟，丙的效率为 60 平方米/分钟。上午，甲 7 点 30 分开始修剪，乙 7 点 45 分开始，丙 8 点 15 分开始，他们同一时间完成工作，乙用了（ ）分钟。

- A. 56                      B. 57                      C. 58                      D. 59

62. 下图中间阴影部分为长方形。它的四周是四个正方形，这四个正方形的周长和是 320 厘米，面积和是 1700，则阴影部分的面积是（ ）平方厘米。



- A. 375                      B. 400                      C. 425                      D. 430

63. 小王打算购买围巾和手套送给朋友们，预算不超过 500 元，已知围巾的单价是 60 元，手套的单价是 70 元，如果小王至少要买 3 条围巾和 2 双手套，那么不同的选购方式有（ ）种。


- A. 3                      B. 5                      C. 7                      D. 9

#### 第四部分 判断推理

64. 无线充电，又称为非接触式感应充电，是利用磁场共振原理，由供电设备（充电器）将能量传送至用电的装置，两者之间不用电线连接，因此充电器及用电的装置（ ）

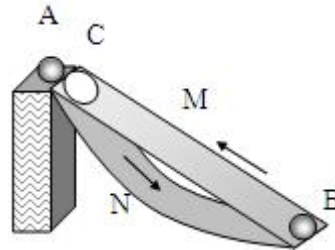
- A. 相对于无线充电来说，有线充电电源转换一次性获得，电能损失小，节能环保
- B. 利用无线充电的设备，可以显著减少设备磨损
- C. 无线充电技术要求高、价格贵是现阶段不能普及的主要原因
- D. 无线传输距离越远，无用功的耗损也就会越大

65. 如图，一般轻弹簧下端固定，竖立在水平面上，其正上方 A 位置有一只小球，小球从静止开始下降，在 B 位置接触弹簧的上端，在 C 位置小球所受弹力大小等于重力，在 D 位置小球速度减小到零。下列对于小球下降阶段的说法中，正确的是（ ）



- A. 在 B 位置小球动能最大
- B. 在 C 位置小球动能最小
- C. 从 A→D 位置小球重力势能的减少小于弹簧弹性势能的增加
- D. 从 A→C 位置小球重力势能的减少大于小球动能的增加

66. 如图所示为某人设计的一种机器，原理是这样的：在立柱上放一个强力磁铁 A，两槽 M 和 N 靠在立柱旁。上槽 M 上端有一个小孔 C，下槽 N 弯曲。如果在 B 处放一小铁球，它就会在强磁力作用下向上滚，滚到 C 时从小孔下落沿 N 回到 B，开始往复运动，从而进行“永恒的运动”。关于这种机器，下列说法正确的是（ ）



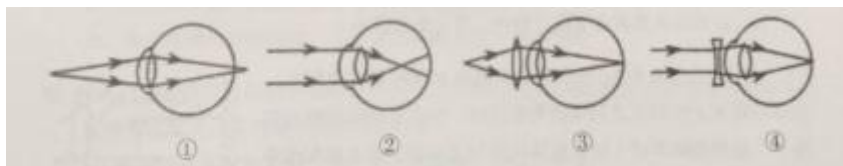
- A. 这种机器可以永恒运动，说明了永动机可以制造
- B. 这种机器是可以制造的，并且小球在下滑时能源源不断地对外做功
- C. 这种机器不能永恒运动，如果小球能从静止加速上升到 C 的话，它就不可能从 C 加速下滑到 B，并再次从 B 回到 C
- D. 这种机器不能永恒运动，关键是因为摩擦阻力太大，要消耗能量

67. 真空玻璃是将两片平板玻璃或玻璃四周密闭起来，将其间隙抽成真空并密封排气孔，两片玻璃之间的间隙为 0.1~0.2mm，真空玻璃的两片至少有一片是低辐射玻璃。

根据以上信息，下列关于真空玻璃的描述错误的（ ）

- A. 为了达到玻璃内外压力平衡，往往会在玻璃之间排列整齐小球，用来支撑玻璃承受外界大气压的压力
- B. 采用低辐射玻璃的原因是使辐射传热尽可能小
- C. 抽成真空的目的是减少气体传热的影响，从而使保温性能更好
- D. 抽成真空后隔音的效果会下降

68. 下列四幅图中，属于近视眼成像原理和远视眼矫正方法的分别是（ ）



- A. ①和③
- B. ②和③
- C. ②和④
- D. ①和④

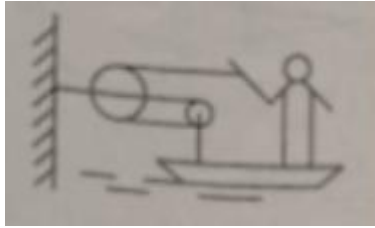
69. 炎热的夏天开车行驶在高速公路上，常觉得公路远处似乎有水面，水面上还有汽车。电线杆等物体的倒影，但当车行驶至该处时，却发现不存在这样的水面。出现这种现象是因为（ ）

- A. 镜面反射
- B. 漫反射
- C. 直线传播
- D. 折射

70. 小张放假回到农村，发现一个种子堆，好奇的小张把手伸到种子堆里，发现里面温度比较高，这主要是因为（ ）

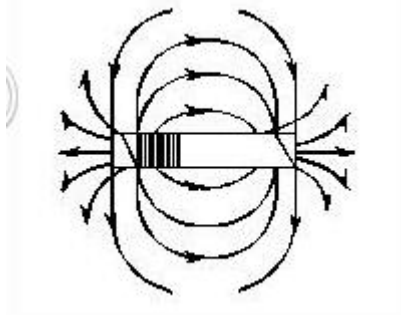
- A. 天气热                      B. 呼吸作用                      C. 光合作用                      D. 保温作用

71. 如图，质量为 65kg 的小李站在重为 3000N 的铁皮船上，船体与陆地上的树木之间用滑轮组连接，小李用 60N 的拉力拉绳子（质量忽略不计）时，船体向前匀速移动，那么船在水中受到的阻力为（ ）N。



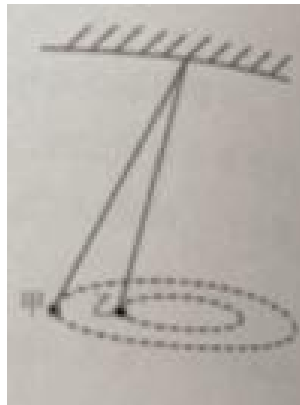
- A. 39                                  B. 60                                  C. 120                                  D. 180

72. 地球是一个巨大的磁体，他的磁场分布情况与一个条形磁铁的磁场分布情况相似。地理南极相当于条形磁铁的 N 极，地理北极相当于条形磁场的 S 极，那么上海上空的磁场方向是（ ）



- A. 由南至北斜向下沉                      B. 由南至北斜向上升  
C. 由北至南斜向下沉                      D. 由北至南斜向上升

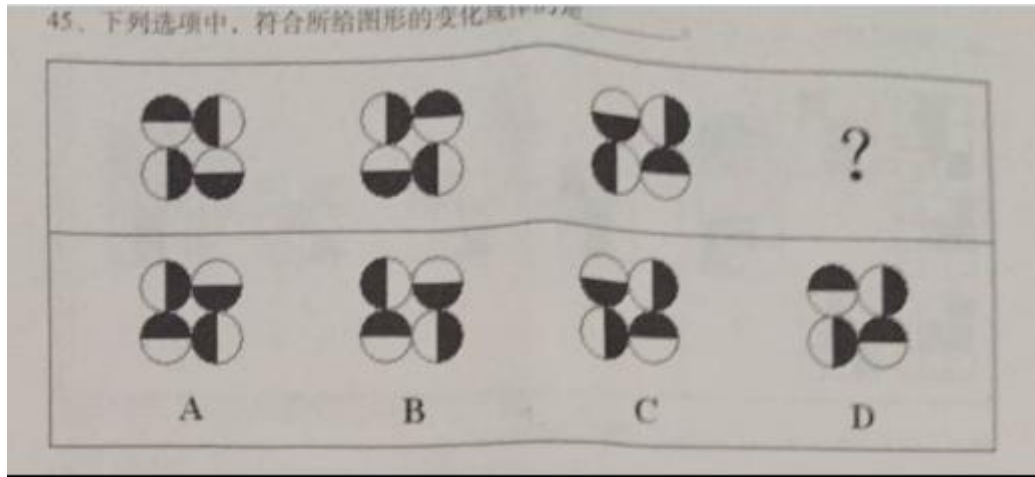
73. 如图，用绳子（质量忽略不计）将甲、乙两铁球挂在天花板上的同一个挂钩上，然后使两铁球在同一水平面上做匀速圆周运动，已知两铁球质量相等，那么下列说法中不正确的是（ ）



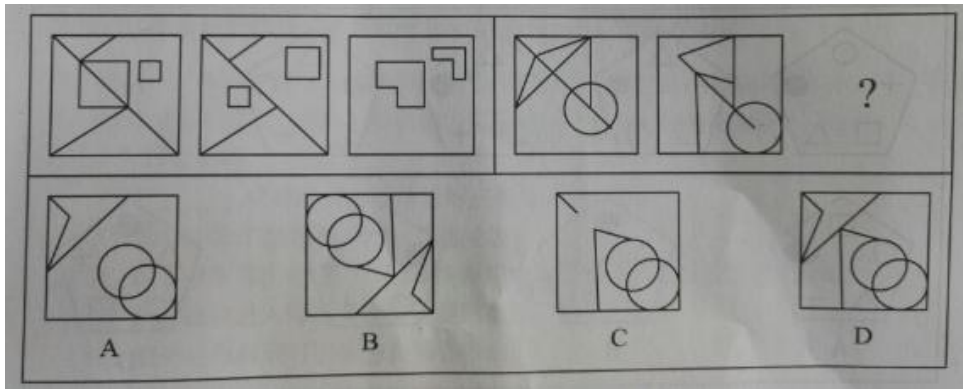
- A. 甲的角速度一定比乙的角速度大                      B. 甲的线速度一定比乙的线速度大  
C. 甲的加速度一定比乙的加速度大                      D. 甲所受绳子的拉力一定比乙所受的绳子的拉力大

74. 下列选项中，符合所给图形的变化规律的是（ ）

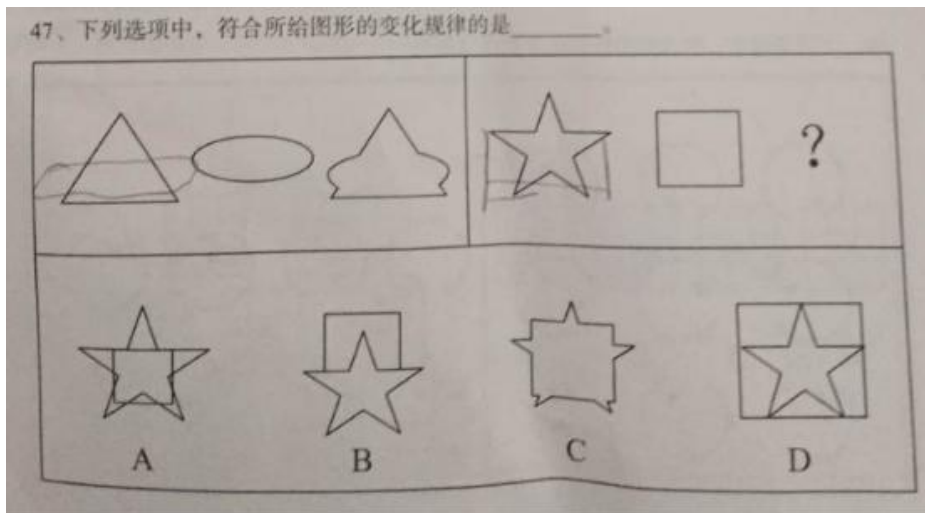




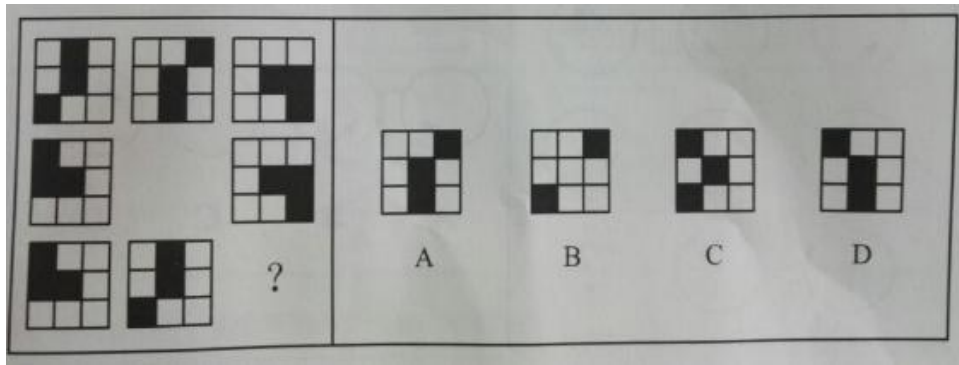
75. 下列选项中,符合所给图形的变化规律的是 ( )



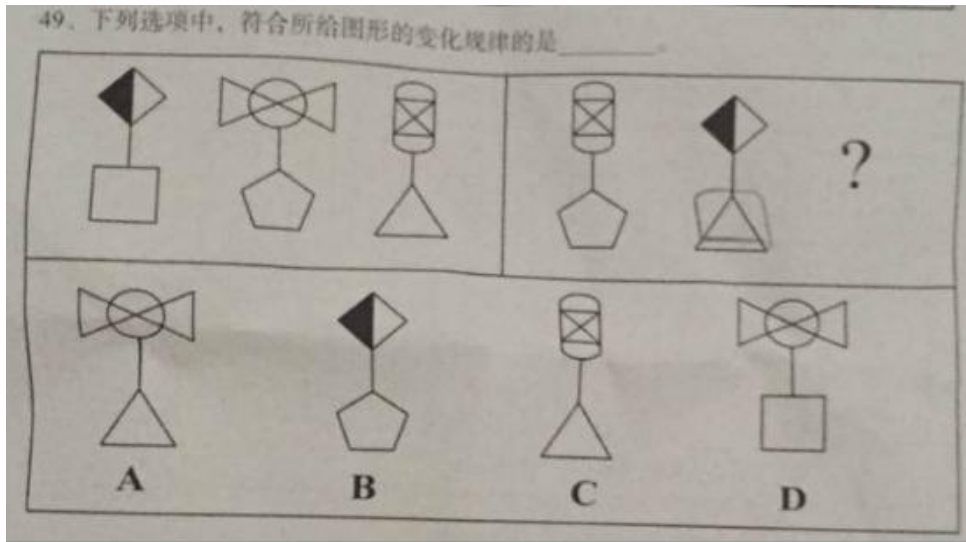
76. 下列选项中,符合所给图形的变化规律的是 ( )




77. 下列选项中,符合所给图形的变化规律的是 ( )



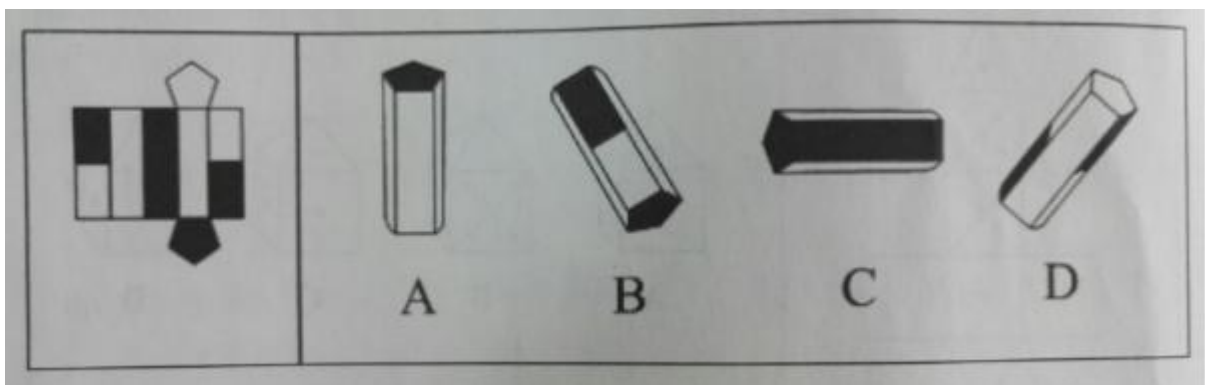
78. 下列选项中，符合所给图形的变化规律的是（ ）



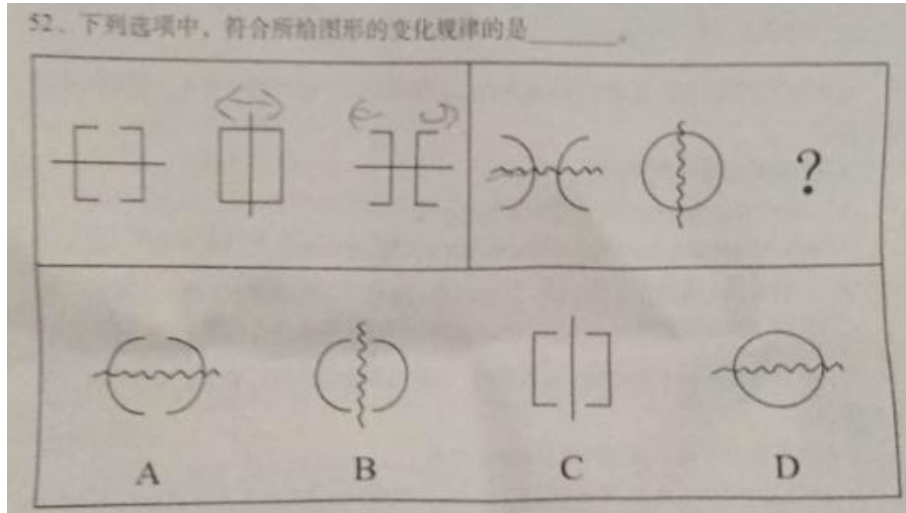
79. 下列选项中，符合所给图形的变化规律的是（ ）



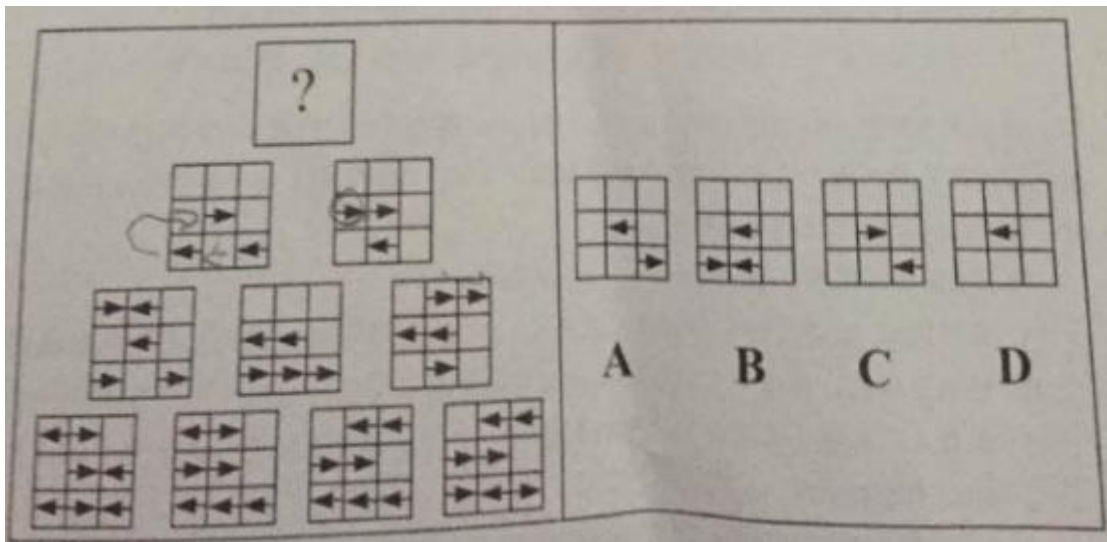
80. 下列选项中，符合所给图形的变化规律的是（ ）



81. 下列选项中，符合所给图形的变化规律的是（ ）



82. 下列选项中，符合所给图形的变化规律的是（ ）



83. 某工厂有多个宿舍区和车间，住在 A 宿舍区的员工都不是纺织工，因此在 A 车间工作的员工有部分是不住在 A 宿舍区的。

为了使该推理成立，必须补充下列哪项作为前提条件（ ）

- A. 有的纺织工不在 A 车间工作
- B. 在 A 车间工作的员工有的不是纺织工
- C. 住在 A 宿舍区的员工有的是在 A 车间工作
- D. 有的纺织工在 A 车间工作

84. 地铁每节车厢门旁边通常会有警告标志：“停车请拉下紧急制动开关，擅动将负法律责任。”

上述警告标志适用的情况是（ ）

- I、一些乘客会无故使用或误用紧急制动开关；
  - II、在某些特殊情况下，可能有乘客需要使运行的列车停下。
- A. 只有情况 I 适用
  - B. 只有情况 II 适用
  - C. 情况 I 和 II 都适用
  - D. 情况 I 和 II 都不适用

85. 培养设计系学生的审美情趣是很重要的，因此学校应该为设计系学生开设中西方艺术史课程。

下列选项如果为真，最能削弱上述结论的是（ ）

- A. 修习过中西方艺术史课程的学生与未修习该课程的学生在审美情趣上无显著差异。

- B. 有没有审美情趣对于学生能否设计出优秀的作品关系不大
- C. 学生在课程学习中的努力程度与设计出的作品的精美程度成正比
- D. 并不是所有学习过中西方艺术史课程的学生均能成为杰出的设计师

86. 在过去五年里, xx 型高速列车先后发生了 4 次脱轨事故。针对 xx 型高速列车存在设计缺陷的公众质疑, 该型号的列车制造商提出反驳: 调查表明, 每一次脱轨事故都是由于驾驶员违反操作规程而导致的。

列车制造商的反驳是基于下列哪项假设 ( )

- A. 在质疑 xx 型高速列车存在设计缺陷时, 公众并没有明确指出究竟存在何种缺陷
- B. 过去五年里, 高速列车的脱轨事故并不都是由于驾驶员违反操作规程而导致的
- C. 调查人员有能力弄清楚脱轨事故究竟是由于列车设计缺陷还是由于列车制造方面的问题导致的
- D. xx 型高速列车不存在任何能导致驾驶员违反操作规程的设计缺陷

87. 近十年来, 我国每年授予的博士学位数量出现了持续性的上升, 因此可以认为近十年我国研究生人数不断增加。

下列各项中, 最能支持上述结论的是 ( )

- A. 近十年来, 获得博士学位的难度并未发生变化
- B. 近十年来, 我国获得博士学位的人数在研究生总人数中所占的比例不变
- C. 今年申请攻读博士研究生的人数是十年前的 2 倍左右
- D. 今年我国的博士研究生在研究生中仅占 20% 左右

88. 据估计, 可能有数以百万吨的塑料漂浮在海洋中。但是一项新研究发现, 这些塑料有 99% 都消失不见了, 研究人员认为大部分消失的塑料可能是被海洋生物吃掉了, 并随之进入海洋食物链。

下列哪最能对上述结论的正确与否进行评价 ( )

- A. 海洋中除了塑料是否还有其他垃圾
- B. 除了被海洋生物吃掉, 漂浮在海洋中的塑料是否会以其他形式消失
- C. 是否能说进入海洋食物链的塑料就是“消失”了
- D. 消失的塑料最可能集中在哪些海域

89. 某国人口统计机构预测, 到 2031 年, 该国人口将降到 1.27 亿以下, 在今后 40 年的人口将减少 2400 万, 为此, 该国政府出台一系列鼓励生育的政策。近年来, 该国人口总数趋于稳定, 截至 2014 年 6 月 1 日, 人口数量为 1.461 亿。2014 年 1 至 5 月人口增长量为 5.91 万, 增长率为 0.04%。因此, 有专家认为该国实施的鼓励生育政策达到了预期的效果。

下列选项如果为真, 最能加强上述观点的是 ( )

- A. 如果该国政府没有出台鼓励生育的政策, 儿童人口总数会持续下降
- B. 如果该国政府出台更加有效的鼓励生育政策, 就可以提高人口质量
- C. 近年来该国人口总数出现缓慢上升的趋势
- D. 该国政府出台的鼓励生育政策是一项长期国策

90. 某文学期刊网站的栏目设置通常根据读者反馈与浏览量的情况随时调整。去年九月, 一批新栏目出现在改版后的网站上。其中, 5 个栏目是喜剧幽默类的连载, 3 个栏目是长篇类科幻小说连载, 2 个栏目是文学批评类的内容。到今年一月, 这些新上线的栏目只有 7 个还在继续更新, 其中 5 个是喜剧幽默类的连载。

如果上述陈述为真, 下列哪项可以从题干中推出 ( )

- A. 只有 1 个文学批评类的栏目还持续更新
- B. 只有 1 个长篇科幻类小说的栏目还持续更新
- C. 至少有 1 个长篇科幻类小说的栏目已经下线

D. 相比于文学批评类的内容, 读者们更喜欢喜剧幽默类的连载

91. 在学校图书馆, 只有出示院系开具的证明, 才能进入特藏书库阅览。如果没有参加教授的课题组, 院系就不会开具证明。小张最近因表现突出被李教授吸收进了自己的课题组。小王因个人原因在上星期退出了陈教授的课题组。

如果上述断定为真, 下列哪项一定为真 ( )

- A. 小张现在可以进入特藏书库阅览
- B. 小王现在不能进入特藏书库阅览
- C. 只要进入了教授的课题组, 就能进入特藏书库阅览
- D. 没有获得院系开具的证明, 说明没有参加教授的课题组

92. 经过全力检测和排查, 疾控中心的专家确定如下事实:

- (1) 如果将某和张某都感染了 H7N9 新型禽流感病毒, 则李某没有被感染
- (2) 李某感染了 H7N9 新型禽流感病毒, 而且王某的陈述正确;
- (3) 只有王某的陈述不正确, 张某才没有感染 H7N9 新型禽流感病毒

由上述事实可以推出 ( )

- A. 蒋某没有感染 H7N9 新型禽流感病毒, 张某感染了
- B. 蒋某和李某都感染了 H7N9 新型禽流感病毒
- C. 李某和王某都感染了 H7N9 新型禽流感病毒
- D. 蒋某感染了 H7N9 新型禽流感病毒, 张某没有感染

93. 某大学举办国际会议, 在其中一场圆桌会议中, 有多个国家的五位相关领域的专家参加, 为了使他们能够顺利沟通, 组委会事先了解的情况如下: 甲是德国人, 还会说法语; 乙是中国人, 还会说英语; 丙是英国人, 还会说法语; 丁是法国人, 还会说日语; 戊是中国人, 还会说德语。

那么组委会应按照哪项安排座位 ( )

- A. 甲丙戊乙丁
- B. 甲丁丙乙戊
- C. 甲乙丙丁戊
- D. 甲丙丁戊乙

94. 某经济学院从国外引进了 30 种教材, 其中, 金融类教材 12 种, 非金融类的英文教材 10 种, 从美国引进的非金融类教材 7 种, 从美国以外国家引进的非英文教材 9 种。

根据上文, 可以推知 ( )

- A. 从美国引进的、非英文的金融类教材不超过 8 种
- B. 从美国引进的、非英文的金融类教材至少有 8 种
- C. 从美国以外国家引进的、非英文的金融类教材不超过 8 种
- D. 从美国以外国家引进的、非英文的金融类教材至少有 8 种

95. 老张准备完成一项任务需耗时 100 个工作日, 他周一至周五每天坚持工作, 周六和周日休息, 他从周四开始工作, 则他完成任务的那天是 ( )

- A. 周一
- B. 周二
- C. 周三
- D. 周五

## 第五部分 资料分析

根据下列资料, 回答 96~100 题。

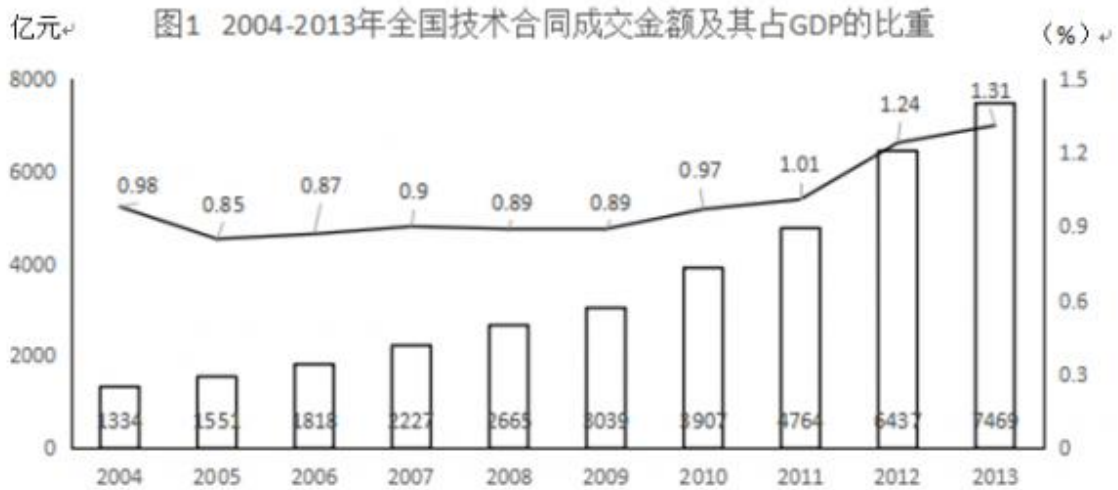
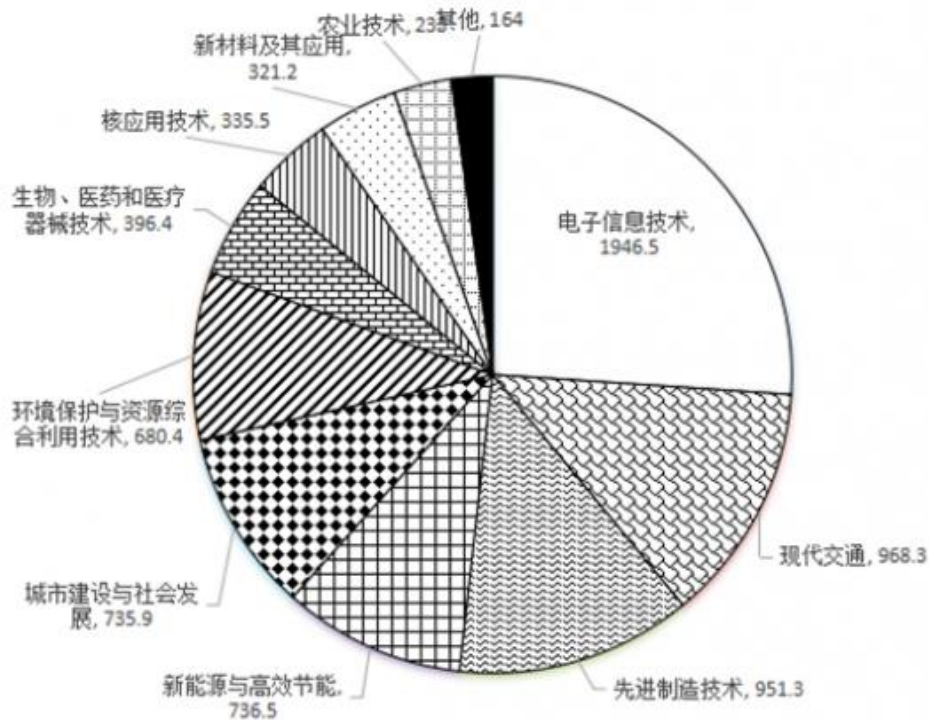


图2 2013年全国技术合同成交金额按技术领域分布 (亿元)



96. 2005-2013年, 全国技术合同成交金额增速超过GDP增速的年份有( )个。  
 A. 3                      B. 4                      C. 5                      D. 6
97. “十一五”期间(2006-2010年), 全国技术合同成交总金额( )  
 A. 低于1万亿元                      B. 在1~1.5万亿元之间  
 C. 在1.5~2万亿元之间                      D. 高于2万亿元
98. 2013年新能源与高效节能技术合同成交金额约占当年GDP的( )  
 A. 0.02%                      B. 0.06%                      C. 0.13%                      D. 0.20%
99. 2013年有( )个技术领域的技术合同成交金额高于2012年技术合同成交总金额的10%。  
 A. 6                      B. 4                      C. 3                      D. 2
100. 能够从上述资料中推出的是( )  
 A. 2005年~2013年, 技术合同成交金额同比增量最大的是2013年  
 B. 2004年~2013年, 技术合同成交金额占GDP比重最高和最低的年份相差4年

- C. 有 5 个技术领域 2013 年的技术合同成交金额不足当年电子信息技术合同成交金额的两成。
- D. 2013 年现代交通技术合同成交金额占当年技术合同成交总金额的比重不到 15%。

**温馨提示：**

**2018 年公考通网校重新起航**

**系统班+考前直播冲刺班+一对一申论批改班+面试通关课程  
更多好课等你挑选！**

**【参考答案与解析】**

1. **【解析】ABC**。十八届五中全会公报提出，要形成对外开放新体制，完善法治化、国际化、便利化的营商环境，健全服务贸易促进体系，全面实行准入前国民待遇如负面清单管理体制，有序扩大服务业对外开放。因此，本题 ABC 项正确。

2. **【解析】A**。国务院总理李克强 3 月 25 日主持召开国务院常务会议。会议强调，要顺应“互联网+”的发展趋势，以信息化与工业化深度融合为主线，重点发展新一代信息技术、高档数控机床和机器人、航空航天装备、海洋工程装备及高技术船舶、先进轨道交通装备、节能与新能源汽车、电力装备、新材料、生物医药及高性能医疗器械、农业机械装备 10 大领域。因此，本题选项 A 正确。

3. **【解析】C**。《中国共产党统一战线工作条例（试行）》第十二条，政党协商主要采取会议协商、约谈协商、书面协商等形式。因此，本题 C 项正确。

4. **【解析】ABD**。2014 年 12 月 23 日上午，国务院副总理马凯代表国务院向第十二届全国人大常委会第十二次会议做了关于统筹推进城乡社会保障体系建设工作情况的报告。报告中首次明确，机关事业单位养老保险制度改革方案，已经国务院常务会议和中央政治局常委会审议通过。改革的基本思路是一个统一、五个同步。“一个统一”，即党政机关、事业单位建立与企业相同的基本养老保险制度，实行单位和个人缴费，改革退休费计发办法，从制度和机制上化解“双轨制”矛盾。“五个同步”，即机关与事业单位同步改革，职业年金与基本养老保险制度同步建立，养老保险制度改革与完善工资制度同步推进，待遇调整机制与计发办法同步改革，改革在全国范围同步实施。因此，本题 ABD 正确。

5. **【解析】ABC**。亚洲基础设施投资银行（简称亚投行）是一个政府间性质的亚洲区域多边开发机构，重点支持基础设施建设，成立宗旨在促进亚洲区域的建设互联互通化和经济一体化的进程，并且加强中国及其他亚洲国家和地区的合作。总部设在北京。2015 年 3 月 12 日，英国正式申请作为意向创始成员国加入亚投行，成为首个申请加入亚投行的欧洲国家，也是首个申请加入亚投行的主要西方国家。因此，本题 ABC 项正确。

6. **【解析】AD**。《指导意见》根据国有资本的战略定位和发展目标，结合不同国有企业在经济社会发展中的作用、现状和发展需要，将国有企业分为商业类和公益类，并实行分类改革、分类发展、分类监管、分类定责、分类考核。因此，本题选项 AD 正确。

7. **【解析】A**。2015 年 2 月 26 日国家税务总局向社会公布了第一批税务行政处罚权力清单，共涉及 3 类 8 项处罚权力事项，这是由国家部委发布的首份执法权力清单。首批税务行政处罚权力清单主要涉及日常税收执法较多的账簿凭证管理、纳税申报和税务检查三个方面。税务总局要求，各级税务机关要严格按照权力清单行使权力，不得随意设定和行使税务行政处罚权力。税务总局将分批公布税务行政处罚权力清单，不断强化权力运行制约和监督体系。故本题答案为 A。

8. **【解析】D**。本题考查的是行政法的基本原则：行政合法性原则是指行政权的存在、行使必须依据法律、符合法律，不得与法律相抵触。A 项说法与题干无关。合理行政原则，即行政机关做出的行政行为内容要客观、适度、符合理性。B 项说法与题干无关。程序正当是当代行政法的主要原则之一。它主要包括：程序的控制要公开；公众参与原则；回避原则。C 项说法与题干无关。信赖保护原则，非因法定事由并经法定程序，行政机关不得撤销、变更已经生效的行政（许可）决定。行政许可所依据的法律、法规、规章修改或者废止，或者准



予行政许可所依据的客观情况发生重大变化的，为了公共利益的需要，行政机关可以依法变更或者撤回已经生效的行政许可。为此给公民、法人或者其他组织造成财产损失的，行政机关应当依法给予补偿。因此本题选择 D。

9. 【解析】B。指行政机关为达到维护与增进公共利益，实现行政管理目标之目的，与相对人之间经过协商一致达成的协议。行政合同以双方意思表示一致为前提。在行政合同之中，行政主体并非以民事法人的身份而是行政主体的身份与行政相对人订立关于民事权利义务的协议，以合同的方式来达到维护与增进公共利益的目的。在其间行政主体享有行政优益权。具体体现为对合同履行的监督权、指挥权、单方变更权和解除权。当然，行政主体只有在合同订立后出现了由于公共利益的需要或法律政策的重大调整，必须变更或解除时，才能行使单方变更、解除权。由此造成相对人合法权益损害的，要予以补偿。行政合同双方当事人在行政管理关系中的权利地位是不平等的。行政主体在行政合同的缔结过程中处于优先要约的地位。行政机关在行政合同的履行、变更或解除方面享有行政优益权，行政机关可以根据国家行政管理的需要，单方依法变更或解除合同，行政管理的相对人则不享有此种权利，是处于被动地位的行政管理相对人。因此，本题 ACD 说法正确。答案选择 B 项。

10. 【解析】A。按照宪法规定，各级国家行政机关实行首长负责制。国务院实行总理负责制，各部委实行部长、主任负责制，按照现行宪法和《地方组织法》规定，地方各级人民政府分别实行省长、自治区主席、市长、州长、县长、区长、乡长、镇长负责制。因此，本题 A 项正确。

11. 【解析】ABD。《行政复议法》第七条规定：“公民、法人或者其他组织认为行政机关的具体行政行为所依据的下列规定不合法，在对具体行政行为申请行政复议时，可以一并向行政复议机关提出对该规定的审查申请：（一）国务院部门的规定；（二）县级以上地方各级人民政府及其工作部门的规定；（三）乡、镇人民政府的规定。故本题选择 ABD 项。

12. 【解析】B。机关有依法定事由和法定程序辞退公务员的权利。但为了保护公务员的合法利益，公务员法也规定了机关不得辞退公务员的几种情形，这些情形是：（1）因公致残，被确认丧失或者部分丧失工作能力的；（2）患病或者负伤，在规定的医疗期内的；（3）女性公务员在孕期、产假、哺乳期内的；（4）法律、行政法规规定的其他不得辞退的情形。因此本题正确答案为 B。

13. 【解析】ABC。2014 年 11 月 6 日，国新办举行深入推进依法行政、加快建设法治政府有关情况新闻发布会。发布会确定了重大行政决策的五个法定程序：第一，老百姓参与。第二，请专家论证。第三，风险评估。第四，进行合法性审查。第五，集体讨论决定，而不是行政领导一个人拍脑袋。因此 AB 选项正确。政府规章是省、自治区、直辖市和较大的市的人民政府根据法律、行政法规和本省、自治区、直辖市的地方性法规拟订，并经各该级政府常务会议或者全体会议讨论决定的法律规范形式。《上海市起立取缔涉渔“三无”船舶专项行动工作方案》由直辖市上海市人民政府制定，并经本级政府常务会议决定。因此属于政府规章。所以 C 正确。当事人对抽象行政行为不服的，不得直接向法院提起诉讼。但是，对行政机关的规范性文件不服，可以在就相关行政行为提起行政诉讼的同时，一并请求法院予以审查，故 D 错误。综上，本题的正确答案为 ABC。

14. 【解析】ABCD。行政制度自从产生以来，就起着规范行政权力运作的作用。第一，行政制度确认行政权力是相对权力的国家权力，主要由行政机关享有和行使，行政机关行使职权的活动不得受到非法干预和阻挠。第二，行政制度保障行政权力对行政相对人的有效行使。第三，行政制度规定行政活动的程序，从而使行政活动有章可循，增强行政后果的可预见性。第四，行政制度规定对行政权力主体进行监督的范围和方式。总之，行政制度的重要功能在于保证行政权力合法、适当、有效地运行。故本题答案选 ABCD。

15. 【解析】BD。新《预算法》第九十二条，各级政府及有关部门有下列行为之一的，责令改正，对负有直接责任的主管人员和其他直接责任人员追究行政责任：

（一）未依照本法规定，编制、报送预算草案、预算调整方案、决算草案和部门预算、决算以及批复预算、

决算的；

- (二) 违反本法规定，进行预算调整的；
- (三) 未依照本法规定对有关预算事项进行公开和说明的；（因此 D 正确）
- (四) 违反规定设立政府性基金项目和其他财政收入项目的；
- (五) 违反法律、法规规定使用预算预备费、预算周转金、预算稳定调节基金、超收收入的；
- (六) 违反本法规定开设财政专户的。

第九十六条本法第九十二条、第九十三条、第九十四条、第九十五条所列违法行为，其他法律对其处理、处罚另有规定的，依照其规定。

违反本法规定，构成犯罪的，依法追究刑事责任。（因此 B 正确）

所以，本题答案为 BD。

16. 【解析】D。分析其原因，主要有以下四个方面：

一是由于社会的发展和经济活动显著增多，如城市地下水过度使用导致地面下沉，地下设施增多，防洪难度加大、新城区扩建，地势低洼，泄洪能力差等造成出现灾害所受损失的机会大大增加；

二是由于城市化进程的加快，改变了城市的局地气候条件，城市产生的“热岛效应”，使城市上空空气对流发展很旺盛，容易引起发生强对流天气，造成城市地区频繁出现暴雨或降水量增大；

三是由于城市建筑所用的水泥材料及柏油路面等渗水能力低，蒸发很少。一些城市虽建有排水设施，但排水能力有限，遇有大暴雨天气，雨水多而集中，下水道往来不及排水，这也是造成城市大面积水害的重要原因之一；AB 正确。

四是随着经济社会的发展，城市面积越来越大，旧城市周边的排水和蓄洪的湖泊、洼地、池塘和河沟不断被填平。还有城市的开发，不断的侵占河道滩地，造成人为障碍，加上严重的城市水土流失导致河道淤积，泄洪能力大大降低。C 正确。

台风是我国东部沿海城市暴雨洪涝灾害的主要原因，而不是所有城市暴雨洪涝灾害的主要原因，因此 D 错误。

综上，本题答案为 D。

17. 【解析】A。上海市：1、四行仓库抗战纪念馆 位于上海市闸北区光复路 1 号；2、国歌展示馆位于上海市杨浦区荆州路 151 号；3、金山卫城南门侵华日军登陆处位于上海市金山区金山卫镇南安路 87 号，故本题选择 A 项。

18. 【解析】D。科学上有两种时间计量系统：基于地球自转的天文测量而得出的“世界时”和以原子振荡周期确定的“原子时”。“世界时”由于地球自转的不稳定（由地球物质分布不均匀和其它星球的摄动力等引起的）会带来时间的差异，“原子时”（一种较恒定的时制，由原子钟得出）则是相对恒定不变的。这两种时间尺度速率上的差异，一般来说一至二年会差大约 1 秒时间。因此，本题 D 项正确。

19. 【解析】D。智能卡（Smart Card）：内嵌有微芯片的塑料卡（通常是一张信用卡的大小）的通称。一些智能卡包含一个 RFID 芯片，所以它们不需要与读写器的任何物理接触就能够识别持卡人。IC 卡与磁卡是有区别的，IC 卡是通过卡里的集成电路存储信息，而磁卡是通过卡内的磁力记录信息。IC 卡的成本一般比磁卡高，但保密性更好，且存储容量大，按连接方式分为接触式和非接触式，故 D 项说法错误。

20. 【解析】ABC。当车轮行至两根钢轨接缝时，车轮踏面的一部分压在第一根钢轨上的同时，车轮踏面的另一部分同时压在第二根钢轨上了，使两根钢轨同时受力，使车轮平滑通过两钢轨接缝处，不产生振动。减少了噪音污染，增加旅客的平稳、舒适感。因此，选项 A、C 正确。与普通铁轨相比，无缝铁轨由于消除了大量钢轨接头，因而消除了接头冲击力，减少了线路损害，磨损大大减少，线路维修可节约费用 30%—75%。因此，选项 B 正确。无缝钢轨焊接中的应力放散工序能防止无缝钢轨热胀冷缩，即把钢轨内部的应力均匀分布到

钢轨上，防止在温度过低时断轨，温度过高时胀轨。因此，选项 D 不正确。

21. 【解析】C。中东呼吸综合征（MERS）是由一种新型冠状病毒（MERS-CoV）而引起的病毒性呼吸道疾病，该病毒于 2012 年在沙特阿拉伯首次被发现。冠状病毒是一组能够导致人类和动物发病的病毒，常能够引起人类发生从普通感冒到严重急性呼吸综合征（SARS）的多种疾病。全部的感染来源尚不完全清楚。但在埃及、卡塔尔和沙特的骆驼中分离到和人类病毒株相匹配的病毒株。很多研究已经在非洲和中东的骆驼中发现病毒抗体。人和骆驼的病毒基因序列数据表明两者之间存在密切联系。可能还存在其他宿主。然而，山羊、牛、绵羊、水牛、猪和野生鸟类等动物体内到目前为止仍未检测到 MERS-CoV 抗体。这些研究结合起来，支持了骆驼是人类感染的可能来源的假设。故本题选择 C 项。

22. 【解析】BCD。新媒体有其形式丰富、互动性强、渠道广泛、覆盖率高、精准到达、性价比高、推广方便等特点，所以 B 项正确。新闻具有客观性，但是网络传播具有不可控性，导致很难监管，所以 C 项正确。因为网民身份的隐秘性，所以新媒体还有隐蔽性和主观性的特点，故本题选择 BCD 项。

23. 【解析】ABC。政府工作人员作为公众人物要接受社会各主体的监督。反腐倡廉类事件众多且处于舆论关注高位，“政府认同度”占据各月榜首。说明我国的反腐工作得到了大家的认可，另外也体现了百姓对此事有较强烈的关注度，故 AB 项正确。而网络舆情加强了对反腐工作的监督，所以也能推进反腐倡廉的工作，故 C 项正确。公众人物亦称公共人物，是指一定范围内具有重要影响，为人们所广泛知晓和关注，并与社会公众利益密切相关的人物。其以社会知名度和社会公共利益相关性为构成要件，二者缺一不可，共同体现了公众人物的特性。“公务员都是公众人物”这一说法不准确，D 项错误。故本题答案选 ABC。

24. 【解析】ABCD。突发危机类事件的“政府认同度”处于低位，说明政府在与媒体沟通时提升沟通技巧和加强管理。除了主动联系媒体发布与民有关的舆情外，还应扩大这样的信息渠道，加强舆情监督，及时处理相关事项，而舆情管制措施有利于政府信息管理，故本题选择 ABCD 项。

25. 【解析】ABCD。公共治理是由开放的公共管理与广泛的公众参与二者整合而成的公域之治模式，具有治理主体多元化、治理依据多样化、治理方式多样化等典型特征。政府在推进公共治理中需要提升与媒体的沟通能力，及时的收集民意，积极的主动的服务，故本题选择 ABCD 项。

26. 【解析】ACD。《行政强制法》第三十五条规定，行政机关作出强制执行决定前，应当事先催告当事人履行义务。催告是一种行政法上要式行为，必须以书面形式作出。催告的内容应当包括五个方面：一是指出催告所依据的行政决定；二是说明行政机关启动强制执行程序的理由；三是重申行政相对人应当履行的义务，并规定履行义务的期限和方式；四是提出行政相对人逾期不履行义务的后果；五是告知行政相对人依法享有陈述权、申辩权。催告有法定送达规定，要求催告书、行政强制执行决定应当直接送达当事人。因此 AC 错误。当事人拒不接收或者无法直接送达当事人的，应当依照《中华人民共和国民事诉讼法》有关规定送达。所以 D 错误。因此本题的正确答案为 ACD。

27. 【解析】ACD。侵犯公民、法人和其他组织财产权的违法行为及其赔偿方式。这类行为有四种：（1）违法实施罚款、吊销许可证和执照、责令停产停业、没收财物等行政处罚的；（2）违法对财产采取查封、扣押、冻结等行政强制措施的；（3）违反国家规定征收财物、摊派费用的；（4）造成财产损害的其他违法行为。其赔偿方式有以下几种：1、处罚款、罚金、追缴、没收财产或者违反国家规定征收财物，摊派费用的，返还财产；2、查封、扣押、冻结财产的，解除对财产的查封、扣押、冻结，造成财产损坏或者灭失的，能恢复原状的恢复原状，不能恢复原状的，按照损害程度给付相应的赔偿金；3、应当返还的财产损坏的，能够恢复原状的恢复原状，不能恢复的，按照损害程度给付相应的赔偿金；4、应当返还的财产丢失的，给付相应的赔偿金；5、财产已经拍卖的，给付拍卖所得的价款；6、吊销许可证和执照、责令停产停业的，赔偿停产停业期间必要的经常性费用开支；7、对财产权造成其他损害的，按照直接损失给予赔偿。因此，A 为违章建筑，C 经营性损失都不可以获得赔偿。行政赔偿一定是行政机关的违法行为所造成的，并且是对相对人的合法权益造成损害，

才可以获得。因此 B 是需要获得赔偿的。侵犯人身权并造成精神损害的，应消除影响、恢复名誉、赔礼道歉；后果严重的同时支付精神损害抚慰金。因此 D 选项，乙公司员工仅仅是受到惊吓而并没有被侵犯人身权，所以不会获得赔偿。所以答案为 ACD。

28. 【解析】ABC。《行政强制法》第三十七条：经催告，当事人逾期仍不履行行政决定，且无正当理由的，行政机关可以作出强制执行决定。

强制执行决定应当以书面形式作出，并载明下列事项：

- (一) 当事人的姓名或者名称、地址；
- (二) 强制执行的理由和依据；
- (三) 强制执行的方式和时间；
- (四) 申请行政复议或者提起行政诉讼的途径和期限；
- (五) 行政机关的名称、印章和日期。

在催告期间，对有证据证明有转移或者隐匿财物迹象的，行政机关可以作出立即强制执行决定。

所以，本题答案为 ABC。

29. 【解析】ABCD。《最高人民法院关于行政诉讼证据若干问题的规定》第 63 条规定，证明同一事实的数个证据，其证明效力一般可以按照下列情形分别认定：（一）国家机关以及其他职能部门依职权制作的公文文书优于其他书证；（二）鉴定结论、现场笔录、勘验笔录、档案材料以及经过公证或者登记的书证优于其他书证、视听资料和证人证言；（三）原件、原物优于复制件、复制品；（四）法定鉴定部门的鉴定结论优于其他鉴定部门的鉴定结论；（五）法庭主持勘验所制作的勘验笔录优于其他部门主持勘验所制作的勘验笔录；（六）原始证据优于传来证据；（七）其他证人证言优于与当事人有亲属关系或者其他密切关系的证人提供的对该当事人有利的证言；（八）出庭作证的证人证言优于未出庭作证的证人证言；（九）数个种类不同、内容一致的证据优于一个孤立的证据。因此，本题选择 ABCD。

30. 【解析】B。“关于”前可以添加发文机关全称或规范化简称，而不是必须的，所以 A 选项错误。根据语法知识，发现题干中缺少谓语，所以需要添加“开展”两字。所以 B 正确。通知适用于发布、传达要求下级机关执行和有关单位周知或者执行的事项，批转、转发公文。通告适用于在一定范围内公布应当遵守或者周知的事项。材料中公文是关于“爱眼日”活动相关事项的传达，应该使用通知，C 项错误。材料中所提及活动为第十二个全国“爱眼日”活动，事由中“全国”二字不用删去，D 项错误。故本题答案选 B。

31. 【解析】ABC。转发了《关于开展 2015 年全国“爱眼日”活动的通知》这篇公文是由国家卫生计生委办公厅、中国残联会办公厅联合制定的，所以应为印发，A 正确。B 选项是地方对中央公文的一种发放，所以应为转发，B 正确。正文内容要就精准，以免产生歧义，所以 C 选项中的“本市”应改成“XX 市”，因此 C 正确。故本题的正确答案为 ABC。

32. 【解析】BD。根据主送机关的顺序：各区县卫生计生委，市眼病防治中心，市医学会。我们可以得知需要先要求各区县卫生计生委，其次是市眼病防治中心，最后是市医学会。因此 B 正确。本篇公文中没有引文《关于开展 2015 年全国“爱眼日”活动的通知》，所以需要添加附件说明。因此 D 正确。所以本题选择 BD。

33. 【解析】A。成文日期用阿拉伯数字，所以 B 错误。不加盖印章的公文，单一机关行文时，在正文（或附件说明）下空一行右空二字编排发文机关署名，在发文机关署名下一行编排成文日期，首字比发文机关署名首字右移二字，所以 CD 选项错误。根据主送机关和正文内容可以看出这篇公文的发文机关应是 XX 市卫生和计划生育委员会，所以 A 正确。综上，本题答案为 A。

34. 【解析】C。第二个空前后内容存在意义转折，空前谈到大部分创业者创业创新成果“微不足道”，空后谈到这些成果能够发挥“强大的长尾效应”。因此，第二空可填写“当然”、“然而”，排除 A 和 D。第三个空后内容显然和前文不是因果关系，而是意义上的递进。所以排除 B，答案选 C。

35. 【解析】B。第一空“跻身于……之列”是惯用搭配，排除 A 和 C。“固然”表示承认某个事实，引起下文转折，第二空后正是先承认“盛誉”，再谈“无奈”。可排除 C。因此，答案选 B。再以第三空验证，“反衬”指从反面衬托主要现象，符合题意。而“反映”是指把客观事物的实质表现出来，或把客观情况或别人的意见等告诉上级或有关部门。

36. 【解析】C。第一空，“明艳”和“娇艳”重复，排除 A。第二空后意思存在强转折“但”，因此应填写表让步的词语，排除“推己及人”，即 B。第三个空“谋取”往往搭配“利益”，排除 D。答案选 C。

37. 【解析】B。栩栩如生形容艺术形象生动逼真，不符合题意，排除 D。第二个空处“令人……”，所填词语主体必然是人，因此排除“枯燥无味”、“聾牙佶屈”，即 A 和 C。“聾牙佶屈”是指文章不通顺。答案选 B。第三空选平易近人，和望而生畏相对，符合题意。娓娓道来运用也合适。

38. 【解析】D。“需”主要是指需要，侧重物质层面。而“须”主要是指必须，比“需”层次更高，多指精神层面。因此，第三空优选 A 和 D。再看第二个空，“培养”指的是长期按照一定的目标加以策划和训练，显然不符合提议，排除 A。因此，答案选 D。

39. 【解析】D。A 项关联词搭配错误，“并不是”后面应该跟“而是”而非“但是”；B 项关联词搭配错误，“不仅”后面跟的应该是“而且”而非“同样”；C 项状语多余，“悄悄地”和“偷袭”重复，删除“悄悄地”

40. 【解析】C。停顿歧义，“发展经济学的理论渊源”，“发展”与“经济学”是作为整体学科还是分开的动宾结构。

41. 【解析】D。这三段文字，第一段文字带有明确的感情倾向不够客观实际，而用于宣传海报文字过多，最合适的则为报刊评论；第二段文字用数据以及年份做客观说明故来源最可能是政府报告；第三段文字从形式看多用于宣传标语。

42. 【解析】C。语句排序题。③⑥句为反面论证，不适合做首句予以排除，根据话题的发展顺序⑤句相对于⑦句更适合做首句，锁定答案 C，验证符合事理逻辑故答案选择 C。

43. 【解析】D。第一个破折号后最大与之前大相比程度更深，为递进关系，因此选 D 项

44. 【解析】A。语句填空题，考察前后话题的衔接性，阅读文段不难发现，横线部分起到承前启后的作用，而后面部分是对前面部分的举例论证，符合这点的是答案 A。

45. 【解析】B。本题为主旨概括题。主旨句为文段的最后一句，既总结了孔子关于修身的三点要求，也明确了在当下的领导干部也需认真学习体会的重要性，因此与其意思最为接近的表述应该是 B 项

46. 【解析】B。B 项正确，C 项错在传统技能，文中只是说技能，没说传统技能。

47. 【解析】A。第一空，与“思想的贫乏”相对，“深刻的道理”填入最恰当；第二空，与“真传一句话”相对，“简明的语言”填入最恰当；第三空填入“简单生动……”，契合句意。因此本题选 A。

48. 【解析】B。“机会主义物种”出现在文章第 2 段。首先排除 A，文中并未表达出“不择手段”的意思。C 和 D 的主体均是城市环境，与题干中所提到的“机会主义物种含义理解”不符合。而 B 项是对文章关于“机会主义物种”描述的总结。

49. 【解析】B。细节题，文中第一段提到“混凝土”建筑是描述道“环境干燥，人来人往，污染严重。”显然与 B 项中描述的“更理想的居所”相反。

50. 【解析】D。细节题，文章 10 段第论述到了居住方式，第 13 段论述到了饮食方式，第 12 段论述到了繁殖方式。尽管谈论到了迁移行为，但是并没有迁移路径的论述。

51. 【解析】A。A 项精确概括了文章大意。D 项表意与原文不符，将城市和动植物的位置说反了。C 项带有过于强烈消极感情色彩。而 B 项表意过于积极，并非是城市让动植物生活美好，而是动植物被迫改变生活习性。

52. 【解析】D。细节题，文段第三段和第四段部分分别可以找到 ABC 三个点，而 D 项在文段第六段有找

到，说的是玉，与提问不符，故选择 D。

53. 【解析】D。

54. 【解析】A。A 项全面概括原文，BC 项均为文段片面内容不能作为文段主旨，D 项主体与文段不一致，予以排除。

55. 【解析】A。设艺术品 A 的原始售价为 a， $a \times (1 + x\%) - a = y$ ，得到  $ax\% = y$ ， $\frac{a \times (1 + x\%)}{2} \times (1 + x\%) - \frac{a \times (1 + x\%)}{2} = Z$ ，根据 z 大于 y，得到 x 大于 100。

56. 【解析】C。 $\frac{(1+x)}{2}x \leq 48$ ，代入排除法， $x=9$ ，因此第 9 站上了 9 个人。所以，第 10 站司机将不再停车。故选 C。

57. 【解析】B。根据顺流、逆流的公式，可得  $\frac{40}{V_{船} + V_{水}} + \frac{24}{V_{船} - V_{水}} = 8$ ， $\frac{60}{V_{船} + V_{水}} + \frac{20}{V_{船} - V_{水}} = 8$ ，

解出  $V_{船}=12$ ， $V_{水}=8$ ，故选 B。

58. 【解析】D。前两个钟，每小时差  $6-2=4$  分钟，只要差 60 分钟，就可以重合，因此需要  $60 \div 4=15$ （小时），总结：前两个钟每过 15 小时分针指在相同的位置。

同理，后两个钟，每小时差  $12-6=6$  分钟，只要差 60 分钟，就可以重合，因此需要  $60 \div 6=10$ （小时），总结后两个钟每过 10 小时分针指在相同的位置。15 和 10 的最小公倍数为 30，因此，3 个钟需要 30 小时分针又会指在相同的分钟位置。

59. 【解析】B。长方形边长为  $AB=4$ ， $AC=3$ ，向右转动时，底边的边长依次是 3，4，3，4，3，4……，每移动两次可以移动 7 厘米，故 6 个轮次之后可以移动 42 厘米，也就是 12 次之后，加上之前的 4 厘米刚好到 46 厘米处。

60. 【解析】B。要使得到的最少，那么其他人要尽可能的多，所以根据最多到最少依次可以构造出 X、 $X-1$ 、 $X-2$ 、 $X-3$ 、 $X-4$ ，加和等于 21，解得  $X=6.2$ ，所以答案是 7 本。

61. 【解析】B。因为是同一时间完成工作，所以设甲从开始到结束工作 X 分钟，那么乙工作了  $X-15$  分钟，丙工作了  $X-45$  分钟，依题意得， $30X+40(X-15)+60(X-45)=6060$ ，解得  $X=72$ ，那么乙用 57 分钟。

62. 【解析】A。设阴影部分长方形的长为 x，宽为 y，面积即为 xy。四周四个正方形的周长= $2 \times 4x + 2 \times 4y = 320$ ，化简后得： $x+y=40$ ；四周四个正方形的面积= $2x^2 + 2y^2 = 1700$ ，化简后得： $x^2 + y^2 = 850$ 。 $x^2 + y^2 = (x+y)^2 - 2xy = 1600 - 2xy = 850$ ，解得  $xy=375$ 。

故正确答案为 A。

63. 【解析】C。设围巾为 A 条，手套为 B 双，根据题目要求得到：

$60A+70B \leq 500$ ， $A=3$ ： $B=2, 3, 4$ ，都可以。  $A=4$ ： $B=2, 3, 4$ 。  $A=5$ ， $B=2$ 。

共 7 种情况。

64. 【解析】A。《有线充电技术》与《无线充电技术》各有各的优缺点。

《有线充电技术》的优点：1.能源转换一次性获得，电能损失小，节能环保。2.交直流转换一次性，不存在中高频电磁辐射。3.设备技术含量低，经济投入不大，维修方便。4.电功率的调节范围较宽，适合多种不同电压和电流等级的蓄电池储能补给。

《有线充电》的缺点：1.设备的移动搬运和电源的引线过长，主要是人工操作繁琐。2.设备以及在对电动汽车充电时其公共占地面积过大。3.在人工操作过程中，极易出现设备的过度磨损以及不安全性等因素。

《无线充电技术》的优点：1.利用无线磁感应充电的设备可做到隐形，设备磨损率低，应用范围广，公共充电区域面积相对的减小，但减小的占地面积份额不会太大。2.技术含量高，操作方便，可实施相对来说的

远距离无线电能的转换，但大功率无线充电的传输距离只限制在 5 米以内，不会太远。3.操作方便。

《无线充电技术》的缺点：1.虽然设备技术含量高，但设备的经济成本投入较高，维修费用大。2.因实现远距离大功率无线磁电转换，所以设备的耗能较高。无线传输的距离越远，无用功的耗损也就会越大。3.《无线充电技术》设备本身实现的是二次能源转换，也就是将网电降压（或直接）变为直流电后在进行一次较高频率的开关控制交流变换输出。由于大功率的交直流电流转换是进行电能的二次性无线传输原因，所以电磁的空间磁损率太大。

65. 【解析】D。C 点速度最大那么 C 点动能最大，A、B 错误；A 到 D 整个过程是动能从 0 到 0，重力势能越来越小，弹簧弹性势越来越大，两者相互转化，机械能守恒，两者相等，C 错；D 项，从 A 到 C 的位置，小球重力势能的减少等于小球动能的增加和弹簧弹性势能的增加之和，所以重力势能的减少大于任意一个的增加，D 对。

66. 【解析】C。能量守恒定律：能量既不会凭空产生，也不会凭空消失，它只能从一种形式转化为其他形式，或者从一个物体转移到另一个物体，在转化或转移的过程中，能量的总量不变。

A、B，这种机器违背了能量守恒定律，故是不可能制造成功的，故 A 错误，B 错误；

C、D，这种机器不能永恒运动，如果小球能从静止加速上升到 C 的话，它就不可能从 C 加速下滑到 B，并再次从 B 回到 C，故 C 正确，D 错误；故选 C。

点评：本题中设想的机器违背能量守恒定律，是不可能实现的，具体原因是如果小球能从静止加速上升到 C 的话，它就不可能从 C 加速下滑到 B。

67. 【解析】D。ABC 正确，D 错误，声音传播需要介质，声音不能在真空中传播，所以抽成真空后隔音效果加强，而不是削弱，错误的选 D。

68. 【解析】B。考查光学原理透镜的应用。近视眼成像原理：看不清物体，成像在视网膜前面。近视眼需要配带凹透镜矫正；远视眼需要配带凸透镜矫正。综上，选 B。

69. 【解析】D。考查光的折射。由于路面上暖空气与高空中冷空气之间的密度不同，所以光线在路面上会发生折射现象；远处物体的光射向路面上的空气时，发生折射后，进入人的眼睛，人眼逆着折射光线看去，看到的是物体形成的虚像。所以看到“公路远处似乎有水，水中还有汽车、电杆等物体的倒影，但当车行驶至该处时，水却消失了”。故选 D。

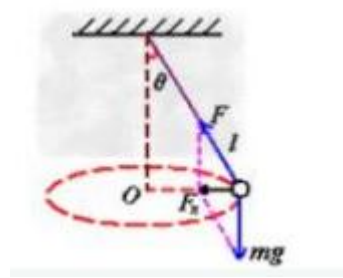
70. 【解析】B。物体内的有机物在细胞内经过一系列的氧化分解，最终生成二氧化碳、水或其他产物，并且释放出能量的总过程，叫做呼吸作用。呼吸作用，是生物体在细胞内将有机物氧化分解并产生能量的化学过程，是所有的动物和植物都具有一项生命活动。所以发现里面温度比较高。

71. 【解析】D。考查摩擦力。原题为三个定滑轮和一个动滑轮组成的滑轮组，同一滑轮两侧绳的拉力相等，则三根绳的拉力都是 60N，将人与船看做一个整体，则所受拉力为  $60N \times 3 = 180N$ ，船匀速运动，则所受阻力也为 180N。故答案选 D。

72. 【解析】A。考查磁场方向。地理南极相当于条形磁铁的 N 极，地理北极相当于条形磁场的 S 极，且磁场方向由 N 极指向 S 极。所以上海上空的磁场方向是



73. 【解析】A。考查圆周运动。根据受力分析，圆锥摆模型的受力特点——只受两个力：竖直向下的重力 ( $mg$ ) 和沿摆线方向的拉力 ( $F$ )，二力的合力就是摆球做圆周运动的向心力 ( $F_{向}$ )，如图所示



竖直方向上合力为 0， $F\cos\theta=mg$ ，推出  $F=mg/\cos\theta$ ，所以甲受到绳子的拉力大于乙受到绳子的拉力，D 正确。

C：向心力为 F 在水平方向的分力， $F_n=F\sin\theta=mg\tan\theta$ ，甲的角度  $\theta$  比乙的大，而  $\tan\theta$  在 0-90 度为增函数，因此向心力甲的大，而根据牛顿第二定律， $F_n=mg\tan\theta=ma$ ，质量相同，因此甲的加速度比乙大。C 正确。

B：  $F_n=mV^2/R$ ， 推出  $V^2=F_nR/m$ ， 所以甲的线速度也大。

A：  $WR=V$ ，（W 为角速度），  $W=V/R$ ， 根据之前推导的公式，得到甲乙的角速度相等。所以选 A。

74. 【解析】B。位置类旋转。每个图形里的小圆分别顺时针旋转 90 度得到下一个图形，所以正确答案为 B

75. 【解析】D。样式类求异。每组都是第一个图形和第二个图形去同存异得到第三个图形。所以正确答案为 D

76. 【解析】C。样式类叠加。每组都是第一个图形和第二个图形叠加得到第三个图形，且不显示重叠部分线条。所以正确答案为 C

77. 【解析】A。解法一：位置类平移。整体顺时针去看，每个九宫格中间黑块不动，上方黑块每次顺时针移动一格，下方黑块每次逆时针移动一格。

解法二：整体看，呈中心对称。所以正确答案为 A。

78. 【解析】D。样式类遍历。第一组图形里的元素在第二组中都会出现一次，所以正确答案为 D

79. 【解析】A。位置类翻转。九宫格每行第一个图形向右翻转得到第二个图形，再由第二个图形向上翻转得到第三个图形。所以正确答案为 A。

80. 【解析】C。空间重构类。平面图形中两个长方形白面没有相邻，排除 A；两个长方形白面中间夹的是黑色面，排除 B。D 长方形白面的左右面和题干图形不符，排除 D。所以正确答案为 C。

81. 【解析】A。第一组图形中间竖线每次旋转 90 度，左侧图形每次向右平移一个位置，右侧图形每次向左平移一个位置。第二组也遵循这一规律，所以正确答案为 A

82. 【解析】D。样式规则运算。右下往上，每行相近的两个图形满足相同的规则运算得到上方图形，规则如下：左+左=右；右+右=左，其余相加都等于白。所以正确答案为 D

83. 【解析】D。论证类。加强型。题干论点是“在 A 车间工作的员工”有部分是“不住在 A 宿舍区的”，论据是“住在 A 宿舍区的员工”都不是“纺织工”，很明显论据和结论之间缺乏“纺织工”和“在 A 车间工作的员工”的关系，可以看做搭桥。D 为真的话，“在 A 车间工作的员工”有部分是“纺织工”，“纺织工”都不是“住在 A 宿舍区的员工”，可以推出“在 A 车间工作的员工”有部分是“不住在 A 宿舍区的”。

84. 【解析】C。日常推理。I 乘客无故使用紧急制动，符合后半句，属于警告的范围内。II 特殊情况下，乘客需要使运行的列车停下，符合前半句，属于警告范围内。所以选 C

85. 【解析】A。论证。削弱型。论点是“培养审美情趣”，论据是“开设中西方艺术史课程”。A 选项属于拆桥，切断了论据和论点的联系。B 是审美情趣和设计优秀作品的关系，是无关选项。C 是努力程度与作品的精美程度的关系，是无关选项。D 是学习课程和成为杰出设计师的关系，也是无关选项。

86. 【解析】D。论证。加强型。制造商的论点是“事故是由于列车员违反操作规程而导致的”。A 选项是



说“何种缺陷”，与论证无关。B选项举反例，可以削弱论点。C选项补充论据，可以加强。D选项属于搭桥，说明事故只能是由于列车员操作问题，加强力度最强。

87. 【解析】B。论证。加强型。论点是“近十年我国研究生人数不断增加”，论据是“我国每年授予博士学位数量持续增加”。A选项说的是难度，无关。B选项说明博士在硕士中的比例不变，那么博士数量增加，自然可以得到硕士数量增加，属于搭桥，所以选B。C选项说的是今年申请博士的人数是10年前的2倍，不能说明硕士的人数增减情况，无关。D选项只说了今年的不是占比，没有说明是增加还是减少，无关。

88. 【解析】B。论证。论点是“大部分的塑料可能被海洋生物吃掉，进入海洋食物链”。A选项其他垃圾与论点无关。B选项，塑料是否会以其他形式消失，如果会，那么没有进入海洋食物链，削弱论点，如果不会，那么加强论点，所以选B。C选项，是否“消失”与论点无关。D选项，塑料集中的海域，与论点无关。

89. 【解析】A。论点为：有专家认为该国实施的鼓励生育政策达到了预期的效果。A项，通过反向举例子来加强论点。因此，本题答案为A选项。

90. 【解析】C。7个栏目在继续更新，5个是喜剧类，还剩2个，而长篇科幻类有3个，所以至少有1个已经下线。C选项正确。

91. 【解析】B。翻译推理。进入特藏书库→出示院系证明，院系开证明→参加教授课题组，小王上星期退出课题组，可以推出小王现在没有院系证明，推出小王不能进入特藏书库。

92. 【解析】A。翻译推理。（1）蒋某感染且张某感染→李某没感染（2）李某感染且王某陈述正确。（3）张某没感染→王某陈述不正确。由（2）可知李某感染，由（1）可以推出蒋某没感染或者张某没感染，由（2）可知王某陈述正确，由（3）可以推出张某感染了，可以推出蒋某没感染。

93. 【解析】B。排列组合。甲是德人，会说法语，那么甲应该和法国人丁或会说法语的人丙、会说德语的人戊相邻，所以排除C、D。乙是中国人，会说英语，那么乙应该和英国人丙和中国人戊相邻，排除A，所以选B。

94. 【解析】C。排列组合。总共引进30种。题干①金融类12种，②非金融英文类10种，③美国引进非金融类7种，④美国以外非英文类9种。①+②+③+④=38，说明这里必有8种重合。任意两类的重合情况都不可能超过8种，结合选项C符合。

95. 【解析】C。100个工作日里先去掉周四、周五2天，剩下98天。工作日的周期为5， $98 \div 5 = 19$ 余3，因此，完成任务那天是周三。

96. 【解析】D。“部分增长率大于整体增长率，比重上升”，所以全国技术合同成交金额增速超过GDP增速只需要找出全国技术合同成交金额占GDP的比重是上升的，在图1中符合题目条件的年份有2006年，2007年，2010年，2011年，2012年，2013年，共6个年份。

97. 【解析】B。估算。 $18+22+27+30+39=136$ ，所以答案选B项

98. 【解析】C。
$$\frac{736.5}{7469} = 736.5 \times \frac{1.31\%}{7469} = \frac{1.31\%}{10} = 0.131\%。$$

99. 【解析】A。2012年技术合同成交总金额的10%是643.7，在图2中超过643.7的有电子信息技术、现代交通、先进制造技术、新能源与高效节能、城市建设与社会发展、环境保护与资源综合利用技术，共6个。

100. 【解析】D。A项，图1技术合同成交金额同比增量最大的是在2012年。

B项，图1中技术合同成交金额占GDP比重最高的年份是2013年，最低是在2005年，之间差8年。

C项，2013年电子信息技术和同成交金额的两成= $1946.5 \times 20\% = 390$ ，不到390的一共有4个。

D项， $\frac{951.3}{7469} = 12.7\%$ ，符合题意，正确。

## 2 2016 年上海行测真题卷（B 卷）

### 第一部分 常识判断

1~50 题为不定项选择题。

1. 党的十八届五中全会提出，坚持协调发展，必须牢牢把握中国特色社会主义事业总体布局，正确处理发展中的重大关系，重点促进城乡区域协调发展，促进经济社会协调发展，促进（ ）同步发展，在增强国家硬实力的同时注重提升国家软实力，不断增强发展整体性。

- A. 新型工业化
- B. 信息化
- C. 城镇化
- D. 农业现代化

2. 政府在减政放权的同时，要以刚性的制度来管权限权，厉行法治，依法行政。建设法治政府。要坚持职权法定原则，加快建立（ ）

- A. 负面清单
- B. 利益清单
- C. 权力清单
- D. 责任清单

3. 经中共中央批准，《中国共产党统一战线工作条例（试行）》正式颁布，自 2015 年 5 月 18 日起施行。基本规定，政党协商是中国共产党同民主党派的政治协商，主要采取（ ）等形式。

- A. 会议协商、约谈协商、辩论协商
- B. 专题协商、约谈协商、书面协商
- C. 会议协商、约谈协商、书面协商
- D. 约谈协商、书面协商、辩论协商

4. 2015 年 2 月 27 日，习近平深改组第十次会议上强调，要在法治下推进改革，在改革中完善法治，突出重点，对准焦距，找准穴位，击中要害，推出一批能叫得响、立得住、群众认可的硬招实招，处理好改革（ ）的关系，突破“中梗阻”，防止不作为，把改革方案的含金量充分展示出来，让人民群众有更多获得感。

- A. “顶层设计”和“摸着石头过河”
- B. “速度”和“质量”
- C. “最先一公里”和“最后一公里”
- D. “发展”和“稳定”

5. 2015 年 1 月 14 日，国务院发布《关于机关事业单位工作人员养老保险制度改革的决定》。关于此次改革的基本思路，表述正确的是（ ）

- A. 党政机关、事业单位建立与企业相同的基本养老保险制度
- B. 从制度和机制上化解“双轨制”矛盾
- C. 先机关、后事业单位，逐步推进
- D. 职业年金与基本养老保险制度同步建立

6. “大众创业、万众创新”是指通过解放思想、深化改革、打破体制机制障碍，让每个有创业愿望的人都拥有自主创业的空间，让创新创造的血液在全社会自由流动，让自主发展的精神在全体人民中蔚然成风，体现了打造“双引擎”的思路。这里所说的“双引擎”是指（ ）

- A. 充分发挥市场在资源配置的决定性作用
- B. 更好发挥政府作用，增加公共产品、公共服务供给
- C. 开创我国全方位对外开放新格局
- D. 加强国有产权交易流转监管

7. 2015 年 6 月 29 日，《亚洲基础设施投资银行协定》签署仪式在北京举行，亚洲基础设施投资银行（简称亚投行）的建立将有利于推动完善全球金融治理。下列关于亚投行的说法，正确的是（ ）

- A. 英国是加入亚投行的第一个主要西方国家
- B. 亚投行是一个政府间性质的亚洲区域多边开发机构
- C. 亚投行致力为亚洲基础设施建设提供融资支持

- D. 亚投行是由我国提出倡议筹建的，总部设在上海
8. 下列关于行政机关责任制的说法，正确的有（ ）
- A. 国务院实行总理负责制                      B. 外交部实行集体负责制
- C. 直辖市实行常委会负责制                      D. 自治区实行集体负责制
9. 下列关于公务员的辞退，说法错误的是（ ）
- A. 甲被市商务委员会公派至美国大学培训 3 个月，培训结束，甲开始周游美国，逾期 20 天才回国。对甲予以辞退。
- B. 乙是区农业局公务员，国庆黄金周外出旅行时，在交通事故中受伤，医疗期结束，确认丧失工作能力，对乙不得辞退。
- C. 丙是区教育局公务员，上班经常迟到，工作时常 QQ 聊天，领导多次谈心仍无转变，对丙予以辞退。
- D. 丁是警察，在一次抓捕嫌疑人时受伤，丧失部分工作能力，对丁不得辞退。
10. 下列关于行政合同的特征，说法错误的是（ ）
- A. 行政合同是行政主体履行行政职责的一种手段
- B. 行政合同应当遵循平等原则和自愿原则
- C. 行政主体可以根据情况，单方变更或者解除行政合同
- D. 行政主体在行政合同中享有优先处分权
11. 《行政许可证》规定，“行政许可所依据的法律、法规、规章修改或者废止，或者准予行政许可所依据的客观情况发生重大变化的，为了公共利益的需求，行政机关可以依法变更或者撤回已经生效的行政许可。由此给公民、法人或者其他组织造成财产损失的，行政机关应当依法给予补偿。”这主要体现了行政法中的（ ）
- A. 行政合法性原则                                  B. 行政合理性原则
- C. 正当程序原则                                      D. 信赖利益保护原则
12. 根据《立法法》的规定，行政法规签署公布后，应及时（ ）上刊载。
- A. 国务院公报    B. 中国人大网
- C. 中国政府法制信息网                                  D. 全国范围内发行的报纸
13. 2015 年 10 月 8 日，上海市政府常务会议审议通过《上海市起立取缔涉渔“三无”船舶专项行动工作方案》，决定自今年 10 月至 2016 年底，在全市范围内统一开展清理取缔涉渔“三无”船舶专项行动。关于这一行政决策行为，下列说法正确的是（ ）
- A. 集体讨论决定是重大决策的法定程序
- B. 在提交市政府常务会议讨论前，要对该方案进行合法性审查
- C. 该方案属于上海市政府规章
- D. 公民、法人和其他组织对该方案不服，可以直接提起行政诉讼
14. 公共预算是公共财政的基本年度计划，它的编制必须反映政府的施政方针和政策，以及国民经济的发展要求，同时必须符合国家有关法律、法规、制度的规定。因此，公共预算编制的主要依据有（ ）
- A. 国家的法律法规和方针政策
- B. 上一年度公共预算的执行情况
- C. 计划年度国民经济与社会发展计划的主要指标
- D. 公共预算管理体制所规定的预算管理权限和收支范围
15. 纵观历史，行政制度自从产生以来，就起着规范行政权力运作的作用。如中国古代政治家管仲所云：“法律政令者，吏民规矩绳墨也”。行政制度在规范行政权力运作方面的作用有（ ）
- A. 行政制度确认行政权力是相对独立的国家权力

- B. 行政制度规定对行政权力主体进行监督的范围和方式
- C. 行政制度保障行政权力对行政相对人的有效行使
- D. 行政制度规定行政活动的程序，使行政活动有章可循

16. 生活中，我们常常会接触到各种不同用途的物品。有些物品既有正式的化学名称，也有相对应的别名。

下列物品的化学名称及其别名对应不正确的是（ ）

- A. 高锰酸钾：PP 粉
- B. 固态二氧化碳：干冰
- C. 碳酸氢钠：苏打
- D. 过氧化氢溶液：双氧水

17. 服务场所常在洗手台旁设有热风干手器，手只要放在干手器下方，很快就烘干了。下列关于热风干手器的表述，正确的是（ ）

- A. 将手放在出风口附近就会有风吹出，是因为采用了感应技术
- B. 使用时感觉手由冷变热的原因是，热风干手器先吹的是冷风，再慢慢加热为热风
- C. 热风干手器烘干手的原因是它加快了液体表面空气流速，且热风提高了液体的温度
- D. 热风干手器烘干手的主要原因是它降低了室内的湿度

18. 抗日战争中，（ ）是中国军队海陆空立体协同作战，也成为亚洲历史上第一次现代化战役。这次会战粉碎了日军三个月灭亡中国的计划，不但吹响了华夏子孙全面抗战的嘹亮号角，还向全世界显示了同仇敌忾、万难不屈的民族精神与民族之魂。

- A. 徐州会战
- B. 太原会战
- C. 武汉会战
- D. 淞沪会战

19. 随着互联网的发展，大数据可能带来的深刻影响和巨大价值逐渐受到人们重视，商业、经济及其他领域的决策制定将日益依赖于数据和分析。利用互联网大数据，可（ ）

- A. 分析疾病模式、追踪疾病暴发及传播方式和途径
- B. 加强网络信息的真实性和安全性
- C. 为消费者提供个性化服务
- D. 准确预测各行业的发展趋势

20. 近年来，城市暴雨洪涝灾害时有发生，不仅会给人带来财产损失，也会造成人员伤亡。下列对城市暴雨洪涝灾害发生原因的分析，不正确的是（ ）

- A. 城市的扩张导致土地硬化，渗水能力下降
- B. 城市的排水设施抵御暴雨能力不足
- C. 城市发展扩张过程中，填埋了大量的地表径流
- D. 台风是导致我国城市暴雨洪涝灾害的主要原因

21. 格林威治时间 2015 年 6 月 30 日午夜增加了 1 秒，使 2015 年比 2014 年长 1 秒，这 1 秒成为闰秒。产生闰秒的原因是（ ）

- A. 2015 年地球绕太阳公转一周的时间比 2014 年多 1 秒
- B. 和闰年一样，每四年会出现一次闰秒
- C. 正好当天的地球自转比往常慢了 1 秒
- D. 为了弥补原子钟计时与基于地球自转得出的“世界时”的差异

22. 2015 年 6 月，台湾某水上乐园在举行派对时向天空喷洒彩色粉末，引起粉尘爆炸。粉尘爆炸是一种气固两相的爆轰现象，当粉尘在空气中达到临界浓度时，就会存在爆炸的危险。下列关于粉尘爆炸的说法，正确的是（ ）

- A. 容易产生二次爆炸是粉尘爆炸的特点之一
- B. 一般而言，粉尘颗粒越大，越易引起爆炸

- C. 粉尘爆炸造成的危害小于气体爆炸
- D. 面粉属于可燃性粉尘，能够引起粉尘爆炸

23. 现在沪宁线上使用的是长达 303 公里的超长无缝钢轨，无缝钢轨并不是没有缝隙，而是把 25 米长的钢轨焊接起来连成几百米甚至几千米长，然后再铺到路基上，每段无缝钢轨之间还是有 11 厘米的空隙。下列关于无缝钢轨的说法，正确的是（ ）

- A. 采用无缝钢轨可以减少噪音污染
- B. 与普通铁轨相比，采用无缝钢轨可大大减少磨损
- C. 提高了轨道的可靠性，是列车更加平稳舒适
- D. 无缝钢轨的制造使用了特殊钢材，没有热胀冷缩现象

24. 地球陆地表面的地形多种多样，通常可以分为山地、平原、高原、丘陵和盆地等五种基本类型。下列关于我国地形的表述，正确的是（ ）

- A. 盆地的底部海拔较低，我国西北部地区海拔较高，因此没有盆地
- B. 我国高原地区海拔较高，太阳辐射强，太阳能资源较为丰富
- C. 长江中下游平原属于冲击平原
- D. 山地是海拔 500 米以上，相对高差 200 米以上的地形，我国的山地大多分布在西部地区

25. 下列成语中，其典故涉及到三国人物的有（ ）

- A. 三顾茅庐
- B. 吴下阿蒙
- C. 闻鸡起舞
- D. 乐不思蜀

26. 成语“金鼓齐鸣”用来形容战斗气氛紧张激烈，如果在春秋战国的战场上，一方的“金”和“鼓”一起鸣响，士兵们会（ ）

- A. 集体冲锋
- B. 集体撤退
- C. 原地防御
- D. 乱作一团

27. C 小调第五交响曲，作品 67 号（Symphony No. 5 in C minor, Op. 67）是德国作曲家贝多芬最为著名的作品之一，被誉为“交响曲之冠”，它的别名是（ ）

- A. 田园交响曲
- B. 浮士德交响曲
- C. 月光奏鸣曲
- D. 命运交响曲

28. “近朱者赤，近墨者黑”典出晋代傅玄《太子少傅箴》，原文是“故近朱者赤，近墨者黑；声和则响清，形正则影直”。“近朱者赤，近墨者黑”所蕴含的道理与（ ）相近。

- A. 青出于蓝而胜于蓝
- B. 蓬生麻中，不扶自直
- C. 皮之不存，毛将焉附
- D. 山河易改，本性难移

29. 北纬 23.5 度称为北回归线，它是太阳光线能够直射在地球上最北的界限，是热带和北温带的分界线。北回归线穿越我国的（ ）

- A. 云南
- B. 广西
- C. 广东
- D. 台湾

30. 习近平在印度尼西亚国会的演讲中提到“‘合抱之木，生于毫末；九层之台，起于垒土’，保持中国和东盟的友谊之树常青，必须夯实双方关系的现实土壤。”下列关于“合抱之木，生于毫末；九层之台，起于累土”的表述，正确的是（ ）

- A. 此句出于儒家经典《论语》
- B. 此句的下一句是“千里之行，始于足下”
- C. 此句中的“累土”是小土块的意思
- D. 此句比喻成大事者不拘小节

阅读下列文字，回答 31~34 题。

2015 年 3 月，国家发改委、外交部、商务部亚洲博鳌论坛 2015 年年会上联合发布了《推动共建丝绸之路

经济带和 21 世纪海上丝绸之路的愿景与行动》。共建“共建丝绸之路经济带”和“21 世纪海上丝绸之路”，即“一路一带”，是习近平主席 2013 年出访东亚和东南亚期间提出的倡议，之后正式写入十八届三中通过的《中共中央关于全面深化改革若干重大问题的决定》。

“一路一带”将充分依靠中国与有关国家既有的多边机制，借助既有的、行之有效的区域合作平台，继承古丝绸之路的开放传统，吸纳东亚国家开放的区域主义。“一路一带”秉承开放包容精神，不会搞封闭、固定、排外的机制。它不是从零开始，而是现有合作的延续和升级。有关各方可以将现有的、计划中的合作项目串联起来，形成一揽子合作，争取产生“一加一大于二”的整合效应。与此同时，“一路一带”倡议的地域和国别范围也是开放的，古代陆、海丝绸之路上的国家、中国的友好邻国都可以参与进来。未来“一路一带”中的很多项目，涉及的国家实体可能很多，开放性也更强。

历史上的丝绸之路主要是商品互通有无，而今天“一路一带”交流合作的范畴要大得多，可以是基础设施互联互通，也可以是贸易投资便利化和产业合作，当然也少不了人文交流和人员往来。各类合作项目和合作方式，都旨在将政治互信、地缘毗邻、经济互补转化为务实合作、持续增长的优势，目标是物畅其流、政通人和、互利互惠、共同发展。在共建“一路一带”过程中，中国将坚持正确的义利观，道义为先、义利并举，向发展中国家和友好邻国提供力所能及的帮助，真心实意帮助发展中国家加快发展。中国不仅要打造中国经济的升级版，也要通过“一路一带”等途径打造中国对外开放的升级版，不断拓展同世界各国特别是周边国家的互利合作。

31. “一路一带”作为中国首倡、高层推动的国家战略，它的提出（ ）

- A. 适应世界经济发展新形式，实行更加积极主动的开放战略
- B. 使我国在欧亚非整体经济架构的过程中掌握了主动权
- C. 为各国产品、技术、劳务、资本的流动提供了新的通道
- D. 有效建立了互利共赢、多元平衡、安全高效的开放型经济体系

32. “一带一路”依赖“丝绸之路”经济、人文、商贸的千年传承，并赋予其新的合作意义。这一合作的重点是（ ）

- A. 政策沟通
- B. 道路联通
- C. 贸易畅通
- D. 民心相通

33. “一带一路”建设将贯穿中国“\_\_\_\_\_”的周边外交理念，坚持不干涉别国内政，不谋求地区事务主导权，不寻求势力范围。

- A. 亲
- B. 诚
- C. 惠
- D. 容

34. 为推进“一带一路”建设，中国将充分发挥国内各地区比较优势，实行更加积极主动的开放战略，加强东中西互动合作，全面提升开放型经济水平，其中，（ ）

- A. 新疆要打造成为丝绸之路经济带核心区
- B. 广东要成为面向南亚、东南亚的辐射中心
- C. 要加快推进中国（上海）自由贸易区建设，支持福建建设 21 世纪海上丝绸之路核心区
- D. 打造粤港澳大湾区

**阅读下列文字，回答 35~38 题。**

网络舆论共识度是网民社会心态的真实反映，也是衡量网络舆论场正负能量和理性程度的重要指标。为此，人民网舆情检测室推出国内首个“网络舆论共识度”指标体系和季度报告，旨在为中国网络舆论场的研究和社会舆论的理性引导提供新的观察视角和决策依据。根据研究报告情况，2015 年第一季度舆论共识主要呈现出以下特点：

一是“舆论共识度”在波动中有所提升。通过研究 2015 年第一季度舆情热点事件，“舆论共识度”呈现出波动中提升的状态，官方舆论和民间舆论就热点舆情事件意见趋于一致。

二是“网民正能量指数”走高。2015年第一季度的“网民正能量指数”，由1月的0.38，2月的0.35增至3月的0.67。

三是反腐倡廉长期占据“政府认同度”首位。检视2015年第一季度舆情热点事件，反腐倡廉类事件众多且处于舆论关注高位，更以政府认同度3.9，4.0，3.8的高分分别占据各月榜首，成为政府认同度最高的一类舆情事件。

四是政府舆情危机处置仍待改善。相比反腐倡廉的高度“政府认同度”，突发危机类事件的“政府认同度”处于低位。

35. 网络舆论共识度是网民社会心态的真实反映，也是衡量网络舆论场正负能量和理性程度的重要指标。造成网络舆情持续不断升温或引发一系列网络舆情危机的事件，说明了以网络传播为代表的新媒体具有（ ）

- A. 公益性与危害性
- B. 传播及时性与广泛性
- C. 客观性与不可控性
- D. 主观性与隐蔽性

36. 在2015年第一季度舆情热点事件中，反腐倡廉类事件众多且处于舆论关注高位，更以“政府认同度”3.9，4.0，3.8的高分分别占据各月榜首，成为政府认同度最高的一类舆情事件。这说明（ ）

- A. 政府强力反腐受到社会的认可
- B. 反腐倡廉是社会公众关注的焦点
- C. 网络舆情有助于反腐倡廉工作的进一步推进
- D. 在信息时代，政府公务员都是公众人物

37. “网络舆论共识度”指标体系和季度报告告诉我们，面对新时期复杂的媒体环境，各级政府在突发事件中，与媒体沟通时要（ ）

- A. 坚持积极主动的原则
- B. 多个部门、多种渠道发布舆情信息
- C. 快速反应、慎报原意、速报事实
- D. 采取一定的舆情管制措施

38. 2015年第一季度的网民正能量指数渐趋提升，由1月的0.38，2月的0.35增至3月的0.67。官方舆论和民间舆论就热点舆情意见趋于一致，说明政府在推进公共治理中需要（ ）

- A. 提升媒体沟通能力
- B. 及时监测舆情动态
- C. 充分发挥公众、社会组织等多元治理主体作用
- D. 坚持正面引导舆情，变被动应对为主动服务

**阅读下列文字，回答39~42题。**

某市乙公司获准使用该市一块土地，用途是设置综合农场，发展农业。2014年3月26日，该市规划局查获乙公司在地块内陆续建房，搭脚手架，但并没有用来发展农业，而是以“乙农庄”的名义对外经营。规划局遂于2014年4月2日向乙农庄作出《关于拆除违法建设的通告》，要求乙公司在通告之日起四日之内，自行无条件拆除违法建设房屋。该行政决定未告知乙公司所依据的事实、法规，也未告知乙公司依法享有的陈述、申辩的权利。同月3日，规划局直接在乙农庄门口张贴该通告，未通过其他任何方式向乙公司送达。同月18日，规划局组织有关人员对违法建筑物实施强制拆除。拆除期间未申请公证机构对现场拆除情况、财务清点情况进行证据保全和临时保管，亦未出具任何财务的交接手续，只由该市某镇法律服务所于当日制作了《用品清单》，有规划局、某镇政府、村委会和乙农庄一名员工的签名。5月19日，乙公司向某公证处出具了《公证书》，乙公司据此于2014年8月15日提起诉讼，要求该市规划局予以赔偿。

39. 根据案例，该市规划局行为违法之处有（ ）

- A. 未告知乙公司作出行政决定的理由和依据  
B. 要求乙公司四日内自行拆除违法建筑物  
C. 未告知乙公司依法享有的陈述、申辩的权利  
D. 未向乙公司送达《通告》
40. 根据《国家赔偿法》的规定，该市规划局不应当赔偿的范围有（ ）  
A. 乙公司的违法建筑物  
B. 乙公司在乙农庄里的合法财产  
C. 乙农庄的经营性损失  
D. 受拆迁惊吓的乙公司员工的精神损害赔偿
41. 该市规划局应当作出的强制执行决定，须载明的事项有（ ）  
A. 乙公司的名称、地址                      B. 强制执行的时间  
C. 强制执行的方式                          D. 复议机关的名称、地址
42. 根据《行政诉讼法》及其相关司法解释，关于该市某镇法律服务所当日制作的《用品清单》和某公证处制作《公证书》的证据效力，下列判断正确的是（ ）  
A. 公证的书证优于其他书证  
B. 国家机关依职权制作的公务文书优于其他书证  
C. 原始证据优于传来证据  
D. 原物优于复制品

阅读下列文字，回答 43~46 题。

上海市城乡建设和交通发展研究院于 2015 年 1 月份发布《2014 年上海综合交通运行年限》年报显示，2014 年上海交通供需矛盾进一步突出，交通高峰时段延长，拥堵呈常态化。自 2010 年世博会以来，上海中心城区城市道路里程约 4865 公里，增长仅为 3%；城市道路面积 105 平方公里，增长 8%。而与之相对应的是私人小汽车数量的持续增长：截至 2014 年底，上海机动车保有量为 304 万辆左右（不含外省市号牌车辆），较 2013 年底增加 20.5 万辆，增幅为 7.2%。数据显示，与 2013 年同期相比，2014 年上海快速路日均交通总量增长约 7%、中心城越江交通日均总量增长 1.2%、高速公路日均车流总量增长约 13.2%。

在机动车保有量迅速增长的同时，上海中心城区道路拥堵的累积时间延长，形成了早、午后、晚三个拥堵高峰、并逐步呈现午后高峰向晚高峰延伸，与晚高峰时段逐渐连成片以及早高峰提前的趋势。2014 年，在 42 个快速路交通指数区域中，高峰时段拥堵指数大于 50、累计拥堵时间大于 1 小时，超过 100 个工作日拥堵的有 8 个常发性严重拥堵区域，主要集中在浦西西部及西南面；在 68 个地面道路指数区域中有 15 个常发性严重拥堵区域，主要集中在内环内商圈及医院周边。

随着机动车数量的与日俱增，城市交通的承载压力越来越大，中心城区交通在一些时段和区域拥堵已成为司空见惯的现象，居民出行常常陷入苦不堪言的境地。各大城市也在不断探索治理拥堵的良方，其中“限购”是各地共同的做法，北京市从 2014 年到 2017 年，增量小客车指标额度供 60 万个。年度配置指标总量由 24 万个减少到 15 万个，从而使机动车保有量到 2017 年底不超过 600 万辆。2013 年底，上海交通主管部门明确车牌价格调控措施将长期化，确定了全年总体 10 万张车牌的投放量。2014 年天津市小客车指标投放量供 10 万个，按月分配，采取摇号和竞价的方式配置。2014 年 3 月 26 日，杭州市政府规定杭州行政区域内小客车实行增量配额指标管理，增量指标须通过摇号或竞价方式取得。今后杭州每年汽车增量指标为 8 万个，按月度分配。

43. 客观上，对小汽车进行“限购”，可以发挥的作用有（ ）  
A. 有效解决城市拥堵的问题  
B. 直接限制小汽车的使用



- C. 有利于缓解因交通带来的环境污染  
D. 一定程度上促进公共交通的发展
44. 各地在探索治理城市拥堵的方案中，都强调对小客车增量配额指标管理。就限购单项措施而言，其效果有呈现“边际收益递减”的可能，主要原因有（ ）
- A. 汽车保有量的积累  
B. 现有道路资源承载力没有相应提高  
C. 部分公众出行需求没有兼顾  
D. 影响汽车生产与销售商的利益
45. 从行政行为角度看，各地采取小客车增量配额指标管理的做法具有（ ）的特征。
- A. 行政手段  
B. 政府主导  
C. 休克疗法  
D. 计划与市场手段相结合
46. 有人认为“限购”在法律规定之外，增加了相对人的负担，是对相对人合法权利的不合法限制，这种观点说明政府依法行政需要充分考虑（ ）
- A. 行政主体是否有相应权力  
B. 内容是否与上位法相抵触  
C. 制定程序是否合法  
D. 增强行政过程的透明度
- 阅读下列文字，回答 47~50 题。

#### 关于 2015 年全国“爱眼日”活动的通知

各区县卫生计生委，市眼病防治中心，市医学会：

2015 年 6 月 6 日是第二十次全国“爱眼日”，今年“爱眼日”活动的主题为“告别沙眼盲，关注眼健康”。近日，国家卫生计生委办公厅、中国残联会办公厅联合转发了《关于开展 2015 年全国“爱眼日”活动的通知》（国卫办医函〔2015〕398 号）。现将该通知印发给你们，并就本市开展 2015 年“爱眼日”活动有关事项通知如下：

##### 一、市级活动安排

（一）6 月 1 日上午，市卫生计生委联合市残联 XX 公园举行“爱眼日”大型主题咨询活动，组织全市 14 家三级医疗机构知名眼科专家开展眼病义诊和咨询，发放眼病防治和眼保健知识宣传资料。

（二）6 月 1 日—3 日，在 XX 公园举办“本市沙眼防治历史回顾展”。

##### 二、工作要求

（一）市眼病防治中心要做好本次市级“爱眼日”活动的组织落实，加强对区县活动的技术指导，市医学会应加大对相关学科临床医生的培训力度，切实提高临床医生预防糖尿病致盲等并发症发生的意识。

（二）各区县卫生计生委要充分认识“爱眼日”或是的重要作用，紧紧围绕今年主题，会同残联等部门，深入社区、农村开展义诊、咨询、专题讲座等，进一步提升市民沙眼防治知识水平，巩固根治致盲性沙眼成果。

（三）各区县要认真总结本次“爱眼日”宣传活动，并于 6 月 13 日前将活动总结等报送至市卫生计生委。

XX 市卫生和计划生育委员会办公室

2015 年 5 月 29 日

47. 下列针对以上公文的标题提出的修改意见，正确的是（ ）
- A. “关于”前要添加发文机关全称或规范化简称  
B. “关于”后要添加“开展”二字  
C. “通知”应改成“通告”  
D. 事由中“全国”二字删去
48. 下列针对以上公文正文用词提出的修改意见，恰当的是（ ）

- A. 开头部分第二句中“转发”应改成“印发”  
 B. 开头部分末句中“印发”应改成“转发”  
 C. “本市沙眼防治历史回顾展”中“本市”应改成“XX市”  
 D. “工作要求”（三）中“各区县”应改成“市医学会”
49. 以上公文正文中的写作格式和内容存在的问题是（ ）  
 A. “市级活动安排”和“工作要求”位置颠倒  
 B. “工作要求”（一）、（二）两条位置颠倒  
 C. “工作要求”（三）缺少联系人和联系电话  
 D. 正文末尾缺少附件说明
50. 下列针对以上公文的落款提出的修改意见，正确的是（ ）  
 A. 署名中“办公室”应删去  
 B. 成文日期应改成“二〇一五年五月二十九日”  
 C. 成文日期右边应空两格  
 D. 成文日期右边应空四格

以下 51~140 题为单项选择题。

## 第二部分 言语理解与表达

51. 有人说，刘慈欣仅凭一己之力，就使中国的科幻小说\_\_\_\_\_于世界先进水平之列。这对于作家本人来说，\_\_\_\_\_是崇高的盛誉，但若从另一方面解读，其中何尝不隐含着十分的无奈。刘慈欣和《三体》的一花独放、单峰耸峙，\_\_\_\_\_出的是科幻小说界的整体低迷。就整体而言，无论是科幻小说的创作、出版、阅读和传播，还是改编拍摄成影视作品等\_\_\_\_\_艺术形式，中国跟世界先进水平都存在着巨大的差距。

依次填入横线处的最恰当词语是（ ）

- A. 跃居，虽然，衬托，延伸  
 B. 跻身，固然，反衬，衍生  
 C. 跻身，当然，反映，派生  
 D. 踏入，固然，烘托，多种

52. （1）秋是代表成熟，对于春天之\_\_\_\_\_娇艳，夏日之茂密浓深，都是过来人，不足为奇了，所以其色淡，叶多黄，有古色苍郁之概，不单以葱翠争荣了。

（2）\_\_\_\_\_，在利益多元、观念多样的时代，每个人都会自己的打算，但如果人人只顾自己的“一亩三分地”，留下的只会是一片冷漠荒原。

（3）20 国集团，又称 G20，旨在推动已工业化的发达国家和新兴市场国家之间就实质性问题进行开放及有建设性的讨论和研究，以\_\_\_\_\_合作并促进国际金融稳定和经济的持续增长。

依次填入横线处的最恰当词语是（ ）

- A. 明艳，总而言之，寻觅  
 B. 明丽，推己及人，谋求  
 C. 明媚，不可否认，寻求  
 D. 明朗，毋庸置疑，谋取

53. 山雄伟，海辽阔，经奇幻，中国自古便有奇书《山海经》。作为先秦重要古籍，也是一部\_\_\_\_\_的奇书，《山海经》在现代学者的眼中\_\_\_\_\_，“成书并非一时，作者亦非一人”，是悠悠千载的历史造就了令人\_\_\_\_\_的想象力。而现在，书中那些\_\_\_\_\_的世界经由影视转码，频繁登上大银幕、小荧幕。这个暑期，无论是在院线里，刷新票房数据的《捉妖记》，还是在网络视频累计超亿次点击量的《花千骨》，其源头设定都与《山海经》不无关联。

依次填入横线处的最恰当词语是（ ）

- A. 荒诞不经，脍炙人口，瞠目结舌，千奇百怪

- B. 脍炙人口，光怪陆离，荒诞不经，瞠目结舌  
 C. 光怪陆离，脍炙人口，耳晕目眩，荒诞不经  
 D. 脍炙人口，荒诞不经，瞠目结舌，光怪陆离

54. 所谓民族文化的积淀，对艺术家而言表现为“书卷气”。书法家更应具备这种“气”。书法是一门抽象的艺术，它以文字为基础、为载体。因此，\_\_\_\_\_洞明文字生成中所蕴自然山川之地脉，宇宙变幻之天象，深谙文字之文化含量，执笔时才有底气，才能生发出意象、意念、意蕴、意境。否则\_\_\_\_\_到达深郁而豪放、凝重而飘逸之化境。

依次填入横线处的最恰当词语是（ ）

- A. 一旦，无以  
 B. 若，难以  
 C. 唯，无以  
 D. 只要，无法

55. 古人早有“腹有诗书气自华”的\_\_\_\_\_，更直言过“士大夫三日不读书，则义理不交于胸中，对镜觉面目可憎，向人亦语言无味”。足见读书对人心善良与审美运作的\_\_\_\_\_价值。而且，不同的人生阶段赋予人不同的读书境界，这就更使人一生\_\_\_\_\_与书为伴。清人张潮就写过：“少年读书，如隙中窥月；中年读书，如庭中望月；老年读书，如台上玩月。”人生历练助读书得真意，而读书本身\_\_\_\_\_不是借他人之笔丰富自我的人生？

依次填入横线处的最恰当词语是（ ）

- A. 感慨，培养，须，未尝  
 B. 叹息，培育，需，如何  
 C. 感叹，塑造，需，怎么  
 D. 喟叹，养成，须，何尝

56. 下列三个句子，分别最可能出现在（ ）类型的文本中。

(1) 我们必须相信，艾滋病群体不是一种异数，只是一种病人；不是一种例外，只是一种意外；不是一种伤疤，只是一种伤痛；不是一种耻辱，只是一种现实。

(2) 自我国 1985 年发现第一例艾滋病人以来，截至今年 10 月底，报告现存活的艾滋病感染者和病人达 49.7 万例，死亡 15.4 万例。

(3) 行动起来，向零艾滋迈进；全面预防、积极治疗、消除歧视。

- A. 宣传海报，医学文献，新闻报道  
 B. 抒情散文，教科书，政论文  
 C. 新闻报道，政府报告，医学文献  
 D. 报刊评论，政府报告，宣传海报

57. 下列语句表达准确无误的是（ ）

A. 昨晚，欧冠半决赛阵容揭晓，两大夺冠热门拜仁慕尼黑与皇家马德里狭路相逢，欧洲足坛巅峰之战将提前上演。

B. 清明小长假前两天，上海各大公园迎来游客高峰，客流量增近五成。

C. 但愿 L 市水危机事件能够成为一面镜鉴，警醒各地加强水质监管及其信息发布，确保饮水安全。

D. 和外资、大型国企进驻高校时“爆棚”的场面不同，昨天的招聘会仍然是供大于求。

58. 下列句子表达最连贯、通顺的是（ ）

A. 作为驰名中外的“世界葡萄植物园”，据了解，吐鲁番葡萄种植历史悠久，品种资源达到 550 种。

B. 吐鲁番葡萄种植历史悠久，据了解，作为驰名中外的“世界葡萄植物园”，品种资源达到 550 种。

C. 作为驰名中外的“世界葡萄植物园”，品种资源达到 550 种，据了解，吐鲁番葡萄种植历史悠久。

D. 据了解，作为驰名中外的“世界葡萄植物园”，吐鲁番葡萄种植历史悠久，品种资源达到 550 种。

59. 下列各句语气最委婉的一句是（ ）

- A. 一下暴雨就开启“看海”模式，这无疑应该引起城市管理者的重视。  
 B. 一下暴雨就开启“看海”模式，这难道不应该引起城市管理者的重视吗？  
 C. 一下暴雨就开启“看海”模式，这是不是应该引起城市管理者的重视呢？  
 D. 一下暴雨就开启“看海”模式，这恐怕不能不引起城市管理者的重视了。

60. 将下列句子重新排列，语序最恰当的是（ ）

- ①所以，在医生准入这件事情上，任何国家都不敢“任性”，宁缺毋滥。  
 ②良医治病，庸医要命。  
 ③让不合格的人穿上白大褂，等于让“隐形杀手”混入医生队伍。  
 ④而庸医之害，甚于无医。  
 ⑤医生有良医和庸医之分。  
 ⑥如果良医短缺了，就用庸医来充数，无异于饮鸩止渴，拿人命当儿戏。  
 ⑦降低当医生的门槛，必然导致医疗质量下降，最终受害的是患者

- A. ⑦⑤②⑥③④①  
 B. ③⑥⑤②④⑦①  
 C. ⑤②④⑥⑦③①  
 D. ⑥⑤④⑦②③①

61. 下列四句话中，主题思想不同于其他三句的是（ ）

- A. 法不察民情而立之，则不威  
 B. 公则四通八达，私则一偏而隅  
 C. 一言得而天下服，一言定而天下听，公之谓也  
 D. 吏不畏吾严而畏吾廉，民不服吾能而服吾公；公则民不敢慢，廉则吏不敢欺；公生明，廉生威

62. 中国文化产品走出国门，要善于运用世界能理解接受的方式和话语，更要不断揣摩并捕捉时代焦点，这样才能传得开、走得远。\_\_\_\_\_。从农耕时代与人类和谐共处之美，到工业化社会受到生存威胁濒临灭绝，成为博物馆中标本的切肤之痛，再到因人类悉心呵护而重生的喜悦，舞剧《朱鹮》将人类对于环境的忧思与关切，细密编织于演员们优美的舞姿之中，让中外观众都能在此找到共鸣。

如在上文划线处添加过渡句，最恰当的是（ ）

- A. 而舞剧《朱鹮》的成功，恰好是最佳的例证  
 B. 如果说舞剧《朱鹮》的成功有诸多因素，那真正为演出成功奠定基石的就是题材  
 C. 舞剧《朱鹮》成为了“真正的文化使者”  
 D. 而舞剧《朱鹮》的编剧尚未深刻地认识到这一点

63. 当所有人浏览同一则新闻，当朋友圈都在刷同一条信息，当地铁上彼此陌生的人盯住各自的手机却在分享同样的素材，当整天大家讨论的话题早已被规设好了，我们所能获得的信息量是减少了还是增多了呢？我们所关注的视野领域是缩减了还是拓展了呢？我们讨论的公共话题价值是更局限了还是更普遍了呢？常识告诉我们：当大家把目光都投向同样的问题，这个如此丰富的社会所提出的那么多问题就可能会被屏蔽，而它们同样是这个社会存在的部分，甚至是更重要的部分。

作者通过这段话想要表达的观点是（ ）

- A. 当今社会“低头一族”已成为一大社会性问题  
 B. “朋友圈”的信息误人子弟  
 C. 网络信息量有待增加  
 D. 现有的网络信息供给模式损害了信息的多样性

64. 子路问老师：什么样的人算是君子？孔子说“修己以敬”。子路意犹未尽，追问道：“如斯而已乎？”孔子回答道：“修己以安人。”子路仍心有不甘，继续追问道：“如斯而已乎？”孔子答：“修己以安百姓”，接着又

补充说，修己以安百姓，这是尧、舜大概还难以做到的啊!从这个“修身之答”中，我们可以看到修身要达到的三方面要求和目标，即“以敬”、“以安人”、“以安百姓”，这是值得今天的领导干部认真学习和体会的。

对上面语段概括最准确的是（ ）

- A. 说明了孔子诲人不倦，值得学习
- B. 阐释了孔子“修身之答”及其现实意义
- C. 说明了孔子所谓修身的要求和目标
- D. 介绍了著名的师生“修身之答”

65. 月球之所以能对地球自转轴起到重要影响，是因为它异乎寻常得大——事实上，它是太阳系卫星之中最大的。不仅如此，按照目前最流行的观点，月球乃是起源于地球演化早期——约 45 万亿年前——的一次超级碰撞，碰撞的双方一方是正在成长中的原地球，另一方是一个差不多火星那么大的超级“陨石”。

这段文字中有三处破折号，它们的作用是（ ）

- A. 前一个破折号是表示转折式说明，后两个破折号是引出下文
- B. 前一个破折号是表示强调，后两个破折号是引出下文
- C. 前一个破折号是插入例子，后两个破折号是表示插入补充说明
- D. 前一个破折号是表示递进式说明，后两个破折号是表示插入补充说明

66. 在农业越来越依靠现代科学知识和农耕技术的当下，在越来越多的年轻人被卷入城镇化大潮而失去种地技能之后，农民职业化可以有效促进家庭小农经济变革为家庭农场或庄园经济，从而解放农村的落后生产力，也能够促进农业生产的现代化。然而农民职业化，不是农民证书化，更不是相关部门设立几个条条框框，外加做一些培训工作，就能让农民实现职业化了的。

关于这段文字所表述的内容，下列说法正确的是（ ）

- A. 农民职业化不应当给农民颁发证书或组织农民进行培训
- B. 农民职业化意味着农业生产力的现代化，对农民适当培训也是需要的
- C. 当下农业面临着由于现代科学技术的发展而越来越丧失传统种地技能的问题
- D. 农民职业化意味着吸引更多年轻人回到农村务农，形成家庭农场

67. 文风之“简”，主要表现在三个方面：一是\_\_\_\_\_。华丽的语言常常被用来掩饰思想的贫乏。二是\_\_\_\_\_。“真传一句话，假传万卷书”。三是\_\_\_\_\_。“随风潜入夜，润物细无声。”对于领导干部来说，在文风上是不是注重、能不能做到“简”，意义更为重大，它直接关系到能不能做好群众工作和能不能有效实施领导。

将以下三句分别填入上文的划线部分，最恰当的的顺序是（ ）

- ①简单生动，就是用形象的语言说明抽象的道理
- ②简朴深刻，就是用朴实的语言表达深刻的道理
- ③言简意赅，就是用简明的语言阐述完备的思想

- A. ②③①
- B. ②①③
- C. ③①②
- D. ①③②

阅读下列文字，回答 68~70 题。

宋代青白瓷作为一种器物符号，是以景德镇窑为代表烧制的一种单色釉瓷器。它兼具了物质文化和精神文化的双重功能，包含着丰富的文化符号意义，不但是历史长河中器物文明的里程碑，也体现了中华民族的审美观和人文精神。

青白瓷取得的成就与宋代发达的经济分不开。北宋后期，宋金对峙，南方经济明显超过了北方，景德镇青白瓷也在此时得到了相当大的发展。但是，富庶的社会经济也让宋人失去了汉唐那种博大、开阔、外向、奋发的眼界、胸襟、抱负与理想，代之而起的是克制自持、温文儒雅、宁静自适的审美理想。所以，不是华贵福利的彩瓷，而是景德镇的青白瓷，成为宋代真正优秀的艺术作品。

自青白瓷问世，制瓷工匠便特别注意成型技艺的提高，坯体加工十分精细。这是由青白瓷的工艺特征决定的。青白瓷胎骨较清薄而洁白，釉质具有通透感，造型轻巧，因而坯体上如有任何痕迹和杂物，在经施釉烧成后，都会在这种透明釉下暴露无遗。

青白瓷常出现的纹饰有婴戏、兰草、莲纹、海浪纹等。其中莲纹流传甚广，常见的有莲花或莲瓣纹，或缠枝莲。莲纹与相应器形结合，呈现一种婀娜多姿之态。青白瓷的造型以修挺挺拔为特色，如瓜菱形的壶身，细长弯曲的壶流，盘口的折沿，碗、盘、碟等口部多用花口或在内壁饰五至六条凸起的出筋纹，轻巧玲珑的造型、清雅柔美的纹样、莹润恬静的釉色相结合，使器物呈现一种柔美优雅的韵味。

宋代审美风潮的变化与理学的兴起也有着密切的关系。宋代理学的核心思想是“存天理、灭人欲”，这种哲学理念对中国传统艺术审美产生了深刻影响。体现在工艺美术上，使得宋代工艺的造型和装饰都显得较为平实。宋代景德镇青白瓷端庄典雅的风致，显然是深受理学思想的影响。与宋代整个审美思潮相一致，青白瓷承担着道德教化的崇高社会任务，其目的不是为了享受，而是为了平欲；不是为了审美，而是为了致善。

青白瓷使用的青白釉在化学组成上属于重石灰釉，钙含量很高，入窑焙烧后积釉处呈水绿色，呈现温润如玉的风姿。宗白华曾说：“中国向来把‘玉’作为美的理学。玉的美，即‘绚烂之极归于平淡’的美。可以说，一切艺术的美，以至于人格的美，都趋向玉的美：内部有光彩，但是含蓄的光彩，这种光彩极绚烂，又极平淡。”瓷器追求温润莹澈的效果一方面是农耕文明对土、石、玉审美的延展，另一方面，受到“君子比德于玉”思想的影响，是儒家重礼、重德的精神贯通生活方方面面的具体体现，青白瓷就是这样一种承载玉德的瓷器。瓷器自唐五代以来，不仅不断适应和满足着变化的时代以及与此相适应的生活方式，同时也追随着审美情趣的变化轨迹。青白瓷的如玉质地和釉色在宋代匠师的手中赫然而出，渗透了淡泊虚静的人性，在宋人的精神世界里拓疆统驭，更在中国审美传统中发展壮大。

68. 下列选项中，（ ）不是宋代景德镇青白瓷的特点。

- A. 轻巧挺拔的造型
- B. 莹润通透的釉色
- C. 清新质朴的纹样
- D. 绚烂多姿的风格

69. 根据题意，下列说法正确的是（ ）

- A. 青白瓷又称白地青花瓷，其胎质细腻，釉质肥厚，底釉莹白，纹饰青翠
- B. 青白瓷纹饰丰满紧密，多而不乱；器形厚重饱满，端庄大气
- C. 青白瓷是中国人对玉的审美的延伸，这也同儒家精神在生活中的渗透有关
- D. 青白瓷承担着道德教化的崇高社会任务，具有惩恶扬善的功能

70. 关于本文的主旨，下列说法最恰当的是（ ）

- A. 青白瓷的成就和工艺特征
- B. 青白瓷蕴含的宋代美学思想
- C. 青白瓷于宋代经济社会发展
- D. 理学思想影响下的瓷器工艺

**阅读下列文字，回答 71~75 题。**

为什么欧美人和亚洲人拥有不同的思维方式？

为什么前者倾向于个人主义，并且惯于以分析的方式推理，而后者绝大多数呈现出一种集体主义，并且习惯从整体角度思维？

这是个宏大的问题，人们曾从宗教信仰、生活方式，甚至基因中寻找答案。

今天，托马斯·塔尔海姆，美国维吉尼亚大学的一名社会心理学博士生，提出了一个全新的解释。这些彼此差别的文化，部分来源于滋养它们的谷物：从新石器时代起，小麦在欧洲的主导地位和水稻种植在东亚和东南亚的盛行，可能持续地影响了人们的心理，并且在两种情况中产生了完全不同的认知过程。

以水稻种植为例，它要求农民之间通力合作。巴黎高等农艺科学学院农业系的奥利维耶解释说：“水从上游的田地流向下流的田地，因此农民之间首先要就水流的管理达成一致，以避免这家排水涝了那家的地。”

随着时间的流逝，合作的需要就会促进该地区集体主义价值的增长。“当人们需要别人帮他获得‘每日的面包’时，就必须更多地关注别人，并且学着妥协。”美国密歇根大学文化心理学研究者理查德·尼斯贝特总结说。

相反，小麦文化从 2000 多年前起就引入了畜力辅助耕种，并不太需要耕作者彼此间这样的合作。于是这种农业方式允许更为个人主义的价值萌芽，并且随着时间流逝，超越个人的农业行为，发展成为文化准则，传递给一代又一代人。

这些相对立的价值接下来导出欧美人与亚洲人之间的第二项区别，这一次涉及到思维方式。

欧美人这边，个人主义助长了分析的思考方式：将属性归于物体，以便将它们从背景中整理出来，分门别类。而东亚这边，集体主义推进了更为整体的思考方式的发展，也就是说，“围绕关系而非类别、围绕系统而非物体组织起来的一种思考方式，表现出对背景的更多关注”，理查德·尼斯贝特描述道。

一个社会的个人主义文化，和身处其中的个体的思维方式，二者之间有何联系？“如果有人意识到自己属于一个更大的背景，他是这个背景中相互依赖的元素之一，那么他就很有可能以同样的方式观察周遭的物体和事件。”黑兹尔和北山忍于 1991 年在《心理学研究》上解释道。与之相对，个人主义倾向于发展出另一种思维方式，将物体独立于环境，强调其专有属性。

这个理论再次将文化与自然之间的深刻关系摆在我们面前。因为正是自然决定了粮食作物，乃至我们的思想。一如稻米和小麦，人类心灵也是大地的果实。

71. 关于文中第二自然段提到的“以分析的方式推理”，下列理解不正确的是（ ）

- A. “以分析的方式推理”强调依据事物的属性和基本的成分来进行研究
- B. “以分析的方式推理”意味着将物体视作独立于背景的存在进行研究
- C. “以分析的方式推理”擅长挖掘事物之间的关系和事物构成的系统
- D. “以分析的方式推理”倾向于对事物进行分门别类地研究

72. 根据文意可知，“个人主义”与思维方式最大的联系在于（ ）

A. 个人因为经常意识到自己是更大集体中的一个成员，从而也习惯以同样的方式观察世界，那就是分析师的推理

- B. 个人因为习惯于给自己的存在赋予更大的价值，从而也习惯将事物脱离出其背景来加以观察
- C. 个人因为经常意识到自己是更大集体中的一个成员，从而也习惯将事物脱离出其背景来加以观察
- D. 个人因为习惯于给自己的存在赋予更大的价值，从而也习惯将周遭物体和世界联系起来观察

73. 文中划线处引用了《心理研究》中的观点，其用意是（ ）

- A. 为文章补充事实依据
- B. 为文章补充理论依据
- C. 为观点提供新的视角
- D. 为理论补充背景知识

74. 最后一段写道“一如稻米和小麦，人类心灵也是大地的果实”，下列理解错误的是（ ）

- A. 这句话使用了比喻的修辞手法，把稻米和小麦比作人类心灵
- B. 这句话将人类心灵与粮食做类比，揭示人类心灵的某些东西
- C. 这句话将人类文化心理与自然相联系，深化文章主题
- D. 这句话的意思是人类的心智会受到自然环境的深刻影响

75. 为本文取一个标题，下列选项最恰当的是（ ）

- A. 农业：人类心理的一把钥匙
- B. 欧美人与亚洲人思维差异溯源
- C. 文化与自然
- D. 谷物类型：祖先的思维新动力

## 第三部分 数量关系

76. 甲乙丙三员工共同修剪 6060 平方米草地，甲的修剪效率为 30 平方米/分钟，乙的修剪效率为 40 平方米/分钟，丙的效率为 60 平方米/分钟。上午，甲 7 点 30 分开始修剪，乙 7 点 45 分开始，丙 8 点 15 分开始，他们同一时间完成工作，乙用了（ ）分钟。

- A. 56                                      B. 57                                      C. 58                                      D. 59

77. 一头羊用 10 米长的绳拴在一个长方形小屋外的墙角处，小屋长 9 米宽 7 米，小屋周围都是草地，羊能吃到草的草地面积为（ ）平方米。

- A.  $\frac{155}{2}\pi$                                       B.  $\frac{229}{4}\pi$                                       C.  $75\pi$                                       D.  $\frac{309}{4}\pi$

78. 小王打算购买围巾和手套送给朋友们，预算不超过 500 元，已知围巾的单价是 60 元，手套的单价是 70 元，如果小王至少要买 3 条围巾和 2 双手套，那么不同的选购方式有（ ）种。

- A. 3    B. 5    C. 7    D. 9

79. 一艘轮船先顺水航行 40 千米，再逆水航行 24 千米，共用了 8 小时。若该船先逆水航行 20 千米，再顺水航行 60 千米，也用了 8 小时。则在静水中这艘船每小时航行（ ）千米。

- A. 11    B. 12    C. 13    D. 14

80. 某收藏家有三个古董钟，时针都掉了，只剩下分针，而且都走的较快，每小时分别快 2 分钟、6 分钟及 12 分钟。如果在中午将这三个钟的分针都调整指向钟面的 12 点位置，（ ）小时后这 3 个钟的分针会指在相同的分钟位置。

- A. 24    B. 26    C. 28    D. 30

81. 文化广场上从左到右一共有 5 面旗子，分别代表中国、德国、美国、英国和韩国。如果将 5 面旗子从左到右分别记作 A、B、C、D、E，那么从中国的旗子开始，按照 ABCDEDCBABCDEDCBA.....的顺序数，数到第 313 个字母时，是代表（ ）的旗子。

- A. 英国    B. 德国    C. 中国    D. 韩国

82. 某电影公司准备在 1-10 月中选择两个不同的月份，在其当月的首日分别上映两部电影。为了避免档期冲突影响票房，现决定两部电影中间相隔至少 3 个月，则有\_\_\_\_\_种不同的排法。

- A. 21    B. 28    C. 42    D. 56

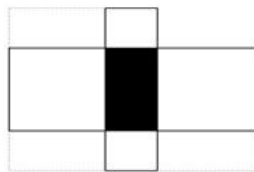
83. 小张购买艺术品 A，在其价格上涨 X% 后卖出盈利 Y 元，用卖价的一半购买艺术品 B，又在其价格上涨 X% 后卖出盈利 Z 元，发现 Z 大于 Y。则 X 的取值范围是（ ）

- A. 大于 100                                      B. 大于 200  
C. 小于 100                                      D. 小于 200

84. 非闰年的一年的中间时刻应该是 A 月 B 日 C 点，则 A+B+C=（ ）

- A. 22    B. 21    C. 20    D. 19

85. 右图中间阴影部分为长方形。它的四周是四个正方形，这四个正方形的周长和是 320 厘米，面积和是 1700，则阴影部分的面积是（ ）平方厘米。




- A. 375    B. 400    C. 425    D. 430



### 第四部分 判断推理

86. 如图，三角形木块顶住水泥墙壁后静置在水平地面上，现将一小铁球从图中位置无初速度地放开，假设不考虑任何摩擦力，那么小球从释放到落至地面的过程中，下列说法正确的是（ ）

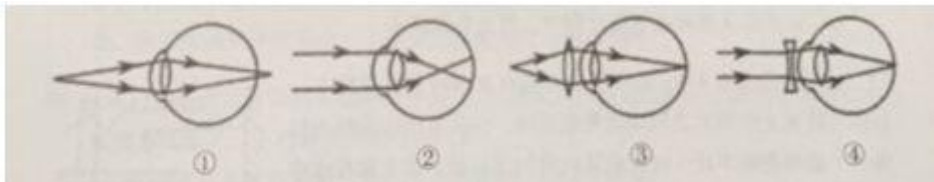


- A. 木块对小铁球的弹力不做功
- B. 木块的机械能守恒
- C. 小铁球的机械能的减少量等于木块动能的增大量
- D. 以上说法均不正确

87. 真空玻璃是将两片平板玻璃或玻璃四周密闭起来，将其间隙抽成真空并密封排气孔，两片玻璃之间的间隙为 0.1~0.2mm，真空玻璃的两片至少有一片是低辐射玻璃，根据以上信息，下列关于真空玻璃的描述错误的是（ ）

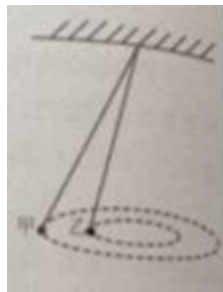
- A. 为了达到玻璃内外压力的平衡，往往会在玻璃之间排列整齐小球，用来支撑玻璃承受外界大气压的压力。
- B. 采用低辐射玻璃的原因是使辐射传热尽可能小
- C. 抽成真空的目的是减少气体传热的影响，从而使保温性能更好
- D. 抽成真空后隔音的效果会下降

88. 下列四幅图中，属于近视眼成像原理和远视眼矫正方法的分别是（ ）



- A. ①和③
- B. ②和③
- C. ②和④
- D. ①和④

89. 如图，用绳子（质量忽略不计）将甲、乙两铁球挂在天花板上的同一个挂钩上，然后使两铁球在同一水平面上做匀速圆周运动，已知两铁球质量相等，那么下列说法中不正确的是（ ）



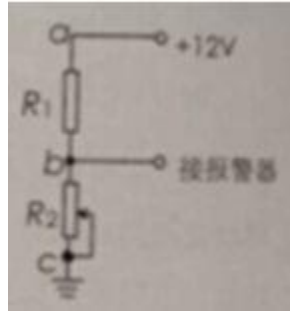
- A. 甲的角速度一定比乙的角速度大
- B. 甲的线速度一定比乙的线速度大
- C. 甲的加速度一定比乙的加速度大
- D. 甲所受绳子的拉力一定比乙所受的绳子的拉力大

90. 小张放假回到农村，发现一个种子堆，好奇的小张把手伸到种子堆里，发现里面温度比较高，这主要

是因为 ( )

- A. 天气热
- B. 呼吸作用
- C. 光合作用
- D. 保温作用

91. 右图是煤气泄露报警装置原理图, R1 是对煤气敏感的半导体元件, 其电阻随煤气浓度的增加而减小, R2 是以可变电阻, 在 ac 间接 12V 的恒定电压, bc 间接报警器, 当煤气浓度增加到一定值时报警器发出警告。对此下列说法正确的是 ( )

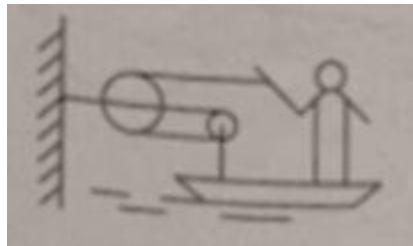


- A. 减小 R2 的阻值, b 点的电势升高
- B. 当煤气的浓度升高时, b 点的电势降低
- C. 适当减小 ac 间的电压, 可以提高报警器的灵敏度
- D. 调节 R2 的阻值能改变报警器启动时煤气浓度的临界值

92. 蹦床运动员在离开蹦床一定高度后落回蹦床, 若不考虑空气阻力, 下列说法错误的是 ( )

- A. 运动员在离开蹦床上升过程中, 蹦床对运动员一定不做功
- B. 运动员在最高时, 速度为零
- C. 运动员在最高点时, 受到的合力为零
- D. 运动员从最高点下落过程中, 重力势能减小

93. 如图, 质量为 65kg 的小李站在重为 3000N 的铁皮船上, 船体与陆地上的树木之间用滑轮组连接, 小李用 60N 的拉力拉绳子 (质量忽略不计) 时, 船体向前匀速移动, 那么船在水中受到的阻力为 ( ) N。




- A. 39
- B. 60
- C. 120
- D. 180

94. 炎热的夏天开车行驶在高速公路上, 常觉得公路远处似乎有水面, 水面上还有汽车。电线杆等物体的倒影, 但当车行驶至该处时, 却发现不存在这样的水面。出现这种现象是因为 ( )

- A. 镜面反射
- B. 漫反射
- C. 直线传播
- D. 折射

95. 地球是一个巨大的磁体, 他的磁场分布情况与一个条形磁铁的磁场分布情况相似。地理南极相当于条形磁铁的 N 极, 地理北极相当于条形磁场的 S 极, 那么上海上空的磁场方向是 ( )



- A. 由南至北斜向下沉  
B. 由南至北斜向上升  
C. 由北至南斜向下沉  
D. 由北至南斜向上升

96. 健康传播是一种将医学研究成果转化为大众的健康知识。并通过大众生活态度和行为方式的改变来降低患病率和死亡率，有效提高一个社区或国家生活质量和健康水准的行为。

根据上述定义，下列不属于健康传播的是（ ）

- A. 社区进行安全避孕宣传  
B. 国家立法禁止香烟广告  
C. 医学界举办学术研讨交流会  
D. 学校开展卫生健康教育

97. 顺应是指当环境发生改变或当生物迁入新环境时，生物对所在环境条件产生的生理适应过程。

根据上述定义，下列体现顺应的是（ ）

- A. 松树冬季的耐寒力由夏季的-8℃变为-30℃  
B. 某些苍蝇由暗处飞到强光下，会不停地地摆头决定方向  
C. 小王转学进入新的学校学习，他更加兴奋了  
D. 参加沟通技巧培训后，小李采用新的方式与他人交流

98. 社区行动是指社区居民为维护自身利益，促进社区的发展和进步而采取的共同行动。

根据上述定义，下列属于社区行动的是（ ）

- A. 志愿者在某社区进行“节水从点滴做起”的宣传活动  
B. 退休工人老王办了社区爱心家政服务队，组织下岗职工的其他居民一起再就业  
C. 某小区居民用联名信的方式投诉小区附近的一家海鲜馆造成的环境卫生问题  
D. 某小区有居民要求物业将绿地改为停车位

99. 传媒接近权是指普通公民或社会组织享有的，有法律规定、认可和保障的，为公开发表、传递自己的意见、主张、观点、情感等内容而使用各种媒介手段与方式，不受任何他人或组织非法干限制或侵犯的权利。

根据上述定义，下列不涉及传媒接近权的是（ ）

- A. 政府召开新闻发布会  
B. 企业在电视上播出产品广告  
C. 某学者在杂志上发表自己的学术观点  
D. 某人在报纸上刊登寻找失物的酬谢广告

100. 能指和所指是索绪尔语言学的一对术语。索绪尔认为，任何语言符号都是由能指和所指构成的。其中，能指是指符号的物质形式，由声音和形象两部分构成；所指是指语言所反映的事物的概念。而意指则代表了能指与所指之间的关系。意指有两个层次，第一层是直接意指，即语言符号形象具有直接的表现性；第二层是含蓄意指，语言符号形象本身没有直接的表现性，如文学创作中的隐喻、象征、引申等。

根据上述定义，下列表述错误的是（ ）

- A. 孩子在公园游玩，看到了五彩缤纷的花朵，喊出了“花”这个字。在这里，被喊出的“花”这个字就是能指  
B. 如果所指是“木本植物的总称”，那么简体中文里的“树”、繁体中文里的“樹”和英语里的“tree”都是对应

这一事物的能指

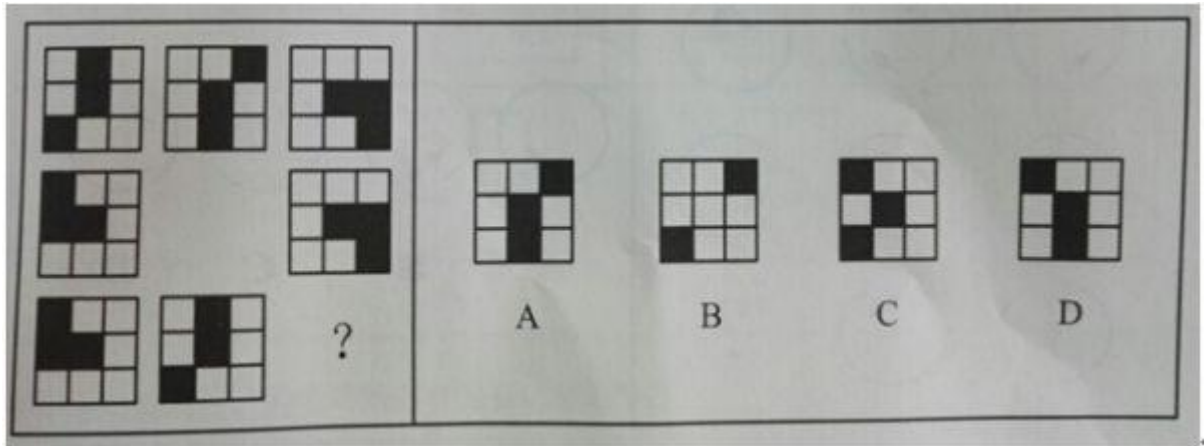
- C. 在网络语言中，网民喜欢用“杯具”来代替“悲剧”。因此，在这里“杯具”二字体现了意指的第一个层次
- D. 在“硕鼠硕鼠，无食我黍”这句诗中具有含蓄意指

101. 生物学家通过对选定的生物物种进行科学研究，用于揭示某种具有普遍规律的生命现象。此时，这种被选定的生物物种就是模式生物。

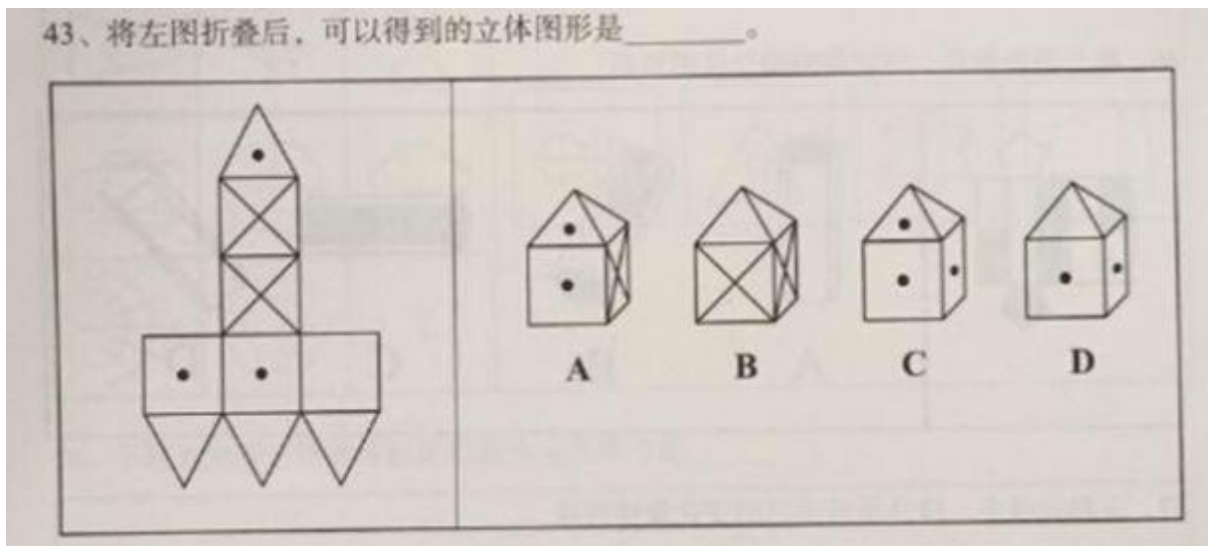
根据上述定义，下列不属于模式生物的是（ ）

- A. 豌豆——孟德尔在揭示生物界遗传规律时选用豌豆作为实验材料
- B. 果蝇——生物学家摩根选用果蝇进行基因的突变进化研究
- C. 白鼠——现代医学研究大量使用白鼠作为实验动物
- D. 病菌——医院进行细菌培养以确认患者的感染病菌类型

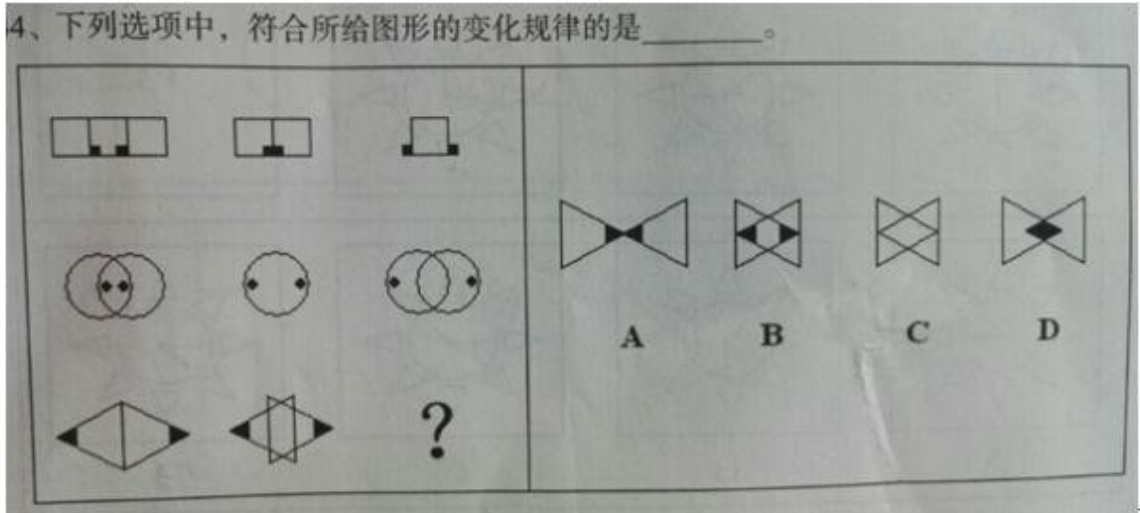
102. 下列选项中，符合所给图形的变化规律的是（ ）



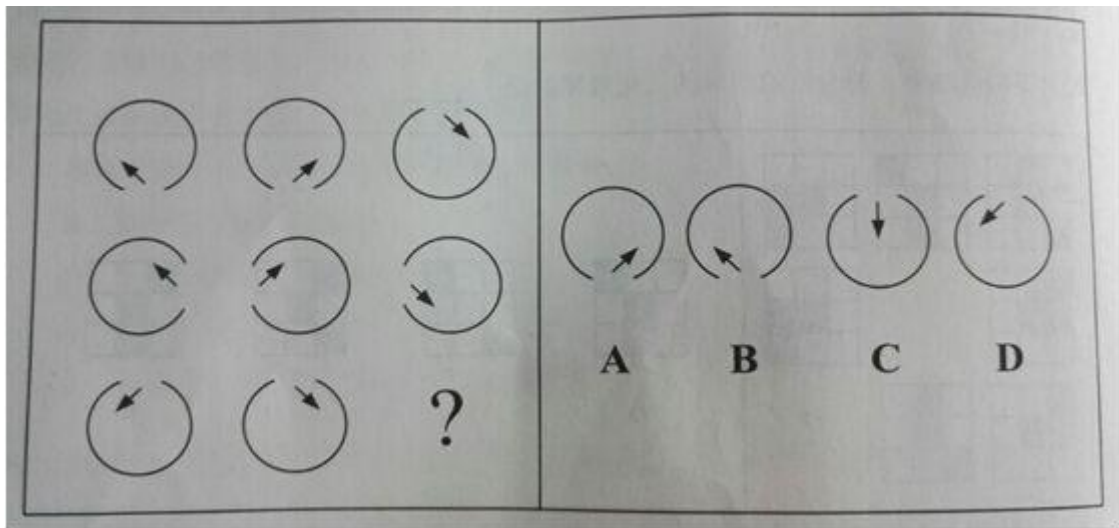
103. 将左图折叠后，可以得到的立体图形是（ ）



104. 下列选项中，符合所给图形的变化规律的是（ ）



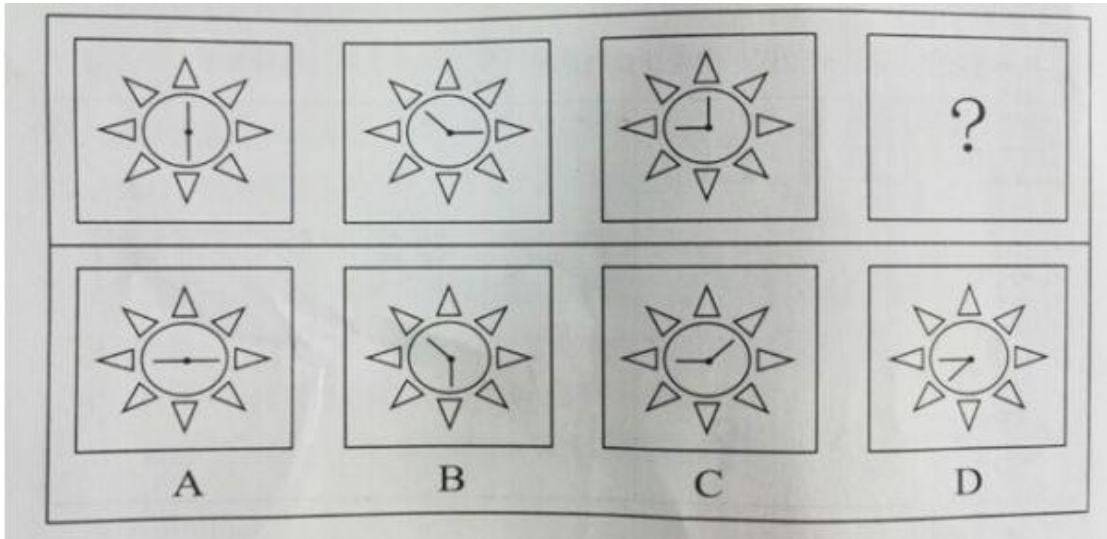
105. 下列选项中，符合所给图形的变化规律的是（ ）



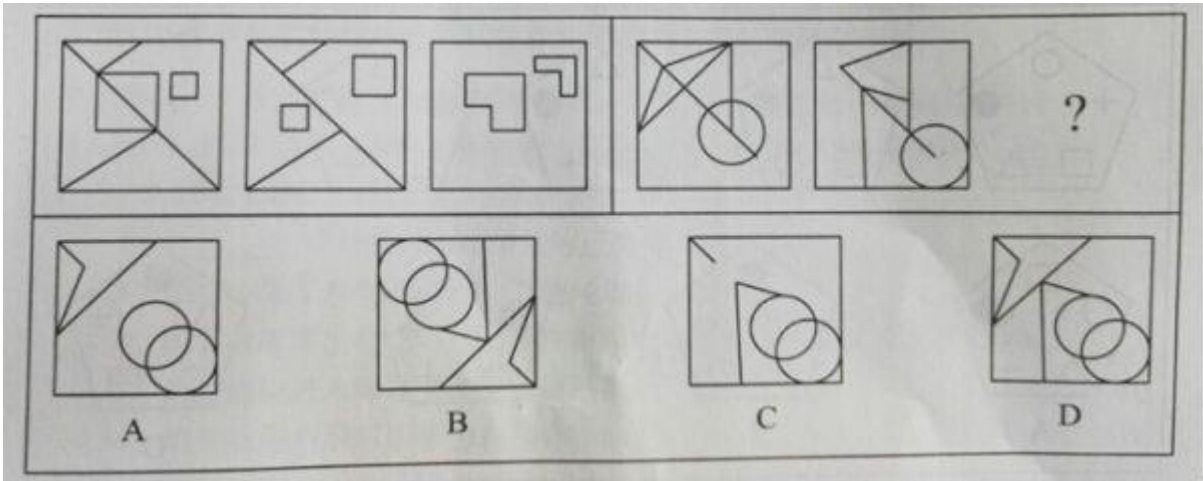
106. 将左图折叠后，可以得到的立体图形是（ ）



107. 下列选项中，符合所给图形的变化规律的是（ ）

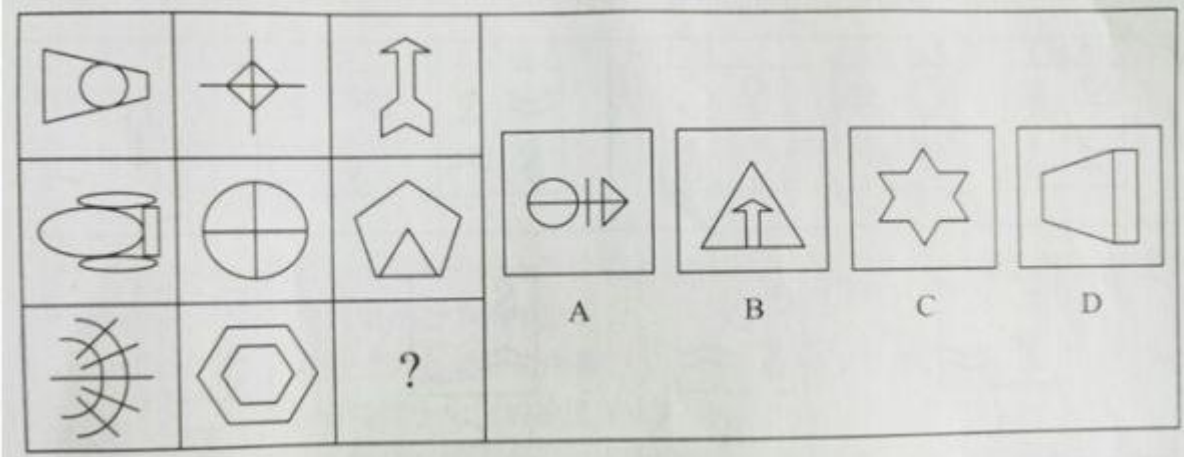


108. 下列选项中，符合所给图形的变化规律的是（ ）

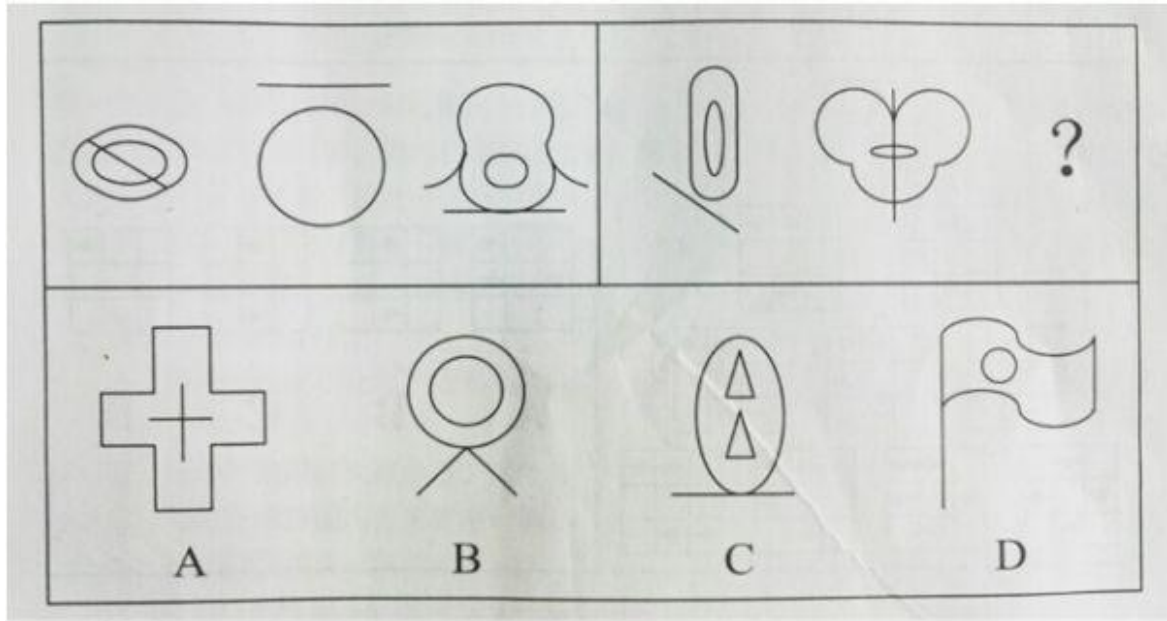


109. 下列选项中，符合所给图形的变化规律的是（ ）

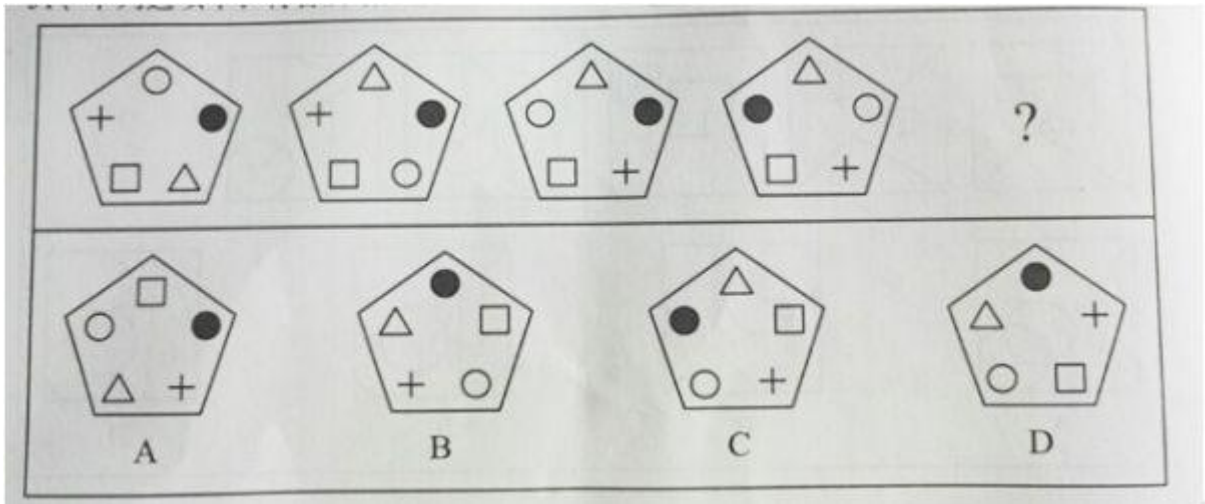
49. 下列选项中，符合所给图形的变化规律的是\_\_\_\_\_。



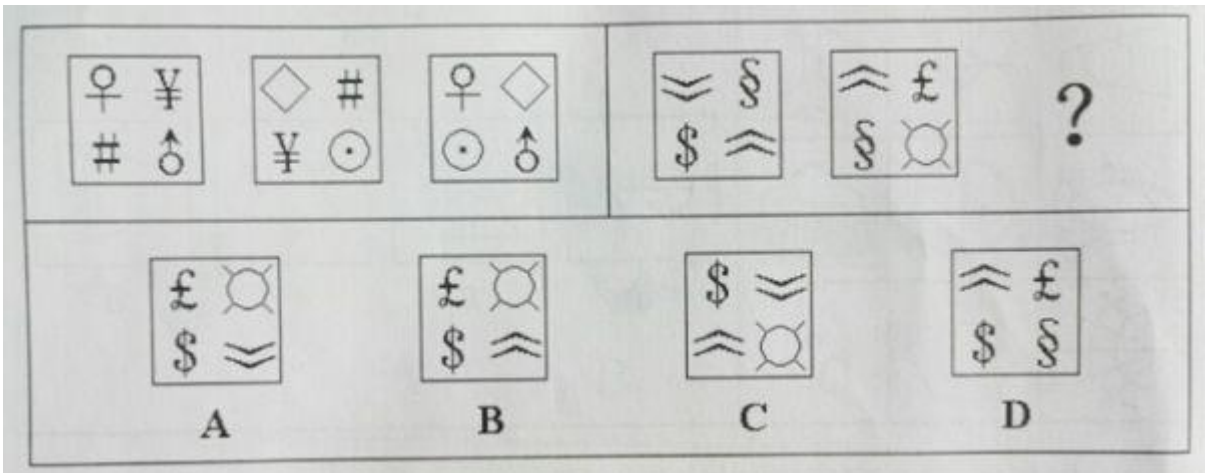
110. 下列选项中，符合所给图形的变化规律的是（ ）



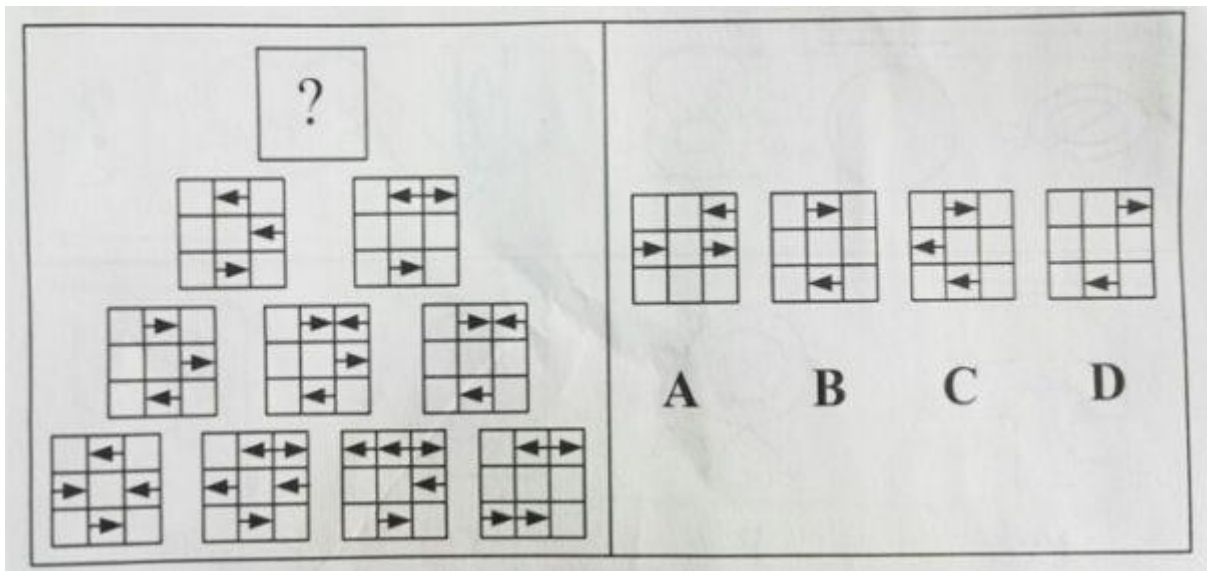
111. 下列选项中，符合所给图形的变化规律的是（ ）



112. 下列选项中，符合所给图形的变化规律的是（ ）



113. 下列选项中，符合所给图形的变化规律的是（ ）



114. 据估计，可能有数以百万吨的塑料漂浮在海洋中。但是一项新研究发现，这些塑料有 99%都消失不见了，研究人员认为大部分消失的塑料可能是被海洋生物吃掉了，并随之进入海洋食物链。

下列哪项最能对上述结论的正确与否进行评价（ ）

- A. 海洋中除了塑料是否还有其他垃圾
- B. 除了被海洋生物吃掉，漂浮在海洋中的塑料是否会以其他形式消失
- C. 是否能说进入海洋食物链的塑料就是“消失”了
- D. 消失的塑料最可能集中在哪些海域

115. 某单位今年新招收了 30 名职工。①新招收的职工里有人是外地的；②新招收的职工里，学历最高的不是外地人；③新招收的职工里有人不是外地的。

如果上述三个判断中只有一个是真的，则下列哪项正确地表示了该单位新招收的职工中外地人的数量？

- A. 只有 1 个人是外地人
- B. 30 名职工都是外地人
- C. 30 名职工都不是外地人
- D. 只有 1 个人不是外地人

116. 近十年来，我国每年授予的博士学位数量出现了持续性的上升，因此可以认为近十年我国研究生人数不断增加。

下列各项中，最能支持上述结论的是（ ）

- A. 近十年来，获得博士学位的难度并未发生变化
- B. 近十年来，我国获得博士学位的人数在研究生总人数中所占的比例不变
- C. 今年申请攻读博士研究生的人数是十年前的 2 倍左右
- D. 今年我国的博士研究生在研究生中仅占 20%左右

117. 由于近年来在化肥、农药施用和管理技术等方面出现问题，我国北方大葱主产地的大葱产量出现明显下降，国内价格快速上涨。要想维持国内价格稳定，就必须严格限制大葱出口。因为从事大葱出口贸易的企业的出口合同都是在低价位时签订的，如果在大葱价格大幅上涨时继续履行合同，这些企业就会出现严重亏损。但是，如果严格限制大葱出口，我国在国际大葱市场所占有的份额就将被其他国家或地区所取代。

如果以上陈述为真，下列哪项一定为真（ ）

- A. 如果不是出现化肥、农药施用和管理技术等方面的问题，就不会严格限制大葱出口
- B. 如果严格限制大葱出口，国内大葱价格就不会继续上涨
- C. 如果要维持国内大葱价格的稳定，就会失去我国在国际大葱市场所占有的份额
- D. 为了避免损失，从事大葱出口贸易的企业肯定会积极游说政府制定严格限制大葱出口的政策



118. 某国人口统计机构预测, 到 2031 年, 该国人口将降到 1.27 亿以下, 在今后 40 年的人口将减少 2400 万, 为此, 该国政府出台一系列鼓励生育的政策。近年来, 该国人口总数趋于稳定, 截至 2014 年 6 月 1 日, 人口数量为 1.461 亿。2014 年 1 至 5 月人口增长量为 5.91 万, 增长率为 0.04%。因此, 有专家认为该国实施的鼓励生育政策达到了预期的效果。

下列选项如果为真, 最能加强上述观点的是 ( )

- A. 如果该国政府没有出台鼓励生育的政策, 儿童人口总数会持续下降
- B. 如果该国政府出台更加有效的鼓励生育政策, 就可以提高人口质量
- C. 近年来该国人口总数出现缓慢上升的趋势
- D. 该国政府出台的鼓励生育政策是一项长期国策

119. 教育主管部门应该制定政策, 要求从小学就开设逻辑课程, 否则学生就难以对现有的知识体系与价值观念展开反思、提出质疑, 而逻辑课程能够帮助学生从小养成进行反思、提出质疑的习惯, 提高相应的能力。

上述议论预设了下列哪项假设 ( )

- I 除非从小学开始学习逻辑, 否则学生难以区分真善美与假恶丑
  - II 即使在小学阶段, 学生也有能力理解并运用某些逻辑理论与方法
  - III 学生对现有的知识体系与价值观念展开反思、提出质疑, 这本身是一件好事
- A. I
  - B. III
  - C. II 和 III
  - D. I、II 和 III

120. 某年, 冀城、豫城、徐城、兖城、青城等五座城市的游客数量比往年偏多, 这些城市分别有着不同的地理环境和旅游资源: 险峻的高山、茂密的森林、平坦的草原、辽阔的大海和幽静的河谷。该年前往上述五座城市的游客量(人次/年)分别是: 12 万、27 万、32 万、44 万、65 万。已知:

- (1) 草原中的城市对游客的吸引力最小, 最受欢迎的旅游目的地是森林
- (2) 徐城在大山中, 交通不方便, 但是来此旅游的人却不少
- (3) 冀城的游客量比兖城多
- (4) 兖城的游客量是 44 万人次, 创历史新高
- (5) 前往豫城的游客比青城多, 但是没有徐城多

根据上述条件, 可以推出青城的特色旅游资源是 ( )

- A. 幽静的河谷
- B. 茂密的森林
- C. 平坦的草原
- D. 辽阔的大海

121. 小陈因不具有研究生身份而被图书馆工作人员拒绝进入古籍书库。小陈出示古籍善本书库出入证说: 根据规定, 我可以进入古籍书库。古籍书库的规定是: 不是研究生不能进入古籍书库; 只有持有古籍善本书库出入证, 才能进入古籍善本书库。

小陈最有可能把古籍书库的规定理解为 ( )

- A. 准许进入古籍书库的人, 不一定准许进入古籍善本书库
- B. 有了古籍善本书库出入证, 就不需要研究生身份
- C. 如果持有古籍善本书库出入证, 就能进入古籍书库
- D. 除非持有古籍善本书库出入证, 否则不能进入古籍善本书库

122. 在过去五年里, xx 型高速列车先后发生了 4 次脱轨事故。针对 xx 型高速列车存在设计缺陷的公众质疑, 该型号的列车制造商提出反驳: 调查表明, 每一次脱轨事故都是由于驾驶员违反操作规程而导致的。

列车制造商的反驳是基于下列哪项假设 ( )

- A. 在质疑 xx 型高速列车存在设计缺陷时, 公众并没有明确指出究竟存在何种缺陷

- B. 过去五年里，高速列车的脱轨事故并不都是由于驾驶员违反操作规程而导致的
- C. 调查人员有能力弄清楚脱轨事故究竟是由于列车设计缺陷还是由于列车制造方面的问题导致的
- D. xx 型高速列车不存在任何能导致驾驶员违反操作规程的设计缺陷

123. 某经济学院从国外引进了 30 种教材，其中，金融类教材 12 种，非金融类的英文教材 10 种，从美国引进的非金融类教材 7 种，从美国以外国家引进的非英文教材 9 种。

根据上文，可以推知（ ）

- A. 从美国引进的、非英文的金融类教材不超过 8 种
- B. 从美国引进的、非英文的金融类教材至少有 8 种
- C. 从美国以外国家引进的、非英文的金融类教材不超过 8 种
- D. 从美国以外国家引进的、非英文的金融类教材至少有 8 种

124. 某文学期刊网站的栏目设置通常根据读者反馈与浏览量的情况随时调整。去年九月，一批新栏目出现在改版后的网站上。其中，5 个栏目是喜剧幽默类的连载，3 个栏目是长篇类科幻小说连载，2 个栏目是文学批评类的内容。到今年一月，这些新上线的栏目只有 7 个还在继续更新，其中 5 个是喜剧幽默类的连载。

如果上述陈述为真，下列哪项可以从题干中推出（ ）

- A. 只有 1 个文学批评类的栏目还持续更新
- B. 只有 1 个长篇科幻类小说的栏目还持续更新
- C. 至少有 1 个长篇科幻类小说的栏目已经下线
- D. 相比于文学批评类的内容，读者们更喜欢喜剧幽默类的连载

125. 经过全力检测和排查，疾控中心的专家确定如下事实：

- (1) 如果将某和张某都感染了 H7N9 新型禽流感病毒，则李某没有被感染
- (2) 李某感染了 H7N9 新型禽流感病毒，而且王某的陈述正确；
- (3) 只有王某的陈述不正确，张某才没有感染 H7N9 新型禽流感病毒

由上述事实可以推出（ ）

- A. 蒋某没有感染 H7N9 新型禽流感病毒，张某感染了
- B. 蒋某和李某都感染了 H7N9 新型禽流感病毒
- C. 李某和王某都感染了 H7N9 新型禽流感病毒
- D. 蒋某感染了 H7N9 新型禽流感病毒，张某没有感染

## 第五部分 资料分析

(一) 根据下列资料，回答 126~130 题。

图1 2004-2013年全国技术合同成交金额及其占GDP的比重

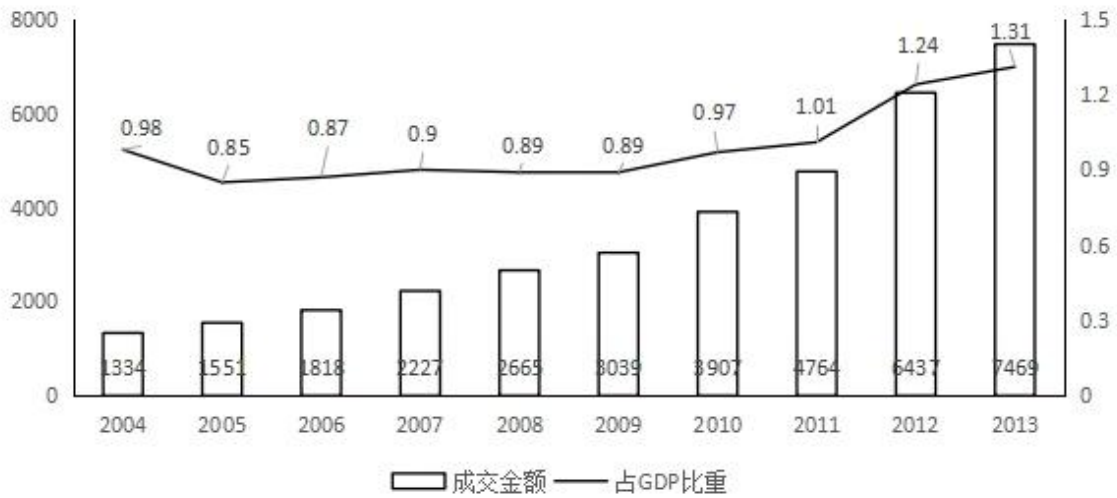
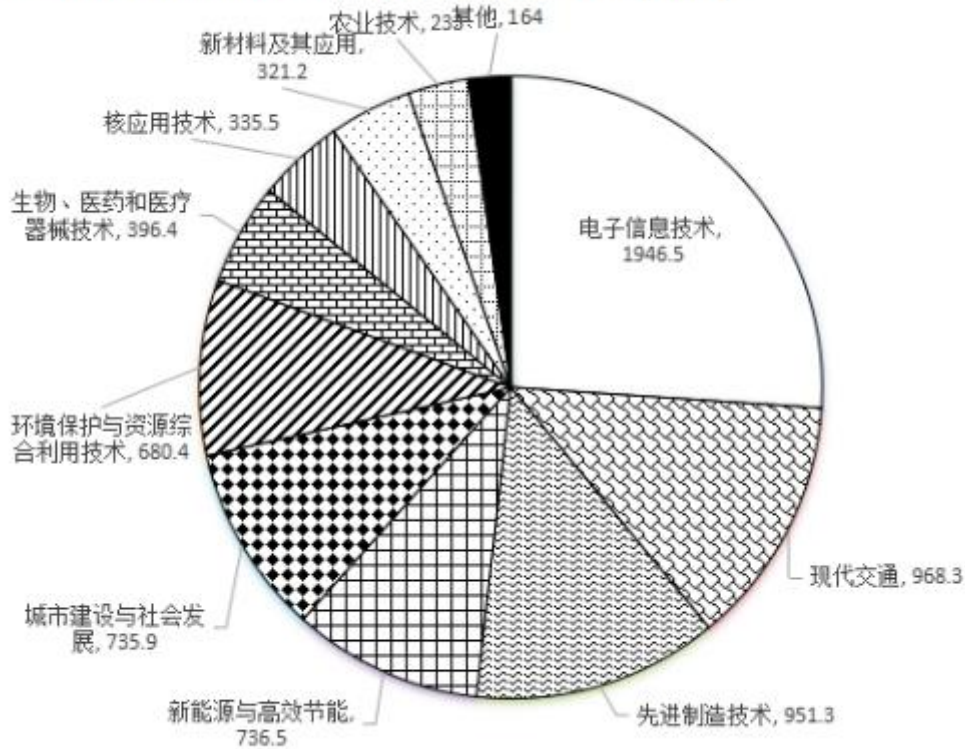


图2 2013年全国技术合同成交金额按技术领域分布 (亿元)



126. 2005-2013年, 全国技术合同成交金额增速超过GDP增速的年份有( )个。  
 A. 3                                      B. 4                                      C. 5                                      D. 6
127. “十一五”期间(2006-2010年), 全国技术合同成交总金额( )  
 A. 低于1万亿元                                      B. 在1~1.5万亿元之间  
 C. 在1.5~2万亿元之间                                      D. 高于2万亿元
128. 2013年新能源与高效节能技术合同成交金额约占当年GDP的( )  
 A. 0.02%                                      B. 0.06%                                      C. 0.13%                                      D. 0.20%
129. 2013年有( )个技术领域的技术合同成交金额高于2012年技术合同成交总金额的10%。  
 A. 6                                      B. 4                                      C. 3                                      D. 2

130. 能够从上述资料中推出的是 ( )

- A. 2005 年~2013 年, 技术合同成交金额同比增量最大的是 2013 年
- B. 2004 年~2013 年, 技术合同成交金额占 GDP 比重最高和最低的年份相差 4 年
- C. 有 5 个技术领域 2013 年的技术合同成交金额不足当年电子信息技术合同成交金额的两成。
- D. 2013 年现代交通技术合同成交金额占当年技术合同成交总金额的比重不到 15%。

(二) 根据下列资料, 回答 131~135 题。

2013 年全国水稻种植面积达 4.55 亿亩, 比上年增加 260 多万亩。但由于强降雨及洪涝灾害, 总产量较上年减少 62 万吨, 总产量为 20361 万吨。下图反映的是 2008 年至 2012 年我国水稻每亩的产值情况及水稻生产的主要成本构成情况。

注: 产值合计等于总成本与净利润之和。

图 2008-2012 年全国水稻每亩的产值情况 (元/亩)

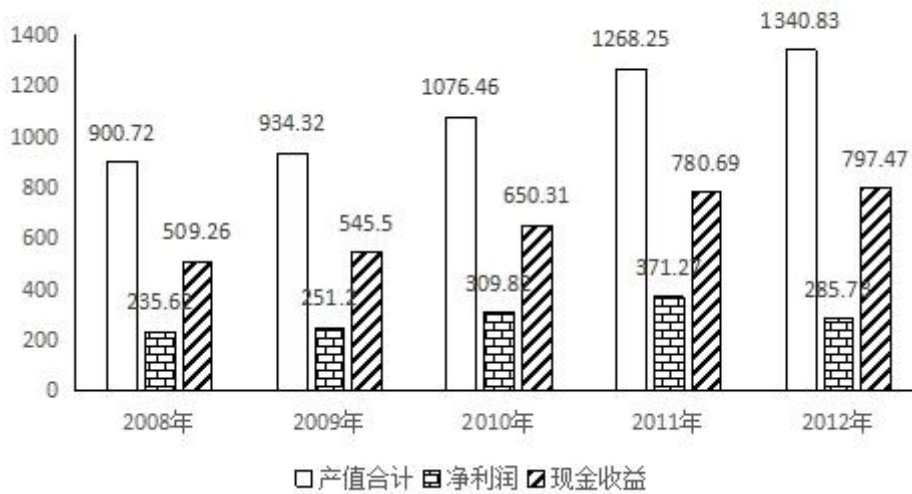


表 2008-2012 年水稻生产的主要成本构成

单位: 元/亩

	2008 年	2009 年	2010 年	2011 年	2012 年
种子	26.27	29.48	36.17	42.51	48.32
化肥	124.02	108.22	105.98	124.15	133.57
农药	42.37	40.69	43.17	44.51	48.97
机械作业费	81.79	87.71	104.87	125.04	147.14
人工成本	214.65	226.82	266.58	327.96	426.62
土地成本	109.04	122.53	141.43	159.68	174.97

131. 2013 年我国水稻种植面积比 2012 年增长约 ( )

- A. 5.75%
- B. 5.75‰
- C. 2.75%
- D. 2.75‰

132. 2013 年我国水稻的亩产约为 ( ) 千克

- A. 448
- B. 455
- C. 433
- D. 463

133. 2012 年生产水稻的人工成本占总成本的百分比约为 ( )

- A. 35%
- B. 40%
- C. 45%
- D. 50%

134. 将水稻生产的主要成本按 2008-2012 年年均增速从高到低排序, 下列位次与项目对应正确的是 ( )

- A. 第 1: 土地
- B. 第 3: 种子
- C. 第 4: 农药
- D. 第 6: 化肥

135. 关于 2008-2012 年每亩水稻生产的主要成本, 下列说法正确的是 ( )

- A. 从每亩水稻生产升本构成上看, 2011-2012 年增幅最大的是机械作业费
- B. 2008-2012 年, 表中各项成本的变化趋势是相同的
- C. 2012 年, 表中排名前三项的成本总和未超过总成本的 70%
- D. 每亩水稻的生产成本中, 种子成本始终是最小的

(三) 根据下列资料, 回答 136-140 题。

图 2005-2014 年我国城镇和乡村人口数量

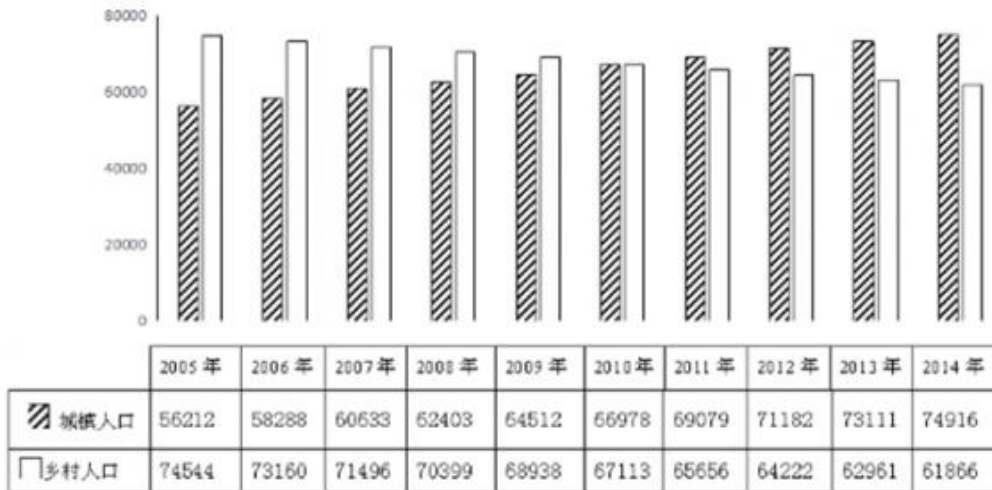


表 部分国家和地区城镇化率

国家	1970 年	1980 年	1990 年	2000 年	2010 年	2011 年
世界	36.54	39.32	42.88	46.61	51.52	51.99
高收入国家	68.78	71.77	74.10	76.53	80.23	80.50
上中等收入国家	32.45	36.57	43.39	50.63	59.75	60.62
中等收入国家	28.82	32.66	37.88	42.92	48.99	49.58
低收入国家	14.82	18.61	21.48	24.26	27.60	28.00
美国	73.60	73.74	75.30	79.09	82.14	82.38
日本	71.88	76.18	77.34	78.65	90.54	91.14
德国	72.27	72.84	73.12	73.07	73.82	73.94
俄罗斯	62.47	69.75	73.39	73.35	73.65	73.82
巴西	55.91	65.47	73.92	81.19	84.34	84.60
印度	19.76	23.10	25.55	27.67	30.93	31.30
韩国	40.70	56.72	73.84	79.62	82.93	83.20

136. 城镇化率是指城镇人口占总人口的比重, 2012 年我国的城镇化率约为 ( )
- A. 47.5%
  - B. 50.5%
  - C. 52.5%
  - D. 56.5%
137. 如所有数据均为年末数据, 则“十一五”期间 (2006-2010 年), 我国平均每年约新增 ( ) 人口。
- A. 不到 500 万
  - B. 500 多万
  - C. 600 多万
  - D. 700 万以上

138. 2011 年，我国的城镇化率处于（ ）类国家的水平。

- A. 高收入国家
- B. 上中等收入国家
- C. 中等收入国家
- D. 低收入国家

139. 1990~2010 年，下列各国中（ ）每万人中城镇人口数量增长最多。

- A. 美国
- B. 巴西
- C. 印度
- D. 韩国

140. 根据所给资料，下列表述正确的是（ ）

- A. 2010 年起，我国城镇化率首次超过 50%
- B. 韩国城镇化率增量最高是在上世纪 80 年代
- C. 1970~2010 年，德国的城镇化率每年均比上一年有所增长
- D. 中等收入国家 2010 年的城镇化率高于上中等收入国家 10 年前的水平

**温馨提示：****2018 年公考通网校重新起航****系统班+考前直播冲刺班+一对一申论批改班+面试通关课程  
更多好课等你挑选！****【参考答案与解析】**

1. **【解析】**ABCD。十八届五中全会提出，坚持协调发展，必须牢牢把握中国特色社会主义事业总体布局，正确处理发展中的重大关系，重点促进城乡区域协调发展，促进经济社会协调发展，促进新型工业化、信息化、城镇化、农业现代化同步发展，在增强国家硬实力的同时注重提升国家软实力，不断增强发展整体性。因此，本题 ABCD 项正确。

2. **【解析】**ACD。李克强同志在全国推进简政放权放管结合职能转变工作电视电话会议上的讲话指出，政府在减权放权的同时，要以刚性的制度来管权限权，厉行法治，依法行政，建设法治政府。要坚持职权法定原则，加快建立“三个清单”，划定政府与市场、企业、社会的权责边界。以权力清单明确政府能做什么，“法无授权不可为”；以责任清单明确政府该怎么管市场，“法定职责必须为”；以负面清单明确对企业的约束有哪些，“法无禁止即可为”。通过建立“三个清单”，依法管好“看得见的手”，用好“看不见的手”，挡住“寻租的黑手”。故本题答案选 ACD。

3. **【解析】**C。《中国共产党统一战线工作条例（试行）》第十二条政党协商主要采取会议协商、约谈协商、书面协商等形式。因此，本题 C 项正确。

4. **【解析】**C。习近平总书记主持召开了中央全面深化改革领导小组第十次会议，在此次会议上他强调，要“处理好改革‘最先一公里’和‘最后一公里’的关系，突破‘中梗阻’，防止不作为，把改革方案的含金量充分展示出来，让人民群众有更多获得感。因此，本题 C 项正确。

5. **【解析】**ABD。2014 年 12 月 23 日上午，国务院副总理马凯代表国务院向第十二届全国人大常委会第十二次会议做了关于统筹推进城乡社会保障体系建设工作情况的报告。报告中首次明确，机关事业单位养老保险制度改革方案，已经国务院常务会议和中央政治局常委会审议通过。改革的基本思路是一个统一、五个同步。“一个统一”，即党政机关、事业单位建立与企业相同基本养老保险制度，实行单位和个人缴费，改革退休费计发办法，从制度和机制上化解“双轨制”矛盾。“五个同步”，即机关与事业单位同步改革，职业年金与基本养老保险制度同步建立，养老保险制度改革与完善工资制度同步推进，待遇调整机制与计发办法同步改革，改革在全国范围同步实施。因此，本题 ABD 正确。

6. **【解析】**AB。2015 年 2 月 25 日，国务院总理李克强主持召开了国务院常务会议，会议确定了多项调控政策。既有传统的投资拉动政策，也注意到创业、创新和人才等新引擎的培育，体现了打造“双引擎”的思路。双引擎主要是指：一方面，充分发挥市场在资源配置中的决定性作用，培育打造新引擎，推动大众创业、万众创新；另一方面，更好发挥政府作用，改造升级传统引擎，增加公共产品、公共服务供给。因此，本题 AB 项正确。

7. **【解析】**ABC。亚洲基础设施投资银行（简称亚投行）是一个政府间性质的亚洲区域多边开发机构，重点支持基础设施建设，成立宗旨在促进亚洲区域的建设互联互通化和经济一体化的进程，并且加强中国及其他亚洲国家和地区的合作。总部设在北京。2015 年 3 月 12 日，英国正式申请作为意向创始成员国加入亚投行，成为首个申请加入亚投行的欧洲国家，也是首个申请加入亚投行的主要西方国家。因此，本题 ABC 项正确。

8. **【解析】**A。按照宪法规定，各级国家行政机关实行首长负责制。国务院实行总理负责制，各部委实行部长、主任负责制，按照现行宪法和《地方组织法》规定，地方各级人民政府分别实行省长、自治区主席、市

长、州长、县长、区长、乡长、镇长负责制。因此，本题 A 项正确。

9. 【解析】B。《公务员法》中规定予以辞退的情形：①在年度考核中，连续两年被确定为不称职的；②不胜任现职工作，又不接受其他安排的；③因所在机关调整、撤销、合并或者缩减编制员额需要调整工作，本人拒绝合理安排；④不履行公务员义务，不遵守公务员纪律，经教育仍无转变，不适合继续在机关工作，又不宜给予开除处分的；⑤旷工或者因公外出、请假期满无正当理由逾期不归连续超过十五天，或者一年内累计超过三十天的。

不得辞退的情形：①因公致残，被确认丧失或者部分丧失工作能力的；②患病或者负伤，在规定的医疗期内的；③女性公务员在孕期、产假、哺乳期内；④法律、行政法规规定的其他不得辞退的情形。

本题中 AC 项符合予以辞退的情形，D 项符合不得辞退的情形，B 项是因私受伤不符合不得辞退的情形，因此本题 B 项错误。

10. 【解析】B。指行政机关为达到维护与增进公共利益，实现行政管理目标之目的，与相对人之间经过协商一致达成的协议。行政合同以双方意思表示一致为前提。在行政合同之中，行政主体并非以民事法人的身份而是行政主体的身份与行政相对人订立关于民事权利义务的协议，以合同的方式来达到维护与增进公共利益的目的。在其间行政主体享有行政优益权。具体体现为对合同履行的监督权、指挥权、单方变更权和解除权。当然，行政主体只有在合同订立后出现了由于公共利益的需要或法律政策的重大调整，必须变更或解除时，才能行使单方变更、解除权。由此造成相对人合法权益损害的，要予以补偿。行政合同双方当事人在行政管理关系中的权利地位是不平等的。行政主体在行政合同的缔结过程中处于优先要约的地位。行政机关在行政合同的履行、变更或解除方面享有行政优益权，行政机关可以根据国家行政管理的需要，单方依法变更或解除合同，行政管理的相对人则不享有此种权利，是处于被动地位的行政管理相对人。因此，本题 ACD 说法正确。答案选择 B 项。

11. 【解析】D。本题考查的是行政法的基本原则：行政合法性原则是指行政权的存在、行使必须依据法律、符合法律，不得与法律相抵触。A 项说法与题干无关。合理行政原则，即行政机关做出的行政行为内容要客观、适度、符合合理性。B 项说法与题干无关。程序正当是当代行政法的主要原则之一。它主要包括：程序的控制要公开；公众参与原则；回避原则。C 项说法与题干无关。信赖保护原则，非因法定事由并经法定程序，行政机关不得撤销、变更已经生效的行政（许可）决定。行政许可所依据的法律、法规、规章修改或者废止，或者准予行政许可所依据的客观情况发生重大变化的，为了公共利益的需要，行政机关可以依法变更或者撤回已经生效的行政许可。为此给公民、法人或者其他组织造成财产损失的，行政机关应当依法给予补偿。因此本题选择 D。

12. 【解析】ACD。2015 年通过的《立法法》第七十一条规定：行政法规签署公布后，及时在国务院公报和中国政府法制信息网以及在全国范围内发行的报纸上刊载。在国务院公报上刊登的行政法规文本为标准文本。故本题的答案为 ACD。

13. 【解析】ABC。2014 年 11 月 6 日，国新办举行深入推进依法行政、加快建设法治政府有关情况新闻发布会。发布会确定了重大行政决策的五个法定程序：第一，老百姓参与。第二，请专家论证。第三，风险评估。第四，进行合法性审查。第五，集体讨论决定，而不是行政领导一个人拍脑袋。因此 AB 选项正确。政府规章是省、自治区、直辖市和较大的市的人民政府根据法律、行政法规和本省、自治区、直辖市的地方性法规拟订，并经各该级政府常务会议或者全体会议讨论决定的法律规范形式。《上海市起立取缔涉渔“三无”船舶专项行动工作方案》由直辖市上海市人民政府制定，并经本级政府常务会议决定。因此属于政府规章。所以 C 正确。当事人对抽象行政行为不服的，不得直接向法院提起诉讼。但是，对行政机关的规范性文件不服，可以在就相关行政行为提起行政诉讼的同时，一并请求法院予以审查，故 D 错误。综上，本题的正确答案为 ABC。

14. 【解析】ABCD。公共财政建设的首要任务是推行部门预算，将部门所有收支指均纳入财政预算管理。



当务之急是进一步明确预算管理职权，切实做好预算管理。因此，D 正确。与此同时，我国预算管理的职权权限需要根据国家的法律法规和方针政策来确定。因此，A 正确。我国预算分为中央预算和地方各级政府预算，在预算编制过程中，应当参考上一年度公共预算的执行情况和本年度收支预测，便按照复式预算进行编制。因此 BC 正确。综上所述，本题的正确答案为 ABCD。

15. 【解析】ABCD。行政制度自从产生以来，就起着规范行政权力运作的作用。第一，行政制度确认行政权力是相对权力的国家权力，主要由行政机关享有和行使，行政机关行使职权的活动不得受到非法干预和阻挠。第二，行政制度保障行政权力对行政相对人的有效行使。第三，行政制度规定行政活动的程序，从而使行政活动有章可循，增强行政后果的可预见性。第四，行政制度规定对行政权力主体进行监督的范围和方式。总之，行政制度的重要功能在于保证行政权力合法、适当、有效地运行。故本题答案选 ABCD。

16. 【解析】C。PP 粉又称高锰酸钾。因为这种药物的拉丁文名称中有两个 P 字，所以称它为 PP 粉。PP 粉即高锰酸钾（俗称灰锰氧），它具有较强的氧化作用，是皮肤科、五官科、外科及妇产科最常用的消毒剂。这种效高、安全、价廉的消毒药很适合于家庭中使用，A 正确。干冰是固态的二氧化碳，在 6250.5498 千帕压力下，把二氧化碳冷凝成无色的液体，再在低压下迅速蒸发而得到，所以 B 正确。小苏打，即碳酸氢钠（Sodium Bicarbonate），俗称“小苏打”、“苏打粉”、“重曹”，白色细小晶体，在水中的溶解度小于碳酸钠。是一种工业用化学品，可能存在毒性。固体 50℃ 以上开始逐渐分解生成碳酸钠、二氧化碳和水，440℃ 时完全分解。碳酸氢钠是强碱与弱酸中和后生成的酸式盐，溶于水时呈现弱碱性。此特性可使其作为食品制作过程中的膨松剂。碳酸氢钠在作用后会残留碳酸钠，使用过多会使成品有碱味。因此，C 不正确。过氧化氢化学式为 H<sub>2</sub>O<sub>2</sub>，俗称双氧水。外观为无色透明液体，是一种强氧化剂，其水溶液适用于医用伤口消毒及环境消毒和食品消毒。所以 D 正确。因此本题正确答案为 C。

17. 【解析】AC。干手器的工作原理一般为传感器检测到信号（手），此信号控制打开加热电路继电器及吹风电路继电器，开始加热、吹风。当传感器检测的信号消失时，释放触点，加热电路及吹风电路继电器断开，停止加热、吹风。所以 A 正确。热风干手器吹的是热风，之所以使用时感觉手由冷变热的原因在于，手上的水分遇热蒸发，带走手上的热量，因此会现有冷的感觉。所以 B 错误。热风干手器工作的原理是它吹出热风，流动的热风加快了手表面液体表面空气流速，且热风提高了液体的温度，从而加快了液体的蒸发。所以 C 正确。干手器吹出的热风仅仅使手周围的湿度降低，而不是整个室内的湿度，所以 D 选项错误。因此，本题的正确答案为 AC。

18. 【解析】D。淞沪会战（又称八一三战役，日本称为第二次上海事变），是中日双方在抗日战争中的第一场大型会战，也是整个中日战争中进行的规模最大、战斗最惨烈的一场战役。淞沪会战中日军因遭到国民党的顽强抵抗而损失惨重，为后来日军复仇制造南京大屠杀埋下了伏笔。这场战役对于中国而言，标志两国之间不宣而战、但又全面战争的真正开始，卢沟桥事变后的地区性冲突升级为全面战争，并彻底粉碎了日本“三个月灭亡中国”计划。因此，本题答案为 D。

19. 【解析】ACD。大数据的应用主要有以下四个方面：第一，对大数据的处理分析正成为新一代信息技术融合应用的结点。移动互联网、物联网、社交网络、数字家庭、电子商务等是新一代信息技术的应用形态，这些应用不断产生大数据。将创造出巨大的经济和社会价值。第二，大数据是信息产业持续高速增长的新引擎。在软件与服务领域，大数据将引发数据快速处理分析、数据挖掘技术和软件产品的发展。第三，大数据利用将成为提高核心竞争力的关键因素。各行各业的决策正在从“业务驱动”转变“数据驱动”。对大数据的分析可以使零售商实时掌握市场动态并迅速做出应对。因此 ACD 选项正确。个人数据安全也一直备受社会关注，从密码泄露到涉嫌恶意收集用户隐私，数据安全问题挑战着相关行业的商业道德底线。因此，如何保证数据的真实性和相关群体信息的安全性，是国家今后重点解决的焦点。因此 B 错误。所以本题答案为 ACD。

20. 【解析】D。分析其原因，主要有以下四个方面：

一是由于社会的发展和经济活动显著增多，如城市地下水过度使用导致地面下沉，地下设施增多，防洪难度加大、新城区扩建，地势低洼，泄洪能力差等造成出现灾害所受损失的机会大大增加；

二是由于城市化进程的加快，改变了城市的局地气候条件，城市产生的“热岛效应”，使城市上空空气对流发展很旺盛，容易引起发生强对流天气，造成城市地区频繁出现暴雨或降水量增大；

三是由于城市建筑所用的水泥材料及柏油路面等渗水能力低，蒸发很少。一些城市虽建有排水设施，但排水能力有限，遇有大暴雨天气，雨水多而集中，下水道往来不及排水，这也是造成城市大面积水害的重要原因之一；AB正确。

四是随着经济社会的发展，城市面积越来越大的是的旧城市周边的排水和蓄洪的湖泊、洼地、池塘和河沟不断被填平。还有城市的开发，不断的侵占河道滩地，造成人为障碍，加上严重的城市水土流失导致河道淤积，行洪能力大大降低。C正确。

台风是我国东部沿海城市暴雨洪涝灾害的主要原因，而不是所有城市暴雨洪涝灾害的主要原因，因此D错误。

21. 【解析】D。科学上有两种时间计量系统：基于地球自转的天文测量而得出的“世界时”和以原子振荡周期确定的“原子时”。“世界时”由于地球自转的不稳定（由地球物质分布不均匀和其它星球的摄动力等引起的）会带来时间的差异，“原子时”（一种较恒定的时制，由原子钟得出）则是相对恒定不变的。这两种时间尺度速率上的差异，一般来说一至二年会差大约1秒时间。因此，本题D项正确。

22. 【解析】AD。多次爆炸是粉尘爆炸的最大特点。

第一次爆炸气浪，会把沉积在设备或地面上的粉尘吹扬起来，在爆炸后短时间内爆炸中心区会形成负压，周围的新鲜空气便由外向内填补进来，与扬起的粉尘混合，从而引发二次爆炸。二次爆炸时，粉尘浓度会更高。因此，A项正确。物质的燃烧热越大，则其粉尘的爆炸危险性也越大，例如煤、碳、硫的粉尘等；越易氧化的物质，其粉尘越易爆炸，例如镁、氧化亚铁、染料等；越易带电的粉尘越易此起爆炸。因此，B项不正确。与可燃性气体爆炸相比，粉尘爆炸压力上升较缓慢，较高压力持续时间长，释放的能量大，破坏力强。因此，C项不正确。一般比较容易发生爆炸事故的粉尘大致有铝粉、锌粉、硅铁粉、镁粉、铁粉、铝材加工研磨粉、各种塑料粉末、有机合成药品的中间体、小麦粉、糖、木屑、染料、胶木灰、奶粉、茶叶粉末、烟草粉末、煤尘、植物纤维尘等。因此，选项D正确。

23. 【解析】ABC。当车轮行至两根钢轨接缝时，车轮踏面的一部分压在第一根钢轨上的同时，车轮踏面的另一部分同时压在第二根钢轨上了，使两根钢轨同时受力，使车轮平滑通过两钢轨接缝处，不产生振动。减少了噪音污染，增加旅客的平稳、舒适感。因此，选项A、C正确。与普通铁轨相比，无缝铁轨由于消除了大量钢轨接头，因而消除了接头冲击力，减少了线路损害，磨损大大减少，线路维修可节约费用30%—75%。因此，选项B正确。无缝钢轨焊接中的应力放散工序能防止无缝钢轨热胀冷缩，即把钢轨内部的应力均匀分布到钢轨上，防止在温度过低时断轨，温度过高时胀轨。因此，选项D不正确。

24. 【解析】CD。在中国西北部有三大盆地：准噶尔、塔里木、柴达木盆地。因此选项A不正确。高原的海拔高，空气稀薄，大气对太阳辐射的削弱作用弱，所以太阳辐射强。但云贵高原为我国太阳能贫乏地区，原因是阴雨天数多，云雾大，较多地削弱了太阳辐射，B项说法错误。长江中下游平原由长江冲积而成，属于冲积平原。因此，选项C正确。山地，属地质学范畴，地表形态按高程和起伏特征定义为海拔500米以上，相对高差200米以上。我国的山地大多分布在西部，喜马拉雅山、昆仑山、唐古拉山、天山、阿尔泰山都是著名的大山。因此，选项D正确。

25. 【解析】ABD。三顾茅庐：汉末刘备三次诚访诸葛亮出山辅佐的故事。此后传为佳话，渐成典故，载《三国志·蜀志·诸葛亮传·出师表》。现在常用来比喻真心诚意，一再邀请、拜访有专长的贤人。吴下阿蒙，指三国吴之名将吕蒙，后亦以讥缺少学识、文才者。语出《三国志·吴志·吕蒙传》。闻鸡起舞：原意为听到鸡叫

就起来舞剑，后比喻有志报国的人及时奋起。典出自《晋书·祖逖传》：传说东晋时期将领祖逖年轻时就很有抱负，每次和好友刘琨谈论时局，总是慷慨激昂，满怀义愤，为了报效国家，他们在半夜一听到鸡鸣，就披衣起床，拔剑练武，刻苦锻炼。乐不思蜀：很快乐，不思念蜀国。比喻在新环境中得到乐趣，不再想回到原来环境中去。语出中国典籍《三国志·蜀书·后主传》原义说蜀后主刘禅甘心为虏不思复国。

26. 【解析】D。金鼓齐鸣：金钟战鼓一齐响起。形容战斗气氛紧张激烈。出处《左传·僖公二十二年》：“金鼓以声气也。”古代军队行军作战都离不开“金”与“鼓”，命令军队行动与进攻就打鼓，即鸣鼓而攻，而命令军队停止或退回就击钲，即鸣金收兵。这种击鼓而攻、鸣金收兵的做法在各个朝代基本上是通行的，到了明朝时，有时也会金鼓齐鸣。因此，金钟战鼓一齐响起，士兵们会进退两难，乱作一团。因此，本题选项 D 正确。

27. 【解析】D。C 小调 第五号交响曲《命运》此曲完成于 1807 年末至 1808 年初，是贝多芬最为著名的作品之一。本曲声望之高，演出次数之多，可谓交响曲之冠。

28. 【解析】B。“近朱者赤，近墨者黑”是说靠着朱砂的变红，靠着墨的变黑；代指客观环境对人有很大影响。“青出于蓝而胜于蓝”比喻人经过学习或教育之后可以得到提高，常用以比喻学生超过老师或后人胜过前人，故 A 选项错误。“蓬生麻中，不扶自直”比喻生活在好的环境里，得到健康成长，故 B 选项正确。“皮之不存，毛将焉附”比喻事物失去了借以生存的基础，就不能存在，故 C 选项错误。“山河易改，本性难移”指习惯成性，很难改变，故 D 选项错误。故本题答案选 B。

29. 【解析】ABCD。在我国境内，北回归线穿越云南、广西、广东、台湾 4 个省区，长达 2000 多公里，广东约占其中三分之一。

30. 【解析】B。语出春秋·楚·李耳《老子》第六十四章。因此，选项 A 错误。合抱之木，生于毫末；九层之台，起于累土；千里之行，始于足下。译文 合抱的粗木，是从细如针毫时长起来的；九层的高台，是一筐土一筐土筑起来的；千里的行程，是一步又一步迈出来的。说明万事起于忽微，量变引起质变。因此，D 选项错误。“累土”是指将土一点点的垒起来，故 C 选项错误。因此，本题选项 B 正确。

31. 【解析】AC。“一带一路”涵盖欧亚非基础设施的互联互通，生产要素的流动和生产结构的分工互补，是顺应经济全球化趋势的重大战略构想，因此 AC 符合题意。我国在国际交往中坚持平等合作，互利共赢，选项 B 中的主导权不正确。一带一路设想是完善互利共赢、多元平衡、安全高效开放型体系的重要内容，但是仅此不能有效建立，因此选项 D 不正确。

32. 【解析】ACD。中国国家发展改革委、外交部、商务部 28 日联合发布《推动共建丝绸之路经济带和 21 世纪海上丝绸之路的愿景与行动》，就“一带一路”建设过程中的五大合作重点提出倡议。第一、政策沟通。第二，设施联通。第三，贸易畅通。第四，资金融通。第五，民心相通。

33. 【解析】ABCD。在这一战略构想的背后，体现的是中国“亲诚惠容”的周边外交理念。

34. 【解析】ACD。国家发展改革委、外交部、商务部 28 日联合发布了《推动共建丝绸之路经济带和 21 世纪海上丝绸之路的愿景与行动》。其中提到，发挥新疆独特的区位优势和向西开放重要窗口作用，深化与中亚、南亚、西亚等国家交流合作，形成丝绸之路经济带上重要的交通枢纽、商贸物流和文化科教中心，打造丝绸之路经济带核心区。因此，选项 A 正确。发挥云南区位优势，推进与周边国家的国际运输通道建设，打造大湄公河次区域经济合作新高地，建设成为面向南亚、东南亚的辐射中心。B 项错误；利用长三角、珠三角、海峡西岸、环渤海等经济区开放程度高、经济实力强、辐射带动作用大的优势，加快推进中国（上海）自由贸易试验区建设，支持福建建设 21 世纪海上丝绸之路核心区。C 项正确；充分发挥深圳前海、广州南沙、珠海横琴、福建平潭等开放合作区作用，深化与港澳台合作，打造粤港澳大湾区。D 项正确。

35. 【解析】BCD。新媒体有其形式丰富、互动性强、渠道广泛、覆盖率高、精准到达、性价比高、推广方便等特点，所以 B 项正确。新闻具有客观性，但是网络传播具有不可控性，导致很难监管，所以 C 项正确。因为网民身份的隐秘性，所以新媒体还有隐蔽性和主观性的特点，故本题选择 BCD 项。

36. 【解析】ABC。政府工作人员作为公众人物要接受社会各主体的监督。反腐倡廉类事件众多且处于舆论关注高位，“政府认同度”占据各月榜首。说明我国的反腐工作得到了大家的认可，另外也体现了百姓对此事有较强的关注度，故 AB 项正确。而网络舆情加强了对反腐工作的监督，所以也能推进反腐倡廉的工作，故 C 项正确。公众人物亦称公共人物，是指一定范围内具有重要影响，为人们所广泛知晓和关注，并与社会公众利益密切相关的人物。其以社会知名度和社会公共利益相关性为构成要件，二者缺一不可，共同体现了公众人物的特性。“公务员都是公众人物”这一说法不准确，D 项错误。故本题答案选 ABC。

37. 【解析】ABCD。突发危机类事件的“政府认同度”处于低位，说明政府在与媒体沟通时提升沟通技巧和加强管理。除了主动联系媒体发布与民有关的舆情外，还应扩大这样的信息渠道，加强舆情监督，及时处理相关事项，而舆情管制措施有利于政府信息管理，故本题选择 ABCD 项。

38. 【解析】ABCD。公共治理是由开放的公共管理与广泛的公众参与二者整合而成的公域之治模式，具有治理主体多元化、治理依据多样化、治理方式多样化等典型特征。政府在推进公共治理中需要提升与媒体的沟通能力，及时的收集民意，积极的主动的服务，故本题选择 ABCD 项。

39. 【解析】ACD。《行政强制法》第三十五条规定，行政机关作出强制执行决定前，应当事先催告当事人履行义务。催告是一种行政法上要式行为，必须以书面形式作出。催告的内容应当包括五个方面：一是指出催告所依据的行政决定；二是说明行政机关启动强制执行程序的理由；三是重申行政相对人应当履行的义务，并规定履行义务的期限和方式；四是提出行政相对人逾期不履行义务的后果；五是告知行政相对人依法享有陈述权、申辩权。催告有法定送达规定，要求催告书、行政强制执行决定应当直接送达当事人。因此 AC 错误。当事人拒不接收或者无法直接送达当事人的，应当依照《中华人民共和国民事诉讼法》有关规定送达。所以 D 错误。因此本题的正确答案为 ACD。

40. 【解析】ACD。侵犯公民、法人和其他组织财产权的违法行为及其赔偿方式。这类行为有四种：（1）违法实施罚款、吊销许可证和执照、责令停产停业、没收财物等行政处罚的；（2）违法对财产采取查封、扣押、冻结等行政强制措施的；（3）违反国家规定征收财物、摊派费用的；（4）造成财产损害的其他违法行为。其赔偿方式有以下几种：1、处罚款、罚金、追缴、没收财产或者违反国家规定征收财物，摊派费用的，返还财产；2、查封、扣押、冻结财产的，解除对财产的查封、扣押、冻结，造成财产损坏或者灭失的，能恢复原状的恢复原状，不能恢复原状的，按照损害程度给付相应的赔偿金；3、应当返还的财产损坏的，能够恢复原状的恢复原状，不能恢复的，按照损害程度给付相应的赔偿金；4、应当返还的财产灭失的，给付相应的赔偿金；5、财产已经拍卖的，给付拍卖所得的价款；6、吊销许可证和执照、责令停产停业的，赔偿停产停业期间必要的经常性费用开支；7、对财产权造成其他损害的，按照直接损失给予赔偿。因此，A 为违章建筑，C 经营性损失都不可以获得赔偿。行政赔偿一定是行政机关的违法行为所造成的，并且是对相对人的合法权益造成损害，才可以获得。因此 B 是需要获得赔偿的。侵犯人身权并造成精神损害的，应消除影响、恢复名誉、赔礼道歉；后果严重的同时支付精神损害抚慰金。因此 D 选项，乙公司员工仅仅是受到惊吓而并没有被侵犯人身权，所以不会获得赔偿。所以答案为 ACD。

41. 【解析】ABC。《行政强制法》第三十七条：经催告，当事人逾期仍不履行行政决定，且无正当理由的，行政机关可以作出强制执行决定。强制执行决定应当以书面形式作出，并载明下列事项：

（一）当事人的姓名或者名称、地址；（二）强制执行的理由和依据；（三）强制执行的方式和时间；（四）申请行政复议或者提起行政诉讼的途径和期限；（五）行政机关的名称、印章和日期。在催告期间，对有证据证明有转移或者隐匿财物迹象的，行政机关可以作出立即强制执行决定。

所以，本题答案为 ABC。

42. 【解析】ABCD。《最高人民法院关于行政诉讼证据若干问题的规定》第 63 条规定，证明同一事实的数个证据，其证明效力一般可以按照下列情形分别认定：（一）国家机关以及其他职能部门依职权制作的公文

文书优于其他书证；（二）鉴定结论、现场笔录、勘验笔录、档案材料以及经过公证或者登记的书证优于其他书证、视听资料和证人证言；（三）原件、原物优于复制件、复制品；（四）法定鉴定部门的鉴定结论优于其他鉴定部门的鉴定结论；（五）法庭主持勘验所制作的勘验笔录优于其他部门主持勘验所制作的勘验笔录；（六）原始证据优于传来证据；（七）其他证人证言优于与当事人有亲属关系或者其他密切关系的证人提供的对该当事人有利的证言；（八）出庭作证的证人证言优于未出庭作证的证人证言；（九）数个种类不同、内容一致的证据优于一个孤立的证据。因此，本题选择 ABCD。

43. 【解析】CD。汽车“限购令”能够一定程度上缓解城市拥堵的问题，而不是解决，故 A 项错误。不过可以缓解环境污染，故 C 项正确，“限购”能够减缓汽车的保有量而不是限制小汽车的使用，故 B 项错误。并且能够促进公交等公共交通的发展，故本题选择 CD 项。

44. 【解析】AC。“边际收益递减”指的是在一定时间内，其他条件不变下，当开始增加消费量时，边际效用会增加，即总效用增加幅度大，但累积到相当消费量后，随消费量增加而边际效用会逐渐减少。虽然各地都在进行“限购”，但是汽车的总量还是在增加，故 A 项正确。上海中心城区城市道路里程约 4865 公里，增长仅为 3%；城市道路面积 105 平方公里，增长 8%，所以 B 项错误。单单进行汽车限购，并不能从根本上解决百姓出行难的问题，还应该通过其它相应的措施共同解决，C 正确。D 项虽然说明了限购令对汽车行业的影响，但是是无关选项，故排除。故本题选择 AC 项。

45. 【解析】ABD。汽车限购令是政府运用行政手段即“限购”和市场需求来进行管理交通问题，AD 项正确。汽车限购令是政府为主导的一种管理交通的方式，故 B 项正确。休克疗法是针对严重失衡的社会总供求状况，从控制社会总需求出发，采取严厉的行政和经济手段，在短时间内强制性地大幅度压缩消费需求和投资需求，使社会总供求达到人为的平衡，以此遏制恶性通货膨胀，恢复经济秩序，不符合题意，故排除 C 项。故本题选择 ABD 项。

46. 【解析】ABC。行政主体是否有相应权力；内容是否与上位法相抵触；制定程序是否合法。政府出台“限购”没有立法的依据，没有相应的立法权限。“限购”就其实质而言，是要禁止部分合同的缔结。而缔约与履行属于民事基本制度，根据我国《立法法》第 8 条的规定，涉及民事基本制度的事项只能由全国人大或其常委会制定法律加以调整，而国务院及各地方政府的规范性文件均无权涉及这些内容。所以政府在出台“限购”措施时要考虑是否有相应权力。选项 A 符合题意。调整同一对象的一个或两个以上的法律规范，因规定不同的法律后果而产生冲突，按照我国《立法法》相关规定是上位法优于下位法。所以政府在制定“限购”措施时要考虑内容是否与上位法相抵触。选项 B 符合题意。按照相关法律规定，对于涉及行政相对人重大权利义务的事项，在规范性文件出台之前应该通过座谈会、论证会、听证会等形式听取各方面的意见，确保行政决定的科学性、民主性和合理性。“限购”措施的出台，政府需要考虑相应的制定程序是否合法。选项 C 符合题意。增强行政过程的透明度，在本题中未有体现。选项 D 不选。故本题答案选 ABC。

47. 【解析】B。“关于”前可以添加发文机关全称或规范化简称，而不是必须的，所以 A 选项错误。根据语法知识，发现题干中缺少谓语，所以需要添加“开展”两字。所以 B 正确。通知适用于发布、传达要求下级机关执行和有关单位周知或者执行的事项，批转、转发公文。通告适用于在一定范围内公布应当遵守或者周知的事项。材料中公文是关于“爱眼日”活动相关事项的传达，应该使用通知，C 项错误。材料中所提及活动为第十二个全国“爱眼日”活动，事由中“全国”二字不用删去，D 项错误。

48. 【解析】ABC。转发了《关于开展 2015 年全国“爱眼日”活动的通知》这篇公文是由国家卫生计生委办公厅、中国残联会办公厅联合制定的，所以应为印发，A 正确。B 选项是地方对中央公文的一种发放，所以应为转发，B 正确。正文内容要就精准，以免产生歧义，所以 C 选项中的“本市”应改成“XX 市”，因此 C 正确。故本题的正确答案为 ABC。

49. 【解析】BD。根据主送机关的顺序：各区县卫生计生委，市眼病防治中心，市医学会。我们可以得知

需要先要求各区县卫生计生委，其次是市眼病防治中心，最后是市医学会。因此 B 正确。本篇公文中引文《关于开展 2015 年全国“爱眼日”活动的通知》，所以需要添加附件说明。因此 D 正确。所以本题选择 BD。

50. 【解析】A。成文日期用阿拉伯数字，所以 B 错误。不加盖印章的公文，单一机关行文时，在正文（或附件说明）下空一行右空二字编排发文机关署名，在发文机关署名下一行编排成文日期，首字比发文机关署名首字右移二字，所以 CD 选项错误。根据主送机关和正文内容可以看出这篇公文的发文机关应是 XX 市卫生和计划生育委员会，所以 A 正确。综上，本题答案为 A。

51. 【解析】B。

“跻身于世界先进水平之列”为常用固定搭配，排除 A、D。“一花独放、单峰耸峙”与“低迷”意思相对，是从反面来衬托出国内科幻小说界的不景气，应选择“反衬”。因此选 B。

52. 【解析】C。“明艳”与“娇艳”语义有重复，“明朗”不能用来形容季节，排除 A、D。由“但如果人人只顾自己的‘一亩三分地’”可知，前面的句子应是在肯定“每个人都会有自己的打算”存在的普遍性及合理性，选“不可否认”更贴合文意。

53. 【解析】D。最后一空，瞠目结舌形容形容人惊呆了的样子；荒诞不经形容言论荒谬，不合情理，排除 B、C。第二空，荒诞不经为贬义，根据文意第二空与前文重要古籍色彩相反，因此选 D。

54. 【解析】C。由“才”“才能”可知，“洞明文字生成中所蕴自然山川之地脉……深谙文字指文化含量”是“有底气”“生发出意象、意念、意蕴、意境”的必要条件，需填入“只有”，“唯”表“只有”，故答案选 C。

55. 【解析】D。最后一空，何尝用在否定形式前表示肯定，引导反问句。

56. 【解析】D。这三段文字，第一段文字带有明确的感情倾向不够客观实际，而用于宣传海报文字过多，最合适的则为报刊评论；第二段文字用数据以及年份做客观说明故来源最可能是政府报告；第三段文字从形式看多用于宣传标语。

57. 【解析】B。A 项狭路相逢多用于仇人见面，不符合语境故 A 错；C 项并列结构出现，“加强”不可与“信息发布相搭配”；D 项“是”字出现，主宾搭配不当，故选择 B。

58. 【解析】D。ABC 暗中偷换主语，D 符合事理逻辑，故答案选择 D。

59. 【解析】C。考察要点语气轻重，在语气表达中，疑问语气最轻，表述为不确定，故选择 C。

60. 【解析】C。语句排序题。③⑥句为反面论证，不适合做首句予以排除，根据话题的发展顺序⑤句相对于⑦句更适合做首句，锁定答案 C，验证符合事理逻辑故答案选择 C。

61. 【解析】A。A 项主题是立法要以民为本。BCD 主题是公正

62. 【解析】A。语句填空题，考察前后话题的衔接性，阅读文段不难发现，横线部分起到承前启后的作用，而后面部分是对前面部分的举例论证，符合这点的是答案 A。

63. 【解析】D。此题为判断作者意图的题目。首先仍需把握作者的主要信息。文段的主要信息是通过三个问句引出的结论性思考——文段最后一句。当我们关注的问题趋同时，我们忽略了另外一部分重要的存在，也就是我们所获得信息过于单一。由此可知，D 项是最为准确的理解。

64. 【解析】B。本题为主旨概括题。主旨句为文段的最后一句，既总结了孔子关于修身的三点要求，也明确了在当下的领导干部也需认真学习体会的重要性，因此与其意思最为接近的表述应该是 B 项。

65. 【解析】D。第一个破折号后最大与之前大相比程度更深，为递进关系，因此选 D 项。

66. 【解析】B。B 项正确，C 项错在传统技能，文中只是说技能，没说传统技能。

67. 【解析】A。A。第一空，与“思想的贫乏”相对，“深刻的道理”填入最恰当；第二空，与“真传一句话”相对，“简明的语言”填入最恰当；第三空填入“简单生动……”，契合句意。因此本题选 A。

68. 【解析】D。细节题，文段第三段和第四段部分分别可以找到 ABC 三个点，而 D 项在文段第六段有找到，说的是玉，与提问不符，故选择 D。

69. 【解析】D。细节题。A、B 两项无中生有，文段未提及；C 项偷换概念，文段表述为“农耕文明对玉的审美的延伸”选项表述为“中国人对玉的审美的延伸”错误，故选择 D。

70. 【解析】A。A 项全面概括原文，BC 项均为文段片面内容不能作为文段主旨，D 项主体与文段不一致，予以排除。

71. 【解析】C。ABD 在文段第九段均可以找到，C 项阐述的是集体主义的方式与提问相对，故选择 C。

72. 【解析】B。个人主义的特性是从背景中脱离出来观察，根据文中例子个人主义不存在合作故答案选择 B。

73. 【解析】B。B。文段引用心理学的内容是为了给观点提供论据，而文段引用的是《心理学》的内容故属于理论的而非事实的，故选择 B

74. 【解析】A。由“一如”可知，人类心灵与“稻米和小麦”之间存在类比关系，并非比喻。A 项理解错误，当选。

75. 【解析】C。C。文段重点段落脚于最后一段，围绕的是文化与自然来进行的重点阐述，故选择 C。

76. 【解析】B。因为是同一时间完成工作，所以设甲从开始到结束工作 X 分钟，那么乙工作了 (X-15) 分钟，丙工作了 (X-45) 分钟，依题意得， $30X+40(X-15)+60(X-45)=6060$ ，解得 X=72，那么乙用 57 分钟。

77. 【解析】A。栓羊的绳子长 10 米，那么它的活动半径也就是 10 米，所以羊可以触及的地方一个  $\frac{3}{4}$  大圆和两个小的  $\frac{1}{4}$  小圆， $\frac{3}{4} \times \pi \times 10^2 + \frac{1}{4} \times \pi \times 3^2 + \frac{1}{4} \times \pi \times 1^2 = \frac{155}{2} \pi$ 。

78. 【解析】C。设围巾为 A 条，手套为 B 双，根据题目要求得到：

$$60A+70B \leq 500, A=3: B=2, 3, 4, \text{ 都可以。} A=4: B=2, 3, 4. A=5, B=2.$$

共 7 种情况。

79. 【解析】B。根据顺流、逆流的公式，可得  $\frac{40}{V_{\text{船}}+V_{\text{水}}} + \frac{24}{V_{\text{船}}-V_{\text{水}}} = 8, \frac{60}{V_{\text{船}}+V_{\text{水}}} + \frac{20}{V_{\text{船}}+V_{\text{水}}} = 8,$

解出  $V_{\text{船}}=12, V_{\text{水}}=8$ ，故选 B。

80. 【解析】D。前两个钟，每小时差  $6-2=4$  分钟，只要差 60 分钟，就可以重合，因此需要  $60 \div 4=15$ （小时），总结：前两个钟每过 15 小时分针指在相同的位置。

同理，后两个钟，每小时差  $12-6=6$  分钟，只要差 60 分钟，就可以重合，因此需要  $60 \div 6=10$ （小时），总结后两个钟每过 10 小时分针指在相同的位置。15 和 10 的最小公倍数为 30，因此，3 个钟需要 30 小时分针又会指在相同的分钟位置。

81. 【解析】C。由题中“ABCDEDCBABCDEDCBA”可以得知以“ABCDEDCB”的循环排列的，因此每个循环是 8 个字母， $313 \div 8=39 \dots 1$ ，因此是过了 39 个循环再往后数一个字母，即为第 40 个循环的第一个字母“A”，A 代表中国。因此本题选 C。

82. 【解析】C。本题是排列组合题。可采用枚举法，含 1 月的有：（1 月，5 月）、（1 月，6 月）、（1 月，7 月）、（1 月，8 月）、（1 月，9 月）、（1 月，10 月）共 6 种；含 2 月的有：（2 月，6 月）、（2 月，7 月）（2 月，8 月）（2 月，9 月）（2 月，10 月）共 5 种；含 3 月的有：（3 月，7 月）（3 月，8 月）（3 月，9 月）（3 月，10 月）共 4 种；含 4 月的有：（4 月，8 月）（4 月，9 月）（4 月，10 月）共 3 种；含 5 月的有：（5 月，9 月）（5 月，10 月）共 2 种；含 6 月的有：（6 月，10 月）共 1 种；共有  $6+5+4+3+2+1=21$  种可能，由于两部影片在不同的月份上映，需要将两部影片排序，因此需将  $21 \times A_2^2=42$  种情况。

83. 【解析】A。设艺术品 A 的原始售价为 a， $a \times (1+x\%) - a = y$ ，得到  $ax\%=y$ ，

$$\frac{a \times (1 + x\%)}{2} \times (1 + x\%) - \frac{a \times (1 + x\%)}{2} = Z, \text{ 根据 } z \text{ 大于 } y, \text{ 得到 } x \text{ 大于 } 100.$$

84. 【解析】B。非闰年共有 365 天，中间日期应是 365 的中位数，即 183 天中午 12 点。已知 1、3、5 月每月 31 天，2 月 29 天，4、6 月每月 30 天，共 181 天，则第 183 天是 7 月 2 日。所求为  $7+2+12=21$ ，选择 B 项。

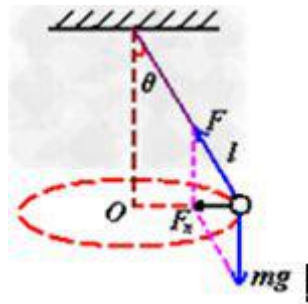
85. 【解析】A。设阴影部分长方形的长为  $x$ ，宽为  $y$ ，面积即为  $xy$ 。四周四个正方形的周长= $2 \times 4x + 2 \times 4y = 320$ ，化简后得： $x+y=40$ ；四周四个正方形的面积= $2x^2 + 2y^2 = 1700$ ，化简后得： $x^2 + y^2 = 850$ 。 $x^2 + y^2 = (x + y)^2 - 2xy = 1600 - 2xy = 850$ ，解得  $xy=375$ 。故正确答案为 A。

86. 【解析】D。考查机械能。根据题意，不考虑任何摩擦力，意味着摩擦力不做功。本题只有重力和弹力做功，所以机械能守恒，小球的重力势能转化成小球的动能和木块的动能。木块对小铁球的弹力不做负功，A 错；整体机械能守恒，小球对木块做功，所以木块的机械能不守恒，B 错；小铁球的机械能的减少量小于木块动能的增大量，C 错。因此，本题答案为 D 选项。

87. 【解析】D。声音传播需要介质，声音不能在真空中传播，所以抽成真空后隔音效果加强，而不是下降。因此，本题答案为 D 选项。

88. 【解析】B。本题考查光学原理透镜的应用。近视眼成像原理看不清物体成像在视网膜前面。近视眼需要配带凹透镜矫正远视眼需要配带凸透镜矫正。因此，本题答案为 B 选项。

89. 【解析】A。本题考查圆周运动。根据受力分析，圆锥摆模型的受力特点——只受两个力：竖直向下的重力 ( $mg$ ) 和沿摆线方向的拉力 ( $F$ )，二力的合力就是摆球做圆周运动的向心力 ( $F_n$ )，如图所示。



竖直方向上合力为 0， $F \cos \theta = mg$ ，推出  $F = mg / \cos \theta$ ，所以甲受到绳子的拉力大于乙受到绳子的拉力，D 正确。

C：向心力为  $F$  在水平方向的分力， $F_n = F \sin \theta = mg \tan \theta$ ，甲的角度  $\theta$  比乙的大，而  $\tan \theta$  在  $0-90$  度为增函数，因此向心力甲的大，而根据牛顿第二定律， $F_n = mg \tan \theta = ma$ ，质量相同，因此甲的加速度比乙大。C 正确。

B： $F_n = mV^2/R$ ，推出  $V^2 = F_n R / m$ ，所以甲的线速度也大。

A： $WR = V$ ，( $W$  为角速度)， $W = V/R$ ，根据之前推导的公式，得到甲乙的角速度相等。所以选 A。

90. 【解析】B。物体内的有机物在细胞内经过一系列的氧化分解最终生成二氧化碳、水或其他产物并且释放出能量的总过程叫做呼吸作用。呼吸作用是生物体在细胞内将有机物氧化分解并产生能量的化学过程是所有的动物和植物都具有一项生命活动。所以发现里面温度比较高，是呼吸作用的原因。因此，本题答案为 B 选项。

91. 【解析】D。考查电学原理。原理：在电路中，电流由电势高的正极流向电势低的负极。这之中每流经电阻  $R$ ，沿电流的方向电势降低，降低的数值等于  $IR$ 。端电压 = 总电动势 - 内阻分压。

A：减小  $R_2$  的阻值，b 点的电势升高，错误。因为减小  $R_2$  的阻值，总阻值变小 ( $R_1 + R_2$ )，根据欧姆定律，电流变大，因此 a 端通过  $R_1$  后， $IR_1$  变大，电势降得就多了，所以 b 点的电势降低。

B：当煤气的浓度升高时，根据题意 ( $R_1$  是对煤气敏感的半导体元件，其电阻随煤气浓度的增加而减小)，说明， $R_1$  电阻变小，总电阻变小，电流变大， $IR_1$  无法判断变大还是变小，但  $IR_2$  变大，总电压恒定，故  $IR_1$



变小，则 b 点电势升高。因此 B 错误。

C: 明显错误，应该适增加 ab 间的电压，可以提高报警器的灵敏度。选 D。

92. 【解析】C。考查受力和做功。

A: 运动员在离开蹦床上升过程中，蹦床对运动员一定不做功，正确。因为离开了，没有力。

B: 运动员在最高时，速度为零。正确。 D、正确，高度越来越小，重力势能减少。

C: 在最高点，合力不是零，有重力作用。所以错误，选 C。

93. 【解析】D。考查摩擦力。题干为一个定滑轮和一个动滑轮组成的滑轮组，同一滑轮两侧绳的拉力相等，则三根绳的拉力都是 60N，将人与船看做一个整体，则所受拉力为  $60N \times 3 = 180N$ ，船匀速运动，则所受阻力也为 180N。故答案选 D。

94. 【解析】D。考查光的折射。由于路面上暖空气与高空中冷空气之间的密度不同，所以光线在路面上会发生折射现象；远处物体的光射向路面上的空气时，发生折射后，进入人的眼睛，人眼逆着折射光线看去，看到的是物体形成的虚像。所以看到“公路远处似乎有水，水中还有汽车、电杆等物体的倒影，但当车行驶至该处时，水却消失了”。故选 D。

95. 【解析】A。考查磁场方向。地理南极相当于条形磁铁的 N 极，地理北极相当于条形磁场的 S 极，且磁场方向由 N 极指向 S 极。所以上海上空的磁场方向是



因此，本题答案为 A 选项。

96. 【解析】C。健康传播的关键在于：“健康知识”、“大众”，C 项研讨会属于不能确定健康知识，而且达不到健康传播的目的。因此，本题答案为 C 选项。

97. 【解析】A。顺应的关键在于“环境改变”“生理适应”，A 项符合生理适应，B 项是一种行为，不是适应过程；C、D 项无生理变化。因此，本题答案为 A 选项。

98. 【解析】C。社区行动时社区居民的共同行动。A 项志愿者不确定属于社区；B 项老王属于个人行为；D 项“有车居民”不确定，同时不符合题干中的“促进社区发展和进步”。因此，本题答案为 C 选项。

99. 【解析】A。新闻发布会不属于媒体形式，且政府召开发布会是发布信息的法定形式。因此本题答案为 A 选项。

100. 【解析】C。多定义判断中的辨析，能指是符号的物质形式，所指是概念。网络上流行的“杯具”是意指的第二个层次。因此，本题答案为 C 选项。

101. 【解析】D。模式生物属于选定的生物，豌豆、果蝇、白鼠分别属于遗传规律、基因突变、活体实验中选定的生物。因此，本题答案为 D 选项。

102. 【解析】A。解法一：位置类平移。整体顺时针去看，每个九宫格中间黑块不动，上方黑块每次顺时针移动一格，下方黑块每次逆时针移动一格。

解法二：整体看，呈中心对称。所以正确答案为 A。

103. 【解析】D。本题考查空间重构。根据面面的相互关系，关注方形与四个三角面的关系，A 项中对角线面与三角面相邻的是存在黑点的，所以 A 项错误；B 项的错误与 A 项相同；C 项中带点的方形面与有黑点的三角面相邻，错误。因此，本题答案为 D 选项。

104. 【解析】B。位置类平移。每行都有相同的元素组成，且两个元素相向而行步幅恒等。因此，本题答案为 B 选项。

105. 【解析】A。位置类翻转。九宫格每行第一个图形向右翻转得到第二个图形，再由第二个图形向上翻转得到第三个图形。所以正确答案为 A。

106. 【解析】C。空间重构类。平面图形中两个长方形白面没有相邻，排除 A；两个长方形白面中间夹的是黑色面，排除 B。D 长方形白面的左右面和题干图形不符，排除 D。所以正确答案为 C。

107. 【解析】D。位置类。解法一：上方竖线依次逆时针旋转 45 度，下方竖线依次逆时针旋转 90 度。解法二：两条竖线构成的夹角度数分别为 180 度、135 度、90 度，接下来应该是夹角 45 度。本题答案为 D 选项。

108. 【解析】D。样式类求异。每组都是第一个图形和第二个图形去同存异得到第三个图形。所以正确答案为 D。

109. 【解析】B。本题考查对称性。九宫格第一横行第一个图为横轴对称（对称轴只有 1 条），第二个图为中心对称，第三个图为竖轴对称（对称轴只有 1 条），第二行遵循同样的规律，第三行应该也遵循此规律。因此，本题答案为 B 选项。

110. 【解析】C。元素之间的相互位置。每个图形中一条直线分别和曲线相交、相离、相切。因此，本题答案为 C 选项。

111. 【解析】C。以第一个图形为基础，里面的五个小元素保留三个位置相同的，另外两个对换位置得到下一个图形。因此，本题答案为 C 选项。

112. 【解析】A。样式求异。第一组前两个图形相同的元素去掉，不同的元素保留得到第三个图形。第二段满足相同的规则。因此，本题答案为 A 选项。

113. 【解析】B。样式规则运算。右下往上，每行相近的两个图形满足相同的规则运算得到上方图形，规则如下：左+左=右；右+右=左，其余相加都等于白。所以正确答案为 B。

114. 【解析】B。论证。论点是“大部分的塑料可能被海洋生物吃掉，进入海洋食物链”。A 选项其他垃圾与论点无关。B 选项，塑料是否会以其他形式消失，如果会，那么没有进入海洋食物链，削弱论点，如果不会，那么加强论点，所以选 B。C 选项，是否“消失”与论点无关。D 选项，塑料集中的海域，与论点无关。因此，本题答案为 B 选项。

115. 【解析】B。真假推理。①“新招收的职工里有人是外地的”和③“新招收的职工里有人不是外地的”是反对关系，两句话必有一真，题干说三句话必有一真，说明唯一的真话在①和③两句话之间，则②“新招收的职工里，学历最高的不是外地人”一定为假，由此可以推出学历最高的是外地人，也就可以推出①“新招收的职工里有人是外地的也是真的。因为只有一真，所以③“新招收的职工里有人不是外地的”就一定是假的，由此可以推出它的矛盾关系“所有新招收的职工都是外地人”是真的，只有 B 项可以推出。

116. 【解析】B。论证。加强型。论点是“近十年我国研究生人数不断增加”，论据是“我国每年授予博士学位数量持续增加”。A 选项说的是难度，无关。B 选项说明博士在硕士中的比例不变，那么博士数量增加，自然可以得到硕士数量增加，属于搭桥，所以选 B。C 选项说的是今年申请博士的人数是 10 年前的 2 倍，不能说明硕士的人数增减情况，无关。D 选项只说了今年的不是占比，没有说明是增加还是减少，无关。因此，本题答案为 B 选项。

117. 【解析】C。翻译推理。（1）“维持国内价格稳定→限制大葱出口”，（2）“大葱价格上涨时继续履行合同→企业亏损”，（1）“限制大葱出口→我国在国际大葱市场所占有的份额就将被取代”。（1）和（3）得到“维持国内价格稳定→限制大葱出口→我国在国际大葱市场所占有的份额就将被取代”，即“维持国内价格稳定→我国在国际大葱市场所占有的份额就将被取代”。因此，本题答案为 C 选项。

118. 【解析】A。论点为：有专家认为该国实施的鼓励生育政策达到了预期的效果。A 项，通过反向举例子来加强论点。因此，本题答案为 A 选项。

119. 【解析】C。论证。加强型。题干论点是“逻辑课能帮助学生从小养成进行反思、提出质疑的习惯，

提高相应的能力”。选项 I 是学习逻辑课和区分真善美的关系，无关。选项 II 是学生有能力理解并运用，说明方法可行，搭桥，可以加强。III 学习逻辑带来的能力是好事，也是可以加强的。所以选 C。

120. 【解析】C。排列组合。可用列表法。按照游客量排序，由（1）可知，森林 65 万，草原 12 万。由（4）可知，森林 65 万，袁城 44 万，草原 12 万。由（3）可知，冀城森林 65 万，袁城 44 万，草原 12 万。由（5）可知，冀城森林 65 万，袁城 44 万，徐城 32 万，豫城 27 万，青城草原 12 万。所以选 C。

121. 【解析】C。翻译推理。小陈有出入证，认为可以进入古籍书库。他把规定中的“只有持有古籍善本书库出入证，才能进入古籍善本书库”，理解为“如果持有古籍善本书库出入证，就能进入古籍善本书库”。因此，本题答案为 C 选项。

122. 【解析】D。制造商的论点是“事故是由于列车员违反操作规程而导致的”。A 选项是说“何种缺陷”，与论证无关。B 选项举反例，可以削弱论点。C 选项补充论据，可以加强。D 选项属于搭桥，说明事故只能是由于列车员操作问题，加强力度最强。因此，本题答案为 D 选项。

123. 【解析】C。排列组合。总共引进 30 种。题干①金融类 12 种，②非金融英文类 10 种，③美国引进非金融类 7 种，④美国以外非英文类 9 种。①+②+③+④=38，说明这里必有 8 种重合。任意两类的重合情况都不可能超过 8 种，结合选项 C 符合。

124. 【解析】C。日常推理。7 个栏目在继续更新，5 个是喜剧类，还剩 2 个，而长篇科幻类有 3 个，所以至少有 1 个已经下线。C 选项正确。

125. 【解析】A。翻译推理。（1）蒋某感染且张某感染→李某没感染（2）李某感染且王某陈述正确。（3）张某没感染→王某陈述不正确。由（2）可知李某感染，由（1）可以推出蒋某没感染或者张某没感染，由（2）可知王某陈述正确，由（3）可以推出张某感染了，可以推出蒋某没感染。因此，本题答案为 A 选项。

126. 【解析】D。“部分增长率大于整体增长率，比重上升”，所以全国技术合同成交金额增速超过 GDP 增速只需要找出全国技术合同成交金额占 GDP 的比重是上升的，在图 1 中符合题目条件的年份有 2006 年，2007 年，2010 年，2011 年，2012 年，2013 年，共 6 个年份。

127. 【解析】B。估算法。18+22+27+30+39=136，所以答案选 B 项

128. 【解析】C。

$$\frac{736.5}{7469} = 736.5 \times \frac{1.31\%}{7469} = \frac{1.31\%}{10} = 0.131\%。$$

1.31%

129. 【解析】A。2012 年技术合同成交总金额的 10% 是 643.7，在图 2 中超过 643.7 的有电子信息技术、现代交通、先进制造技术、新能源与高效节能、城市建设与社会发展、环境保护与资源综合利用技术，共 6 个。

130. 【解析】D。A 项，图 1 技术合同成交金额同比增量最大的是在 2012 年。

B 项。图 1 中技术合同成交金额占 GDP 比重最高的年份是 2013 年，最低是在 2005 年，之间差 8 年。

C 项。2013 年电子信息技术和同成交金额的两成=1946.5×20%=390，不到 390 的一共有 4 个。

D 项。=12.7%，符合题意，正确。

131. 【解析】B。  $\frac{260}{45500 - 260} = \frac{260}{45240} = 5.75\%$

132. 【解析】A。  $\frac{20361}{45500} = 0.447$  吨，所以约为 448 千克，答案选择 A。

133. 【解析】B。注意文字最后一行“产值合计等于总成本与净利润之和”，所以 2012 年的总成本=产值合计-净利润=1340.83-285.7=1055.13。

由图形得知 2012 年水稻的人工成本为 426.62。

所以 2012 年水稻的人工成本占总成本的比例为： $426.62/1055.13=0.4043$ 。约我 40%，所以答案选择 B 项。

134. 【解析】D。

增长率的直接比较  $\frac{\text{现期量}}{\text{基期量}}$ ，第一名人工成本  $\frac{426}{214} \approx 2$ ，第二名种子  $\frac{48}{26} \approx 1.84$ ，第三名机械作业费

$\frac{147}{81} \approx 1.8$ ，第四名土地成本  $\frac{175}{110} \approx 1.6$ ，第五名农药  $\frac{49}{42} \approx 1.16$ ，第六名化肥  $\frac{133}{124} \approx 1.07$ ，故答案选 D。

135. 【解析】D。

A 项，人工成本的增长率 =  $\frac{426 - 327}{327} \approx 30\%$ ，机械作业增长率 =  $\frac{147 - 125}{125} \approx 17.6\%$ 。

B 项，2008 年到 2012 年种子的成本是逐渐上升的，化肥的变化趋势是先下降后上升，所以不是完全相同的。

C 项，2012 年，成本前三分别是人工成本、土地成本、机械作业费三个，比重 =  $\frac{426 + 175 + 147}{1340 - 285} \approx 71\%$ ，超过 70%。

D 项，直接观察表格是正确的。

136. 【解析】C。  $\frac{712}{712 + 642} = 52.5\%$

137. 【解析】C。选项计算结果精确度要求不要，所以可以估算，年均增长量 =  $\frac{\text{现期量} - \text{基期量}}{\text{年份差}} = \frac{(670 + 671) - (583 + 731)}{4} = \frac{27}{4} = 6.75$ ，首位是 6，故选 C。

138. 【解析】C。2011 年我国的城镇化率 =  $\frac{691}{691 + 657} \approx 51.2\%$ ，观察图标应该属于中等收入国家。

139. 【解析】B。城镇化率表示的其实就是城镇人口在总人口中所占的比重，那么每万人中城镇人口数量增长最多的只需要找出城镇化率的增长量最大的就可以了。美国的城镇化率上升了将近 7 个百分点，巴西的上升了 10.4 个百分点，印度上升了 5.4 个百分点，韩国上升了不到 10 个百分点，最多的就是巴西。

140. 【解析】B。A 项，城镇化率超过 50%，只需要找出城镇人口多于农村人口即可，发现因该是在 2011 年首次出现。

B 项，韩国城镇化率增量最高是从 1980 年-1990 年的 80 年代， $73.84\% - 56.72\% = 17.12\%$ ，是最多的。

C 项，德国城镇化率在 2000 年-2010 年是下降的。

D 项，中等收入国家 2010 年的城镇化率是 48.99%，上中等收入国家 10 前（2000 年）的城镇化率是 50.63%，所以应该是低于。

### 3 2016年上海申论真题卷（A卷）

#### 一、注意事项

1. 监考老师发给你的测试资料分为两部分：试题本和答题纸。
2. 测试开始前，请在试题本和答题纸上指定位置先填写好自己的姓名、准考证号等内容，然后再开始答题。
3. 申论考试与传统的作文考试不同，是分析驾驭资料的能力与表达能力并重的考试。作答参考时限：阅读资料40分钟，作答110分钟。
4. 仔细阅读给定的资料，按照后面提出的“答题要求”依次作答在答题卡指定位置上。
5. 监考老师宣布考试结束时，应立即停止答题，将试题本和答题纸留在桌上，然后离开考场。不得将试题本带出考场。
6. 特别提醒：
  - a. 本试卷科目代码为“21”，请考生务必将答题卡“科目代码”栏内对应数字涂黑，否则无法评分。
  - b. 答题时请认准题号，避免答错位置影响考试成绩。所有试题一律使用现代汉语作答。必须使用钢笔或签字笔，在答题卡有效区域内作答，超出答题区域的作答无效。严禁折叠答题纸！

#### 二、给定资料

##### 资料1

市场监管是现代政府的基本职能之一。从概念上说，监管指的是政府依据规则对市场主体行为进行引导和限制，其目的是纠正市场失灵。根据被监管对象不同，市场监管包括经济性监管和社会性监管两大类：前者针对能源、金融等经济部门，后者包括安全、健康和环境等内容。在西方国家近30年改革中，政府一方面放松对微观经济运行的管制和干预，另一方面加强与民生相关的社会性监管。在我国行政体制架构中，能源局、证监会、银监会、保监会等部门承担经济性监管职能；工商、质监、食药、知识产权、安监等系统主要负责社会性监管。

政府监管市场的模式在理论上可分为三类：一是分段监管，具体包括研制、生产、流通、消费等环节；二是分事项监管，可以是许可审批、监督执法、行政处罚等工作；三是分品种监管，根据风险程度将产品区分为普通商品、重要工业产品、进口商品、食品药品、特种设备等，采取不同监管措施。三类模式各有利弊，其中分段监管容易产生段与段之间的缝隙，分事项监管对工作专业性要求较高，而分品种监管的难点是品种边界的划分。

##### 资料2

市场经济国家主要对终端产品质量安全进行监管，涉及主体资格资质和行为的标准、认证等事务交给市场和社会组织。我国则不同，监管部门对企业主体资质、生产经营行为和产品本身三个方面都进行监管。例如在2014年新版《医疗器械监督管理条例》颁布之前，医疗器械生产企业需要从工商部门获取营业执照，这是对主体资质的确认。同时，食药监管部门对委托生产行为进行实质性备案，属于对生产行为的限制。此外，企业生产的医疗器械需要通过质监部门的强制性安全认证(3C)，即对产品本身的监管。类似情况在市场监管领域广泛存在，多重监管执法会带来企业守法成本提升和行政资源浪费，还有可能导致监管执法不公平。

理想的市场监管体系应具有整体性。由于种种原因，我国政府市场监管职能长期散落在多个部门，部门之间难免出现职能交叉和真空，形成“九龙治水”的监管碎片化问题。在当前中国的语境下，由于食药等部门实行属地分级管理，地方保护主义又将监管体制缺陷放大，导致信息本地化问题。在不少地方，市场主体违法犯罪信息呈现“村里知道说不知道，乡里不知道装知道，县里想知道还真不知道”的层层衰减分布。横向与纵向的监管体制缺陷，使得我们面临日益严峻的食品药品安全、产品质量和消费者权益受侵害问题。

### 资料 3

近年来，地沟油、瘦肉精、天价宰客、电梯伤人事件一直未曾断绝过。据统计，2014 年中国全面小康进程中“最受关注的十大焦点问题”，包括食品安全、腐败、物价、房价、医疗改革、贫富差距、环境保护、就业、社会保障、社会道德风气等，其中，食品安全关注度居首位。

2014 年 3 月 28 日，国家食品药品监管总局和公安部联合召开新闻发布会，公布了 2013 年查处的食品药品违法犯罪案件中案情复杂、涉案金额较高、社会影响恶劣、具有警示作用的“食品药品十大典型案例”。其中包括河南民权“5.24”特大病死肉案，湖北武汉闵某某等生猪非法注射沙丁胺醇案，陕西西安李某等涉嫌生产、销售假牛肉案，山东枣庄盖某等涉嫌生产、销售不符合安全标准的食品案，辽宁本溪徐某等涉嫌生产、销售伪劣保健食品、药品案，江苏沛县蒋某等涉嫌生产、销售伪劣保健食品案，广西柳州“5.17”生产、销售假药案，广东深圳“7.29”系列生产、销售假药案，湖南隆回孙某等涉嫌生产、销售假药案，浙江丽水周某等涉嫌生产、销售假劣创可贴案。

国家食品药品监管总局稽查局领导介绍，2013 年，食品药品监管部门与公安机关开展了食品药品系列专项整治行动，强力打击各类危害食品药品安全的突出违法犯罪。据统计，全年我国各地侦破食品药品安全犯罪案件 4.3 万余起，抓获犯罪嫌疑人 6 万余名。他还指出，在当前中国经济社会发展所处的特定阶段，食品药品安全违法犯罪出现了一些新情况、新动向。如长链条跨区域案件明显增多，利用互联网进行食品药品违法犯罪呈上升势头等。犯罪手法升级、活动愈加隐蔽。

### 资料 4

近年来，电梯事故频发，而今年来尤为惊心动魄。2015 年 7 月 26 日上午 10 时左右，湖北荆州市安良百货公司手扶电梯发生事故，一名女子因电梯与楼面连接的迎宾踏板松动，被卷入电梯内。女子在遇险的一刹那，双手奋力向前，将幼小的儿子托举送出，旁人救下孩子，而她自己则在短短 8 秒内被电梯吞没。荆州“电梯吃人”事件迅速传遍全国，引发社会强烈关注。然后就在 4 天之后，杭州某小区电梯突然下坠，女住户被夹身亡；9 月 7 日，济南历城某中学食堂，一名工作人员在搬运货物时，被突然运行的电梯夹住头部身亡；9 月 13 日，新民市某商厦电梯发生塌陷事故，一女子侥幸逃生；10 月 9 日，重庆轨道交通红旗河沟枢纽站内，一名 4 岁男孩不幸被卷入了扶梯右侧扶手带进口处不行人身亡……频频见诸媒体的电梯惊魂事件，一次次敲响了安全警钟。

根据有关资料显示，我国仅 2014 年上报的因电梯事故死亡的人数就达 36 人。据国家质检总局 2015 年 3 月份印发的文件显示，截至 2014 年底，全国电梯总量达到 360 万台，并保持以每年 20% 左右的速度增长。目前，我国电梯保有量、年产量、年增长量均为世界第一。由于目前部分电梯管理责任主体不明确、选型配置与使用条件不适应、维护保养不到位、以及老旧电梯逐步增多等原因，电梯事故时有发生。截至 2015 年 6 月底，全国 31 个省份及新疆生产建设兵团电梯使用和维护保养单位自查电梯 230 余万台，发现存在隐患的电梯 11 余万台。照此计算，隐患电梯占比达到 4.7%。

国家质检总局甚至用“全国电梯安全监管大会战”的字眼来定位 2015 年的工作要点，而各地也是在认真按照质检总局的要求制定“大会战”的实施方案。比如湖南湘潭市实施方案的工作目标是：通过全面排查和集中整治，掌握全市在用电梯安全状况，预防和减少电梯事故，降低电梯故障率，让群众安全乘梯、放心乘电梯。着力推动“无物业管理、无维保单位、无维修资金”电梯以及老旧电梯（使用年限已经达到 15 年以上的电梯）更新改造等“老大难”问题的综合治理，推动建立电梯安全责任保险机制。努力构建“企业全面负责、政府统一领导、部门联合监管、检验技术把关、社会广泛参与”的电梯安全管理多元共治格局。该市还成立了电梯安全监管大会战领导小组，要求：全面开展电梯安全风险大排查，专项整治“三无”电梯，协调做好旧电梯更新改造修理工作，加强电梯定期检验有效性，以及推动电梯安全责任保险和电梯应急救援体系建设等工作。大会战实施方案还制定了详细的工作步骤和时间节点，诸如宣传发动阶段、排查整治阶段、集中攻坚阶段、总结验收阶段。可见政府部门的决心之大，力度之强。

## 资料 5

上述这些事件给公众带来持续的危机感，暴露出了食品产业链和特种设备安监等方面的问题，政府公信力亦面临考验。

近年来，中央一直在加强食品安全工作的力度，先后制定了食品安全法及实施条例，设立了国务院食品安全委员会，开展了一系列专项治理和整顿。然而深层次的问题并未得到解决，每年各类食品安全问题仍层出不穷。以下几个案例折射出我国有些地方的基层政府在食品药品安全监管方面还存在一些问题。如某县食品药品监督管理局为进一步强化食品药品监督工作，从县人大代表、政协委员中聘请了 13 名社会监督员，8 个镇各聘请了一名食品药品安全协管员、169 个村都聘请了村级食品药品安全信息员，建立了“横向到边、纵向到底”的县、乡、村三级食品药品监管网络。但是，协管员、信息员缺乏食品药品安全监管基本知识；没有报酬或补助，工作积极性不高；监管对象多为本乡本村人，怕得罪人，遭报复。以上这些问题导致协管员、信息员不能真正发挥作用。另外，实际执法与现行法律法规存在脱节，如《医疗器械监督管理条例》规定的处罚起点在 5000 元，脱离农村和基层实际，难以规范执法。法律规定对不符合要求的餐饮服务单位要予以取缔，但现实中许多小餐饮业主都是下岗、失业和农村务工人员。如果坚决取缔，有可能影响社会和谐稳定。再如，某县现有的食品安全监管执法人员基本都是原从事药品医疗器械监管的人员，从未接触过食品相关业务知识，虽然不断加大相关法律法规知识和业务知识的培训力度，但仍无法完全达到食品安全执法工作的要求。

食品安全的监管从农田到餐桌，涉及农业、水利、盐业、工商、质检、食品药品监督等多个部门。以某县为例，目前是“铁路警察、各管一段”，段与段之间还存在着间隙。县政府虽然在食品药品监督管理局挂牌成立了食品药品安全委员会，但未能落实相应的编制及人员，加之县食品药品监督管理局与质检、工商、农业等部门属同级政府工作部门，协调难度大、监管手段有限，限制了食品安全综合协调工作的纵深开展。同时，管理食品加工小作坊和食品摊贩的地方法规迟迟难以出台，缺乏具体有限的监督方法和标准，形成了一定的监管盲区，留下了食品安全隐患。

近年来，各级领导高度重视矿山、交通、消防、护林防火、建筑施工等安全问题，要机构就成立机构，要人给人，要钱给钱，几乎没有任何领导拒绝和迟缓，在一些乡镇甚至成了中心工作。而与我们每个人的身体健康和生命安全息息相关的食品药品安全，却从未享受这样的礼遇。如某县食品药品监管对象有 5000 家左右，从业人员数万人，而食品药品监督管理人员编制仅 35 名。人均管理对象 150 家左右，人均工作量数倍甚至数十倍于其他行政执法队伍，监督管理任务非常艰巨，人少事多矛盾突出，再加上执法装备落后，行政执法取证设备缺乏等问题，潜在安全风险巨大。

## 资料 6

党的十八届三中全会通过的《中共中央关于全面深化改革若干重大问题的决定》明确指出：必须积极稳妥从广度和深度上推进市场化改革，大幅度减少政府对资源的直接配置。政府的职责和作用主要是保持宏观经济稳定，加强和优化公共服务，保障公平竞争，加强市场监管，维护市场秩序，推动可持续发展，促进共同富裕，弥补市场失灵。要“改革市场监管体系，实行统一的市场监管。”这就要求我们更加重视市场监管，广泛关注国外相关市场监管情况，针对我国市场监管的现状，研究提出实行统一的市场监管的思路举措。

徐某、王某负责浦东新区的 J 广场，商标广告、电梯设备、食品安全等是她们执法检查的范围。某川菜店内，两人穿过餐厅，直奔后厨。王某在前，从水果到凉菜间，从库房到冷库，每一处直抓要害，对于食品添加剂和废弃油更是她检查的重中之重。徐某在后，各类证照单据一一对照。“食品安全是人们关注的焦点，J 广场 70 商家中有 38 家是餐饮店，来不得半点马虎”。

“现在检查是从前到后、从里到外、所有细节都没放过”半年时间，酒店负责人张经理已经习惯了这样的“彻查”。“以前工商、质监、食药监各来各的，现在来检查的人少了力度反而更大了”。

某农贸市场集聚了大大小小的经营户，这里原本是“典型”的分散管理，新成立的市场监管所引入的“标准化”

新模式，全面提升了这里的食品安全监管力度。一线执法人员人手一本《农副产品市场监管检查操作流程》，这是征询了农贸市场、批发市场、街镇和市场监管所等各方意见后，编制完成的日常检查“掌中宝”。而从检查频率看，市场上门检查从原来的每月一次改为每周一次，涵盖原分属三个局职能的农产品索证索票、生产许可证检查、食品安全检测等。

但市场综合监管体制改革后，在一些专业性较强的监管领域，如特种设备监管、食品安全检验检测、医疗器材监管等，监管主体和监管对象之间的知识、信息、专业不对称等问题依然制约着相应监管水平的提升。尤其是基层监管执法人员仍不同程度存在知识结构不匹配、本领恐慌、心里不适应等问题，而基层执法人员要真正熟练掌握专业技能，尚需要一个较长的学习、锻炼过程。

面对风起云涌的新业态，政府监管业务日益繁重。如当下便利的网络订餐让不少人成了它的忠实拥趸。然后，互联网背后的餐饮商家也隐藏着卫生状况不过关等食品安全隐患。在浦东一家公司上班的白领小方最近遇到一件怪事，她一直用网络订餐来解决午饭问题，但有一次她点开一家饮品店的商家详细信息，竟然发现该商家上传的营业执照居然是一家汽车运输公司的。“老母鸡变鸭”，暴露的正是网络订单的食品安全隐患，而新的《食品安全法》已于2015年10月1日正式实施，如何运用“大数据”监管模式，促使网络订餐市场、食品销售和餐饮服务规范、有序、健康发展，对市场监管部门提出了更为严格的要求。

此外，目前一些基层市场监管人员身份不统一，待遇和福利不统一，“同工不同酬”现象较为普遍。尤其是基层市场监管人员基数大、职数少，晋升渠道不畅。如上海某区市场监管局55岁还是科员的员工有10个，越到基层年龄越大，职级越低。而且体制改革后，基层监管任务增加，压力增大，要学习大量新的业务，承担更多的职责。

### 资料7

深圳于2009年借大部制改革之机，率先在全国进行市场监管体制改革。大胆突破分段监管桎梏，改变监管领域的“碎片化”，将原工商、质检、知识产权三局整合，组建了市场监督管理局，不再保留市质监局、市工商局，把食品生产、食品流通、餐饮消费三个环节的食品安全监督管理职责一并划入市场监督管理局。2011年，深圳市进一步整合涉及食品安全监管的相关职能，将原由农业部门承担的食用农产品质量安全监管和原由卫生部门承担的食品安全管理综合协调等职能先后划入市市场监督管理局，并专门成立了市食品安全监督管理局（设在市场监督管理局内）。2014年5月，深圳市继续探索市场监管领域大部制改革的“升级版”，组建市场和质量管理委员会，主要承担制定政策、规划、标准等职能，并监督执行部门，由分管副市长任主任委员。委员会下设三个机构：一是深圳市市场监督管理局（挂市质量管理局、市知识产权局牌子）。二是深圳市食品药品监督管理局，三是深圳市市场监督稽查局。上述机构分别承担市场监管领域的行政管理和监督执法职能，市场监督管理局和食品药品监督管理局局长分别担任市场监管委员会副主任委员。在区一级分别设置市场监督管理分局和食品药品监督管理局作为市局直属机构，在街道设市场监督管理所作为两个区分局的派出机构。深圳模式呈现上下统一、中间分开的“纺锤形”结构。

### 三、作答要求

（一）结合“给定资料”，一些地方政府在食品监管工作方面存在的问题。

要求：观点明确，语言精练，条理清楚，字数不超过300字。

（二）结合“给定资料”，上海浦东新区是探索市场经济监管体制改革的成效以及存在的问题。

要求：观点明确，语言精练，条理清楚，字数不超过300字。

（三）结合“给定资料”，深圳市场监管模式的主要特点。

要求：观点明确，语言精练，条理清楚，字数不超过300字。

（四）阅读给定资料，以“加强市场监管”为主题写一篇文章。

要求：（1）自选角度，自拟题目；（2）观点明确，联系实际，分析具体，条理清楚，语言流畅；（3）总



字数 800~1000 字。

**温馨提示：****2018 年公考通网校重新起航****系统班+考前直播冲刺班+一对一申论批改班+面试通关课程  
更多好课等你挑选！****【参考答案与解析】****（一）【参考答案】**

问题有：（1）监管执法：①多重监管执法、职能交叉和真空，监管碎片化。企业守法成本高、浪费行政资源，监管执法不公平；②地方保护主义，监管体制缺陷大。③实际执法与现行法律法规存在脱节，难以规范执法。

（2）队伍建设：①领导重视度不足；②工作人员缺乏安全监管基本知识，收入低，易得罪人，工作积极性低，难发挥作用；③部分工作人员食品相关业务知识缺乏，难达到执法工作的要求；④缺乏相应的编制及人员，工作协调难度大、监管手段有限，限制食品安全综合协调工作的纵深开展；⑤任务艰巨，人少事多矛盾突出，执法装备落后，执法取证设备缺乏，安全风险大。

（3）制度法规：地方法规缺失，缺乏具体有效的监督方法和标准，有监管盲区。（299 字）

**（二）【参考答案】**

（1）成效：

①成立市场监督管理局整合构建新监管体系；

②机关瘦身、充实基层实现广覆盖；

③推进区县市场监督管理体制改革，将区县多部门垂直管理调整为区县政府分级管理，整合组建区县市场监督管理局；

④较好解决质监、食药监的基层执法力量不足问题，加大对市场安全和民生利益的保障力度；

⑤推行“标准化”新模式，提升食品安全监管力度；

（2）存在的问题：

①基层监管执法人员专业性不足，部分存在知识结构不匹配、本领恐慌、心理不适应等问题；

②政府监管需要适应新业态，任务繁重，面临如何运用“大数据”监管模式问题；

③部分监管人员身份不统一，待遇和福利不统一，基数大、职数少，晋升渠道不畅；

④基层监管任务增加，压力增大。（296 字）

**（三）【参考答案】**

1. 突破分段监管，将原工商、质检、知识产权三局整合，组建了市场监督管理局，把食品安全监督管理职责一并划入市场监督管理局。

2. 采取分类监管模式。充分考虑并区分对待普通产品质量与食品药品安全，将食品安全监管职能调整由专门的食品药品监管局承担，实现专业化监管；

3. 组建市场和质量管理委员会，主要承担制定政策、规划、标准等职能，并监督执行部门，由分管副市长任主任委员；

4. 深圳模式呈现上下统一、中间分开的“纺锤型”结构；

5. 统一监督执法队伍。由于行政强制、处罚等行为与市场主体利益直接相关，解决多头执法问题有利于减轻市场主体负担，提升监管公平性；

6. 宏观政策设计与微观监管有机结合。（283 字）

#### （四）【参考例文】

##### 加强市场监管 完善市场体系

市场连接着生产和消费，是国民经济运行的枢纽。市场秩序好坏，直接影响市场有效性发挥。随着新情况、新问题的出现，维护市场秩序的难度加大，需要政府部门进一步加强市场监管，也需要全社会共同努力。党的十八届三中全会提出：“改革市场监管体系，实行统一的市场监管。”这就要求我们更加重视市场监管，完善市场体系。

加强市场监管是全面深化改革的必然要求。一个繁荣的市场，是中国成为经济强国的重要前提；一个规范的市场，是中国成为一个法治国家的保证；一个开放的市场，是中国成为世界大国的基础。然而，政府要真正发挥市场在资源配置中的决定性作用，不能让她成为“脱缰野马”，而是要为她“保驾护航”，加强市场监管，看起来很美，听起来很对，但是做起来却难，政府要把握好三个方面，才能“化难为易”。

加强市场监管，完善市场体系，要以人为本，树立法治思维。要善于运用法治思维和法治方式履行市场监管职能，增强责任意识，树立科学监管理念。近年来，地沟油、瘦肉精、天价宰客、电梯伤人事件一直未曾断绝过。食品药品安全、产品质量和消费者权益受侵害的问题日益严峻。如果没有以人为本的安全理念，没有较强的法律意识和责任意识，食品药品监管部门与公安机关联合开展的法治专项整治行动将难以顺利开展，人民生活的安定和谐也将化为泡影。因此，加强市场监管，是以人为本的具体体现。

加强市场监管，完善市场体系，要大力推进监管体制改革。深圳于2009年借大部制改革之机，率先在全国进行市场监管体制改革，大胆突破分段监管桎梏，改变监管领域的“碎片化”，后又继续探索市场监管领域大部制改革的“升级版”，组建市场和质量管理委员会，建立与改革相适应的市场监管规则和办法，增强了监管执法的威慑力、公信力，实现了新的跨越发展。

加强市场监管，完善市场体系，重在落实监管执行。频频见诸媒体的电梯惊魂事件，一次次敲响了安全警钟，推动建立电梯安全责任保险机制，努力构建“企业全面负责、政府统一领导、部门联合监管、检验技术把关、社会广泛参与”的电梯安全管理多元共治格局，为综合治理“老大难”问题迈出重要步伐。浦东新区的J广场，对商标广告、电梯设备、食品安全等进行严格的执法检查，“从前到后，从里到外、所有细节都没放过”，全面提升了当地的安全监管力度。

政府的监管就像市场的“风筝线”，管的“太笨”，她飞不起来，管的“太松”，她就会断线，最终也难逃坠落的命运。因此，在思想上，我们要以法为规，以人为矩；在制度上，我们要坚持“求新”与“求全”并重；在执行上，我们要久久为功，追求务实与长效。相信，市场之光，一定会在科学、合理、规范的监管中熠熠生辉。（1086字）

## 4 2016年上海申论真题卷（B卷）

### 一、注意事项

1. 监考老师发给你的测试材料分为两部分：试题本和答题纸。
2. 测试开始前，请在试题本和答题纸上指定位置先填写好自己的姓名、准考证号等内容，然后再开始答题。
3. 申论考试与传统的作文考试不同，是分析驾驭材料的能力与表达能力并重的考试。作答参考时限：阅读资料40分钟，作答110分钟。
4. 仔细阅读给定的资料，按照后面提出的“答题要求”依次作答在答题卡指定位置上。
5. 监考老师宣布考试结束时，应立即停止答题，将试题本和答题纸留在桌上，然后离开考场。不得将试题本带出考场。
6. 特别提醒：
  - a. 本试卷科目代码为“21”，请考生务必将答题卡“科目代码”栏内对应数字涂黑，否则无法评分。
  - b. 答题时请认准题号，避免答错位置影响考试成绩。所有试题一律使用现代汉语作答。必须使用钢笔或签字笔，在答题卡有效区域内作答，超出答题区域的作答无效。严禁折叠答题纸！

谢谢你的合作。祝你成功！

### 二、给定资料

#### 资料1

铭记历史，离不开唤起记忆的遗址。烽火连天的抗战岁月，留下了许多抗战遗址，也留下了侵华日军罄竹难书的罪证。令人遗憾的是，随着时间的流逝，不少抗战遗址如今正逐渐淹没在平常生活之中。喜峰口、山海关、潘家口等战役都是在长城上进行的，但目前现场却没有任何标识。长城上每天游人如织，谁又知道这里曾经发生过什么？不少烈士陵园由于年久失修而变得荒废败落，杂草丛生，谁会记得这里埋葬的都是为国捐躯的先烈？像湖南衡阳五马归槽遗址已成为一处坟山，车公山抗日战壕遗址现为村民菜地。

2014年9月，有人网络曝光了L省F市“万人坑”遗址纪念馆破坏严重，出现纪念碑损坏、馆内照明损毁、遗骨散失等问题。“万人坑”纪念馆位于F市太平区孙家湾街道，占地面积56万平方米，主要包括：死难矿工遗骨馆、抗暴青工遗骨馆、死难矿工单人典型馆及相关遗存纪念广场、纪念碑等附属设施，建成后接待了全国各地参观者达380余万人。1998年，L省国防教育领导小组确立“万人坑”纪念馆为省国防教育基地；2006年，F市“万人坑”经国务院核准，公布为第六批全国重点文物保护单位；2009年，中宣部公布为全国爱国主义教育示范基地；2014年，国务院将其列入第一批国家级抗战纪念设施、遗址名录。

“万人坑”纪念馆始建于1968年，由当时的F市矿务局发掘并管理。矿务局经济条件不好，纪念馆长期仅维持着留人看守的水平。2007年，矿业集团（矿务局改制后成立）因经营困难、自身发展举步维艰，纪念馆因而被移交市文化广局管理。纪念馆成立四十多年来，仅作了一些小修小补。由于年久失修，缺乏管理，纪念馆各项设施、遗物毁损严重。

2014年9月30日，《人民日报》刊发了《各地抗战遗址屡遭破坏》的评论文章，对L省F市等地抗战遗址遭受破坏的现象进行了评论，强调“不忘昨日，才能更好肩负今日的使命担当，遗址不是普通的景观，有效保护好、重视传承好、合理利用好，可以让历史历历在目，让精神代代相传。”文章刊发后，F市市委、市政府实地调研发现遗址保护确实存在诸多问题，组织工作人员连续加班，展开了遗址冬、西两馆修复工作。L省省委、省政府和国家文物局也迅速落实对纪念馆的维修改善工作。纪念馆闭馆10个月，完成了抢修保护。

#### 资料2

抗战期间，苏联志愿航空队、中国空军、美国志愿援华航空队（也称“飞虎队”）先后进驻Z市机场，频频架机与日军战机展开血战，为抗击侵略者做出了巨大贡献。战后，留下跑道、指挥塔、防空碉堡、营房群等历

史遗址，其中，Z市旧机场及防空工事群遗址旧营房A区，位于Z市市航五路。2015年8月，抗战胜利70周年前夕，新为媒体实地探访“飞虎队”遗址，发现遗址被委托给私人公司管理，遗址内部分区域几乎被荒草淹没，一些建筑受损破败不堪。旧营房A区大门紧闭，墙上用红漆歪歪扭扭写着“飞虎队保护营区”。围墙内有几栋红砖建筑，一条石子路两旁长满荒草，若不是一旁有“全国重点文物保护单位”石碑，很难想象这是“飞虎队”遗迹。进入遗址内部，只见几栋破败的瓦房，边上长满灌木，间杂着还种了玉米、红薯等，营房内墙壁斑驳，门窗和天花板大多脱落；Z市另一处旧机场及防空工事群遗址B区则归市动物园管理——几栋红砖建筑外墙上，“XX老家菜馆”和“XX酒店客房部”的招牌格外刺眼，据说是承包给了私人。

2008年旧营房A区的遗址升级成为国家文物保护单位，被委托给Z市画家村文化发展有限公司（以下简称“画家村公司”）管理，工商登记显示，此公司2008年2月成立，经营范围是“文化艺术交流、会务会展服务等”，成立后不久，与文物部门签订了委托开发协议。目前该公司只有6个人，2人看守遗址。该公司介绍，已投入近700万元用于保护。对遗址杂草丛生、建筑破败的状况，公司主要负责人承认工作不到位，农作物为看守人员所种。因政策限制，公司的开发规划一直未获得通过，故一直未进行实质性开发。市文广局负责人称，在2013年之前，“飞虎队”遗址只是市级文物保护单位，当时并没有如此严格的保护规定。文化部门考虑过对“飞虎队”抗战遗址进行保护和开发，拟建设抗战文化园。目前，国家文物局已经立项，编制相关保护规划，并向上级申报划定保护区范围，但由于与画家村公司有协议，实质保护工作难以开展。2015年8月3日，Z市发布通报称，市政府决定一个月内将旧机场及防空工事群遗址出租的文物点收回，并预拨资金1000万元用于文物抢修及环境整治。

### 资料3

新中国成立以来，重大的抗战遗址，有的被列为国家级、省级、市级文物保护单位，有的建成了爱国主义教育基地、国防教育基地，得到及时到位的保护。2014年经党中央、国务院批准，中国人民抗日战争纪念馆等80处纪念场馆被公布为第一批国家级抗战纪念设施、遗址名录，将抗战遗址保护提到了前所未有的高度。

斜阳洒在苏州河北岸，西藏路桥厚实的桥墩立于河水之中，宁静安详。78年前这座貌不惊人的大桥曾是租借的分界线，那场震惊世界的激战就在大桥北岸的四行仓库发生。四行仓库于1933年开业，因旧上海金城、中南、大陆、盐业四间银行共同出资建设而得名。1984年9月3日，上海市文物保管委员会正式将其命名为“八百壮士四行仓库抗日纪念地”。近期，此处著名抗战遗址经过改造后正式开放，一尊“八百壮士”抗战纪念雕塑矗立在纪念馆广场，讲述那段壮怀激烈的历史。

“四行仓库保卫战”是“八·一三”淞沪会战中的著名战役。1937年10月26日，谢晋元奉命率“八百壮士”（实际人数为400余人）在四行仓库坚守孤楼，掩护部队后撤，孤军浴血奋战了四昼夜，击退日军数十次进攻，击毙200余人，在中国抗战史上写下壮烈光辉的一页。四行仓库孤军抗敌的事迹广为传颂，上海音像资料馆馆藏历史影像存有当年“八百壮士”与日军在四行仓库英勇奋战的场景。

“四行仓库保卫战”是一场向全世界直播的战争。数百中外新闻工作者在离四行仓库几十米外的苏州河对岸和南京路的高楼上目睹了“八百壮士”抵御日军的全过程，为他们身陷重围、前仆后继、奋勇杀敌的精神所感染。《大美晚报》评论，“吾人目睹闸北华军之英勇抗战精神，于吾人脑海中永留深刻印象，华军作战之奋勇空前未有，足永垂青史。”英国《新闻记事报》评论，“华军在沪抵抗日军之成绩，实为任何国家史记中最勇武的诸页之一。”更可贵的是，华裔摄影师王小亭冒着被流弹击中的危险，用电影摄像机拍摄下当时“八百壮士”反击日军进攻的全过程，这成为中国抗战史上的一段经典影像。

为纪念中国人民抗日战争暨世界反法西斯战争胜利70周年，2015年5月27日，上海抗战影像地图正式上线。此次除了有传统地图外，人文与传播学院、都市文化研究中心还联合腾讯网共同制作了电子地图。每个电子标注的图标。都可以放大。假如你行走在淮海路上，突然想看看周边有哪些抗战遗迹，只要打开电子地图，就能边走边寻访。上海抗战影像地图以地理数据信息库为支撑，以直观的时空分布图为表现形式，再现了1931

年“九·一八”事变到 1945 年间两次淞沪战役及与八年抗战相关的历史要素，最终将呈现上海抗战历史的五张不同历史要素图。最先上线的是《抗日救亡分布图》，《淞沪抗战分布图》等其余 4 张地图将陆续上线，图中标注的每个抗战历史要素的名称、时间属性和空间坐标均经过历史学方法严格考证。

#### 资料 4

位于重庆市渝中区的李子坝抗战遗址公园，绿树成荫、环境宜人，不少市民在此休闲观光。背靠鹅岭，面朝嘉陵江的狭窄漫坡上，分布着高公馆、李根固旧居、刘湘公馆、国民参议院旧址、交通银行学校旧址等 5 组抗战历史文物建筑，集中展示了抗战时期政治、经济、文化、军事、外交、金融等各方面的历史风貌。李子坝抗战遗址公园占地 12 万平方米，前后连接曾家岩、红岩村，处于重庆抗战文化遗址长廊，是重庆首个抗战遗址公园，也是国内首个以主题公园形式展示历史文化保护成果公园。

据公园建设方面负责人介绍，公园修建前，辖区内房租旧址不少被用作居民生活用房和工厂厂房，原有房屋 60% 以上属于 C 级、D 级危房，74% 的家庭处于最低住房保障水平以下，85% 的家庭属低收入家庭。按照“保护为主，抢救第一，合理利用，加强管理”的工作方针，重庆将李子坝抗战遗址公园的建设与拆危建绿环境整治结合起来，总投入 4.6 亿元进行拆迁建设，使项目内 650 余户、2000 多居民告别了危旧房，住进了新家园。在旧址修复的基础上，公园栽种了香樟、黄桷树等树种，绿化率超 60%。公园将沿江堤岸整治、危旧房改造与保护文化遗址结合起来，打造成文化体验、旅游观光、文博展览的文化经济产业带。李子坝抗战遗址公园的建成是综合利用与保护开发抗战遗址的范例。

抗日战争时期，重庆是中国抗战大后方的政治、军事、经济、文化中心。据全国第三次文物普查，重庆现存抗战遗址 395 个，涵盖重要史迹、外事、军事建筑、名人故居等 11 个类别。此外还有 92001 件（套）可移动抗战文物，“重庆抗战遗址数量多，具有多样性和唯一性，有重要的历史价值，广泛分布在重庆 22 个区县，保护开发存在一定难度。”重庆市文物局领导说。

目前重庆有 129 处抗战遗址对外开放，其中全国重点文物保护单位 22 处，专题展览 32 个。已建成重庆看展遗址博物馆等 15 家抗战类博物馆，宋庆龄旧居等 10 个抗战遗址文化交流基地，以及上清寺—红岩村片区等 4 个抗战文物旅游区，年均接待人数约 650 万人次。在充分调动社会力量参与抗战遗址保护利用方面，重庆还开展“抗战大后方历史研究”，出版《中国抗战大后方历史文化丛书》，武夷滨江公司、康翔实业公司、成都铁路局等共投入 2300 余万元，参与保护抗战遗址 18 个。此外，在摸清资源情况、明确保护对象的基础上，2014 年，重庆市文物部门联合规划部门编制《重庆市主城区抗战遗址定点定位规划》，将主城区 314 个抗战遗址的位置、保护范围、保护要求纳入城市规划管理信息系统，使抗战遗址保护工作更加科学规范。2015 年，市政府又将《重庆市抗日战争遗址保护利用管理办法》列入立法计划，进一步加强抗战遗址管理。

#### 资料 5

近年来，国家对英雄的褒扬政策法规不断完善，烈属抚恤标准不断提高，尊重英雄，传承英雄的精神已凝聚为社会共识，形成社会主流价值观。但也有极少数思想异化的人，打着“还原历史”“寻找真相”等幌子，采取抹黑和丑化英雄的方式，混淆是非曲直，冲击主流价值观。

近期，网上出现一些别有用心的人恶意制造、散布谣言，抹黑邱少云、黄继光、董存瑞、雷锋等先烈的英雄事迹，一时间之一甚至恶搞英雄人物的声音甚嚣尘上，歪曲国史、党史、军史，在社会上特别对年轻一代产生能极大负面影响。更有甚者，冒着“追求真相”之名，公开质疑上甘岭特级战斗英雄黄继光的英雄事迹。认为用“粗浅的物理分析”可以推测堵抢眼的事不可能发生，可能是记者的杜撰。还有人用恶搞的方式编顺口溜诋毁黄继光。这些低俗段子成为浅薄的人网上调侃的内容。类似的事例还有，为战场埋伏而被活活烧死的邱少云事迹更被质疑违反生理学常识。狼牙山五壮士被污蔑行窃乡里，助人为乐的雷锋被抹黑成动机不纯，无私奉献的焦裕禄也被肆意丑化……

敬畏历史、崇敬英雄，是每个国家对待本国文明最基本的价值底线。网络时代，如何更好的捍卫英雄？人

人民日报客户端围绕“捍卫英雄”宣传主题，通过原创、转载、推送等途径，累计发稿 33 篇，其中，人民日报新媒体版《摸黑英雄成网络公害》被多家媒体转载，取得良好的传播效果；原创栏目《小调查·恶搞引争议·你怎么看？》好评如潮。“对话价值观”栏目以“捍卫英雄”为主题，邀请英雄连队官兵、社会各界相关专家、网络意见领袖畅所欲言，在充分碰撞中进行引导。

今年 7 月 8 日至 14 日，央广“中国之声”策划系列报道《捍卫英雄》，通过微信平台连续推出《黄继光血肉之躯为什么能挡住子弹？》、《董存瑞是如何炸碉堡的？》等 7 篇力作，用事实说话，正本清源。报道同时也刻画了英雄作为普通人的朴素情感，在反驳质疑的同时，拉近英雄与大众的距离。“一些人对英雄造谣中伤，妄图通过‘细节考证’来推倒英雄。我们只有一种态度：坚决回击！”央广呈现了英雄战友、亲人提供的史料图片、音频和视频，并在报道尾声请他们直接出来发言：在提供确凿的证人、证言、证据的同时，还邀请广播听众、微信微博的网友参与到为英雄正名行动中来。

新华社“为英雄正名”系列报道充分运用全媒体手段、以文字、图片和视频等方式综合展示英雄人物的光辉形象和英勇事迹，借助新华网、新华网客户端等平台，与优酷网等拥有庞大用户规模的视频网站合作，播出《为英雄正名：亲历者讲述刘胡兰的真挚恋情》、《为英雄正名：邱少云牺牲之谜》等视频节目，扩大了影响力和覆盖面。中央主要媒体和网站“为英雄正名”报道推出后，媒体和广大网民纷纷发声表示支持。一些媒体刊文认为，为英雄正名是捍卫历史的良心，让人们重新认知英雄，了解英雄事迹，并参与到捍卫英雄形象的反击战中。

关注军事类微信公众号的网友或许会发现，一个名叫“我么的天空”的微信公众号最近不断推出捍卫英雄稿件，这个公众号正是黄继光烈士生前所在部队创办的。7 月 10 日以来，“我们的天空”已推送了 8 篇相关文章。连队现任连长说：“63 年前，英雄前辈为我们守住了上甘岭，守住了国门；63 年后的今天，为英雄守住精神上的上甘岭是我们义不容辞的责任！”很多个夜晚，“黄继光连”连队宿舍已熄灯，“网络名人进军营”活动成员的住地却仍旧热闹，十余家军地媒体记者与新媒体账号负责人，或敲打键盘，或戳动手机“爬格子”。大家说，“低头”忙碌，为的是让更多的网民和读者抬起头来，仰望我们的英雄。

据 2015 年 8 月 10 日中国青年网消息，7 月初的全国群团工作会议上，习近平总书记对共青团引领团员青年抨击网上侮辱邱少云烈士的现象提出表扬，称赞团员青年的行动压住了歪风邪气，弘扬了正能量，做得好。

## 资料 6

2015 年 8 月 6 日是日本广岛原子弹爆炸 70 周年纪念日，广岛举行了“原子弹爆炸遇难者悼念暨和平祈愿仪式”。据日本媒体报道，有一百多个国家的代表参加仪式，创历史之最。日本首相安倍晋三在仪式上发表演讲提到，要在联合国大会提交新“废除核武器决议案”，称日本作为世界上唯一的核爆受害国将会敦促各国放弃使用核武器。然而，高调纪念“原爆被害历史”的日本政府面临着有识之士的质疑：作为二战发起国，为何没有铭记加害者的责任？“广岛的遭遇是日本人受难的缩影。”日本著名历史学家藤原彰认为，这造就了日本人很强的受害意识。然而那些悲惨的记忆只是原子弹所象征的战争历史的一部分，远不是全部，更不是原因。“他们很少想过，正是由于日本的战败，亚洲人民的苦难也结束了。亚洲国家从日本加害的角度理解战争，而这是日本人认识薄弱的地方。”前联邦德国总理施密特 1995 年访问广岛时曾对日本人谈起德国经验，“不可以简单地用一些偶然事件的因果关系来解释历史，历史包含着义务和责任。”

2013 年 8 月 6 日，广岛原子弹爆炸纪念日，本该深刻反省历史的日本，却迎来二战后最大航母“出云”号下水，该舰排水量超过两万吨，配备了先进电子设备，具有强大攻击能力，它的长度只比法国“戴高乐”号航母短 13 米，其直通甲板能起降最新的 F-35B 战斗机。因国际法限制，日本将“出云”号划归“直升护卫舰”，但 2.7 万吨的排水量却让专家和媒体直接将它与航母划上等号。国内外许多家媒体还注意到，上一艘“出云”号是日本侵华舰队的旗舰。“出云”号与中国的渊源颇深。因《马关条约》获得两亿两白银巨额赔款，日本 1897 年向英国订造老“”号巡洋舰，技术指标属当时顶尖。该舰在日俄战争中先后率队歼灭沙俄海参崴舰队和菠萝的海舰队。1932 年“一二八”事变和淞沪会展中，“出云”号引导舰队对上海军事民用目标射击，是日本还军横行中国的象征。除了

“出云”号之外，目前日本海上自卫队还拥有 1.9 万吨的“日向级”直升机驱逐舰和两艘 1.4 万吨的“大隅级”两栖登陆舰，这些大型舰船都拥有直通甲板，随时可改装成航母。

最近日本计划将象征军国主义的军旗“旭日旗”认定为与国旗同等地位。从中日甲午战争，到日俄对马海战，这十六道血色光芒的太阳旗悬挂在日本军舰收尾，是日本军国主义扩张的证物。亚洲人民不会忘记这面军旗。在 2013 韩国举行的东亚杯上，当有日本球迷展示这面军旗时，立即遭遇韩国球迷回击，他们打出横幅：忘记历史的民族没有未来。

### 资料 7

2014 年 2 月 27 日，全国人大常委会通过了设立中国人民抗日战争胜利纪念日和南京大屠杀死难者国家公祭日的决定，这既是为了大力加强爱国主义教育，更是为了增强中华民族共同的历史记忆，凝聚民族精神。习近平总书记指出：“以爱国主义为核心的伟大民族精神是中国人民抗日战争胜利的决定因素。古往今来，任何一个有作为的民族，都以自己的独特精神著称于世。爱国主义是中华民族民族精神的核心。爱国主义是中华民族民族精神的核心。近代以来，中国人民为争取民族独立和解放进行的一系列抗争，就是中华民族觉醒的历史进程，就是中华民族精神升华的历史进程。这种民族觉醒和民族精神升华，在抗日战争时期达到了全新的高度。”纵观世界历史，依靠武力对外侵略扩张最终都要失败，这是历史规律。历史记忆不能被抹去，悲惨的历史更不会重演。

2015 年 9 月 3 日上午，中国人民抗日战争暨世界反法西斯战争胜利 70 周年纪念大会在北京天安门广场举行。媒体梳理，纪念大会中的阅兵仪式有多个“首次”：首次在抗战胜利纪念日阅兵，首次邀请外国军队代表参加分列式，首次由将军担任领队，首次由 300 余名抗战老兵、英烈子女、抗战支前模范组成的 2 个乘车方队，行进在受阅方队最前面，接受祖国和人民的致敬等等。受阅的抗战老同志，由目前健在的国共两党抗战老兵带班，我党和国民党抗日英烈后代代表，以及抗战支前模范代表组成。他们中，抗战老兵平均年龄 90 岁，最年长的 102 岁；抗战支前模范平均年龄 88 岁，英烈子女平均年龄 78 岁。七十多年前，抗战英雄们为民族而战、为祖国而战、为尊严而战。这些从苦难辉煌、枪林弹雨中走来的英雄前辈通过广场时格外让人动容，习总书记率先起身向老同志们挥手致敬。全国各地数以亿计的现场观众和网友都衷心地表达对老兵们的崇敬，“今天来之不易的幸福生活跟和平年代靠的都是这些老兵们啊”，“他们是为人民坚守的坚毅军人！致敬！”，“或许，到下一个十周年，我们就很难看到抗战老兵了。”

阅兵直播在社会各界引起了强烈反响。在河北涉县八路军 129 师司令部旧址院内，几位白发苍苍身着绿色军装的老人吸引了人们的目光，他们是亲身经历过抗战烽火的八路军老战士。看着画面上整齐威武的受阅部队、现代化的高科技武器，老人们潸然泪下。今年 94 岁的八路军老战士董某在抗日战争中击毙敌伪军 40 多名，被称为神枪手。老人回忆起当年的小米加步枪，又看到长安街上开过的巡航导弹、第三代战机时，激动地说：“我是一名老兵，我当兵时每名战士只配有俩手榴弹一支步枪，现在我们有这样的军队，有党的领导，我一百个放心。”

今年 35 岁的机关干部吴某说，他的太爷爷是一名八路军战士，1942 年被日军杀害，他作为烈士家属到天安门前观礼，“我非常激动，我为我太爷爷自豪。我是共产党员，是烈士家属，在学习和工作中更要以身作则，不能给太爷爷丢脸。”张某是京郊一名村官，她组织村干部村民共同收看了现场直播。她说，我们应该珍惜今天和谐美满的日子，这是无数先辈用青春和热血换来的。战争带来了伤痛，我们不能忘记历史，作为当代青年基层工作者，我要立足基层、服务农民，为祖国的社会主义新农村建设添砖加瓦。

看完电视直播后，旅居瑞士的华人朱某说，只有身处异国他乡的时候，才能更深切地体会到国家强大是多么的重要；斯坦福大学医学院放射学系博士后卞某，做完实验后特地赶回家收看了直播，他表示阅兵式中印象最深刻的是“升国旗的时刻”；在泰国教中文的黄某表示，从纪念活动开始就守在屏幕前看直播了，“有几个镜头让我想起革命先烈，热泪就流了下来。”



美国《纽约时报》、《洛杉矶时报》和英国《卫报》的网站进行了图文直播。英国广播公司评价说：“此次直播向国内和国外展示了中国的军事实力，令人惊叹。”众多外媒在看过阅兵直播后，纷纷用“盛大”、“震撼”、“精彩”等词来形容阅兵，认为阅兵向全世界展现了中国自信，以及守护和平的决心。

俄罗斯驻意大利大使谢尔盖·拉佐夫评论道，中俄两军共同参加纪念中国人民抗日战争暨世界反法西斯战争胜利 70 周年阅兵，具有重大象征意义，体现了中俄全面战略协作伙伴关系，宣示了两国共同捍卫欧亚大陆乃至全球和平与稳定的决心。

### 三、作答要求

（一）结合给定资料，总结两个抗战遗址保护不力的案例中存在的共性问题，并简要分析原因。（20 分）

要求：概括准确，条理清楚，语言精练，字数不超过 200 字。

（二）结合给定资料，总结抗战遗址保护的经验和教训。（20 分）

要求：概括准确，条理清楚，语言精练，字数不超过 300 字。

（三）结合给定资料，对社会各界主动捍卫英雄名誉的意义作简要分析。（20 分）

要求：概括准确，条理清楚，语言精练，字数不超过 300 字。

（四）阅读给定资料，以“新形势下如何肩负起历史赋予我们的使命担当”为主题，写一篇文章。（40 分）

要求：（1）自选角度，自拟题目；（2）观点明确，联系实际，分析具体，条理清楚，语言流畅；（3）总字数 800~1000 字。

**温馨提示：**

**2018 年公考通网校重新起航**

**系统班+考前直播冲刺班+一对一申论批改班+面试通关课程  
更多好课等你挑选！**

**【参考答案与解析】**

**（一）【参考答案】**

1. 共性问题：

- ①遗址没有得到与其重要性和保护级别相匹配的保护和开发；
- ②遗址内建筑设施、遗物毁损严重；
- ③遗址无法发挥应有作用；

2. 原因分析：

- ①遗址遗迹年久失修，缺乏妥善管理；
- ②遗址保护人员工作不到位，缺乏科学保护意识；
- ③遗址保护缺乏专业人才，资金投入不足；
- ④遗址保护、开发项目受到政策和合同限制；
- ⑤遗址管理权多次变更，权责不清，文博部门没有及时介入；
- ⑥地方政府重视不够，实地调研不足，监管缺位。

**（二）【参考答案】**

- 1. 政府要开展实地调研，及时进行抢修保护；
- 2. 文博部门及时介入，拨付资金用于文物抢修和环境整治；
- 3. 国家重视保护工作，制定公布抗战纪念设施、遗产名录，将抗战遗址列为文物保护单位，建成爱国主义、国防教育基地；
- 4. 制作抗战影像传统地图和电子地图；
- 5. 按照“保护为主，抢救第一，合理利用，加强管理”方针，将遗址公园建设与拆危建绿环境整治相结合，打造文化经济产业带，做好抗战遗址综合利用和保护；
- 6. 充分调动社会力量参与抗战遗址保护利用；
- 7. 在摸清资源情况、明确保护对象的基础上，编制遗址定点定位规划，将遗产保护纳入城市规划管理信息系统，使保护更加科学规范；
- 8. 完善抗战遗址保护的立法工作，进一步加强管理；

**（三）【参考答案】**

意义如下：

- 1. 个人：①有利于树立敬畏历史，崇敬英雄之心，主动捍卫英雄尊严；②坚守文明价值底线，并主动弘扬爱国主义精神；③树立广大网民文明上网的理念，增强辨别能力，不信谣、不传谣。
- 2. 社会：①还原英雄人物事迹真相，正本清源，积极引导民众正确看待历史，重新认知英雄，了解英雄事迹，拉近大众与英雄的距离。②扩大英雄事迹的影响力和覆盖面，发动民众参与到捍卫英雄的活动中来，赢得社会支持，营造社会氛围。③形成对谣言的高压态势，净化社会风气和网络环境。④压制歪风邪气，弘扬社会正能量。

3. 国家：①有利于社会主义核心价值观的构建，凝聚人心，实现伟大复兴的中国梦。②有利于铭记历史、缅怀先烈、珍爱和平、开创未来。

#### （四）【参考例文】

##### 倾听历史回响 追问使命担当

建国六十六载，由弱而强，屹立东方，我们不仅战胜了侵略者，也战胜了持续近百年的贫困和落后，曾经趾高气扬的西方大国不得不承认我们的崛起，曾经的东亚病夫自信地走到了世界舞台的中心。然而，“君子安而不忘危，存而不忘亡，治而不忘乱。”君不见，多少抗战遗迹疏于管理、屡遭厄运，多少英雄人物如今受到诬蔑嘲笑？历史不能被忘记，未来需要我们去开创，这是一份责任，更是一肩重担，是一条道路，更是一次登攀！

“以史为鉴，可以知兴替”，历史赋予了我们使命，我们需要保存对历史的追思与回忆，倾听历史回响，才能给我们指明未来发展的方向。“史之为用，国之要道”，历史不能只停留于书本，只停留于文字，这样会限制她的功能，有效保护和科学开发抗战遗址，可以让人们有机会获得更多直接的历史体验，从而更好地了解历史、反思历史。（后接材料对策中的信息）

“男儿何不带吴钩，收取关山五十州”，历史使命需要我们的担当，这种担当精神要化作血液，入我心入我脑，才能不辜负民族复兴的崇高使命。（后接材料对策中的信息）

“靡不有初，鲜克有终”，任何的使命都不可能只通过一腔热血去完成，在当前形势下，要做到多方合力，勇于创新才能真正担好历史交付的重任。（后接材料对策中的信息）

曾有一位军人说过，“一代人有一代人的使命，一代人有一代人的追求，革命战士坚守下来的江山，一草一木都不是多余的，要在我们手上建设得更加美好。”诚想，在十三五规划即将大幕拉开的今天，真实的战争只沦为主旋律电影中的背景，曾经的英雄只沦为娱乐大片的噱头，使命担当只沦为人们茶余饭后的笑谈，国家的未来，将终有一天在我们的手中变得暗淡无光！

## 5 2017年上海申论真题卷（A卷）

### 一、注意事项

1. 监考老师发给你的测试资料分为两部分：试题本和答题纸。
2. 测试开始前，请在试题本和答题纸上指定位置先填写好自己的姓名、准考证号等内容，然后再开始答题。
3. 申论考试与传统的作文考试不同，是分析驾驭资料的能力与表达能力并重的考试。作答参考时限：阅读资料40分钟，作答110分钟。
4. 仔细阅读给定的资料，按照后面提出的“答题要求”依次作答在答题卡指定位置上。
5. 监考老师宣布考试结束时，应立即停止答题，将试题本和答题纸留在桌上，然后离开考场。不得将试题本带出考场。
6. 特别提醒：
  - a. 本试卷科目代码为“21”，请考生务必将答题卡“科目代码”栏内对应数字涂黑，否则无法评分。
  - b. 答题时请认准题号，避免答错位置影响考试成绩。所有试题一律使用现代汉语作答。必须使用钢笔或签字笔，在答题卡有效区域内作答，超出答题区域的作答无效。严禁折叠答题纸！

### 二、给定资料

#### 资料1

政府购买公共服务是实现我国政府职能转变、构建良好政府与社会关系、实现社会治理创新的重要措施。党的十八大报告提出“继续加大政府购买公共服务力度，进一步提高公共服务质量和标准、强化政府购买公共服务质量的职责、加强公共服务标准化建设”，“着力提高公共卫生、医疗、教育、文化、社会保障等服务质量”，进而全面促进经济社会和人的发展。

2013年9月国务院办公厅颁布《关于政府向社会力量购买服务的指导意见》，要求充分认识政府向社会力量购买服务的重要性，正确把握政府向社会力量购买服务的总体方向，规范有序开展政府向社会力量购买服务工作，扎实推进政府向社会力量购买服务工作。2015年财政部、民政部与工商总局印发《政府购买服务管理办法（暂行）》通知，明确规定承接主体保证服务质量和效果，并且接受主要相关部门、服务对象及社会的监督。

#### 资料2

近年来，群众健身热情空前高涨，公共体育服务需求迅速增长。然而，既是体育事业管理者，又是体育服务“供应商”的体育行政部门，2013年底M市在全国率先出台《关于购买公共体育服务的实施办法》。2014年4月，政府购买公共体育服务首批18个项目对外公开发布，46家企业和体育组织参与竞标；7月，有16家单位与政府签约，政府为项目“买单”共99万元。至此，M市主动转变政府职能、探索实施政府购买公共体育服务的系列做法基本形成。

买什么？群众说了算。项目都以群众需求为出发点，项目设置“问需于民”，首批18个购买项目中既有最具基础的“三大球”，也有群众喜闻乐见的健身秧歌、舞龙舞狮、太极拳剑等，覆盖了不同群体的需求。怎么买？“联合”说了算。由高校教授、社会组织代表、资深媒体人员等组成评审组，按统一标准对各申报单位进行评审，确定最终的承接单位和购买金额，并向社会公示，确保公开公平公正。如何评？社会说了算。所有承接单位均签订协议，实施合同化管理，项目实施情况有没有达到要求，逐一对照合同清晰明了。

政府购买也激活了沉闷已久的体育市场。过去，由于缺乏资金，协会主办的比赛活动规模小、影响弱，参与和服务人群有限；现在，政府资金可作为比赛启动经费，再加上协会的市场化运作，举办M市有史以来规模最大的舞龙比赛才成为现实。2014年政府购买的18项赛事活动，现场观摩和参与的群众近10万人，共吸引社会资金超过100万元，达到了高效规范化使用财政资金、满足群众公共体育服务需求目的，实现了社会效益和

经济效益双赢。2014年10月，国务院出台的《关于加快发展体育产业促进体育消费的若干意见》明确指出，要加快政府职能转变，通过政府购买服务等多种方式，积极支持群众健身消费。国家体育总局的相关负责人认为，M市探索政府购买公共体育服务的做法走在了全国前列，为全国范围内体育行政部门转变职能、加快体育事业发展提供了范本。

### 资料3

北京市朝阳区某小学三年级的学生们，已经跟皮影戏传人周师傅学习了2年。每周三的下午3点半放学后，不用出校门，在学校的专业教室里，周师傅准时前来，给喜欢皮影戏的孩子们上课。而上这门课，家长不用出一分钱。从2014年1月开始，北京市推出全市中小学课外活动计划，采取政府购买服务方式，每年投入5亿元用于中小学课外体育、文艺、科普社团活动。两年多来，这项为家长解忧的教育公共服务，成了北京市推进素质教育资源整合和发挥教育、社区以及家庭教育合力的突破口，生发出一系列能让家长和学生真正享受到的优质教育成果。

长期以来，由于孩子放学时间和家长下班时间存在时间差，很多家长只好给孩子报社会机构举办的各种托管班或培训班。虽然这些托管班存在师资差、偶尔也有安全隐患等问题，但还是成为不少家长“无奈的选择”。北京市教委推出中小学课外活动计划后，在星期一至星期五下午放学后的3点半至5点这期间，各中小学都会安排课外活动，而费用由财政部门按照城区学生生均400元、远郊区县学生生均500元给予补贴。在中小学生学习课外活动计划中，通过“政府购买社会服务”的形式，学校只能为学生提供体育、文艺、科普等内容，不得上文化课，时间每周不少于3天，每天不低于1个小时。对家长来说，不用花钱，孩子有人管，还能满足孩子全面发展和个性化需求。

“政府买单解决课后3点半难题并非简单的变社会托管为学校托管。”北京市教委工作人员说，“更重要的是，在满足学生教育消费的多元化需求中，重构教育的供给体系。”

为了给课后3点半教育注入更多的教育资源，北京市教委与北京市科协联合开展“科学家进校园”活动，并邀请一些有参与意愿同时又有相对固定时间的艺术家和文体明星，到中小学设立工作室。西城区教委推出了“城宫计划”，在每个街道选一些基础条件较好的中小学作为基地，建设学校少年宫，整合师资、场地等教育资源，开展以普及为特点的科技、艺术和体育等活动。

### 资料4

上海市是全国最早进行政府购买公共服务的城市之一，1995年浦东新区社会发展局即委托某社会团体管理浦东新区L市民会馆。2009年开始，上海市民政局与区县民政局从两级福利彩票公益金中共同出资，以上海市社区服务中心作为招投标平台，面向已注册登记，满足一定条件的社会团体、民办非企业单位和公益性非营利事业单位三类组织，按比例配套使用福利彩票公益金购买社区安老、济困、扶优、助残服务以及其他社区公益服务。2009-2012年这四年间，社会团体依次中标23个、9个、9个、18个，民办非企业单位依次中标52个、27个、37个、37个，公益性非营利事业单位依次中标10个、4个、1个、3个。

除了上海市民政局外，市绿化市容局通过定向、招标邀标的方式向直属的23个改制企业和国有企业购买环卫作业、绿化养护、林业养护等服务，全市一年约有5.8亿元的绿化养护投入，其中公开招标邀标占20%。市水务局、海洋局通过招投标、定向方式向上海市排水公司、国家海洋局东海分局直属事业单位购买排水服务、地方养护、海洋环境与污水处理等事务。

市农委通过定向委托形式向上海市农业技术服务中心等购买农产品质量安全检测服务，市卫生局向社会公开招聘购买120救护员。市禁毒委员会办公室、市司法局社区矫正工作办公室、团市委社区青少年事务办公室通过定向委任形式分别向上海市Q社会服务总社、上海市X社区服务总站、上海市G社区青少年事务中心购买为药物滥用人员，矫正人员，“失学、失业、失管”社区青少年提供的专业社工服务。

2010年静安区外经委、劳动局、卫生局通过定向委托、有限招投标、公开招标方式向区商业联合会、区商业企业管理协会、区企业联合会、民办培训中心、民办专业服务机构购买外资企业年检与业务培训、劳动技能培训、医疗服务的鉴定与评估、推进工资集体协商与企业承担社会责任等服务。浦东新区教育局通过定向委托形式向民办幼儿园、民办农民工子女就读中小学、某教育管理咨询中心、公立中学、由资深教育工作者建立的教育评估中心等机构，购买学前教育的学位与民办学校农民工子女的学位以及购买管理和购买评估活动服务。浦东新区教育局向专业的教育机构购买学校管理与教育评估。主要是基于教育管理与教育评估是需要专业技能与实践经验的领域，但符合资质条件的专业教育机构数量极少，难以形成充分的竞争性市场。

从市政府相关部门来看，大多数政府职能部门运用本部门年度预算资金用于政府购买。从区县来看，浦东新区已经将政府购买教育公共服务全部纳入公共预算，并且作为一个单独的条目列入部门的公共预算。上海市民政局运用福利彩票公益金购买社区公共服务，福利彩票公益金占市民政局政府购买经费较大的比重。市社区服务中心购买公共服务的资金主要来源于福利彩票公益金，体现“扶老、助残、救孤、济困”的宗旨，每年购买公共服务的金额达4000万，除市福利彩票金按每年中标项目目标的50%对中标组织予以资助外，区民政部门也按照中标项目目标的50%对中标组织予以资助。经过几年的实践探索，市政府有关部门与各区县政府每年用于购买公共服务的经费已经由初期的几十万、几百万上升到千万、上亿的水平。综合来看，基础设施的资金投入量大，市城建和交通委员会2011年购买额超过7亿元。一些经济比较充裕的区县投入资金较多，2014年浦东新区政府购买服务预算金额达33.8亿元。

上海市社区服务中心受市民政局的委托负责全市政府购买公共服务招投标具体事务。公益招投标的流程分为立项与招标、投标与评审、项目实施、过程监督和绩效评估五个环节。先由市与区县民政局提出项目招标需求，然后社区服务中心为满足资质要求的单位提交申请。社区服务中心是社区公益服务项目招投标的工作平台，作为受托机构负责招标工作方案和具体组织实施、投标方案的评估审议、协助有关方面对资助项目过程监督评估与效益评价等。随着政府购买公共服务推进多年，评估的作用越来越大，市民政局和市社区服务中心专门制定《上海社区公益服务招投标项目评估指标体系（暂行）》，共分项目完成情况、服务满意度、财务绩效、组织能力和综合效益评价五个一级指标，用于评估所有上海社区公益服务招投标的中标项目，既是评定接受上海市福利彩票公益金资助的主要依据，又为中标项目提高项目品质提供技术指导。

### 资料5

养老服务是政府为社会提供的具有代表性的公共服务内容。随着社会经济、医疗卫生水平的提升，人们生活质量不断提高，人口老龄化问题凸显。以归属感和满足精神需求为基础的居家养老模式逐渐成为老年人的主要选择。国家民政部要求各级政府结合当地的实际情况，探索与当地发展特点相适应的居家养老服务模式。

为了完善养老服务体系以应对政府提供服务的局限性。上海市早在2000年就率先提出“政府购买养老服务”的理念，并在静安区等6个区中的12个街道进行试点实践。此后江苏省南京市鼓楼区不断加大政府的资金投入，向高龄独居老人及有特殊困难的老人提供家庭护理及日常生活照料。随后北京、宁波、广州、深圳等地也相继发展养老服务购买。当前，各地政府向社会组织购买服务尤其是居家养老服务的专业化程度要求越来越高，购买模式也越来越多样化。

A街道在人口老龄化程度不断加快，传统的养老模式远远不能满足老年人需求的情况下，成立了街道老年护理中心，护理中心的成立得到区政府，各有关部门及专业养老机构、志愿者等的大力支持，在解决房租、办公费、护工补贴费等问题的同时，区政府为中心投入10万元资金，区卫生部门则承担了免费培训护理人员的任务。A街道从“单靠政府的力量难以彻底解决老年人的居家照顾问题”的认识出发，充分利用、整合社区资源，做到国家、集体、个人共同参与和共同服务。根据老人日常照顾的要求，护理中心设立了生活照料、精神宽慰、家政服务三大类共22项服务项目，具体服务内容包括为老人配餐、喂饭、洗澡、陪伴、护理、康复和心理辅导等。在运行过程中，护理中心的工作由服务性逐步向服务与市场化并行转换，居家养老服务由最初的无偿为老

人提供服务逐步向低偿型收费方式转变。在加强管理、规范服务和操作程序方面，护理中心对一批下岗职工进行培训及上岗教育，按客户需求提供价廉质优服务，做到了护理费收入与支出的基本持平和社会效益的同步发展。B街道是居家养老服务的试点区域之一，近年来政府向社工服务社购买居家养老服务。社工服务社成立于2000年，是一家主要针对老年社会福利服务事业的专业化社会工作机构，与政府形成长期的合作关系，曾经多次协助并参与管理政府成立的多家街道社区老年服务中心，并为其培训专业人才。社工服务社为B街道辖区内60岁以上老人提供社区居家养老服务。其中，在册救济“三无”孤寡老人、低保对象中独居或仅与子女（残疾）生活的老人、优抚对象中的独居老人和三级以上伤残军人，每月可免费享受价值200元的服务时间。而对低收入家庭中70岁以上的仅与子女（残疾）生活或独居的老人、民政和社保代管退休人员中月退休金不足800元的独居以及生活难以自理的老人、年龄在79岁以上并且月收入低于1200元的独居或仅与子女（残疾）生活的老人，每月免费提供价值100元的养老服务时间。对其他不符合上述条件的老人，根据自己的意愿需求，实行低偿服务。服务内容主要是定时上门探访、卫生清洁、送餐、家务、照料、洗衣、理发、保健咨询、疏导心理问题等，具体的内容由社工服务社的评估小组根据评估情况与老人及其家庭成员协商确立。在购买服务后，政府直接付款给社工服务社。

C市人民政府于2013年9月发布《城区政府购买居家养老服务试行办法》，该办法明确居家养老服务对象具有以下资格：首先具有C市城区的户籍，并且居住在C城区，其次是年龄超60岁且不能自己照顾自己的低收入老人或年龄超过80岁的独居残疾失能的低收入老人。随后，C政府根据试行办法的要求进行了政府购买服务。居家养老服务内容包括日常生活照顾、文化娱乐、医疗护理、保健卫生、心理安抚、紧急援助以及日常关怀等。C市购买服务的整个过程公开，由市民政局委托第三方机构对相应养老服务项目进行公开招投标，招标公示显示，采购内容是为符合条件的老人提供每人每月价值100元的养老服务时间，购买的服务期限为一年，投标方必须具有相应的资格，可投标的机构包括在民政部门登记过的专门养老服务机构、在医疗卫生部门登记过的医疗机构和在工商管理部登记批准过的服务机构。这些机构需在C市范围具有固定的经营场所，具有丰富的居家养老服务经验，并具有劳动部门批准的养老养护员和家庭服务相关职技培训资质以及标准规范的场地。

2014年D市辖区为老人发放居家养老服务券，分为三类，即A类：低保户家庭老人、困难家庭老人及特等或一等革命伤残军人家庭老人，100元/月；B类：80岁以上的高龄老人，50元/月；C类：60岁以上、有能力且有养老服务需求的老人一次性50元的补助。有三种面额：1元、5元、10元。老年人可以用代金券来购买家政服务、医疗服务、上门服务、代购服务等一系列无偿、低偿、有偿服务。

### 资料6

为解决人手不足问题，“城管外包”机制曾一度被认为是城市公共管理和公共服务的创新之举。然而，来自改革开放前沿城市Z市的消息却显示，这座城市的城管工作在饱受种种负面新闻和批评意见之后，正在考虑对该制度进行改革，甚至考虑让这一制度逐步退出历史舞台。

Z市于2007年起以政府购买社会服务的方式在全市配备使用城市协管员，当时是为了解决人手不足这个综合执法最突出问题。事实上，直到目前为止，Z市城管执法人员缺口大的情况仍然没有改善。据Z市城管局提供的数据显示，目前全市配备的城市管理执法正式在编人员共1531人，与全市1500多万的实际人口相比，人手依然严重不足。

为此，从社会上吸取力量参与城管就成为城市不得不继续采用的工作方式。据了解，目前深圳全市共有35家公司参与城管服务外包。这些公司主要有两种，一种是物业服务公司，一种是保安公司。35家公司共雇佣了3204名协管员。这些公司雇佣的协管员多的有近500名，少的不到10名。

Z市城管局表示，今年上半年，该局已经针对城市管理服务外包方式进行了一系列的深入调研，负责调研的冯增军表示，目前深圳城管已经形成了“政府主导、企业协同、公众参与”的格局。外包服务减少了基层执法

人员的工作压力，降低了执法成本，将城市管理变为主动管理，市容市貌发生了明显的变化，但也弊端丛生，是时候对它进行规范管理了。

首先，外包服务公司内部管理机制明显匮乏。调研显示，不少协管员到公司后，接受简单培训就匆匆上岗，有的甚至缺乏基本的上岗培训，加之他们缺少像公务员纪律法纪方面的约束，最后导致部分协管员“保护违法行为”，而很多公司又仅仅对违规的协管员做辞退处理或扣罚奖金，不能有效监督这些违规行为。

其次，有关部门对外包服务公司的监管机制也不完善。深圳此次调研发现，目前服务外包领域缺乏准人、退出和监督机制，管理部门对此类外包企业的资质要求没有明确规定、外包协议拟定过程不透明。据介绍，目前在深圳和外包服务公司签约的有社区、街道、区政府等单位，但签订的合同比较混乱，没有规范合同文本，缺乏一些强制性的惩罚措施。外包服务合同职责也不明确，双方易推诿责任。一些街道和服务公司签订合同时规定有权更换物业公司，但更换物业公司的情况却极少发生，因为合同文本缺乏监管的细则和量化考核指标，和公司终止合同无依据。

曾曝出“开山寨执法车执法”等负面新闻的H物业公司是Z市规模较大的城管服务外包公司，共有协管员500多名，承接了10个街道的外包服务。该公司行政总经理坦言，协管员的月工资为2500元（包食宿）；在招聘条件方面，只要求身高和年龄，品行良好无任何传染性疾病；招聘时只看应聘者身份证的真假。其他无太高要求。该公司人员的流动性非常大，很多协管员做的时间不长，人越来越难招，一定程度上造成管理困难。公司对违规行为一般采取罚款20-50元等办法来管理，约束效力不明显。

协助执法曾被称为“柔性执法”。按照H物业公司与街道之间签订的合同，协管员主要以宣传、说服等柔性方式劝导乱摆卖者离开，对不听劝告者，协管员及时向街道执法队汇报，由街道执法队查处。虽然少部分小贩可能会听一听协管员的劝导，但是大部分长期摆卖的小贩，一般不会听，甚至会挑衅。Z市城管局的调研发现，协管员和被管理对象均易变成暴力行为的受害者，外包服务往往演变成“以暴制暴”，以非常规手段、非法手段来维护市容市貌，协管员在协助执法中，对被管理者的劝导行为过于简单粗暴，而协管员也容易成为打击报复的对象，甚至遭遇故意伤害。

2012年2月13日，Z市某物流配送有限公司的平价流动车正在某天桥旁边摆卖水果及副食品。突然，5名男子从一辆无牌面包车上冲下来，持铁管打砸正在售卖的商品及工具，导致该公司损失7000余元。经查，犯罪嫌疑人受主要犯罪嫌疑人许某的指使。许某系某菜市场的承租人，后转手将档铺租给多名小业主经营，她认为平价流动售卖车对小业主的生意造成影响，导致部分业主拒绝交租，遂指使T公司数人对流动售卖车进行打砸。案件发生后，T公司总经理表示，最初的服务合作由城管局主动提出，其后公司与城管局签订合同承包了Z市多个片区的城管业务，主要负责清除牛皮纸、清理乱摆卖和乞丐等，但是他们也有难处：城管局给协管员的工资标准太低，每人每月只有1700元，根本没有公司愿接这种活。

#### 资料7

2016年6月，我国10个城市的公共服务公众满意度调查结果显示，从得分看，公众对于所在城市的公共服务质量整体满意度都在及格分以上，总体较好。排名第一的厦门以8.52分遥遥领先，北京、成都、上海的得分都在7.80以上，其次是郑州、西宁、昆明、哈尔滨、广州、武汉。值得注意的是，通常意义上的一线城市“北上广”，具有较高的城市发展水平和综合经济实力，但是满意程度却有较大差异，这在一定意义上显示经济发展的优势并不代表满意度更高。当然，公共服务公众满意度与“公众期望与实际之间的差距”有着密切关系。一般来说，一个城市越发达，开放程度越高，生活越富裕，市民受教育程度越高，对于公共服务的期望也会越高，这也会导致其满意度水平较低。因此经济更发达城市在提高公共服务方面面临的要求可能会更高，这需要有更加优质高效的公共服务，不断完善配套体制和机制，从而提升公众的满意度。



### 三、作答要求

(一) 结合给定资料，谈谈政府购买公共服务的涵义和意义。(20分)

要求：概括准确，条理清楚，语言精练，字数不超过300字。

(二) 结合给定资料5，概括各地“居家养老服务”不同的模式及优点。(20分)

要求：概括准确，条理清楚，语言精练，字数不超过300字。

(三) 结合给定资料，分析Z市在城管外包中存在的问题。(20分)

要求：观点明确，条理清楚，语言精练，字数不超过300字。

(四) 结合给定资料，围绕“提升公共服务满意度”这一主题，写一篇文章。(40分)

要求：(1) 自选角度，自拟题目；(2) 观点明确，联系实际，分析具体，条理清楚，语言流畅；(3) 总字数800~1000字。

**温馨提示：**

**2018 年公考通网校重新起航**

**系统班+考前直播冲刺班+一对一申论批改班+面试通关课程  
更多好课等你挑选！**

**【参考答案与解析】**

**（一）【参考答案】**

涵义：

1. 政府出面投入资金，以委托、招投标等方式购买公共服务。
2. 项目以群众需求为出发点，覆盖不同群体需求。
3. 联合评审组按统一标准对各申报单位进行评审，确定最终承接单位和购买金额，向社会公示，确保购买方式公开、公平、公正。
4. 项目质量评审实行合同化管理，按合同评估是否达标。

意义：

1. 实现我国政府职能转变，构建良好的政府与社会关系，实现社会治理创新，促进经济、社会和人年的发展。
2. 激活市场。高效规范化使用财政资金，实现市场化运作，形成充分的竞争性市场，加快社会各项事业发展。
3. 整合和发挥社会资源优势。解决群众问题，满足群众需求，重构多元的供给体系。
4. 规范政府部门公共服务流程。激活社会组织活力，提升公共服务标准和水平。

**（二）【参考答案】**

A 街道：政府提供资金、技术支持，相关部门、专业机构及志愿者共同参与、共同服务。

优点：充分利用和整合社区资源，服务齐全，价廉质优。收入与支出基本持平，社会效益同步发展。

B 街道：政府直接向社会机构购买服务，形成合作关系。

优点：服务专业，服务水平高；无偿与低偿服务相结合；服务内容共同协商确立，针对性强，

C 市城区：政府通过招投标方式确定承接单位。

优点：专业机构提供全面服务，居家养老服务经验丰富，具有养老养护员和家庭服务相关职技培训资质以及标准规范的场地。招标结果公示，确保公平、公正、公开，责任明确。

D 市辖区：发放居家养老服务券，老人可用服务券购买服务。

优点：老人可以自主选择，满意度高。

**（三）【参考答案】**

1. 管理难度大。服务人员工资低，招聘困难，来源复杂，流动性大；对上岗人员无专业培训，无合同范本，终止合同无依据。

2. 政府监管不到位。对外包服务公司缺乏严格的准入、退出及监督机制；无纪律法纪约束，不能有效监督违规行为；无监管细则和量化考核指标；缺乏惩罚措施。

3. 服务人员准入门槛低。城管服务外包招聘人员条件宽松，所招人员素质不高、缺乏职业道德意识，易出现“暴力执法”。

4. 暴力事件频发。协管人员执法方式不规范，手段简单粗暴；商贩抵触情绪严重，易对协管员进行报复和故意伤害。

**（四）【参考例文】**

### 提升公共服务 给人民更多“获得感”

一个充满希望和活力的社会，必然拥有优质、高效的公共服务。伴随着社会变迁，人民对公共服务的质量和效率有着更强烈、更迫切的需求。身处变革时代，政府部门如果仍然在陈规旧章中打转，仍然在批评质疑中自说自话，不可避免地会损伤政府在人民心中的形象。因此，从群众利益出发，大力提升和改进公共服务是大势所趋。

政府购买公共服务是一种新型的政府提供公共服务方式，彰显了政府对群众的关心，这是一项温暖民心的举措。近几年，政府购买公共服务逐渐成为了一种趋势，各地政府纷纷通过公开招标、定向委托等形式，将原来亲力亲为的公共服务转交给社会组织、企事业单位等履行，以期提高公共服务供给质量。不过，一些政府购买公共服务项目的实施效果却并不尽如人意。有些政府“外包”服务后，“无为而治”，忘却责任，完全听不到群众的呼声。外包服务人员素质参差不齐，服务方式简单粗暴，背离了政府购买公共服务的初衷。

政府购买公共服务是为了更好地服务群众，不能只是“走形式”，而是要“走心”，不能只是“作秀”，而是要“实干”。因此，政府要切实提升公共服务质量，真正给人民更多的“获得感”。

明白“政府购买公共服务≠群众满意度”。让群众满意是政府购买公共服务的核心，只有让公共服务的过程得到监督，让群众当裁判，才能让政府购买公共服务的核心不再是“购买”而是“服务”，方能让“政府购买公共服务=群众满意度”的等式成立。

明确政府购买公共服务要因地制宜、因人施策。政府购买公共服务的目的是为人民群众提供服务，提升民众的满意度，因此购买公共服务要问需于民，倾听民意，找准民生痛点，真正服务到群众的心坎里。充分尊重民众的个体诉求，变“政府配餐”为“群众点菜”，增强政府提供公共服务对群众需求变化的适应性和灵活性。

保证政府购买公共服务不当“甩手掌柜”。政府要扮演好自己的角色。当好“协调员”，做好与社会各方面的沟通协调工作，逐步使购买公共服务工作制度化、规范化和科学化，当好“宣传员”，充分利用各种媒体，广泛宣传向社会团体购买公共服务工作的重要性、重要内容及各项工作流程，充分调动社会参与的积极性，为购买公共服务营造良好的工作环境和舆论氛围。当好“监督员”，建立健全的监督机制，确保购买公共服务有序进行，确保公众真正享受到公共服务。

只有“想群众所想，急群众所急”，更加注重公共服务的社会效益，更加注重老百姓的切身利益和主观感受，让公共服务更便捷高效，更接地气，老百姓才会得到更多的“获得感”。

## 6 2017年上海申论真题卷（B卷）

### 一、注意事项

1. 监考老师发给你的测试资料分为两部分：试题本和答题纸。
2. 测试开始前，请在试题本和答题纸上指定位置先填写好自己的姓名、准考证号等内容，然后再开始答题。
3. 申论考试与传统的作文考试不同，是分析驾驭资料的能力与表达能力并重的考试。作答参考时限：阅读资料40分钟，作答110分钟。
4. 仔细阅读给定的资料，按照后面提出的“答题要求”依次作答在答题卡指定位置上。
5. 监考老师宣布考试结束时，应立即停止答题，将试题本和答题纸留在桌上，然后离开考场。不得将试题本带出考场。
6. 特别提醒：
  - a. 本试卷科目代码为“21”，请考生务必将答题卡“科目代码”栏内对应数字涂黑，否则无法评分。
  - b. 答题时请认准题号，避免答错位置影响考试成绩。所有试题一律使用现代汉语作答。必须使用钢笔或签字笔，在答题卡有效区域内作答，超出答题区域的作答无效。严禁折叠答题纸！

### 二、给定资料

#### 资料1

沈阳市X机器人自动化股份有限公司（以下简称“X公司”）有全球最齐全的机器人种类。在X公司智能制造车间，一台台无人驾驶的移动机器人在地面上自由穿梭，自动避开障碍，搬运物品。自从移动机器人系统在国内某汽车公司首次投入使用后，X公司强势切入这一领域，不断开发新产品，如今已占领国内市场九成以上份额。它们从沈阳出发，“昂首”走向全球。通用汽车将X公司移动机器人纳入全球采购平台，瑞典沃尔沃公司放弃机器人行业老大ABB，选择了X公司移动机器人解决方案。

“2000年成立时X公司仅有40人。没有资金、没有厂房、没有社会资源。”该公司总裁介绍，“创新是主动选择，也是被逼出来的。”从做课题做项目，到做实业做市场，X公司人当初也曾“拔剑四顾心茫然”。机器人产品技术门槛高，研发周期长，研发难度比其他行业更大。“研发必须走在市场前面。”智能移动机器人事业部王总监感受颇深。2010年X公司获悉国外出现了不用电池的移动机器人产品，就立刻投入研发。两年后，非接触供电机器人通过内部测试，随即得到广泛应用。除混合式充电技术外，X公司还研发出电磁导航、激光导航等多种导航方式，不仅实现了批量出口，还拿下95%的国内市场份额，首次在高端制造领域对进口品牌形成“挤出效应”。

第四次工业革命的核心是智能制造，智能制造的核心是机器人。以汽车为例，人工生产一辆汽车，需要117名熟练工人耗费3天时间，合格率仅为60%；用机器人，仅需要3个普通工人1小时，合格率100%。目前，X公司有工业机器人、洁净机器人、移动机器人：特种机器人和服务机器人等5大类、70余种机器人产品，拥有600多项国家专利，取得10项软件产品著作权，制定了5项国家标准和几十项企业标准。2014年9月，X公司推出数字化智能工厂，数字化生产线年产能达到5000台。在这里集成了X公司生产的堆垛机器人、装配机器人、检测机器人等各类系列产品，可实现柔性物料传输、零部件自动清洗、自动化装配等一系列功能。用机器人生产机器人，标志着X公司真正将机器人、智能设备和信息技术三者无缝隙融合。

人才和投入是创新的基础。X公司早在2002年就形成以机器人国家工程研究中心、公司各研发事业部与国内外优势企业和研究机构结成的产学研联盟为平台的三层科技创新体系。技术人员占企业总人数接近80%，每年研发投入占公司总体销售额12%以上，在辽宁规模以上工业企业中遥遥领先。面向工业机器人，X公司与中

科院沈阳自动化所成立机器人高端研究院，聚焦服务类机器人，与上海交大、上海科技大学等单位建立机器人技术研究院，不仅要成为高端技术公司，还要成为高端平台公司。

### 资料 2

“推动中国制造向中国创造转变、中国速度向中国质量转变、中国产品向中国品牌转变”。2014年5月15日，习近平总书记在河南中铁工程装备集团有限公司考察时提出的推动“三个转变”的重要指示，在全国质检系统引起强烈反响，大家认真学习领会总书记的重要论述，热烈讨论“制造”与“创造”、“速度”与“质量”、“产品”与“品牌”这些熟悉而又令人兴奋的字眼，畅谈贯彻落实“三个转变”要求的深远意义。

2014年6月23日，李克强总理在接见参加全国职业教育工作会议的代表时指出：“我们要用大批的技术人才作为支撑，让享誉全球的‘中国制造’升级为‘优质制造’。中国经济发展已进入换档升级的中高速增长时期，要支撑经济社会持续、健康发展，实现中华民族伟大复兴的目标，就必须推动中国经济向全球产业价值链中高端升级。”

“中国制造 2025”是李克强总理在十二届全国人大三次会议政府工作报告中提出的。制造业是我们的优势产业，要实施“中国制造 2025”，加快从制造大国转向制造强国。“中国制造 2025”提出了我国制造强国建设三个十年的“三步走”战略，是第一个十年的行动纲领。“中国制造 2025”应对新一轮科技革命和产业变革，立足我国转变经济发展方式实际需要，提出了加快制造业转型升级、提升增效的重大战略任务和政策举措，力争到 2025 年从制造大国迈入制造强国行列。

### 资料 3

德国于 2010 年提出《德国高技术创新战略 2020》，重点关注气候变化与能源、健康与营养、移动、安全和通信等 5 大领域，2013 年由多领域专家组成的德国“工业 4.0”工作组发布了专门报告——《保障德国制造业的未来：关于实施“工业 4.0”战略的建议》。报告把“工业 4.0”称之为第四次工业革命，认为在由信息技术的发明所推动的工业自动化为代表的第三次工业革命，正在向第四次工业革命转变，第四次工业革命已经来临。

第三次工业革命，实现了数字化制造，但整个生产过程的信息管理，采取的是集中式控制系统。第四次工业革命将实现全过程、全领域的智能化，不仅包括机器设备，而且还包括被加工的材料、被组装的零部件，都会装上智慧化的大脑，实现机器与机器的对话，机器与材料的对话，生产过程不再是机械的加工过程，而是变成了生物过程，生产系统将变为生物系统。

### 资料 4

“工业 4.0”这个全球创新热词，会给中国、给上海带来多大的机会？一向走在改革前列的上海已率先积极发展战略性新兴产业，加大传统产业的改造升级，新兴业态、新的增长点正在破茧而出。

在这个过程中，一些企业先行先试，打开“工业 4.0”的想象之门。如果说过去我们在技术发展上更多是追随别人的脚步，引进消化吸收，那么在“工业 4.0”的发展上，上海能否抓住机遇实现超越？一家上海创业企业正做出回答。

M 智能系统有限公司（以下简称“M 公司”）成立之初，为一家国外豪华汽车品牌做配套，设计和制造能力得到了外方认可，但从未做过信息化生产线，管理人员对“工业 4.0”更是闻所未闻。外方本打算从英国进口整条生产线，可是费用很高，时间也来不及。为拿下订单，公司创始人陈总带领团队开启了一条异常艰辛的研发之路，没有双休，天天加班。大家都发扬拼搏精神，反复研究国外传回来的视频资料，认真研究每个细节。最后，他们的设计方案脱颖而出，生产线一年后投入使用。

“信息化生产线，简单说就是打通一个个信息孤岛，把生产线上的机器都串联起来。”在某汽车仪表盘组装生产线上，只要在电脑上轻点鼠标，机器便打印出一张带有条形码的订单，每个工位前都有一个屏幕实时显示生产信息。第一个工位上，工人手拿扫描仪扫一下装车单，线束（汽车电路的网络主体）与装车单信息匹配

通过，移动小车自动运行到下一个工位，识别装车任务，屏幕上显示作业指导书。组装完毕后进入影像检测，驾驶侧膝部盖板、驾驶侧气囊等一一安装到位；影像检测通过后进入电检，再进入发运等待区……整个过程简洁有序，所有环节均显示在屏幕上。“在这套生产线上，每个工位之间是有‘交流’的，上一道工序做过哪些操作、谁做的，下一道工序一清二楚。”这套生产线在无线射频技术、工业以太网、在线条码、二维码比对、影像识别、机器人等方面实现了突破。“有这样的生产线，消费者的个性化需求就能得到满足，一条生产线可以生产好多种不同需求的产品。”由于生产线直接将人、设备与产品实时联通，工厂接受消费者的订单直接备料生产，省却了销售和流通环节，整体成本（包括人工成本、物料成本、管理成本）比过去下降近40%。

目前我国还有不少手工作坊式的生产线，这些生产线就连基本的自动化都没实现，主要还靠人工。现在消费者对产品的品质、个性以及可追溯性等有更多要求，人工难以顾及这些需求，比如生产矿泉水瓶，需要瓶盖、瓶身和塑封三套机器，三者怎么协调，物料怎么运输都靠人工。如果问生产经理工厂一天生产了多少个瓶子，他要问车间主任，主任再问班组长，然后工人再一个个数、抄表、统计。信息传递过程漫长，还存在失真，基本无法监控产品质量。

M公司通过MES（制造执行系统）解决了这些问题。“它更像生产现场的总管，各类信息流和数据流通过功能模块有条不紊地分配、统计、分析。”陈总介绍，人（每一个设备由谁操作、技能是几级）、机（设备的效力、使用年限）、料（生产原料、后勤补给）、法（生产工艺、流程）、环（包括温度、湿度等在内的环境因素），五大要素都实现信息化，“总管”全都心中有数，它可以实时调整订单，算出设备何时需要更换，判断出设备产能的瓶颈出在哪一个环节。

“关键要找到让机器聊天的密码。”这是陈总在研发过程中体会最深的一句话。“国内有做得好的自动化生产线，但大部分还只是信息孤岛，设备不能互联。每台机器的信息流在各自的处理器里打转。”M公司自主研发了数据采集板卡，破解了机器之间沟通的密码。“国内没有人做过，团队也没有任何经验。数据采集板卡的研发过程中，光刷机试验就烧掉几百台机器。”最近工信部正邀M公司参与制定智能制造相关标准。“我们是通过这个项目，真正实现了智能制造。”陈总说，项目接近尾声时，“工业4.0”概念迅速火爆起来。

“工业4.0”是利用信息技术促进产业变革的时代。上海某高校先进产业技术研究院负责人用“煎蛋模式”来比喻未来制造中产品与服务的关系，核心产品相当于“蛋黄”，而由品牌、服务创造的创新价值则是“蛋白”。德国很擅长做“蛋黄”，但是产品做得好就、意味着产品寿命长，“蛋黄”就只能挣一次的钱，利润不高。德国人提出的“工业4.0”，是希望通过足够的数据与创新能力，改变顾客购买的价值。

M公司要做的就是从“蛋黄”到“蛋白”的改变。“公司刚创立时主要就是做设备，现在我们是做解决方案。数据采集板卡在这个方案里只占10%，我们要为客户提供机械设计、电气控制、网络架构、上位系统算法等一系列细化的方案。”M公司更看重的是工业和互联网结合后带来的大数据。过去的企业强调通过机械化、自动化来满足大规模标准化生产，如今则要将消费数据和工业大数据对接，将生产与服务更紧密融合，走向“大规模智能化私人定制”。目前他们已开发出“工业4.0”智能制造服务平台，致力打造工业云。一个简单的表现形式是，所有工厂的生产情况、实时数据都能在一个APP里看到。将来，客户需求数据上传到工业云，经挖掘计算后，将制造任务分配给优势制造企业完成小批量柔性制造。该平台通过专家评审认可，获张江高新技术产业开发区重点项目国家专项资金。

#### 资料5

美国弗吉尼亚州首府里士满郊外的詹姆斯河沿岸，一个造纸厂即将动工。工厂的主人是一家来自中国的造纸企业。完工后，它将会消化该地区出产的稻草、玉米秸秆，并将之转化为纸巾、面纸、有机肥料等家庭用品，而所有的这些产品还会被贴上一个“产自美国”的标签。

#### 资料6

第二届中国质量奖颁奖大会上，李克强总理强调，弘扬“工匠精神”，勇攀质量高峰，打造更多消费者满意的知名品牌，让追求卓越、崇尚质量成为全社会、全民族的价值导向和时代精神。“工匠精神”一经提出，便引起社会各界热议，受到各行各业的一致认可。

2016年5月，李克强总理考察东风商用车重卡新工厂时，在装配生产线旁，李克强应邀为新型重卡加油。总理说，这不仅是为东风加油，也是为中国制造加油。看到一个班组的工人们在讨论通过工艺创新提高零部件装配效率，总理对他们说，“中国制造”的品质革命，要靠精益求精的“工匠精神”和工艺创新，其中关键是以客户为中心。要以客户不断提升的消费需求，倒逼“中国制造”全面升级。李克强总理还专门看望了二汽建厂老领导、老专家、老工人。总理深情地说，你们是二汽的“元勋”，也是中国汽车工业的先驱，在大山沟里披荆斩棘建起一座现代化汽车城，对中国装备制造业的发展功不可没。

### 资料 7

“工匠精神”一直流淌于中华民族的血脉之中，一部中华文明史凝聚着历朝历代工匠们智慧的创造，如同诸子百家造就了中华民族思想天空的灿烂群星一样，“工匠精神”也曾造就我们民族的百业兴旺、繁荣空前，同样是星光璀璨。

《增广贤文》有言：“良田百顷，不如薄艺在身”。《考工记》记述：“知者创物，巧者述之，守之世，谓之工。百工之事，皆圣人之作也”。蜿蜒万里的长城、栩栩如生的秦陵兵马俑、被誉为“臻于极致的青铜典范”的四羊方尊、绚丽神秘的敦煌壁画和彩塑、巧妙绝伦的赵州桥……这些珍贵的历史遗存无一不是“工匠精神”的化身。又比如中国红茶，曾经成为欧洲皇室贵族的标签。小仲马在《茶花女》中描述，“你连中国红茶都喝不起，还算什么贵族？”现在一些人热衷于到国外去买奢侈品，殊不知历史上，中国的产品曾经被西方顶礼膜拜。

历史上我国的茶叶、丝绸和瓷器等优质产品远销海外，深受国外消费者追捧。据葡萄牙人记载，16-17世纪间50余年内，葡萄牙商船每年自澳门运往长崎的中国丝绸，少时约1500担，多时约3000担。1575年，菲律宾的西班牙殖民者开辟了中国到菲律宾、墨西哥的“太平洋上的丝绸之路”，每艘船满载中国丝绸多至1200箱。18世纪末，在墨西哥的进口总值中，中国的丝绸产品占63%。据统计，从康熙元年到鸦片战争前夕，中国开往日本的商船所载货物70%以上是丝绸。

再看看瓷器外贸情况，中国瓷器在唐代制作技术达到相当高的水平，正是这一时期，中国瓷器开始依靠海上丝绸之路外传，主要输往日本、朝鲜、西亚、南亚以及非洲的埃及。1405-1432年间郑和七下西洋，船队所载物品相当一部分是瓷器。1602-1682年间，荷兰公司商船共运销瓷器1200万件，其中中国瓷器占98.3%，达1010万件。在1684年到1791年间，东印度公司垄断了华瓷的进口，约有2.15亿件华瓷被运到英国。

### 资料 8

今天“德国制造”四个字是品质优良的代名词，然而，一百多年前英国人给德国产品扣上的帽子却是“厚颜无耻”。1871年德国实现统一后，为追求强国梦，大量以剽窃设计、复制产品、伪造商标等不正当手法，不断山寨英、法、美等国的产品，低价销售冲击市场。1887年英国议会通过了侮辱性的商标法条款，规定所有从德国进口的产品都须注明“德国制造”字样，以与优质的英国产品区分开来。知耻而后勇的德国人因此制定了质量强国的战略，几代人执着的“工匠精神”最终成就了今天的“德国制造”。

日本早期出口的产品以质量低劣著称，一方面是技工技术还不成熟，另一方面则是日本刻意偷工减料，降低制造成本，提高产品的竞争力。日系汽车传奇般的翻身之路是“日本制造”异军突起的缩影。虽然说日系车的火爆有偶然因素，但就像其他“日本制造”在国际上的翻身一样，根本动力在于日本对科技的大量投入。日本的科技投入常年仅次于美国，大幅领先于排在后面的国家，并且日本科技投入占GDP的比例，以及科技工作者占人口比例都常年位列全球首位。不仅日本政府科研投入大，日本的普通企业也很重视技术开发。

随着劳动力成本的增加，我国制造业从中低端向高端转型势在必行，而以“工匠精神”为核心的产品质量始终是我们努力的方向。“工匠精神”的提出给中国制造业转型升级做出了清晰指引。习近平总书记强调，供给侧结构性改革的根本目的是提高社会生产力水平，落实好以人民为中心的发展思想。“要从生产领域加强优质供给，减少无效供给，扩大有效供给，提高供给结构的适应性和灵活性，提高全要素生产率，使供给体系更好适应需求结构变化。”转型升级不仅意味着产品要与时俱进、更新换代，也包括对产品设计和质量的精益求精，但也有相当多的产品，并非没有市场，而是因为质量不高、老旧低劣而被市场抛弃。比如奶粉，“三聚氰胺事件”造成民众对国产奶粉行业的普遍不信任，纷纷通过海外代购美国、荷兰、新西兰等国奶粉。有人说，连本国国民都不敢食用国产奶粉简直是民族的耻辱。

再如，近年来国人到日本疯抢的马桶盖，其实很大一部分是日本企业委托中国工厂代工生产，我们国内反而缺乏过硬的自主品牌和精良的设计。中国科学院相关负责人表示，应加快产业结构调整 and 升级的步伐，以信息化带动工业化，推动高科技向传统产业、尤其是支柱性的制造业扩散转移，加快提升高端制造业的自主创新能力，发展智能制造、绿色制造，实现从制造大国向制造强国转变。

据商务部统计，2015年我国出口国际市场份额升至约13.4%，比2014年提高1个百分点。其中2015年1-11月，我国出口比美国多6672亿美元，继续保持第一货物贸易大国地位。但是在许多国家的市场上，我们大量的产品往往居于价值链低端，甚至是“地摊货”。当前中国产品在世界的信誉比起发达国家还有相当的差距。使用中国货图的就是便宜，是相当多消费者的心理。

#### 资料 9

“天机云锦用在我，剪裁妙处非刀尺。世间才杰固不乏，秋毫未合天地隔。”陆游诗中表达的不仅是诗歌创作的意境，也是对“工匠精神”的极好诠释。美国当代著名发明家迪恩·卡门说：“工匠精神”不仅仅是一个国家的一部分，更是让这个国家生生不息的源泉。中华文明在历史上之所以被人尊重，正是因为中国产品独具匠心的精美，这种精美源自于追求极致完美和一丝不苟的“工匠精神”。“工匠精神”是民族素质的重要内容，它很大程度上体现在职业操守上，这种职业操守，主要不是靠法律或制度限定，而是来源于李克强总理所强调的“道德的力量”。德国近乎刻板的严谨认真，使产品质量丝毫不差；日本视质量为生命的强烈自尊，将产品好坏与个人荣辱联系在一起；瑞士人以忠诚和专注闻名，其银行业、钟表业在全球独占鳌头。这些国家正是得益于国民性格中的优秀因子，从而塑造了本国制造业和商业领域的巨大成功，并且因为产品的质量赢得了世界对其国家的刮目相看。

中华民族五千年的历史发展中积淀了博大精深的文化传统，形成了富有特色的思想体系，这体现了中国人的理性、智慧与优良品质，这是我们国家和民族的精神血脉和独特优势，是社会主义先进文化的本源，同社会主义核心价值观一脉相承。

#### 资料 10

中国梦是中国共产党第十八次全国代表大会召开以来，习近平总书记所提出的重要指导思想和重要执政理念。习总书记把“中国梦”定义为“实现中华民族伟大复兴，就是中华民族近代以来最伟大梦想”，并且表示这个梦“一定能实现”。中国梦的核心目标可以概括为“两个一百年”的目标，到2020年国内生产总值和城乡居民人均收入在2010年的基础上翻一番，全面建成小康社会；到本世纪中叶建成富强、民主、文明、和谐的社会主义现代化国家，实现中华民族伟大复兴的中国梦。基本内涵是国家富强、民族振兴、人民幸福，实现途径是走中国特色的社会主义道路、坚持中国特色社会主义理论体系、弘扬民族精神、凝聚中国力量，实施手段是政治、经济、文化、社会、生态文明五位一体建设。中国梦归根到底就是民族复兴梦、人民梦，梦想要实现，关键在于行动，在于实干。

### 三、作答要求



(一) 结合给定资料, 分析 X 公司机器人制造业获得成功的主要原因。(20 分)

要求: 概括准确, 条理清楚, 语言精练, 字数不超过 300 字。

(二) 结合给定资料, 谈谈未来中国制造应具备的主要特征。(20 分)

要求: 概括准确, 条理清楚, 语言精练, 字数不超过 300 字。

(三) 结合给定资料, 分析“工匠精神”与培育、践行社会主义核心价值观之间的关系。(20 分)

要求: 概括准确, 条理清楚, 语言精练, 字数不超过 300 字。

(四) 结合给定资料, 围绕“脚踏实地, 实现民族复兴”这一主题, 写一篇文章。(40 分)

要求: (1) 自选角度, 自拟题目; (2) 观点明确, 联系实际, 分析具体, 条理清楚, 语言流畅; (3) 总字数 800~1000 字。

**温馨提示：****2018 年公考通网校重新起航****系统班+考前直播冲刺班+一对一申论批改班+面试通关课程****更多好课等你挑选！****【参考答案与解析】****（一）【参考答案】**

成功的主要因素：

1. 坚持主动创新。注重研发超前于市场，不断开发新产品，抢占国内外市场，进军高端制造领域。
2. 重视智能制造。推出数字化智能工厂，实现机器人、智能设备和信息技术三者无缝隙融合。
3. 优化产品质量。采用数字化生产线和制定多项标准提升产品质量，完善产品种类和技术性能。
4. 保障技术人才和科研投入。与优秀企业和研究机构合作，形成产学研联盟为平台的科技创新体系，多方培养人才，并与科研单位合作建立研究机构，打造高端平台公司。

**（二）【参考答案】**

1. 落实创造、质量和品牌“三个转变”。
2. 以大量技术人才为支撑，升级为“优质制造”，推动中国经济向全球产业价值链中高端升级。
3. 加快制造业转型升级，从制造大国转向制造强国。
4. 实现生产全过程、全领域的智能化，将生产系统转变为生物系统。
5. 积极发展战略性新兴产业，加大传统产业的改造升级，促进新业态发展和创造新增长点。
6. 实现生产信息化，降低生产成本，满足消费者的各种需求。
7. 提升品牌和服务创造的创新价值，改变顾客购买的价值。
8. 用大数据将生产和服务融合，开展大规模智能化私人订制服务。
9. 投资发达国家制造业，制造、销售高附加值产品。
10. 产品需求以客户为中心，质量以“工匠精神”为核心。

**（三）【参考答案】**

“工匠精神”与培育和践行社会主义核心价值观相辅相成，密不可分。

1. “工匠精神”根植于中华民族的精神血脉，所生产的产品，体现了中华民族的理性、智慧和优良品质，这与社会主义核心价值观要求的诚信、敬业是一脉相承的；“工匠精神”体现的职业操守，不靠法律或制度限定，而来源于道德力量。

2. “工匠精神”是社会主义核心价值观在生产领域的具体实践。当前我国存在的一系列产品问题和社会问题正是由于“工匠精神”的缺乏导致的。“工匠精神”能促进人们提升自己的职业道德，建立民族品牌形象，能将产品好坏与个人荣辱相联系，有助于挖掘优秀人才，有助于提升本国产品质量，从而实现中华民族伟大复兴。

所以，培育和践行社会主义核心价值观，离不开弘扬“工匠精神”。

**（四）【参考例文】****弘扬“工匠精神” 助推民族复兴**

党的十八大以来，习近平总书记提出了“中国梦”的概念，并且明确提出中华民族伟大复兴就是近代以来最伟大的中国梦。中国梦就像一面旗帜，引领广大人民拧成一股绳，向着实现伟大梦想的道路前行。而梦想要实现，民族要复兴，又离不开追求极致完美和一丝不苟的“工匠精神”。

何谓“工匠精神”，即工匠对自己的产品精雕细琢，追求完美和极致，对精品执着的坚持和追求，精益求精的精神理念。它是产品品质保证、技术进步、创新灵感的来源，没有“工匠精神”就不可能有可持续发展的产品和受人尊敬的品牌。为实现我们中华民族伟大复兴的梦想，我们必须有自己的工匠，必须弘扬“工匠精神”。

将“工匠精神”融入改革和发展大潮中。曾经，“工匠精神”造就了我们民族百业兴旺、繁荣空前的文明史。现在，随着“工业4.0”时代的到来和“中国制造2025”的提出，我国面临新一轮的科技革命和产业变革，我国改革进入了攻坚阶段。此时，如何从制造大国转向制造强国，弘扬“工匠精神”是必不可少的。因为，“工匠精神”能给我国制造业转型升级做出清晰指引，能助力我国打造出更多消费者满意的知名品牌，能让追求卓越、崇尚质量成为全社会、全民族的价值导向和时代精神。

将“工匠精神”融入建设全面小康社会中。当前我国处于实现建成全面小康的决胜阶段，让人们过上好日子一直是我们追求的目标。经过多少年的经济发展，我国经济总量跃居全球前列，靠的就是“工匠精神”。一条条铁路使天堑变通途，一座座高楼拔地而起，一项项科研成果应运而生……这些都离不开夜以继日的工匠们，离不开精益求精的“工匠精神”。“工匠精神”让我们见证了中国经济的奇迹。

人民创造历史，劳动开创未来。“十三五”发展的新征程已经开启，助推民族复兴的每一步都需要依赖“工匠精神”来推进。而把每一件事认真到极致并不是什么崇高的理想，也不是什么远大的抱负，而是平凡的做人准则。若人人都能做到从容独立、踏实务实、摒弃浮躁、宁静致远、精致精细、执着专一，不仅能够为中国制造强筋健骨、为中国文化立根固本、为中国力量凝神铸魂，更有助于为伟大民族复兴铺就“通天大道”。

“工匠精神”是深藏在民族血液深处的传统，不仅推动着中国从大国走向强国，更是实现民族复兴道路的必然之选。为了实现中华民族伟大复兴，实现伟大的中国梦，我们需要寻回“工匠精神”，弘扬“工匠精神”！

## 7 2018年上海申论真题卷（B卷）

### 一、注意事项

1. 监考老师发给你的测试资料分为两部分：试题本和答题纸。
2. 测试开始前，请在试题本和答题纸上指定位置先填写好自己的姓名、准考证号等内容，然后再开始答题。
3. 申论考试与传统的作文考试不同，是分析驾驭资料的能力与表达能力并重的考试。作答参考时限：阅读资料40分钟，作答110分钟。
4. 仔细阅读给定的资料，按照后面提出的“答题要求”依次作答在答题卡指定位置上。
5. 监考老师宣布考试结束时，应立即停止答题，将试题本和答题纸留在桌上，然后离开考场。不得将试题本带出考场。
6. 特别提醒：
  - a. 本试卷科目代码为“21”，请考生务必将答题卡“科目代码”栏内对应数字涂黑，否则无法评分。
  - b. 答题时请认准题号，避免答错位置影响考试成绩。所有试题一律使用现代汉语作答。必须使用钢笔或签字笔，在答题卡有效区域内作答，超出答题区域的作答无效。严禁折叠答题纸！

### 二、给定资料

#### 资料1

2014年3月，国务院《政府工作报告》首次提出要大力发展“大数据”，时隔一年的《政府工作报告》中又提出了“互联网+”行动计划，要将移动互联网、云计算、大数据、物联网等技术与现代制造业相结合。同年7月，国务院办公厅颁布了《关于应用大数据加强对市场主体服务和监管的若干意见》，提出了要充分利用大数据加强政府公共服务和市场监管能力，推动简政放权和政府职能转变，提高政府治理能力。9月，国务院出台了《促进大数据发展行动纲要》，这是我国促进大数据发展的第一份权威性、系统性文件，是我国大数据发展的顶层设计。2016年2月，国务院印发了《关于全国推进政务公开工作的意见》，指出推进政府数据开放是推进政务阳光透明的内容之一。3月，“十三五”规划出台，第一次明确提出要实施国家大数据战略，把大数据作为基础性战略资源，全面实施促进大数据发展行动。接着，国务院办公厅转发了《推荐“互联网+政务服务”开展信息惠民试点实施方案》，也明确提出了要打通政务数据部门孤岛的措施，鼓励政企合作。9月，国务院印发《政务信息资源共享管理暂行办法》，它是我国第一份关于政务信息资源共享的规范性文件，旨在加快解决政务信息和公共数据互联共享的老大难问题。如此密集地出台关于大数据的政策文件，体现了我国政府对现代新兴科技的重视程度，为各地应用发展大数据提供了极好的条件和极大的政策空间。

大数据是信息时代的产物，随着信息通讯技术的进步，社会经济活动对信息网络的依赖度增强，大量的智能终端设备、传感器、RFID等接入到了网络，产生的数据量与日俱增。2008年，世界著名科学杂志Nature专门推出了“大数据”专刊，大数据被定义为“代表人类认知过程的进步，数据集的规模是无法在可容忍的时间内用目前的技术、方法和理论去获取、管理、处理的数据”。2011年，国际数据公司（IDC）发布的《数字全球研究》指出，全球信息总量每过2年，就会增长一倍，2011年，全球创建和被复制的数据总量为1.8万亿GB，到2020年这一数据将增长到35万亿GB。为了进一步厘清大数据的概念，2012年IBM公司将大数据的特征总结为Volume（体量大），Velocity（速度快），Variety（形态多），即“3V”，随后该公司在这一基础上又增加了Veracity（真实性）的特征，即“4V”。2013年有研究者提出了Veracity（真实性）、Visualization（可视化），Value（价值性），即所谓的“新3V”。

无论是“3V”还是“4V”，大数据的具体特征都将随着数据的不断更新扩大被研究者进一步认知，而学界的讨论则从“什么是大数据”转移到了“如何应用大数据”方面。近来，关于大数据所蕴含的科学研究价值和社会应用价

值吸引了越来越多的研究者和实践者的关注和重视。在科学研究领域，大数据提供了新的研究范式：一方面以数据为导向的研究范式将挑战传统科学研究基于归纳、演绎为主导的认识论(思维转变)；另一方面，该研究范式也为传统科学研究方法提供了计量革命的新契机(计量转向)。在社会应用层面，大数据几乎渗透到社会经济各个领域，影响着生活便利、商贸活动、城市规划乃至社会治安，如我国很多互联网企业均把用户的数据流量视为精准掌握客户行为和需求的基础；麻省理工学院(MIT)利用手机定位数据为意大利城市米兰完善城市空间规划；美国洛杉矶警察局(LA.P.D)和 Predpoi 公司合作，利用大数据预测犯罪的发生；Google Fiu Trends 利用搜索关键词预测禽流感的散布；美国统计学家 Nate Silver 甚至通过大数据成功预测了 2008 年和 2012 年的总统选举结果。总而言之，大数据使得人们以前所未有的维度量化和理解世界，蕴含了巨大的价值。

## 资料 2

据研究，国外发达国家政府大数据主要应用方向大致分为智慧政府、市场监管、社会治理、公共服务、数据开放与社会创新五大领域。具体分布为：(1) 智慧政府 15%，主要涉及决策制定、经济统计、公众参与、数据共享、预算管理、业务监管等；(2) 市场监管 11%，主要涉及 P2P 及贷款、食品安全、社保防欺诈、医疗监管、税务监管等；(3) 社会治理 32%，主要涉及治安、交通、人流量监控、城市建设、群租监管、应急管理；(4) 公共服务 11%，主要涉及教育、就业、出行、节能等；(5) 数据开放与社会创新 31%，以上四个领域均有涉及，具体有医疗服务、找公厕、找停车位、抗生素管理、洪灾预警等。许多社会机构使用了一种或多种政府开放数据源，专门致力于开放数据平台的接口研发，体现出开放平台对于促进数据利用的重要作用。通过政府数据开放、社会机构的应用涵盖了政府决策的各个领域，反哺政府，可以说社会的创新潜力不容忽视。

有观点认为，我们身处一个新的时代，网络时代、大数据时代、人工智能时代都是一个高度统一人类社会新时代的不同侧面，三者是三位一体的关系，反映了新时代的本质特征。当今世界通过“互联网”等信息技术与政府治理已经逐步进入深度融合的阶段。涉及决策制定、经济统计、公众参与、数据产品、数据共享、预算管理等方面，如数据产品指基于数据运营体系形成独立的或创新的业务功能，支持决策，在战略上实现数据价值。相对数据分析能够辅助决策而言，数据产品更强调能够通过预测、选择、关联等手段，代替人类做决策，提高决策的精准性、智能性。例如里昂基于实时交通报告不仅用来侦测和预测拥堵，还可以及时调整信号灯让车流以最高效率运行，以及应对突发事件，疏通道路以帮助救护车尽快到达医院。涉及金融监控、食品安全、社保防欺诈、医疗监管、税务监管等方面，如 2012 年以来美国财政部为金融市场构建的身份信息报送、识别和共享系统 LEI 系统，该系统通过建立金融机构和金融产品编码系统，描绘出金融机构之间相互联系的网络，打破了银行、基金、证券以及保险等传统的各个子行业之间的界限，从而在极其复杂的衍生金融链条中，追踪衍生金融产品的原生资产，实现对金融风险的跨行业乃至跨国的监控和动态管理。涉及社会治安、城市交通、人流量监控、城市建设、应急管理，以及教育、就业、出行、医疗服务、找公厕、找停车位、洪灾预警等方面，如美国在“9·11 事件”后，为加强国家安全，政府开始加强推进跨部门电子数据共享，高度强调跨部门数据的互操作性。美国国土安全部应用多种技术手段，促进数据在市政部门、医院、避难所等各类机构之间的顺畅流动，致力于打造新一代大数据中心。再如波士顿一个手机应用 SpotHero，用户只需要在地图中输入地址或者选定地点，就能看到附近可用的车库或停车位，以及价格和时间区间，将传统静态的停车位数据结合人的移动位置在地理信息系统中动态实时展示。

从国外政府大数据的应用趋势来看，已经由“点”上的应用向“面”上的应用发展，应用热点覆盖公共管理各个方向，不同层次的应用初步形成系统，如政府推进大数据应用应该关注数据的跨域整合，包括推动跨部门数据共享和利用，多来源多领域数据的融合等，并关注应用大数据的预测功能。

## 资料 3

IBM 公司 2008 年在其全国战略发展计划中提出了“Smarter World”的发展愿景，并在其发展白皮书中提出“智慧的地球从城市发生”。中国将“Smarter”翻译为“智慧”，从而有了“智慧城市”的提法，这一译法比原有提法“更聪

明的城市”更加精准地表达了智慧城市的内涵。阿里巴巴某高管说：“智慧城市首先要有一个城市大脑，对城市的交通、安防、医疗、保险所有这些东西（的整合），人脑是做不出来的”。

“智慧城市”的提法正好契合了我国城市化进程的愿景，我国各级政府纷纷予以响应，2014年试点城市就接近300个。国家标准委等三个委办联合发布了《关于开展智慧城市标准体系和评价指标体系建设及应用实施的指导意见》，从制定标准的高度推进了智慧城市建设，中央政府在2015年的《政府工作报告》中首次在国家层面提及“智慧城市”。在国家战略的推动下，我国的智慧城市试点规模不断扩大，智慧城市的理念不断成熟，尤其是智慧城市顶层设计正在逐步完善，与此同时，智慧城市的安全战略也受到越来越多的关注。

目前，在我国一些城市，智慧城市技术已经运用到了城市管理、交通出行、社会治安、公共服务等方面。如H市推进“智慧城管”解决了检测窨井盖和河道排污口排水难题。因连日下雨，H市上城区中河段一个窨井盖下水位满溢。在距其数公里之外的上城区城管局的工作人员发现，这个标签ID为“300050”的井盖，在智慧城管平台上的标识已由绿色变为红色，呈报警状。很快，这一案件被派给H市市政排水科一名工作人员处置。除了窨井盖，他们还在探索公厕管理、环卫作业等智能化，通过GPS定位器、电子标签、无线传输等技术，一旦公厕出现缺纸、水电异常，垃圾桶丢失、移位等情况，后台可实时掌握，并第一时间处理。

#### 资料4

2017年9月1日召开的上海公安深化科技信息化工作会议上，上海市公安局明确提出了建设“智慧公安”的总愿景：服从服务于建设卓越全球化城市的发展地位，融入“智慧城市”建设的总体框架，按照警务活动科技含量提升与现代警务流程再造、现代队伍管理升级一体化推进的基本思路，以智能化安防体系和大数据应用支撑处置高效的精确警务，城市治理达到防患未然、快处既然、妥处已然自由境界。让民警感受轻松减负、违法犯罪分子感受无罪能瞒，老百姓感受更加安全、党委政府感受安全有底，关键是要管住“人、物、房、点、路、网”，实现最有序、最安全、最干净的终极目标，为全球超大城市治理提供“上海方案”。

其实，在过去几年，上海公安机关在社会面巡控方面通过不懈努力，已经初步形成街面防控新型警务模式，为建设“智慧公安”奠定了扎实的基础。

在街面驻防的特种机动车、武装巡逻车、移动警务指挥平台上除了配备防暴头盔、防弹防刺服、路障和灭火毯等近20款装备外，在车顶前侧上方的警灯位置，还设有一部强光灯和一台可360度旋转的高清摄像头。其中，通过车顶的摄像头以及一部带4G传输设备的头盔，警员到达现场后，可第一时间将实时画面回传指挥中心。此举实现了指挥部门与街面巡逻防控和执法全要素、全过程的即时化、可视化指挥，改变了过去单靠现场民警口头汇报后，凭经验和感觉的“盲指挥”。从几起突发事件的快速反应来看，街面巡控力量的科技化装备已经在提高公安威慑力、增强公众安全感方面起到了明显效果。不久前，中心城区一闹市地段发生人员聚集，原因是双方因门面租赁合同发生纠纷，各自纠集大量人员进行对峙。接警后，属地警方迅速调集巡逻民警赶赴现场处置，但由于双方人数众多，似乎未把到场的几名民警当回事，不断相互挑衅，“火药桶”一触即发。属地指挥中心立即发出增援指令，附近巡逻车辆携带装备从不同线路赶往现场处置。率先到达的特种机动车，通过4G可视头盔将实时图像迅速传回指挥中心，并第一时间截屏挑头人员的体貌特征，为下一步处理及时固定证据。如果按照传统的接处警方式，该突发事件恰巧发生在街面监控盲区，指挥中心指挥员只能依靠现场处置民警的口头描述进行判断，对于增援警力和包抄线路的安排都只能凭经验，处置效率必然大打折扣，后续的办案也可能缺乏至关重要的视频证据支撑。

以新型警务通升级与警务APP开发为契机，社会面遥控工作多维度的数据联通新型警务通能够精准定位每位巡逻队员所处的区域和位置，显示巡逻轨迹，实现即时调度。指令通过指挥平台推出，可以在警务通界面以文字、语音、短信等形式下达，以一对多的方式在全体队员中实现一键通达，全员响应，构建扁平化、快速化指挥调度机制。近期某分局接到市局指挥中心转来的警情：一名14岁未成年人带着6岁弟弟离家未归。分局指挥中心立即通过新型警务通平台查询离事发地点最近的巡逻班组民警，通知该班组迅速赶到现场。处警民警赶

到现场，一边将案情迅速汇报，一边将两人信息上传到应用平台。随后，指挥员在警务通界面发布警情信息，并向其他班组下达增援指令。10时05分，16名巡逻民警全部赶到各自岗位参与搜寻，不久两人被找到。从接警到处警结束，仅用了27分钟。新型警务通能根据街面巡逻民警的分布，实现直观、精确发布和传达指令，真正达到了警力跟着警情走，一呼百应的效果。不同巡逻民警之间是如何做到信息互通？巡逻防控中如何进行实时研判和高效协作？通过新型警务通中的“协同作战”功能，就能够随时随地保持沟通，快速发起会议，进行实时研判，实现高效协作。去年临近春节，本市某区连续发生多起盗窃车内财物案件，各巡逻班组在加强巡逻的同时，利用新型警务通平台收集案件信息，推送警情，相互交流，及时研判。很快，犯罪嫌疑人的体貌特征、作案手段和方式、行动轨迹一一明晰。过年前，巡逻民警通过街面盘查，将伺机再度作案的犯罪嫌疑人王某一举抓获。

以“大数据实战应用平台”为核心，建设图层丰富的立体化数字警务平台。该平台深度融合上下游及平行单位的同构、异构数据，建设基站、路网、水文水系等业务图层百余个，对接嵌入各类应用两百余个；综合利用客流眼、WIFI嗅探、图像智能分析等技术，实现了全方位数字描述和深入挖掘分析。利用大数据、云计算、三维、遥感、地理信息、物联网等一体化技术，建设平台层、服务层、应用层三层云架构，实现了对城市动态变化的多维度、多角度数字描述和深入挖掘分析。与此同时，该数字化平台在数据接入、后台运算、情态展示、预案分布等一系列核心功能建设上不断完善，实现大数据与指挥调度、巡逻盘查、快速反应、人流管控、反恐处突等的有效结合，使之从沙盘到案事件预警模型，从街面警力的实时布局到各级群防群治力量的联勤调控等，向着智能警务迈进。针对辖区商圈附近街面扒窃拎包案件高发的情况，某分局依托该数字平台对作案人员、被侵害对象、作案时空特点等数据聚类分析、碰撞，在大数据应用层中研发出一套“商圈治安防控模型”。该模型以三维立体方式呈现辖区商圈全貌，涵盖了视频监控探头、扒窃案发热点、重要商家、商场进出口、公共交通、地下空间等具体位置图层，同时集案件查询定位、重点人员管控、行业场所及公共资源管理等系统功能于一体，实现了公安基础信息与地理信息的有机融合。“商圈治安防控模型”运行以来，通过科学调整防范力量。该区域内的各大商场多发性侵财类案件均有大幅度下降，大大提升了警务工作效率和商圈整体防范水平。

### 资料5

新兴科技的发展日新月异，大数据方兴未艾之际，人工智能又成为2017年的热门话题。霍金在全球移动互联网大会上发表了题为《人工智能的崛起历程》的演讲，开头就指出：“在我的一生中，我见证了社会深刻的变化。其中最深刻的，同时也是对人类影响与日俱增的变化，是人工智能的崛起”。百度某高管在世界智能大会上说：“我们都认为人工智能时代已经到来，未来的三十年到五十年，推动世界经济发展的最重要力量很可能就是智能科技的进步”。

仅仅一两年的时间，人工智能的发展大大超出了人们的想象，2016年在“阿尔法狗”（AlphaGo）与围棋世界冠军、职业九段选手李世石之间展开的一场人机大战中，“阿尔法狗”的胜出震惊全球。2017年5月，它又完胜了当时世界排名第一的围棋世界冠军柯洁，让柯洁不得不感叹：“（阿尔法狗）实在下得太出色了，我输得也没什么脾气。”7月份世界职业围棋排名网站公布了最新世界排名：“阿尔法狗”以3612分，超越3608分的柯洁成为新的世界第一。在医学领域，IBM公司研制出会看病的人工智能Waston。2016年学习了海量医学论文的人工智能Waston，仅用了10秒钟左右就为一名60岁女性患者诊断出了很难判断的白血病类型，并向东京大学医科学研究所提交了适当的治疗方案，为这名女性的康复作出了贡献。在商业方面，美国西雅图开设了一家与以往都不同，甚至是领先全球改变未来购物模式的食物杂货店Amazon Go。只需拥有一部智能手机和亚马逊账号即可立即体验。首先打开Amazon Go APP，刷二维码就可以进店了。当二维码被识别时，你已经被亚马逊的人工智能系统盯上了，随意选取想买的物品，你所有的选择都会自动加入电子购物车。拿起一样东西，系统会帮你把它自动放到你的购物车里。当然，如果你不喜欢，放下它，系统就会为你自动删除。当你拿完自己想买的

东西之后，只需要直接走人就行了，感测器会自动通知系统，对你带走的商品计价，购物单会自动在手机 App 上弹出。亚马逊将这种智能购物体验称之为“Just Walk Out”（拿了就走）。

2016年5月，国家发展改革委、科技部、工业和信息化部、中央网信办制定了《“互联网+”人工智能三年行动实施方案》。从科技研发、应用推广和产业发展等方面提出了一系列措施。2017年7月，国务院印发我国首部国家级人工智能发展规划《新一代人工智能发展规划》，指出人工智能的迅速发展将深刻改变人类社会生活、改变世界，提出到2030年，要在人工智能理论、技术与应用总体上达到世界领先水平，成为世界主要人工智能创新中心。人工智能在中国迎来了史上最大机遇，未来十年将是人工智能领域红利大爆发的十年。《规划》还提出要围绕行政管理、司法管理、城市管理、环境保护等社会治理热点难点问题，促进人工智能技术应用，推动社会治理现代化。

中国在人工智能方面有优势的一面，《华盛顿邮报》说“中国已在人工智能研究方面领先美国”，《纽约时报》也刊文指出“中国正在人工智能领域超越美国。”这种评价虽然有夸大的成分，但是我国发展人工智能具有良好基础是一个不争的事实。经过多年的持续积累，我国在人工智能领域取得重要进展，国际科技论文发表量和发明专利授权量已居世界第二，部分领域核心技术实现重要突破。语音识别、视觉识别技术世界领先，自适应自主学习、直觉感知、综合推理、混合智能和群体智能等初步具备跨越发展的能力，中文信息处理、智能监控、生物特征识别、工业机器人、服务机器人、无人驾驶逐步进入实际应用，人工智能新创业日益活跃，一批龙头骨干企业加速成长，在国际上获得广泛关注和认可。加速积累的技术能力与海量的数据资源、巨大的应用需求、开放的市场环境有机结合，形成了我国人工智能发展的独特优势。

在人工智能的日常应用方面，我们也走在世界的前列。在我国司法界，人工智能开始应用在证据收集、案例分析、法律文件阅读与分析的实践中。2016年10月15日，在杭州云栖大会上，法律机器人“法小淘”的功能演示惊艳了全场。主持人模拟了真实应用场景，他对“法小淘”说：“我是杭州某公司法务，在互联网领域做数据分析和数据挖掘，现在发现广州一家公司抓取我公司数据、仿冒我公司的广告语，与我公司已存在竞争关系，我想找相关的律师。”“法小淘”立即理解了语意，并分析出该情况属于不正当竞争纠纷案由，然后进一步给出索赔金额、诉讼地点等关键词，之后从30万名律师信息中找到了3名合适的律师，并提供了律师所在的律所、同案件数量、标的额区间等信息。

我国还尝试用人脸识别技术去帮助寻找走失的亲人。重庆一个孩子在四五岁的时候走失，二十七年以后他生活在福建，通过人脸识别的比对找到了他的亲人。还有一对陕西的老夫妇带着智力障碍的儿子到北京看病，儿子走失了。因为有智力障碍，说不出来自己姓什么叫什么。他们在北京徘徊八个月之后，最终靠人脸识别技术找到了儿子。那时儿子已经满脸络腮胡子，跟照片完全不一样了，但是机器可以识别出来。

2017年春运，南昌铁路局首次在南昌西站试点开通自助验证进站通道，采取人脸识别技术，让旅客直接“刷脸”进站，大大提高了旅客进站速度。南阳机场已经实现了刷脸登机，不用登机牌人就可以直接进去。以前，政府在发放养老金的时候，会要求当事人在柜台前面核实一下，但是会碰到很多实际困难，如年纪大的老人、病患者等无法按照规定去做。现在南昌，领取养老金的退休人员，只要将头像和指纹信息录入并同步传输至“南昌智慧人社”后，通过注册并绑定身份证、手机号，便可通过手机“刷脸”和核对指纹来领取养老金。

#### 资料6

当然，在专家们看来，人工智能的发展是威胁或是机遇还存在着变数。霍金说：“我认为强大的人工智能的崛起，是好是坏我们仍不确定。但我们应该竭尽所能，确保其未来发展对我们和我们的环境有利。”在艾伦·马斯克看来，人工智能对人类社会的威胁有短期和长期两种：“短期而言，人工智能可能导致数以百万计的人失业；长期而言，可能出现一些科幻电影中的情况，人工智能的智力水平超过人类，开始‘政变’。按人工智能的发展进步，在不久的将来，机器可能以不断加快的速度重新设计自己，超越受制于生物进化的人类，最终摆脱人类的控制。”我国科技部副部长在接受新华社记者提问时就加强前瞻应对，确保人工智能安全可靠可控谈了自己的想



法。他说，与其他任何新技术一样，人工智能技术也是一把“双刃剑”，在促进经济社会发展的同时，也可能带来改变就业结构、冲击法律与社会伦理，挑战国际关系准则等问题。

“人工智能有可能令大量人类失业”，已被列为眼下迫在眉睫的议题。讲授“未来科技之影响”课程的牛津大学讲授卡尔·弗雷与迈克尔·奥斯本所做的一项研究表明：几乎一半工作在未来都能由智能科技来完成。这不仅将摧毁那些低薪酬、低技能的岗位，还将摧毁某些白领岗位和服务业岗位。有这样一个科幻故事：在2030年，一群探险者进入到一座废弃的城市，这座昔日繁华的工业城市如今变成了一堆废墟。在这片废墟中，他们遇到一位老人——这座城市唯一的幸存者。原来这里曾经是一个人工智能非常盛行的城市，于是城里唯一的工厂将工人们陆续解雇，换成机器人。结果，城里人都慢慢饿死了，而工厂的产品也卖不出去破产了。城里的人搬的搬，死的死，工厂的老板追悔莫及，最后自杀谢罪。城里只剩下老板的儿子还活着，也就是这位孤独的老人。

### 资料 7

习近平总书记在参加十二届全国人大五次会议上海代表团审议时指出，走出一条符合超大城市特点和规律的社会治理新路子，是关系上海发展的大问题。他提出，做好超大城市治理，必须有脚踏实地、与时俱进的精神；在手段上要强化智能化管理，提高城市管理标准，要多运用互联网、大数据等信息技术手段；在理念上要强化依法治理，善于运用法治思维和法治方式解决城市治理顽症难题，努力形成城市综合管理法治化新格局。

## 三、作答要求

(一) 结合给定资料，概述大数据与人工智能等新兴科技对人类社会与生活的影响。(20分)

要求：概括准确，条理清楚，语言精练，字数不超过300字。

(二) 结合给定资料，分析国外政策大数据主要应用在智慧政府、社会治理等五大领域的原因。(20分)

要求：观点明确，层次清楚，语言精练，字数不超过200字。

(三) 结合给定资料，用三个关键词归纳上海公安街面防控新型警务模式的主要特点；论述“智慧公安”与利用新兴科技之间的关系。(20分)

要求：概括准确，观点明确，层次清楚，语言精练，字数不超过300字。

(四) 以“充分运用新兴科技，推动城市治理创新”为主题，写一篇文章。(40分)

要求：

(1) 自选角度，自拟题目；

(2) 观点明确，联系实际，分析具体，条理清楚，语言流畅；

(3) 总字数800-1000字。

**温馨提示：****2018 年公考通网校重新起航****系统班+考前直播冲刺班+一对一申论批改班+面试通关课程  
更多好课等你挑选！****【参考答案与解析】****（一）【参考答案】**

1. 正面影响：高度统一人类社会新时代，以维度量化和理解世界，推动世界经济发展，改变人类社会生活、改变世界。

（1）政府管理层面：加强政府公共服务和市场监管能力，推动简政放权和政府职能转变，提高政府治理能力，推动社会治理现代化，与政府治理深度融合，提高决策的精准性、智能性，覆盖公共管理各个方向；

（2）科学研究层面：提供了新的研究范式；

（3）社会应用层面：大数据渗透到社会经济各个领域，影响着生活便利、商贸活动、城市规划、社会治安等；

2. 负面影响：导致人类失业、改变就业结构；智能水平超过人类，开始“政变”；冲击法律与社会伦理，挑战国际关系准则等。

**（二）【参考答案】**

这些领域涉及的主体及其管理机构、事务多，数据源多，开放数据平台可以促进数据利用，反哺政府，对社会的创新潜力大。

一、可打造智慧政府：支持决策，在战略上实现数据价值；能提高决策精准性、智能性。

二、可强化市场监管：打破传统子行业的界限，追踪原生产产，实现对金融风险的监控与动态管理。

三、可促进社会治理及公共服务与数据开放，加强国家安全，数据在各机构之间的顺畅流动，打造新一代数据中心。

**（三）【参考答案】**

（一）

1. 装备科技化。2. 信息协同化。3. 平台智能化。

（二）

一方面，新兴科技为建设“智慧公安”奠定基础。1. 通过科技化装备实现指挥部门与街面巡逻防控和执法全要素、全过程的即时化、可视化指挥，提高威慑力；2. 通过多维度的数据联通新型警务通，精准定位队员位置，即时调度，构建扁平化、快速化指挥调度机制。通过“协同作战”，保持沟通，发起会议，实时研判，高效协作；3. 通过建设立体化数字警务平台。实现对城市动态变化的数字描述和深入挖掘分析，实现大数据与指挥调度、巡逻盘查、快速反应等的有效结合，向智能警务迈进。

另一方面，人工智能技术是一把“双刃剑”，推动“智慧公安”的发展，也需要对新兴科技辩证利用。

**（四）【参考例文】****运用新兴科技 创新城市治理**

大力发展“大数据”在 2014 年首次写进了政府工作报告，“互联网+”行动计划也随即推出，移动互联网、云计算、大数据、物联网等技术很快被运用于生产生活的方方面面。与此同时，信息技术不断进步，人工智能被广泛运用于政府工作和社会治理……这些新兴科技是信息时代的产物，体现着社会经济活动对信息网络的依赖，它们是人类认知过程进步的代表符号，共同推动着城市治理创新。

运用新兴科技指导社会治理创新，需要政府重视，做好顶层设计。从2014年以来，我国政府密集出台了关于大数据的政策文件，为各地应用发展大数据提供了优越的条件、拓宽了发展的政策空间，有效的解决了围绕城市管理、环境保护等社会治理的难点问题，促进新兴技术的应用，推动社会治理现代化。

推动新兴科技不是孤立的事件，不仅仅涉及到政府部门，还需要政企合作，打通政务数据部门孤岛。目前来看，虽然很多政府已经将大数据作为提升政府治理能力和治理现代化的重要手段，但是信息难以共享，各个职能部门仍然是一个个孤岛，最终只能获得局部碎片数据、片面单一数据。随着社会结构的变化，参与社会治理的主体，已经从政府单一主体过渡到一个由政府、企业等构成的行动者系统。因此，一定要鼓励政府部门之间，政府和企业之间有效破解体制性障碍、摆脱机制性束缚。当然，这需要企业应积极参与各项信息化建设，夯实步入智能化时代的基础。

新兴科技推进了政务阳光透明，提升了政府公共服务和市场监管能力。新兴科技为政府公开和科学的社会治理推开了另一扇窗，里昂基于实时交通报告不仅能侦测和预测拥堵，还可以及时调整信号灯让车流以最高效率运行，以及应对突发事件，有效的提高了政府治理能力；上海“智慧公安”的提出，用大数据的应用支撑，在处置高效的精确警务基础上，使城市治理达到防患未然的自由境界。当然，新兴科技的价值并不只有这些，它还被运用在各个领域发挥着综合全面的价值，比如智能化生产技术为智能化奠定了绿色经济发展的基础；无线网络技术奠定了信息无缝沟通的基础，互联网使得居民的生活越来越智能化、高效、便捷。

凡益之道，与时偕行。做好超大城市治理，不仅仅需要新兴的科技，还需要辅以脚踏实地、与时俱进的精神，也需要在理念上强化依法治理，无论是政府还是广大科技工作者都应该聚焦新时代，新技术，新手段，在促进新兴技术手段与社会治理深度融合中，提升社会治理智能化水平中作出自己的贡献。



美好的事情即将发生...

something wonderful is about to happen



公考通