

近三年四川省考真题卷

公考通网校

www.chinaexam.org



公考通 APP



微信公众平台

目录

1	2016年四川行测真题卷.....	1
2	2016年四川申论真题卷.....	41
3	2017年四川行测真题卷.....	49
4	2017年四川申论真题卷.....	91
5	2018年四川行测真题卷.....	98
6	2018年四川申论真题卷.....	134

1 2016年四川行测真题卷

一、常识判断

根据题目要求，在四个选项中选出一个最恰当的答案。

1. 下列关于党的重要思想，按提出时间先后顺序排列正确的是（ ）

- ①社会主义市场经济理论 ②“三个代表”重要思想
③社会主义本质理论 ④构建社会主义和谐社会理念
- A. ①②③④ B. ①②④③
C. ③①②④ D. ③②①④

2. 下列对诗词中的物理现象描述错误的是（ ）

- A. 坐地日行八万里，巡天遥看一千河——地球的公转
B. 两岸青山相对出，孤帆一片日边来——运动的相对性
C. 八月秋高风怒号，卷我屋上三重茅——空气振动发声
D. 飞流直下三千尺，疑是银河落九天——势能转化为动能

3. 下列关于微波的说法正确的是（ ）

- A. 微波的频率比一般无线电波的频率低
B. 含水量多少对微波加热效果没有影响
C. 微波会被玻璃、塑料和瓷器等物体反射
D. 微波通信容量大、质量好、传输距离远

4. 下图所示的是哪种典型地貌（ ）



- A. 喀斯特地貌 B. 冰川地貌 C. 丹霞地貌 D. 风蚀地貌

5. 假如某国出现比较严重的经济衰退，该国当局却不能运用货币政策进行调节。这个国家可能是（ ）

- A. 德国 B. 美国 C. 英国 D. 新加坡

6. 关于药品，下列说法错误的是（ ）

- A. 大部分药品属于处方药，如注射剂、毒麻药品等
B. 非处方药不需要凭执业医师处方即可自行购买和使用
C. 处方药不可擅自使用、停用或增减剂量，否则可能引起严重后果
D. 药品说明书用以指导医生和患者选择、使用药品，但不具法律意义

7. 关于水稻，下列说法错误的是（ ）

- A. 是一年生的禾本科植物
B. 大多为自花授粉并结出种子
C. 中国、印度、日本都是主产国
D. 淀粉含量是早、中、晚品种的分类标准

8. 下列不属于夫妻共同财产的是（ ）

- A. 婚前房屋在婚后所得的租金
 - B. 夫妻关系存续期间，军人的复员费和自主择业费
 - C. 婚后由一方父母出资购买的不动产，产权登记在出资人子女名下
 - D. 婚姻存续期间虽未实际取得，但明确可以取得的知识产权收益
9. 关于当代文学，下列说法错误的是（ ）
- A. 《白鹿原》获得“茅盾文学奖”
 - B. 《平凡的世界》是史铁生的作品
 - C. 余华是先锋文学的代表人物之一
 - D. 电影《大红灯笼高高挂》由苏童的小说改编
10. 洲际导弹通常指射程大于8000公里的远程弹道式导弹。目前，中国研制的洲际弹道导弹主要是什么系列的（ ）
- A. “东风”系列
 - B. “长征”系列
 - C. “红旗”系列
 - D. “天宫”系列

二、言语表达与理解

11. 中国互联网发展的过程中，“鼓励原创”的版权意识与互联网的免费共享精神，一直在_____中牵绊着发展，当众多网友对网络“免费午餐”津津乐道时，损害的却是创造者的创作热情以及出版业的长远发展。

填入划横线部分最恰当的一项是（ ）

- A. 逆境
- B. 竞争
- C. 矛盾
- D. 挑战

12. 科普影评的作者应寻找科学与电影的交汇点，将科普和艺术_____，启迪思想。他们将前沿领域研究成果，结合电影转化为更轻松易懂的文字，面向更多读者。

填入划横线部分最恰当的一项是（ ）

- A. 融会贯通
- B. 合二为一
- C. 珠联璧合
- D. 相提并论

13. 古人行文简略，优秀的作品常常“字不虚设”，阅读者决定不予深究的地方，有可能正是作者用心良苦之所在。因此我们阅读时不宜有所偏，应该像作家写作这些文章时那样“_____”。

填入划横线部分最恰当的一项是（ ）

- A. 孜孜不倦
- B. 精益求精
- C. 字斟句酌
- D. 心无旁骛

14. 人类的寿命与基因有关，体内有多个基因_____着你的生命长短。研究表明，那些在恶劣环境下控制机体防御功能的基因，能够显着地改善多种生物的健康状况并且延长其寿命。了解这些基因的运作_____，或许可以帮助我们找到消除老年疾病、延长人类生命的秘诀。

依次填入划横线部分最恰当的一项是（ ）

- A. 操控 规律
- B. 支配 原理
- C. 决定 机制
- D. 主宰 流程

15. 对互联网企业来讲，从用户那里收集到的信息主要包括消费习惯、行为特征、个人数据等。企业可以通过收集这些信息去开展大数据分析，进一步挖掘用户的潜在消费能力和更_____的价值，从而为用户提供更具_____的服务。

依次填入划横线部分最恰当的一项是（ ）

- A. 市场化 独创性
- B. 多元化 针对性
- C. 智能化 实用性
- D. 规模化 多样性

16. 宜居带是指一颗恒星周围一定距离的范围，在这一范围内水可以以液态形式存在。由于液态水被科学家认为是生命生存_____的元素，因此如果一颗行星恰好落在这一范围内，那么它就被认为有更大的_____拥有生命或至少拥有生命可以生存的环境。

依次填入划横线部分最恰当的一项是（ ）

- A. 缺一不可 范围
- B. 举足轻重 条件
- C. 至关重要 优势
- D. 必不可少 机会

17. 日前，被称为“法国大展”的“名馆名家名作”纪念中法建交50周年特展在国家博物馆展出。这是一次重量级的展览，10幅名作都是从法国各大国立博物馆_____的精品之作，_____了法国从文艺复兴到当代的艺术精华。

依次填入划横线部分最恰当的一项是（ ）

- A. 精挑细选 再现
- B. 沙里淘金 展现
- C. 百里挑一 融合
- D. 优中选优 浓缩

18. 在人类文明史上，古埃及人和两河流域的苏美尔人，都曾创造过古老的文字。然而，随着时间的流逝，这些文字早已消亡。时至今日，_____的古老文字，唯有中国人创立的汉字。作为伟大的汉文化的载体和媒介，汉字依然_____，堪称当今世界上最有生命力的文字之一。

依次填入划横线部分最恰当的一项是（ ）

- A. 硕果仅存 长盛不衰
- B. 凤毛麟角 源远流长
- C. 出类拔萃 博大精深
- D. 鹤立鸡群 方兴未艾

19. 暗物质是最大的谜团之一，不过一旦天文学家接受其存在，很多其他宇宙难题便可_____。例如，暗物质似乎能解释为何银河系的盘状结构边缘存在如此大的扭曲。虽然围绕银河系运行的星系会对银河系产生扰动，但如果没有暗物质的放大作用，它们微弱的引力效应对银河系也是_____。

依次填入划横线部分最恰当的一项是（ ）

- A. 举一反三 望尘莫及
- B. 迎刃而解 鞭长莫及
- C. 拨云见日 爱莫能助
- D. 昭然若揭 无能为力

20. 天池经历了漫长的无名时期，后来伴随着天池传说的兴起，天池也开始_____。谈到天池传说，还有一个缘由：人们面对神奇的山水之境时，总爱把神灵的光环罩在山水的头上，使山水之景与神灵之气_____，即所谓山不在高，有仙则名。

依次填入划横线部分最恰当的一项是（ ）

- A. 声名鹊起 相得益彰
- B. 门庭若市 相映成趣
- C. 脱颖而出 相濡以沫
- D. 广为人知 相视莫逆

21. 在这个时代，人与人之间虽然在空间和情感上越来越_____，但是每个人的利益却又_____地与他人的利益和行为紧密地联系在一起。这促成人们主动参与公共事务，呼吁公共利益。

依次填入划横线部分最恰当的一项是（ ）

- A. 冷漠 无孔不入
- B. 疏离 前所未有

- C. 隔绝 迫不得已 D. 封闭 始料未及

22. 经济全球化促使世界主要国家实力对比关系发生深刻变化，出现强与弱、盛与衰的实力转换，国际角色与位序的_____，最终会导致国际社会中的权力分配结构产生调整。同时，彼此间的机制化、制度化、常态化的_____与相互协调已经成为处理国家间关系、解决国家间经济利益矛盾的主要方式。

依次填入划横线部分最恰当的一项是（ ）

- A. 善变 对话 B. 演变 商榷
C. 嬗变 磋商 D. 变迁 协商

23. 在西班牙，“慢食”一直是在人们头脑中_____的饮食观念。与“慢食”一脉相承的是西班牙人“慢生活”的态度：大厦电梯里面没有关门按键，大家都是等待电梯门缓缓关上；和午餐相伴的还有午睡，尤其在西班牙南部最为炎热的地方，小店业主都会在14点到17点之间关门，那是他们_____的午休时段。

依次填入划横线部分最恰当的一项是（ ）

- A. 嗤之以鼻 板上钉钉
B. 坚不可摧 不可更改
C. 积重难返 翘首以待
D. 根深蒂固 雷打不动

24. 法治和礼治发生在两种不同的社会_____中。这里所谓的礼治也许就是通常所谓的人治，但是礼治一词不会像人治一词那样容易引起_____，以致有人觉得社会秩序是可以由个人好恶来维持的了。

依次填入划横线部分最恰当的一项是（ ）

- A. 形态 歧义 B. 模式 偏差
C. 情态 误解 D. 形势 干扰

25. 当企业的业务都实现计算机化后，那些从事计算机业务的企业却遭遇了_____。如果需要计算机化的业务流程没有增加，顾客对性能没有特别需求，他们就无法继续_____自己的产品。所以，所有与计算机相关的企业，都必须为已经得到满足的顾客们，提供一个购买他们更新技术的_____。

依次填入划横线部分最恰当的一项是（ ）

- A. 瓶颈 销售 理由
B. 阻碍 生产 方法
C. 困境 改进 渠道
D. 障碍 推广 优惠

26. “本质性诗人”大致有两种出路：其一是像陶渊明那样从急流中退出，在山水间_____自己的灵魂。尽管现实中并不存在桃花源，但_____在内心一隅还是可能的。其二是原地不动，像屈原那样与污浊的世界对抗。这注定了他与世界的_____是持续的、难以调和的。

依次填入划横线部分最恰当的一项是（ ）

- A. 寻找 退隐 冲突
B. 放逐 蜷缩 矛盾
C. 抚慰 潜藏 距离
D. 寄托 固守 隔阂

27. 从长期看来，人民币国际化并逐步发展成为储备货币_____。一方面，中国经济基本面长期向好的_____没有变；另一方面，人民币的币值一直比较稳定，稳中有升，这些都为有强烈“保值增值”需求的各国央行提供了储备人民币的强大_____。

依次填入划横线部分最恰当的一项是（ ）

- A. 势如破竹 态势 动机
- B. 势不可挡 趋势 动力
- C. 势在必行 势态 信心
- D. 势如累卵 形势 信念

28. 现代传媒尤其是电子传媒有着比传统纸质传媒更宽广的尺度，_____更多批判的意识和更多的异端。无数专家、学者在电子传媒会客厅中针对各种社会现象接受访谈，发表意见，甚至不乏_____的声音。分析之深、论证之严密、言论之犀利，传统媒体均无法_____。

依次填入划横线部分最恰当的一项是（ ）

- A. 鼓励 特立独行 相提并论
- B. 滋生 针锋相对 同日而语
- C. 允许 振聋发聩 一目了然
- D. 容纳 惊世骇俗 望其项背

29. 汪曾祺曾说语言不是外部的东西，它是和内在的思想同时存在，不可剥离的。在他看来写小说就是写语言，语文课学的是语言，但语言不是空壳，而是要承载各种各样的思想、哲学、伦理、道德的。怎么做人，如何对待父母兄弟姐妹，如何对待朋友，如何对待民族国家和自己的劳动等，这些在语文课里是与语言并存的。从这个意义来讲，语文教育必须吸收和继承传统文化，而诗歌无疑是传统文化的集大成。

这段文字意在说明（ ）

- A. 诗歌中包含丰富的思想、伦理和道德元素
- B. 脱离内在思想的语文教育是空洞无物的
- C. 必须重视诗歌在语文教育中的作用
- D. 语文教育需要和思想品德教育同步进行

30. 秦汉四百年间，政治与文化相互推动，形成互补机制，其效应是：统一被认为是合理的、正常的，分裂则被认为是违理的、反常的。秦汉文化造成的这一定势，深刻地影响了此后两千年的中国历史。国家统一，使多元文化整合的速度与力度加强；而整合后的一统文化，具有强大的凝聚力和向心力，又反过来增加政治一统。

这段文字意在强调（ ）

- A. 政治与文化存在紧密联系
- B. 秦汉文化对于后世影响深远
- C. 中国文化具有强大的向心力
- D. 国家统一的前提是文化的一统整合

31. 当前，对于大部分消费者来说，智能化家居产品既熟悉又陌生，很多人的概念还停留在电动窗帘或别墅防盗系统。从技术层面来说，一键控制、远程遥控、感应人体、自动开启这些电影里才出现的产品如今并非“高科技”，但由于价格昂贵等原因，智能家居并未普及。

根据这段文字，以下说法正确的是（ ）

- A. 智能化已成为家居业未来的发展方向
- B. 目前技术上实现智能家居已无屏障
- C. 普及智能家居必须降低生产成本
- D. 智能家居的概念模糊影响其普及程度

32. 由于冰河期消失，气候转暖，中石器时代的绘画由洞窟转移到露天岩壁。随着人们狩猎工具的进步，对大自然征服力的增强，动物形象在绘画中逐渐减少并失去原始的野性，而人类活动开始成为绘画描绘的主要

对象。岩画主要分布在北欧和西班牙的拉文特地区。它们以人类狩猎为主要情节，以表现人物、动物的运动和速度为特点。把运动中的形象表现成剪影效果或带状样式。以拉长的四肢和夸张的动作强调动势，表现狩猎场面中的紧张和活力。构图具有浓厚的情节性和生活气息，但忽略细节刻画，用色单纯。

根据这段文字，关于中石器时代的岩画，以下说法正确的是（ ）

- A. 风格细腻而精致 B. 多表现动物野性
C. 再现了人类生活 D. 色彩鲜艳、丰富

33. 英国科学家宣称，已找到了一种替代全球定位系统（GPS）的方法，而无需借助任何空间技术。研究发现，激光能够限制并冷却放置于真空条件下的原子，将温度降至绝对零度以上的百万分之一度。在这样的温度下，原子对地球的磁性和重力领域的变化极度敏感。研究者利用这些成果，可以在一台小型装置上限制原子，研究它们的波动，从而定位其运动，并准确查明它们的所在位置。此时，其踪迹定位工作会交由一个仅有1米长的装置来完成，关键在于如何把它打造成微缩装置，以便将其安装在智能手机之中。

这段文字主要介绍的是（ ）

- A. 智能手机应用程序的革新
B. 激光在科技创新中的新用途
C. 新定位系统在前沿领域的应用
D. 利用原子进行定位的原理

34. ①最早的单质碘便是法国人从海藻中发现的，海藻也是最早的碘生产原料

②我国大部分地区都缺碘，碘不足可能会引起甲状腺肿病和地方性克汀病

③近年来，随着人们对食品纯天然的追求，海藻碘盐越来越受欢迎

④碘在自然界中比较稀少，但是海洋中的藻类却有较高的含碘量

⑤碘是人体必需的微量元素之一，有“智力元素”之称

⑥因此从1995年起，我国开始实施食盐强制加碘

将以上六个句子重新排列，语序正确的是（ ）

- A. ②⑤⑥③①④ B. ③①④⑤②⑥
C. ④③①⑤⑥② D. ⑤②⑥④①③

35. ①弹性分析方法是众多分析方法中研究产业吸纳能力的基本方法

②由此可以看出文化创意产业弹性系数最大，对就业的吸纳能力最强，那这和北京市不断调整经济结构，充分利用文化资源优势，以及对文化创意产业的重视程度相关

③北京文化创意产业开辟了大量的就业空间，为各层次的人群和专业人士提供了就业平台

④自2006年以来，北京文化创意产业，第一产业、第二产业、第三产业的平均就业弹性分别为0.59、-0.08、-0.36、0.39

⑤所谓就业弹性，是指描述经济增长与就业增长之间关系的指标，即在某一时期内经济增长1%所带来的就业增长的比率，它与经济结构和劳动力成本等因素相关

⑥为了进一步确定文化创意产业对北京就业的吸纳空间，研究者采用弹性分析方法进行了研究。

将以上六个句子重新排列，语序正确的是（ ）

- A. ①⑤④②⑥③ B. ③⑥①⑤④②
C. ①⑥⑤④②③ D. ③⑤④⑥①②

36. 有了社会契约，人们失去的是其自然的自由，以及他们愿意拿什么就拿什么的绝对的权利；通过社会契约，他们得到的是文明的自由以及对自己所拥有的财物的法定权，在权衡利弊的时候，如果要避免出现错误，我们必须清楚地辨别什么是自然的自由以及什么是文明的自由——自然的自由只受到个人实际力量的控制，而

文明的自由却受到公众意志的限制，步入文明社会，人类获得了道德自由，仅这一点就使人类成了自身的主宰。

根据上述文字，下列说法正确的是（ ）

- A. 社会契约规定了自然的自由和文明的自由各自的界限
- B. 社会契约强调的是有约束而非完全的自由
- C. 人们只有服从社会契约才能获得文明的自由
- D. 社会契约赋予人们文明的自由、限制自然的自由

37. 现代化学与炼金（炼丹）的相同点是从分子层面创造新事物，至于创造新元素其实是核物理学家的任务，由他们拿一些回旋加速器把新元素轰出来然后再填到元素周期表中作为化学家的胜利果实。古典炼金术实际上已经有了元素、原子这样的理念，但并不具备理性思维，例如中世纪的欧洲人认为，轻、重、干、湿是基本的物理性质，干而轻的是火，干而重的是土，湿而轻的是气，湿而重的是水，因此，任何物质均是由水、火、土、气这四种基本元素按不同比例合成的结果，这与目前可知世界的观念显然不同，而同时期其它文明中对物质本质的认识同样也是介于神秘与理性之间。

接下来最可能讲的是（ ）

- A. 现代化学理性思维的起点
- B. 物理学家如何创造新元素
- C. 古典炼金术对欧洲文明的影响
- D. 可知世界中关于元素的各种观念

38. 人的自尊可以划分为有条件的自尊和无条件的自尊。前者是通过达到一些预设的标准来获得的自尊，自我价值感有赖于这些标准的实现，而非自我的本真需要，比如认为拥有美貌才有价值感。有条件自尊者往往并不了解自己的需要，其衡量自尊的标准是内化得来的。如果父母的爱是有条件的，对自己欲求的行为进行奖励，对不欲求的行为进行惩罚，这就把行为标准强加给了儿童。儿童会不自觉地在这种标准当作自己的人生追求，有条件的自尊往往通过强烈的自我意识表现出来，这样的人总是通过他人的眼光来看待自己。

与这段文字的意思相符的一项是（ ）

- A. 人的本真需求是有条件自尊的来源
- B. 父母的过分溺爱会损害孩子的自尊
- C. 有条件自尊者往往过于在意外界的评价
- D. 父母给孩子制定行为标准对其成长不利

39. 可见光通信技术的原理非常简单，光亮代表1，光灭代表0，亮灭的组合就携带了信息。不过，由于可见光的频率远远高于无线网络通信信号，其传播的直线性很强，稍有阻挡就会导致通信中断。考虑到技术发展趋势和产品实用性，可见光通信不大会替代无线网络而在家庭中得到广泛应用，但这并不是说这种技术没有实用价值。这种技术在广播式的公共通信中有着令人兴奋的应用前景。运用可见光通信技术，发光二极管信号灯可告诉司机前方直行有拥堵现象，建议右转走另外的道路。

从这段文字我们可以推出（ ）

- A. 可见光通信技术的使用将使得城市真正变成智能之城
- B. 目前可见光通信的核心技术已有了巨大突破
- C. 可见光通信技术将在公共通信中大放异彩
- D. 可见光通信技术将使得家庭网络发生翻天覆地的变化

40. 诗歌的面貌并不完全取决于作者人品的高下，而是与作者的学力素养、心灵的敏感程度有更为直接的关系。换句话说，_____。典型的例子就是晋代的潘岳，他虽然有“拜路尘”的卑劣行径，但其《闲居赋》一文却展现了一份清雅独绝的隐逸情怀。

填入划横线部分最恰当的一项是（ ）

- A. 一个品格并不高尚的人同样有可能创作出动人的诗篇
- B. 人格是否高尚并不是决定作品质量高下的唯一要素
- C. 一些杰作的作者反而更擅长掩饰自己的真实品格
- D. “知人知面不知心”的情况在创作领域尤为常见

41. 大数据是指规模极其巨大，以致很难通过一般软件工具加以获取、管理、处理并整理成为有用资讯的海量数据。其具有大量、高速、多样和价值四个特点，被认为是人类新世纪的“新财富”，价值“堪比石油”，发达国家纷纷将开发利用大数据作为夺取新一轮制高点的重要目标，就是个明证。

这段文字意在说明（ ）

- A. 大数据在处理上还存在技术难度
- B. 大数据背后隐藏着巨大的价值
- C. 发达国家在开发利用大数据上已经先行一步
- D. 开发利用大数据已成为国家竞争的一个热点

42. 中微子是一种基本粒子，在宏观的宇宙起源及演化中扮演着极为重要的角色，由于没有质量并且不带电荷，和其他物质的相互作用极其微弱，这使得中微子的运动轨迹不会发生改变。那些来自遥远宇宙、来自黑洞边缘或者来自宇宙线发源地的中微子，可以告诉人类那些“源”在哪里，甚至可以让我们一探黑洞的究竟。

最适合做本段文字标题的是（ ）

- A. 令人惊喜的存在
- B. 特立独行的中微子
- C. 中微子：宇宙的使者
- D. 触不可及：“隐形”的中微子

43. 从政治经济到日常生活，从全球化到地区的复兴，从实用技术到话语表达所面对的诸多难题乃至危机，都与空间这一因素密切相关。这是以地震海啸灾难、边界武装冲突、房地产业的崩盘、道路拥堵以及空间竞争日趋激烈等多种形式表现出来的。

这段文字意在说明（ ）

- A. 经济全球化带来很多空间危机
- B. 自然和人为空间危机日趋突出
- C. 如今空间变得越来越重要
- D. 人口增多带来很多空间问题

44. 海洋是陆域通过流域的自然延伸，在海洋开发活动中，海洋捕捞、海上运输、海洋矿产开发和海水养殖等生产环节是在海域和流域共同完成；而海盐业和海水利用等则完全是在陆域上完成所有生产环节。此外，现代科学技术发展在推动海洋科技进步、海洋产业发展的同时，海洋高新技术的发展以及新产品的出现，也促进了流域科技进步和相关产业的发展，海陆产品通过这种技术延伸得到互动发展。

这段文字意在说明（ ）

- A. 海洋经济与流域经济空间布局的依赖性
- B. 现代科技的发展推动了海陆经济的进步
- C. 海洋经济与流域经济在产业上相互交错
- D. 现代科技的发展促进了海陆经济的交汇

45. 沉积物基准是指特定化学物质在沉淀物中不对底栖生物或上覆水体质量产生危害的实际允许浓度，它既是对水质基准的完善，也是评价沉积物污染和生态风险的基础，是进行湖泊生态环境质量评价的基本要素。国外对沉积物基准的研究始于20世纪80年代，但还未形成完善和统一的沉积物基准体系。由于沉积物中污染物的迁移、转化、生物累积过程及界面过程的复杂性，目前仍缺乏关键的研究手段。国内已有不少科学家做了大

量有益的探索，但研究仍然比较零散，还没有国家主管部门颁布湖泊沉积物基准规范。

这段文字意在说明（ ）

- A. 亟需弥补现有沉积物基准体系不足
- B. 沉积物基准非常重要但研究未成体系
- C. 沉积物基准为湖泊水环境重要研究内容
- D. 沉积物基准的相关研究已经有较多进展

三、数量关系

46. A工程队的效率是B工程队的2倍，某工程交给两队共同完成需要6天。如果两队的工作效率均提高一倍，且B队中途休息了1天，问要保证工程按原来的时间完成，A队中途最多可以休息几天（ ）

- A. 4
- B. 3
- C. 2
- D. 1

47. 某企业原有职工110人，其中技术人员是非技术人员的10倍，今年招聘后，两类人员的人数之比未变，且现有职工中技术人员比非技术人员多153人。问今年新招非技术人员多少名（ ）

- A. 7
- B. 8
- C. 9
- D. 10

48. 某地居民用水价格分二级阶梯，户年用水量在0~180（含）吨的水价5元/吨；180吨以上的水价7元/吨。户内人口在5人以上的，每多1人，阶梯水量标准增加30吨。老张家5人，老李家6人，去年用水量都是210吨。问老李家的人均水费比老张家少约多少元（ ）

- A. 12
- B. 35
- C. 47
- D. 60

49. 某种商品原价25元，每半天可销售20个。现知道每降价1元，销量即增加5个。某日上午将该商品打八折，下午在上午价格的基础上再打八折出售，问其全天销售额为多少元（ ）

- A. 1760
- B. 1940
- C. 2160
- D. 2560

50. 某高校艺术学院分音乐系和美术系两个系别，已知学院男生人数占人数的30%，且音乐系男女生人数之比为1:3，美术系男女生人数之比为2:3，问音乐系和美术系的总人数之比为多少（ ）

- A. 5:2
- B. 5:1
- C. 3:1
- D. 2:1

51. 木匠加工2张桌子和4张凳子共需要10个小时，加工4张桌子和8张椅子需要22个小时。问如果他加工桌子、凳子和椅子各10张，共需要多少小时（ ）

- A. 47.5
- B. 50
- C. 52.5
- D. 55

52. 2014年父亲、母亲的年龄之和是年龄之差的23倍，年龄之差是儿子年龄的1/5，5年后母亲和儿子的年龄都是平方数。问2014年父亲的年龄是多少（年龄都按整数计算）（ ）

- A. 36岁
- B. 40岁
- C. 44岁
- D. 48岁

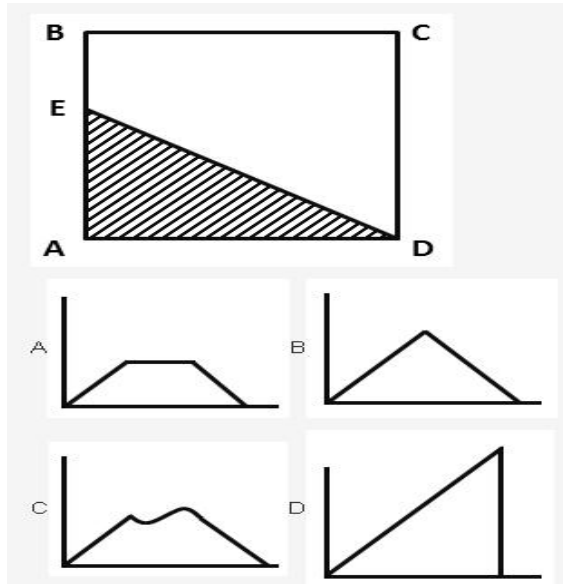
53. 某餐厅设有可坐12人和可坐10人两种规格的餐桌共28张，最多可容纳332人同时就餐，问该餐厅有几张10人桌（ ）

- A. 2
- B. 4
- C. 6
- D. 8

54. 一环形跑道上画了100个标记点，已知相邻任意两个标记点之间的跑道距离相等。某人在环形跑道上跑了半圈，问他最多能经过几个标记点（ ）

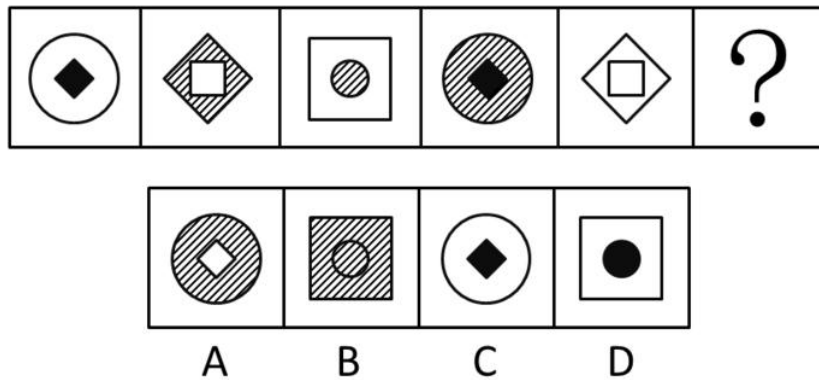
- A. 49
- B. 51
- C. 50
- D. 100

55. 如下图，正方形ABCD边长为10厘米，一只小蚂蚁E从A点出发匀速移动，沿边AB，BC，CD前往D点。问哪个图形能反映三角形AED的面积与时间的关系（ ）

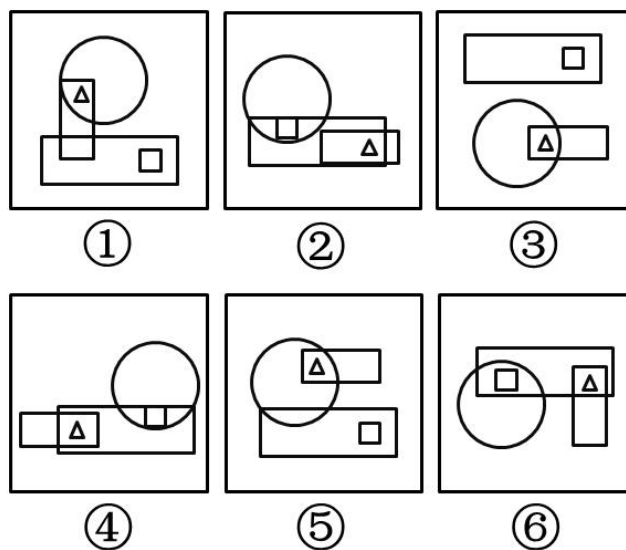


四、判断推理

56. 从所给四个选项中，选择最合适的一个填入问号处，使之呈现一定的规律性（ ）

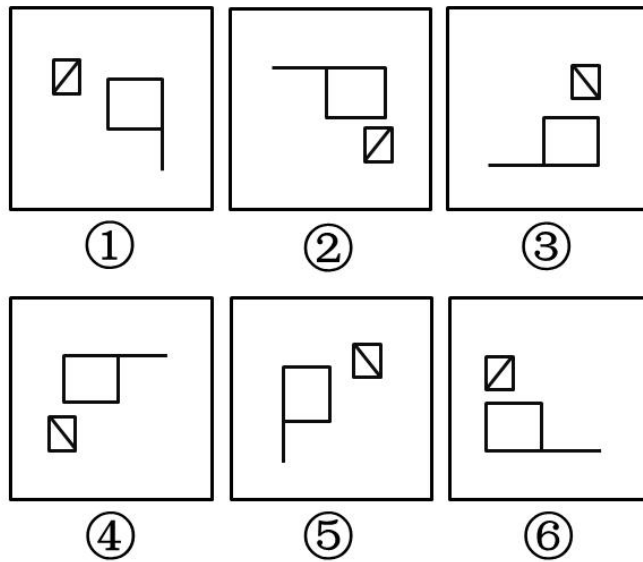


57. 把下面的六个图形分为两类，使每一类图形都有各自的共同特征或规律，分类正确的一项是（ ）



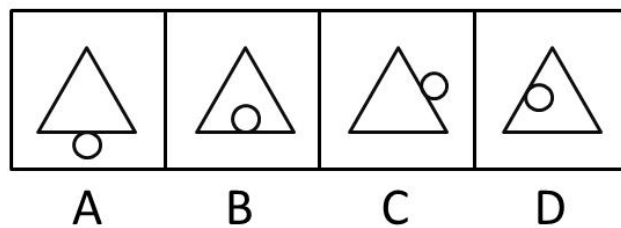

- A. ①②③, ④⑤⑥
- B. ①④⑤, ②③⑥
- C. ①④⑥, ②③⑤
- D. ①③⑤, ②④⑥

58. 把下面的六个图形分为两类，使每一类图形都有各自的共同特征和规律分类正确的一项是（ ）

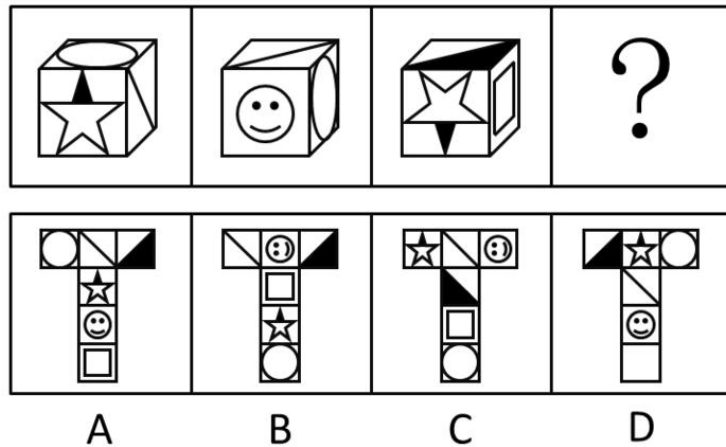


- A. ①②⑥, ③④⑤ B. ①③⑤, ②④⑥
 C. ①③④, ②⑤⑥ D. ①④⑥, ②③⑤

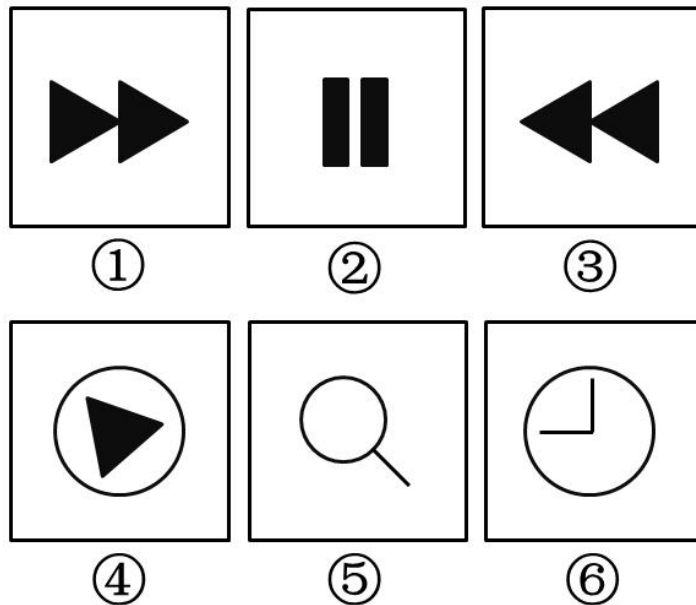
59. 从所给四个选项中, 选择最合适的一个填入问号处, 使之呈现一定的规律性 ()



60. 从所给四个选项中, 选择最合适的一个填入问号处, 使之符合所给的题干所示 ()



61. 把下面的六个图形分为两类，使每一类图形都有各自的共同特征和规律分类正确的一项是 ()



- A. ①②⑥, ③④⑤
- B. ①③④, ②⑤⑥
- C. ①⑤⑥, ②③④
- D. ①③⑤, ②④⑥

62. 黄连：苦涩

- A. 班级：团结
- B. 钻石：坚硬
- C. 花朵：鲜红
- D. 城市：繁华

63. 报刊：新闻

- A. 土地：玉米
- B. 法院：法律
- C. 出版社：书籍
- D. 唱片：歌曲

64. 沟通：手机：金属

- A. 招聘：面试：简介
- B. 物流：运输：公路
- C. 卫星：科技：科学家
- D. 露营：帐篷：帆布

65. () 对于 熟练 相当于 敏捷 对于 ()

- A. 娴熟 灵敏
- B. 操作 迅捷
- C. 熟悉 迅速
- D. 谙熟 灵动

66. 出行：雾霾：口罩

- A. 休息：沙发：电视
- B. 超车：公路：路标
- C. 勘探：野外：地图
- D. 娱乐：海滨：游泳

67. () 对于 美丽 相当于 春风满面 对于 ()

- A. 楚楚动人 愉快 B. 笑靥如花 兴奋
C. 眉开眼笑 高兴 D. 心地善良 滋润

68. 麻雀：动物：生物链

- A. 豆浆：早餐：豆制品 B. 开水：纸杯：便利品
C. 钢笔：电脑：办公品 D. 发卡：首饰：妆扮品

69. 不规则需求是指某些物品或者服务的市场需求在不同季节，或一周不同日子，甚至一天不同时间上下波动很大的一种需求状况。

根据上述定义，下列哪项属于不规则需求 ()

- A. 早晚高峰期出租车供不应求
B. 某电商店庆打折，活动当天点击量剧增
C. 某博物馆引进一批梵高画作巡展，游客蜂拥而至
D. 某品牌牙刷分为软、硬、中三种以面向不同消费者

70. 初级群体指的是由面对面互动所形成的、具有亲密的人际关系和浓厚的感情色彩的社会群体；次级群体指的是其成员为了某种特定的目标集合在一起，通过明确的规章制度结成正规关系的社会群体。

根据上述定义，下列涉及次级群体的是 ()

- A. 小赵要到大城市上学了，山里的乡亲们都到村口为他送行
B. 20年之后，小张儿时的玩伴建立了一个微信群
C. 亲友团来到比赛现场为小李助威
D. 小王考上了研究生，公司的同事一起为他庆贺

71. 诱发运动是指由于一个物体的运动使其相邻的一个静止物体产生运动的错觉现象。

根据上述定义，下列属于诱发运动的是 ()

- A. 在黑板前点燃一支蜡烛，并注视着烛光会看到烛光在运动
B. 多张图片按一定空间间隔与时间距离相继呈现形成电影
C. 注视瀑布的某一处，再看周围的树木，会觉得树木在向上飞升
D. 当我们注视夜空时，会看到月亮在动，而云是静止的

72. 红叶子理论认为，一个人职业的成功不在于红叶子数目的多少，而在于他是否具备一片特别硕大的红叶子，这片特别硕大的红叶子不是与生俱来的，需要根据个人优势不断努力才能获得。

根据上述定义，下列哪项能用红叶子理论解释 ()

- A. 小刘虽然偶尔迟到，但对工作尽职尽责、富有团队精神
B. 小张本科学习数学专业，但是他觉得数学专业比较枯燥，所以他选择攻读经济学硕士
C. 小李的销售能力和财务水平一般，但对市场特别敏感，他努力发展这方面优势，最后成了一名企业家
D. 小文是英语系学生，但口语不太好，她辅修了国际法方面的课程，最后成了一名出色的律师

73. 企业从银行或海外取得外汇借款后并不是直接使用外汇资金，而是将外汇结汇给银行，取得人民币资金加以使用，这种现象称之为贷款替代。

根据上述定义，下列哪项属于贷款替代 ()

- A. 人民币升值后，一些企业纷纷减少人民币负债，增加外汇负债，然后再用人民币进行投资
B. 国内经济过热，商业银行对人民币贷款的发放从紧。某贸易公司出于财务考虑转向外资银行贷款，获得外币资金
C. 王明觉得人民币利率高于美元，因此他申请美元贷款，然后将外汇结汇给银行，从而获得人民币资金

D. 小宇出国旅游前去银行兑换了一些外币，到国外后他使用信用卡结算，回国后用人民币还款

74. 运动参与是指主动参与体育活动的态度和行为表现，经常参与体育活动的人，可以培养和发展对运动的兴趣和爱好。养成体育锻炼的习惯，使体育活动成为生活中的重要组成部分。作为学校领域的运动参与，要求学生具有积极参与体育活动的态度和行为，掌握科学健身的知识和方法，养成坚持体育锻炼的习惯。

根据上述定义，下列属于运动参与的是（ ）

- A. 小强体质较弱，为了增强体魄，他开始参与体育运动
- B. 为了培养孩子的兴趣，小生的父亲经常带他去游泳
- C. 小张酷爱网球比赛，会经常观看各种各样的网球比赛
- D. 小李热爱跑步，只要有时间，他就会参加马拉松比赛

75. “气候难民”指的是生存因气候变暖等特殊气候因素而受到威胁的人们，这是一个逐渐扩大的族群。

某基金会发表的一份报告称，在未来40年，全球约5到6亿人都面临着沦为“气候难民”的危险。

下列描述中被迫迁移的人们，不属于“气候难民”的是（ ）

- A. 卡特里娜飓风使得墨西哥海岸的众多居民逃离家乡
- B. 印度洋海啸导致了印度、泰国等多国居民被迫迁移
- C. 土地沙漠化使曾经繁荣的楼兰古国消亡，国民外迁
- D. 海平面上涨使马尔代夫领导人为国民另觅栖身之所

76. 精益生产是通过系统结构、人员组织、运行方式和市场供求等方面的变革，最大限度地消除浪费和降低库存以及缩短生产周期，力求实现低成本准时生产的技术，其最终目的是通过流程整体优化、均衡物流、高效利用资源、消灭一切库存和浪费，达到用最少的投入向顾客提供最完美价值的目的。

根据上述定义，下列属于精益生产的是（ ）

- A. 为了抢占市场，甲公司不断提高空间利用率
- B. 乙公司投入了大量资金以缩短其产品生产周期
- C. 丙公司的强大供货体系保证它能随时满足客户
- D. 丁公司充分发挥自身优势建立了超快的物流系统

77. 人们在社会生活中常会面临选择，要么选择风险小，报酬低的机会；要么选择风险大，报酬高的机会。究竟是在个人决策的情况下富于冒险性，还是在群体决策的情况下富于冒险性？有研究表明，群体比个体更富有冒险精神，群体倾向于获利大但成功率小的行为。

以下哪项如果为真，最能支持上述研究结论（ ）

A. 在群体进行决策时，人们往往会比个人决策时更倾向于向某一个极端偏斜，从而背离最佳决策

B. 个体会将其意见与群体其他成员相互比较，因其想要被其他群体成员所接受及喜爱，所以个体往往会顺从群体的一般意见

C. 在群体决策中，很可能出现以个体或子群体为主发表意见、进行决策的情况，使群体决策为个体或子群体所左右

D. 群体决策有利于充分利用其成员不同的教育程度、经验和背景，他们的广泛参与有利于最高决策的科学性

78. 理论认为，反物质是正常物质的反状态，当正反物质相遇时，双方就会相互湮灭抵消，发生爆炸并产生巨大能量，有人认为，反物质是存在的，因为到目前为止没有任何证据证明反物质是不存在的。

以下哪项与题干中的论证方式相同（ ）

A. 圣女贞德的审问者们曾对她说，我们没有证据证明上帝与你有过对话，你可能是在胡编乱造，也可能精神失常

- B. 动物进化论是正确的，例如始祖鸟就是陆地生物向鸟类进化过程中的一类生物
- C. 既然不能证明平行世界不存在，那么平行世界就是存在的
- D. 长白山天池有怪兽，因为有人看见过怪兽曾在天池内活动的踪迹

79. 近日，火星车在加勒陨坑拍摄的图像发现，火星陨坑内的远古土壤存在着类似地球土壤裂纹剖面的土壤样本，通常这样的土壤存在于南极干燥谷和智利阿塔卡马沙漠，这暗示着远古时期火星可能存在生命。

以下哪项如果为真，最能支持上述结论（ ）

- A. 地球沙漠土壤中存在土块，具有多孔中空结构，硫酸盐浓度较高，这一特征在火星土壤层并不明显
 - B. 化学物质分析显示，陨坑内土壤的化学风化过程以及粘土沉积中橄榄石矿损耗情况与地球土壤的状况较为接近
 - C. 这些火星远古土壤样本仅表明火星早期可能曾是温暖潮湿的，那时的环境比现今更具宜居性
 - D. 土壤裂纹剖面中的磷损耗特别引人注意，因为地球土壤也存在这种现象，这是由于微生物活跃性所致
80. 干细胞遍布人体，因为拥有变成任何类型细胞的能力而令科学家们着迷，这种能力意味着它们有可能修复或者取代受损的组织。而通过激光刺激干细胞生长很有可能实现组织生长，因此研究人员认为激光技术或许将成为医学领域的一种变革工具。

以下哪项如果为真，最能支持上述结论（ ）

- A. 不同波段的激光对机体组织作用的原理尚不清楚
 - B. 已有病例表明，激光会对儿童视网膜造成损伤，影响视力
 - C. 目前激光刺激生长法尚未在人类机体上进行试验，风险还待评估
 - D. 用激光治疗带有牙洞的白齿，受损的牙体组织能逐渐恢复
81. 有报道称，由于人类大量排放温室气体，过去150多年中全球气温一直在持续上升。但与1970至1998年相比，1999年至今全球表面平均气温的上升速度明显放缓，近15年来该平均气温的上升幅度不明显，因此全球变暖并不是那么严重。

如果以下各项为真，最能削弱上述论证的是（ ）

- A. 海洋和气候系统的调整过程使得海洋表层热量向深海输送
 - B. 此现象在上世纪50~70年代曾出现过，随后又开始加速变暖
 - C. 联合国气候专家指出，空气中的二氧化碳浓度处于80万年来的最高点
 - D. 近几年发生多起因气候变暖而产生的自然灾害
82. 某市为了发展文化强市战略，在2008年、2010年先后建成了两个图书馆，2008年底共办理市民借书证7万余个，到2010年底共办理市民借书证13万个，2011年，该市又在新区建立了第三个图书馆，于2012年初落成开放，截止2012年底，全市共计办理市民借书证20余万个。市政府由此认为，该项举措是有实效的，因为在短短的4年间，光顾图书馆的市民增加了近两倍。

以下哪项如果为真，最能削弱上述结论（ ）

- A. 图书馆要不断购置新书，维护成本也很高，这会影响该市其他文化设施建设
 - B. 该市有两所高等学校，许多在校ance也办理了这3个图书馆的借书证
 - C. 很多办理了第一个图书馆借书证的市民又办理了另外两个图书馆的借书证
 - D. 该市新区建设发展迅速，4年间很多外来人口大量涌入新区
83. 一个没有普通话一级甲等证书的人不可能成为一个主持人，因为主持人不能发音不标准。
- 上述论证还需基于以下哪一前提（ ）
- A. 没有一级甲等证书的人都会发音不标准
 - B. 发音不标准的主持人可能没有一级甲等证书

- C. 一个发音不标准的人有可能获得一级甲等证书
- D. 一个发音不标准的主持人不可能成为一个受人欢迎的主持人

84. 国际工程一般是指那些资金由外国政府或国际组织提供，并在咨询设计、施工、设备材料采购及劳务供应等方面部分或全部实行跨国经营的工程项目。国际工程经营是国际间复杂的商业性交易活动，与国际政治、经济环境与形式密切相关，环境和市场的变化会严重影响到有关国际工程业务的成败，有人认为，目前我国国际工程项目管理体系还未达到要求。

- 以下哪项如果为真，最能驳斥上述结论（ ）
- A. 和其他发达国家相比我国在国际项目管理这个方面学术活动水平比较低
 - B. 现阶段建设市场在项目整体承包方面认可水平较高，市场认可水平高
 - C. 现阶段开展项目管理工作的部门绝大部分都具有健全的运作机制
 - D. 在工程开展方面进行管理控制的项目控制相关部门专业化程度较高

85. 鱼饵：鱼竿
- A. 笔：书籍
 - B. 写诗：笔
 - C. 锅铲：炒锅
 - D. 电脑：无线路由器

五、资料分析

材料一

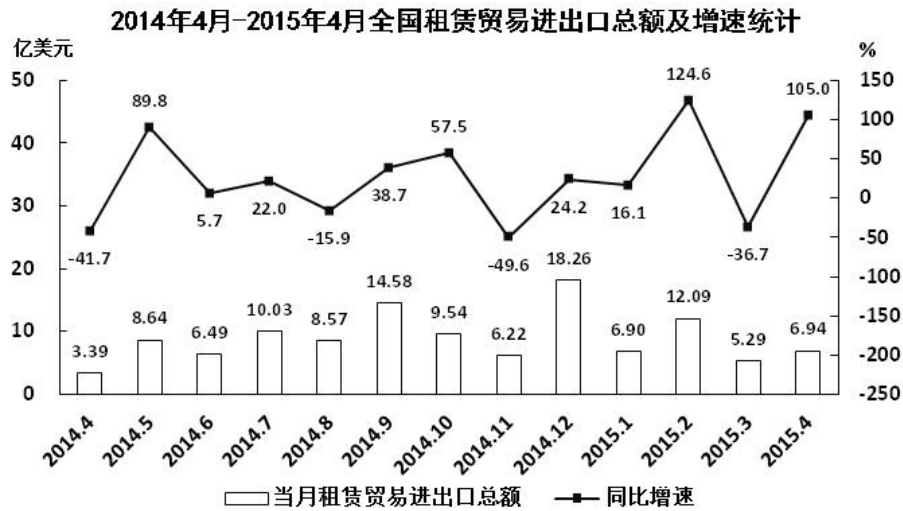
2014年1~11月我国货物运输情况

	11月	同比增速 (%)	1-11月	同比增速 (%)
货物运输总量(亿吨)	39.3	7.1	393.2	7.3
其中：铁路(亿吨)	3.2	-6.5	35.0	-3.2
公路(亿吨)	30.7	8.6	303.6	8.8
水运(亿吨)	5.4	7.6	54.5	6.8
民航(万吨)	55.5	3.4	538.0	5.7
货物周转总量(亿吨公里)	16409.2	8.6	164873.0	10.1
其中：铁路(亿吨公里)	2354.4	-6.4	25200.7	-5.2
公路(亿吨公里)	5833.0	10.4	55448.0	9.8
水运(亿吨公里)	8204.1	12.5	84056.0	16.0
民航(亿吨公里)	17.6	8.5	168.7	8.8

86. 2014年1~10月我国货物运输总量为多少亿吨（ ）
- A. 340.2
 - B. 353.9
 - C. 366.5
 - D. 393.2
87. 2013年1~10月我国货物运输总量最大的领域是（ ）
- A. 水运
 - B. 民航
 - C. 铁路
 - D. 公路
88. 2013年11月我国货物周转总量中，水运周转量占比在以下哪个范围之内（ ）
- A. 低于40%
 - B. 40%~50%
 - C. 50%~60%
 - D. 高于60%
89. 哪些运输方式在2014年11月的货物运输量占当月货物运输总量的比重超过上年同期水平（ ）
- A. 仅铁路
 - B. 仅公路

- C. 铁路和民航 D. 公路和水运
90. 关于2014年1~11月我国货物运输状况，能够从上述资料中推出的是（ ）
- A. 月均货物运输量约为33亿吨
- B. 每吨货物平均运输距离为500多公里
- C. 铁路货运量占总体比重低于其货物周转量占总体比重
- D. 公路货物周转量同比增量高于水运货物周转量同比增量

材料二



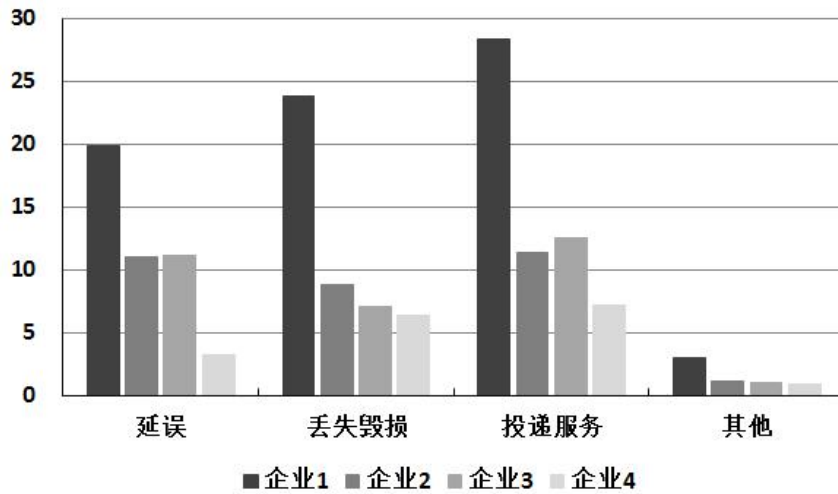
91. 2014年下半年全国租赁贸易进出口总额约为多少亿美元（ ）
- A. 5 B. 62 C. 67 D. 74
92. 下列月份中，全国租赁贸易进出口总额环比增速最快的是（ ）
- A. 2014年5月 B. 2014年9月
- C. 2014年12月 D. 2015年2月
93. 2015年一季度全国租赁贸易进出口总额较上一季度约（ ）
- A. 增长了30% B. 降低了30%
- C. 增长了40% D. 降低了40%
94. 2014年5月~2015年4月间，全国租赁贸易进出口总额及同比增速均高于上月的月份有几个（ ）
- A. 5 B. 6 C. 7 D. 8
95. 能够从上述资料中推出的是（ ）
- A. 2015年4月全国租赁贸易进出口额比2013年4月翻了一番
- B. 2015年1~4月月均全国租赁贸易进出口额超过8亿美元
- C. 2013年8~9月全国租赁贸易进出口额超过20亿美元
- D. 表中全国租赁贸易进出口额同比下降的月份占总数的三分之一

材料三

2015年2月，我国快递业务量完成8.2亿件，同比增长18.7%；业务收入完成136.0亿元，同比增长22.5%。消费者对快递业务进行的申诉中，有效申诉（确定企业责任的）占总申诉量的97.6%，为消费者挽回经济损失229.8万元。

2015年2月，全国每百万件快递业务中，有效申诉量未23.4件，对企业1的每百万件有效申诉量为75.13件，

环比增长48.0%，对企业2的每百万件有效申诉量未32.56件，环比增长55.0%，对企业3的每百万件有效申诉量为31.86件，环比增长140.0%，对企业4的每百万件有效申诉量为17.81件，环比增长36.0%。



2015年2月对四家企业的每百万件快递业务有效申诉量

单位：件

	延误	丢失毁损	投递服务	其他
企业1	19.93	23.79	28.32	3.09
企业2	11.12	8.89	11.37	1.18
企业3	11.13	7.07	12.57	1.09
企业4	3.29	6.37	7.24	0.91

2015年2月对四家企业每百万件快递业务有效申诉量环比增长率

单位：%

	延误	丢失毁损	投递服务	其他
企业1	87	49	53	-46
企业2	72	87	44	-38
企业3	217	114	139	-9
企业4	54	55	41	-48

96. 2015年2月，平均每笔快递业务的收入在以下哪个范围之内（ ）
- A. 低于17元 B. 17~19元
- C. 19~21元 D. 高于21元
97. 2015年2月，消费者对快递业务的全部申诉量约为（ ）
- A. 1.96万件 B. 2.36万件
- C. 1.96亿件 D. 2.36亿件
98. 将4家企业按2015年1月每百万件快递业务丢失损毁的有效申诉量按从高到低排序，正确的是（ ）
- A. 企业2，企业1，企业3，企业4
- B. 企业1，企业2，企业3，企业4
- C. 企业2，企业1，企业4，企业3
- D. 企业1，企业2，企业4，企业3
99. 2015年2月4家企业中，有几家企业的快递服务中申诉量占该企业当月申诉量的比重高于上月水平（ ）

- A. 1家 B. 2家 C. 3家 D. 4家

100. 能够从上述材料推出的是 ()

- A. 2014年2月, 全国快递业务完成量为8亿多件
- B. 2015年2月, 全国每百万件快递业务中, 非有效申诉不到1件
- C. 2015年2月, 4家企业的百万快递业务有效申诉量都高于全国水平
- D. 2015年2月, 企业1的每百万快递业务有效申诉量超过任何企业的2倍

温馨提示：

2018年公考通网校重新起航

**系统班+考前直播冲刺班+一对一申论批改班+面试通关课程
更多好课等你挑选！**

【参考答案与解析】

1. 【解析】C

①社会主义市场经济理论：1992年10月12日，中共十四大报告明确指出，中国经济体制改革的目标是建立社会主义市场经济体制，以利于进一步解放和发展生产力。

②“三个代表”重要思想：2000年2月，江泽民在广东考察工作，第一次提出“三个代表”要求。2002年11月，江泽民在党的十六大报告中进一步阐述了“三个代表”重要思想的时代背景、历史要求，指导意义。党的十六大把“三个代表”重要思想同马克思列宁主义、毛泽东思想、邓小平理论一道，确立为党必须长期坚持的指导思想并写入宪章。

③社会主义本质理论：1992年初，邓小平在“南方谈话”中提出：“社会主义的本质，是解放生产力，发展生产力，消灭剥削，消除两极分化，最终达到共同富裕”。

④构建社会主义和谐社会理念：2004年9月19日，党的十六届四中全会第一次明确提出，共产党作为执政党，要“坚持最广泛最充分地调动一切积极因素，不断提高构建社会主义和谐社会的能力”。这是在党的文件中第一次把和谐社会建设放到同经济建设、政治建设、文化建设并列的突出位置。

由此可知，按照时间从先至后，提出顺序为③①②④，正确答案为C项。

2. 【解析】A

A“坐地日行八万里”是指地球自转。地球赤道半径约6371公里，地球自转一周，人行的路程为周长值约为： $2\pi r=2\pi \times 6471\text{公里}=40100\text{公里}=80200\text{里}$ 。A项错误。

B“两岸青山相对出”，研究的对象是“青山”，运动状态是“出”，青山是运动的，相对于船来说的；“孤帆一片日出来”，研究的对象是“孤帆”，运动状态是“来”，船是运动的，相对于日（或两岸、青山）来说的；同一个物体，以不同的参照物，它的运动状态可能不同，这就是运动和静止的相对性。B选项正确。

C“八月秋高风怒号”中的风声是空气振动发出的声音。C选项正确。

D“飞流直下三千尺”，是因为水受到重力的作用，从高处往低处流，在此过程中势能减小，减小的势能转化为动能。D项正确。

故正确答案为A。

3. 【解析】D

A项错误：微波是指频率为300MHz~300GHz的电磁波。微波频率比一般的无线电波频率高，通常也称为“超高频电磁波”。

B项错误：水分子属极性分子，介电常数较大，其介质损耗因数也很大，对微波具有强吸收能力。

C项错误：对于玻璃、塑料和瓷器，微波几乎是穿越而不被吸收。

D项正确：由于微波频率很高，所以在不大的相对带宽下，其可用的频带很宽，可达数百甚至上千兆赫兹，这是低频无线电波无法比拟的。这意味着微波的信息容量大，所以现代多路通信系统，包括卫星通信系统，几乎无例外都是工作在微波波段。

ABC项错误，故正确答案为D项。

4. 【解析】D

风蚀地貌是经由风和风沙流对土壤表面物质及基岩进行的吹蚀和磨蚀作用所形成的地表形态。右图所示的是风蚀地貌中的雅丹地貌，是一种河湖相土状堆积物地区发育的风蚀土墩和风蚀凹地相间的地貌形态。其发育过程是：挟沙气流磨蚀地面，地面出现风蚀沟槽。磨蚀作用进一步发展，沟槽扩展为风蚀洼地；洼地之间的地面相对高起，成为风蚀土墩。D项正确。

A项：喀斯特地貌是具有溶蚀力的水对可溶性岩石（大多为石灰岩）进行溶蚀作用等所形成的地表和地下形态的总称。喀斯特地貌地面上往往崎岖不平，岩石绚丽，奇峰林立。与题干不符，排除。

B项：冰川地貌是有由冰川作用塑造的地貌，属于气候地貌范畴。地貌类型比较多样，按成因分为侵蚀地貌和堆积地貌两类。图中所示并非冰川地貌的特征，排除。

C项：丹霞地貌系指由产状水平或平缓的层状铁钙质混合不均匀胶结而成的红色碎屑岩，受垂直或高角度解理切割，并在差异风化、重力崩塌、流水溶蚀、风力侵蚀等综合作用下形成的有陡崖的城堡状、宝塔状、针状、柱状、棒状、方山状或峰林状的地貌特征。与题干不符，排除。

故正确答案为D。

5. 【解析】A

货币政策是指中央银行为实现既定的目标，运用各种工具调节货币供应量来调节市场利率，通过市场利率的变化来影响民间的资本投资，影响总需求来影响宏观经济运行的各种方针措施。

A项：德国属于欧元区国家，而欧洲中央银行负责制定欧盟欧元区的金融及货币政策。欧洲中央银行是超国家层面的中央银行和欧盟成员国的各国家中央银行的有机结合。因此一旦发生经济衰退，德国不能运用独立的货币政策进行调节，必须符合欧洲中央银行的整体政策要求。

B、C、D三项中，英国不属于欧元区国家，有自己独立的货币英镑。美国和新加坡均有自己的独立货币美元和新加坡元，三个国家都有独立的中央银行，可以使用货币政策调节本国经济。

故正确答案为A

6. 【解析】D

处方药就是必须凭执业医师或执业助理医师处方才可调配、购买和使用的药品。大部分药品属于处方药，特殊药品也属于处方药：各类麻醉类药品、抗癌类药品以及精神类药品。因此A项正确；

非处方药是指为方便公众用药，在保证用药安全的前提下，经国家卫生行政部门规定或审定后，不需要医师或其它医疗专业人员开写处方即可购买的药品，一般公众凭自我判断，按照药品标签及使用说明就可自行使用。因此B项正确；

处方药必须凭执业医师或执业助理医师处方才可调配、购买和使用的药品。不可擅自使用、停用或增减剂量，否则可能引起严重后果。因此C项正确；

药品说明书是载明药品的重要信息的法定文件，具有重要的法律意义。我国《药品管理法》第54条规定，药品包装必须按照规定印有或者贴有标签并附有说明书。因此D项错误。

故正确答案为D。

7. 【解析】D

A水稻，一年生禾本科植物，禾亚科稻属。水稻所结子实即稻谷，稻谷(粒)去壳后称大米、香米、稻米。世界上近一半人口，都以大米为食。A项说法正确。

B自花授粉(self-pollination)指一株植物的花粉，对同一个体的雌蕊进行授粉的现象。大多数植物都是自花授粉。水果中，无花果、桃子、苹果、石榴、火龙果等；谷物中，豌豆、大麦、小麦、大豆、豆角、稻子等；蔬菜中，辣椒、番茄、茄子等，都是自花授粉。B项说法正确。

C水稻的主要生长区域是中国南方、朝鲜半岛、日本、东南亚、南亚、地中海沿岸、美国东南部、中美洲、大洋洲和非洲部分地区。C项说法正确。

D早中晚稻主要根据播种期和收获期而划分。以中国长江中下游地区为例，早稻一般于3月底4月初播种，7月中下旬收获；中稻一般4月初至5月底播种，9月中下旬收获；晚稻一般于6月中下旬播种，十月上中旬收获。同一地区，种完早稻可以接着种植晚稻，俗称双季稻。而中稻生育期较长，同一地区一年只能种植一次。D项说法错误。

本题为选非题，故正确答案为D。

8. 【解析】C

夫妻共同财产，是指在夫妻关系存续期间夫妻所共同拥有的财产。《中华人民共和国婚姻法》第十七条规定，夫妻在婚姻关系存续期间所得的下列财产，归夫妻共同所有：（1）工资、奖金；（2）生产、经营的收益；（3）知识产权的收益；（4）继承或赠与所得的财产，但本法第十八条第三项规定的除外；（5）其他应当归共同所有的财产。”最高人民法院关于适用《中华人民共和国婚姻法》若干问题的解释（三）第七条第一款规定：婚后由一方父母出资购买的不动产，产权登记在出资人子女名下的，可按照婚姻法第十八条第（三）项的规定，视为只对自己子女一方的赠与，该不动产应认定为夫妻一方的财产。

A属于生产经营收益，属于夫妻共同财产；

B军人的复员费、自主择业费等一次性费用应为夫妻一方的个人财产，但婚姻存续时间较长的，可以转化为共同财产；

D项符合法条。

C项是夫妻一方个人财产，不符合定义。

本题为选非题，故正确答案为C项。

9. 【解析】B

A项正确：《白鹿原》是陈忠实的代表作。1997年，该小说获得中国第4届茅盾文学奖。

B项错误：《平凡的世界》是中国作家路遥创作的一部百万字的小说，并非由史铁生创作。1991年3月《平凡的世界》获中国第三届茅盾文学奖。

C项正确：余华是当代文学中先锋派小说的代表作家之一，主要作品有《现实一种》《活着》《许三观卖血记》。

D项正确：《大红灯笼高高挂》改编自苏童的小说《妻妾成群》。

ACD项正确，B项错误。本题为选非题，故正确答案为B项。

10. 【解析】A

A项：“东风”系列，是中华人民共和国一系列近程、中远程和洲际弹道导弹。“东风”系列是目前世界上唯一覆盖各种类型弹道导弹的陆基弹道导弹系列。

B项：“长征”系列为我国运载火箭型号命名。中国自1956年开始展开现代火箭的研制工作。1964年6月29日，中国自行设计研制的中程火箭试飞成功之后，即着手研制多级火箭，向空间技术进军。经过了五年的艰苦努力，1970年4月24日“长征一号”运载火箭诞生，首次发射“东方红一号”卫星成功。“长征”系列火箭已经走向世界，享誉全球，在国际发射市场占有重要一席。

C项：“红旗”系列防空导弹构成了我国地空防空导弹的主体。红旗系列防空导弹涵盖了中远程、中高空到近程超低空的火力范围，已经形成一个庞大的家族，担负着中国防空的重任。

D项：“天宫”系列是我国空间站项目的命名方式。早在1992年，中国就确立了以建立空间站为目标的航天计划。这一计划分三步，第一步是载人飞船阶段，目标是能够把宇航员送到太空，正常运行若干天，并成功返回。第二步是空间实验室阶段。在这个阶段要解决组装、交互对接、补给以及循环利用等四大技术。这些技术关系到空间站的组装、宇航员在空间站的生存等关键问题。“天宫”一号就是中国在第二步计划中为了解决交互对接问题而发射的一个目标飞行器。

BCD项均不符合题意，正确答案为A项。

11. 【解析】C

空格所填词语用以形容“版权意识”与“免费共享”精神的关系，很明显，“版权意识”具有专属性，而“免费共享”重在分享，二者相悖，对应选项，即可选到C项“矛盾”。其余三项均无法体现此种“相悖”关系，排除。

故正确答案为C。

12. 【解析】A

本题考查成语填空。

根据文段中“交汇点”、“结合”等词的对应可知，文段重在阐述科学与电影二者之间应该相结合，才能达到更好的效果。故较易排除D项“相提并论”。“相提并论”是指把不同的人或不同的事放在一起谈论或看待。文段强调的是相互配合而非同等看待，故排除。

其余三项均有“结合”之意。但B项“合二为一”是指将两者合为一个整体。显然“科普”与“艺术”无法变成一个整体，程度过重，排除。C项“珠联璧合”是用来比喻杰出的人才或美好的事物结合在一起。常用“珠联璧合，郎才女貌”，一般不与“将……”连用，故排除。

A项“融会贯通”是指把各方面的知识和道理融化汇合，符合文段提出的科普与艺术结合的概念。

故正确答案为A。

13. 【解析】C

由“字不虚设”、“阅读者决定不深究的地方有可能是作者用心良苦之所在”、“阅读时不宜有所偏”可知，作家写作对细节之处十分重视，字字珠玑，那阅读者对待这些文字的状态就应该是C选项“字斟句酌”，即对每一字、每一句都仔细斟酌、推敲，符合文意。A选项“孜孜不倦”侧重勤奋，B选项“精益求精”侧重好上加好追求更完美，D选项“心无旁骛”形容心无杂念、专心致志，三项均不能体现出对细节、在每个字上狠下功夫的特点，排除。

故正确答案为C。

14. 【解析】C

本题考查实词填空。

第一空，填入的词与“生命长短”搭配。“操控”指的是掌握运用或驾驭得心应手，毫无阻碍，与后文词语搭配不当，故A选项排除。支配是指支配主体按照给定的条件和目标，对支配客体施加影响的过程和行为，文段中的“基因”与“生命长短”之间并无明确的主客体的行为关系，故排除B项。C项“决定”、D项“主宰”均可体现“基因”对于“生命长短”的重要作用。

第二空，填入的词对应前文“研究表明……”即基因运作的原理而非“流程”，故排除D选项。

故正确答案为C。

15. 【解析】B

根据整个文段可知，大数据的应有之义即从消费习惯、行为特征、个人数据等方面体现特殊与不同，因此企业从中挖掘到的价值也应是“多元化”的，并且以此为依据提供的服务亦是更具有“针对性”的。基本锁定B项。

A项“市场化”、C项“智能化”并非大数据时代的重要特征，D项“规模化”勉强对应“大数据”中的“大”，但对于用户而言，大数据的意义不在于“多样”，而是更具个性的“针对性”服务。

故正确答案为B。

16. 【解析】D

第一空，由文意可知，所填词语要表达“液态水”对于“生命生存”有非常重要的作用，观察选项，BCD

项均可表达此意，而A选项“缺一不可”意为少一样也不行，主语常搭配多个事物，但是文段此处主语只有“液态水”一种元素，故排除A项。

第二空，文段意为“行星”恰好处在有液态水的范围，拥有生命的可能会更大，D选项“机会”符合语义语境；而B选项“条件”，通常与“好坏”搭配，而不用“大小”，排除；C选项“优势”，是需要在对比中来显现的，而文段并没有与其他行星对比之意，排除。

故正确答案为D。

17. 【解析】D

本题考查实词填空和成语填空。

第一空，填入的成语与前文重点句“10幅名作都是从法国各大国立博物馆”对应，表现出从本是很有价值的作品中选出最好的。“沙里淘金”比喻好东西不易得或者做事费力大而收效少，也比喻从大量的材料里选择精华，无论哪种语义，都表示从一堆普通的东西中寻找好的东西，而文段中“法国各大国立博物馆”里一定都是精品，故“沙”这一主体与原文不符，排除B项。“精挑细选”是指非常仔细的挑选，强调的是挑选的动作而非文段表达的好中选出最好的，故排除A选项。

第二空，考查的是实词的固定搭配，填入的词与“精华”搭配，常用于“浓缩精华”。

故正确答案为D。

18. 【解析】A

第一空，由“这些文字早已消亡”和“唯有”可知，世界上的古老文字如今只剩下汉字，则只有A选项“硕果仅存”可以与文意对应，比喻由于时间的推移，留存下来仅存的人或事物；B选项“凤毛麟角”比喻珍贵而稀少的人或物，不如A选项的“唯一性”与文意对应紧密，排除；D选项“鹤立鸡群”比喻一个人的仪表或才能在周围一群人里显得很突出，C选项“出类拔萃”指超出同类之上，多指人的品德才能，二者多用来形容人的优秀，与文意完全不符，排除。

第二空用来验证，“长盛不衰”指长时间保持旺盛的势头，与后文“堪称当今世界上最有生命力的文字之一”形成完美对应。

故正确答案为A。

19. 【解析】B

第一空，搭配“难题”，B项“迎刃而解”比喻处理事情、解决问题很顺利，搭配得当，符合文意。A项“举一反三”意为从一件事情类推而知道其他许多事情，C选项“拨云见日”常常形容疑团消除，D选项“昭然若揭”侧重于真相全部暴露，三项均与“难题”搭配不当，答案基本锁定B选项。

第二空验证，“鞭长莫及”比喻力量达不到，与“微弱的引力效应”相对应，体现暗物质的重要作用。

故正确答案为B。

20. 【解析】A

第一空，由文段的“天池经历了漫长的无名时期”、“天池传说的兴起”可知，天池逐渐有名气被知晓，A项“声名鹊起”意为名声突然大振，知名度迅速提高；D项“广为人知”意为流传很广，大家都知道，符合文意。B选项“门庭若市”是形容来的人多非常热闹，与“名气”无关，排除。C选项“脱颖而出”比喻本领全部显露出来，也指工作时通过努力超人一等，常强调与他人的对比，文中并无此意，排除。

第二空，横线处所填词汇是形容山水之景与神灵之气之间的关系，后文的“山不在高，有仙则名”是对前文的解释，D选项“相视莫逆”形容彼此间友谊深厚，无所违逆于心，主语为人，不能是物，且“山水之景”与“神灵之气”无所谓友谊深厚，排除。A选项“相得益彰”意为两个人或两件事物互相配合，双方的能力和作用更能显示出来，能体现出山水之景与神灵之气的结合使得山水之境更为美好的意境，符合文意和语境。

故正确答案为A。

21. 【解析】B

第一空，所填词语需要同时搭配“空间”和“情感”，A选项“冷漠”，常用“态度冷漠”，无法与“空间”搭配，排除；C选项“隔绝”，可与“空间”搭配，常用“与世隔绝”，无法与“情感”搭配，排除；B与D选项“疏离”和“封闭”置于此均可。

第二空，B选项“前所未有”，指从来没有过的，常用作褒义，在此用来形容联系的紧密程度，且与前文“在这个时代”的时间状语构成对应，符合语义；而D选项“始料未及”指没有想到，在意料之外的，而文段并没有之前有所设想之意，排除。

故正确答案为B。

22. 【解析】C

第一空，所填词语有“变化”的意思，修饰“国际角色与位序”。“善变”强调变化无常，容易改变，搭配不当，排除A项。“演变”强调发展变化经历的时间久，文段没有体现出这一点，排除B项。

第二空，所填空与“相互协调”语义对应。“协商”一般用在谈判等情况下，对于某一事情的讨论，“磋商”表示双方仔细商量和研究，交换意见，从语义上均可与“相互协调”对应。但“磋商”是外交正式场合用语，与文段整体风格更为相符。

故正确答案为C。

23. 【解析】D

第一空，西班牙人一直有一种饮食观念即“慢食”，后面由提到对应的“慢生活”态度，说明他们对这种观念并不是“嗤之以鼻”，故排除A项；“积重难返”指长期形成的不良的风俗、习惯不易改变，文段中并没有提到“慢食”概念不好，故排除C项。“坚不可摧”与“根深蒂固”都可形容坚固不可动摇，但“坚不可摧”一般用来形容精神、意志等，“根深蒂固”一般用来形容观念、思想等。故排除B项，基本锁定D项。

以第二空验证，横线处所填词语应能体现出西班牙人的“慢生活”态度，横线前面的“都会”，说明午休时段是小店业主们无论如何不会更改的休息时间，“雷打不动”语义更重，符合文意。

故正确答案为D

24. 【解析】C

本题可从第二空入手。一般情况下，“引起”不与“偏差”、“干扰”搭配，常见搭配为“出现偏差”、“受到干扰”。故可排除B、D两项。对比“歧义”与“误解”，前者强调同一事件理解出两种不同的含义，后者强调对于某事物产生了错误的认知。根据后文“以致有人觉得社会秩序是可以由个人好恶来维持的了”，是对“礼治”、“人治”的错误理解，故可排除A项。基本锁定C项。

反观第一空，“社会情态”即社会的情况、状态，符合文意。

故正确答案为C。

25. 【解析】A

通读文段，可知企业业务都实现计算机化后，若业务流程没有增加、对性能也没有特别需要的话，从事计算机业务的企业，其产品就不能像以前一样有市场。

先看第二空，所填词语对应后文“购买”，让那些顾客继续购买新技术就是继续“销售、推广”自己的产品，而不单单是“生产、改进”。因此排除B、C项。

再看第三空，从事计算机业务的企业想要让已经得到满足的顾客继续购买，仅提供“优惠”是不够的，必须让顾客有一个继续购买的“理由”，才能保证产品卖出。故排除D项。

验证第一空，从事计算机业务的企业在其它企业业务计算机化后，产品面临“业务流程没有增加、顾客对性能没有特别需求”的情况，是其遭遇的“瓶颈”，符合文意。

故正确答案为A。

26. 【解析】A

从第二个空入手，第二个空根据语境“像陶渊明那样从激流中退出”和“桃花源”可知，作者表达的是积极感情色彩，“蜷缩”、“固守”感情色彩偏消极与文段语境不符，排除B、D选项。

“退隐”与“桃花源”搭配更合适；第三个空根据“与世界对抗”对应“冲突”，所以A项正确。

故正确答案为A。

27. 【解析】B

第一空，由文段可知，人民币国际化并逐步发展总体上并无消极倾向和发展问题，D选项“危如累卵”比喻形势非常危急，不符合文意，排除D选项。由“从长期看来”、“逐步发展”可知，人民币成为储备货币并非快速、短期的行为，而是渐进的过程，A选项“势如破竹”形容节节胜利、毫无阻挡，与长期的、渐进的过程不相符合，排除A选项。第二空以“长期向好”解释搭配，B项“趋势”、C项“势态”均可搭配。

第三空，由“另一方面”可知，由于人民币币值稳定有保障，才推动了有“保值增税”需求的央行储备人民币，C选项的“信心”是指相信自己的愿望或预料一定能够实现，“动力”与“信心”相比，不仅是相信而且更能突出现实条件对各国央行选择人民币的推动力量，故“动力”更合适。且“提供动力”这一搭配更为常见。

故正确答案为B。

28. 【解析】D

由“更宽广的尺度”、“批判意识和更多的异端”可知，电子传媒与纸质传媒相比对不同观点态度更为宽容，体现出对不同声音接纳包含的姿态，A选项中的“鼓励”过于积极，文中没有鼓励赞赏的含义，排除。B选项“滋生”是说由于电子传媒宽广引起了更多的批判意识和异端，强加因果，无中生有排除。

C项“允许”、D项“容纳”均能够体现出电子传媒对不同观点态度的宽容接纳，符合文意和语境。

第二空，C项“振聋发聩”意为发出很大的响声使耳聋的人也能听见，用来比喻用语言文字唤醒糊涂麻木的人，重在强调观点的震撼性。D项“惊世骇俗”指人因思想、言行等异于寻常而使人感到震惊。显然后者与前文中“批判的意识”和“异端”等词对应更为准确。基本锁定D项。

以第三空验证，“无法望其项背”为常见固定搭配，意在强调以电子传媒为代表的现代传媒较于传统媒体的优势很大。

故正确答案为D。

29. 【解析】C

文段为“分总”结构，开篇从汪曾祺的角度论述了语言与思想的关系，结尾以“从这个意义来讲”引领总句即为中心句，强调“语文教育”与“诗歌”的联系，结合选项C为同义替换，所以C项正确。

A选项缺少关键概念“语文教育”。

B选项表述不明确。

D选项缺少关键概念“诗歌”。

故正确答案为C。

30. 【解析】B

本段文字前两句给出观点，指出秦汉文化造成的定势：政治和文化互相推动、存在互补，且指出这一定势影响了两千年中国历史。文段最后一句话具体介绍了影响的体现，故文段前两句话的观点是重点内容，即强调秦汉文化对后世的影响，B项论述符合中心。

A项没有体现出秦汉文化这一主题词。C项“中国文化”偷换概念。D项是解释说明的一部分，不是重点，排除。

故正确答案为B。

31. 【解析】B

文段首句通过“当前”交代背景，接下来从技术层面进行论述，通过“如今并非‘高科技’”可知，目前在技术上可以实现智能家居，对应B项。A项“已成为未来的发展方向”与文段信息“并未普及”矛盾，排除。C项“生产成本”无中生有，文段尾句提到的是“由于价格昂贵等原因”，“价格昂贵”和“生产成本”不是一个概念，排除。D项“概念模糊”与文段不符，首句是说很多人对于智能家居的概念滞后而非模糊，且尾句提到并未普及的原因是由于价格昂贵而非概念问题，排除。

故正确答案为B。

32. 【解析】C

文段首句指出中石器时代绘画场所的变化，接下来通过“而”指出人类活动成为绘画描绘的主要对象，之后具体阐述中石器绘画如何呈现人类活动，因此文段重点阐述中石器绘画再现了人类生活，对应C项。

A项，根据“忽略细节刻画”可知“风格细腻精致”错误，排除。

B项，根据“动物形象在绘画中逐渐减少并失去原始的野性”可知“多表现动物野性”错误，排除。

D项，根据“用色单纯”可知“丰富”错误，排除。

故正确答案为C。

33. 【解析】D

文段首句指出英国科学家宣称已找到了一种替代全球定位系统的方法，接下来对新的定位方法进行具体阐述，通过“限制并冷却放置于真空条件下的原子”，“在一台小型装置上限制原子”来进行定位，可知文段强调的是利用原子进行定位的原理，对应D项。

A项“智能手机”非文段重点，且“应用程序的革新”表述不明确，排除。

B项“科技创新”扩大范围，文段谈论的是如何定位的原理，排除。

C项“在前沿领域的应用”非重点，文段重点论述的是新定位方法的原理而不是应用，排除。

故正确答案为D。

34. 【解析】D

语句排序题，对比选项判断首句，⑤句是对“碘”下定义的表述，引出文段的话题，适合做首句，②句和④句分别阐述我国和自然界中碘的情况，应出现在⑤句之后，不适合做首句，排除A项和C项。

①句引出“海藻”这一碘的生产原料，③句的话题为“海藻碘盐”，建立在海藻的基础上，因此③句在①句之后，排除B项。

故正确答案为D。

35. 【解析】B

本题可先确定尾句，比较②句和③句，③句为阐述现状的表述，②句通过“由此可以看出”进行总结得出结论，适合做尾句，排除A项和C项。

③句提到“北京文化创意产业开辟了大量的就业空间”，⑤句是对“就业弹性”下定义的表述，③句和⑤句话题不一致，排除D项。

⑥句提到“为了进一步确定文化创意产业对北京就业的吸纳空间”，根据“文化创意产业”、“就业空间”等共同信息捆绑，确定③句之后接⑥句，对应B项。

故正确答案为B。

36. 【解析】B

本题考察细节判断。文段只阐述了何为自然的自由，何为文明的自由，A项中“各自的界限”未提及，且其定义也非社会契约所规定的，而是实际存在的，排除，文段只阐述了自然的自由和文明的自由；C“只有，才”的逻辑关系，文段未提及，且“服从社会契约”文段也未提及排除；D项中“限制”自然自由与原文“失

去”自然自由概念不一致，排除。

故正确答案为B。

37. 【解析】A

文段开头把“现代化学”与“炼金”进行对比，先指出现代化学与炼金的相似之处，接下来应是指出两者的区别，通过转折词“但”说明炼金技术不具备理性思维，随后通过“例如”进行举例说明，接下来即是强调现代化学是有理性思维的，因此下文应该谈论现代化学的理性思维是如何产生的，对应A项。B项物理学家如何创造元素是前文已经提到过的内容，后文不做论述，排除。C项的“欧洲”属于无中生有。D项对应文段最后一句的表述，是举例论证的内容，非重点，且没有包含“理性思维”这个关键词，排除。

故正确答案为A。

38. 【解析】C

根据文段尾句的表述“有条件的自尊往往通过强烈的自我意识表现出来，这样的人总是通过他人的眼光来看待自己”可知，有条件的自尊者对外界的评价往往过于在意，对应C项。根据首句内容“前者是通过达到一些预设的标准来获得自尊，而非自我本真的需要”，可知A项错误。B项“父母的过分溺爱”在原文中没有提到，无中生有，排除。D项“对其成长不利”在文段中没有提到，作者并未对父母制定标准的效果进行评价，排除。

故正确答案为C。

39. 【解析】C

文段先阐述了可见光通信技术的原理和特性，因其传播直线性导致应用局限，后文通过“但”进行转折，转折后为重点即强调其在公共通信中的应用前景，与C项吻合，且C项中“大放异彩”和文段中的“令人兴奋的应用前景”对应。

A项中“智能之城”、B项中的“核心技术突破”均为无中生有，排除；D项中可见光通信技术对“家庭网络”的影响与文意相悖，排除。

故正确答案为C。

40. 【解析】A

通过空格前的“换句话说”以及空格后的“典型的例子”可知，所填入句子与前文句子和后文举例表达意思一致，前文阐述了诗歌面貌与作者人品关系不大，后文通过潘岳的例子说明具有卑劣行径的人依然可以写出高雅的作品，对应选项选A。

B项较A项，表述不够明确、直接，且“唯一要素”下文应该讲其他要素，不符合原文；C项中“掩饰自己的真实品格”为无中生有；D项中“知人知面不知心”指了解一个人的内心很难，与原文中作品面貌和品格的联系不大，且“创作领域”太过宽泛，排除。

故本题选A。

41. 【解析】B

本段文字的脉络为观点+解释说明。文段首先介绍“大数据”的概念，接下来进一步介绍了大数据的特点，即大量、高速、多样、价值，并且被人类认为是“新财富”、“堪比石油”，说明大数据存在巨大的可利用价值，随后作者用发达国家重视开发大数据的做法作为“明证”，起到解释说明的作用，故文段的重点内容在论述大数据的潜在价值，与此观点表述相符的为B，当选。

A项是文段首句引出大数据概念的内容，并非是文段的观点，不是重点，排除。

C、D两项是尾句解释说明的内容，不是重点，排除。

故正确答案为B。

42. 【解析】C

本段文字围绕中微子进行论述。首句指出中微子在宇宙中的重要作用，随后指出中微子由于无质量无电荷

的特点使其运动轨迹不变，而这稳定的运动轨迹恰恰可以让中微子告诉大家他来自宇宙的哪里，故C项“宇宙的使者”中的“使者”一词很好的解释了中微子的作用，当选。

A项没有主题词，不符合标题填入的原则，排除。

B项的特立独行侧重特殊性，表述相较于C而言不够准确，且没有体现出中微子的作用，排除。

D项“触不可以”在原文中并未体现，与文意不符，排除。

故正确答案为C。

43. 【解析】C

本段文字围绕“空间”这一话题进行阐述，首句指出空间的重要性体现在各个层面，后文以一句“这是以……等多种形式表现出来的”作为解释说明，再一次强调其重要性所在，故C项体现了文段的重点。

A项表述片面，是空间重要性的一个体现，排除。B项是后文解释说明的内容，并非重点，排除。D项无中生有，排除。

故正确答案为C。

44. 【解析】A

本题为中心理解题，文段以“此外”为标志词，是典型的并列结构。“此外”前阐述了海洋开发活动中各项产业既要依靠海域、流域，也需要陆域参与；“此外”后阐述了现代海洋高新技术推动下，不仅海洋科技得以发展，也促进流域、陆域等技术的发展，故总结并列前后分句可得正确答案为A。

B、D项阐述主体为“现代科技的发展”，为并列后半部分内容，表述片面，排除；C项的“互相交错”没有体现出两者的互相依赖和促进之意，不如A项表述准确，排除。

故正确答案为A。

45. 【解析】A

文段开头介绍沉积物基准这一概念，并指出其对评价沉积物污染、生态风险、湖泊生态环境有重要的作用，后文通过转折词指出了存在的问题，即没有形成完善、统一的体系和规范，故选项需基于原文给出解决问题的对策，即需要建立完善的沉积物基准体系。A项“弥补沉积物基准体系的不足”属于对策类表述，符合文段主旨，当选。

B项中“未成体系”表意过重，文中只表述未形成完善和统一的体系，并非没有体系。

C项是文段前半部分论述的沉积物基准体系的重要性，然而后半部分的问题才是文段重点所在，排除。

D项的“较多进展”为转折前内容，非重点，排除。

故正确答案为A。

46. 【解析】A

A工程队的效率是B工程队的2倍，可以赋值A队效率为2，B队效率为1，此时工程总量为 $6 \times (2+1) = 18$ 。如果两队的工作效率均提高一倍，A队效率即为 $2 \times (1+1) = 4$ ，B队效率为 $1 \times (1+1) = 2$ 。设A队休息t天，则有 $4 \times (6-t) + 2 \times (6-1) = 18$ ，解得 $t=4$ 。

故正确答案为A。

47. 【解析】A

原有职工110人，其中技术人员是非技术人员的10倍，可知二者人数之比为10:1，总数共为11份，每份10人，可以得到非技术人员为1份10人，技术人员为10份100人。招聘后，两类人员的人数之比未变，即新招聘的技术人员是非技术人员的10倍，可以设新招聘的非技术人员为x，则技术人员为10x，则有 $100+10x-(10+x)=153$ ，解得 $x=7$ 。

故正确答案为A。

48. 【解析】C

老李家的人均水费为 $210 \times 5 \div 6 = 175$ (元)，老张家的人均水费为 $(180 \times 5 + 30 \times 7) \div 5 = 222$ (元)，则所求为 $222 - 175 = 47$ (元)，C 项正确。

49. 【解析】B

由题意可得，商品每降价1元销量增加5个。上午商品打八折出售，下午商品在上午价格的基础上再打八折，列表可得：

	售价	销量(半天)	销售额
原计划	25	20	
上午	$25 \times 0.8 = 20$	$20 + 5 \times 5 = 45$	$20 \times 45 = 900$
下午	$20 \times 0.8 = 16$	$20 + 9 \times 5 = 65$	$16 \times 65 = 1040$

商品全天销售额 = $900 + 1040 = 1940$ 元

故正确答案为B。

50. 【解析】D

由题意音乐系男女人数之比为1:3，则可得到音乐系男生人数占音乐系总人数的 $1/(1+3) = 25\%$ ，同理美术系男生占美术系总人数比为 $2/(2+3) = 40\%$ ，则两系人数混合后男生占总人数的比为30%，由线段法可知：



则可得到 $\frac{\text{音乐系人数}}{\text{美术系人数}} = \frac{40\% - 30\%}{30\% - 25\%} = \frac{2}{1}$ 。因此 D 项当选。

故正确答案为D。

51. 【解析】C

假设每张桌子、凳子、椅子的所需工作量分别为a、b、c，木匠每小时的效率为1，则 $2a + 4b = 10 \times 1$ 、 $4a + 8b = 22 \times 1$ ，化简得到① $a + 2b = 5$ ，② $a + 2c = 5.5$ ，①+② = $2a + 2b + 2c = 10.5$ ，则 $10(a + b + c) = 52.5$ ，所需时间 $t = 52.5 \div 1 = 52.5$ 小时。

故正确答案为C。

52. 【解析】D

由2014年父母年龄之差是儿子年龄的，可得儿子年龄是5的倍数，而儿子5年后年龄也必然是5的倍数，而5的倍数且为平方数的只能为25，则可得到现在儿子的年龄为20岁，年龄差即为 $20 \times 4 = 4$ 岁，年龄和为 $4 \times 23 = 92$ 岁，则父亲年龄+母亲年龄=92，|父亲年龄-母亲年龄|=4，假设父亲年龄比母亲年龄大，则可得父亲年龄-母亲年龄=4，联立求解可得父亲年龄=48，母亲年龄=44，此时母亲年龄五年后为49岁，是平方数，满足条件。故父亲年龄为48岁。

故正确答案为D。

53. 【解析】A

解法一：假设每张餐桌都可以坐12人，则可容纳 $12 \times 28 = 336$ (人) 同时就餐，实际容纳332人，则该餐厅有10人桌 $(336 - 332) \div (12 - 10) = 2$ (张)。

解法二：设可坐12人的桌子有x张，可坐10人的桌子有y张，根据题意有 $\begin{cases} x + y = 28 \\ 12x + 10y = 332 \end{cases}$ ，解得 $x = 26$ ，

$y = 2$ 。A 项当选。

54. 【解析】B

一环形跑道上画了100个标记点，赋值标记点的间隔1米，根据环形植树公式，环形跑道全长=100×1=100米。某人跑了半圈，即跑了50米，此时要经过的标记点最多，就从一个标记点出发，最多能经过的标记点=50+1=51。故正确答案为B。

55. 【解析】A

小蚂蚁从A点到B点的过程中，三角形AED的底为AD，长度不变，高AE随着小蚂蚁向上爬而增长，故三角形AED的面积随时间增长（如图1所示）；小蚂蚁从B点到C点的过程中，三角形AED的底为AD，长度不变，高为正方形的边长10cm，也不变，故三角形AED的面积不随时间变化一直相等（如图2所示）；小蚂蚁从C点到D点的过程中，三角形AED的底为AD，长度不变，高DE随着小蚂蚁向下爬而减少，故三角形AED的面积随时间减少（如图3所示）。只有A项符合三角形AED面积随时间先增长，再不变最后减小的趋势。

56. 【解析】B

本题组成图形较为相似，优先考虑样式。题干中每幅图形均有两个形状组成，一里一外。第2幅图外面的图形形状与第1幅图里面的图形形状一致，第3幅图外面的图形形状，与第2幅图里面的图形形状一致，……即：后一幅图外面的图形形状与前一幅图里面的图形形状一致，由此规律可得，问号处外面的图形形状应为正方形，排除AC；图形存在黑、白、阴影三种颜色，从颜色入手，外图形颜色分别为白、阴影、白、阴影、白、？，问号处应为阴影，排除D选项；内部图形的颜色分别为黑、白、阴影、黑、白、？，问号处应为阴影，B项仍然符合此规律。

故正确答案为B选项。

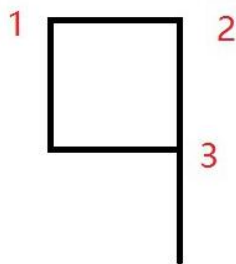
57. 【解析】D

本题图形组成相同，但无明显的位置移动规律，考虑图形间的相对位置。观察发现①③⑤图形中，正方形均在一个大图形内部，②④⑥中正方形均在两个图形相交的区域内。且①③⑤中三角形都在矩形和圆相交的区域内，②④⑥中三角形都在两个矩形相交的区域内。

故正确答案为D选项。

58. 【解析】C

本题属于位置类，主要考察旋转与翻转的区别。使用时针法，按照1-2-3的顺序。



①③④三个图形为顺时针，②⑤⑥三个图形为逆时针。因此本题选择C选项。

59. 【解析】B

元素组成相同，考虑位置规律。横向观察发现“○”绕着三角形的边逆时针每次移动一条边，因此？处的“○”应在三角形下面的那条边上，排除C、D，观察A、B选项发现，“○”所处的位置不同，一个在三角形外部，一个在三角形内部，因此应考虑两个元素之间的位置关系。经观察发现前两行中都有两个图形“○”位于三角形内部，一个图形“○”位于三角形外部，因此？处的“○”应于三角形的内部，排除A选项；

故正确答案为B。

60. 【解析】C

选项可知，五角星面是一个特殊的面，由第一个图形可以发现五角星黑色尖端部位所指向的面是“○”的

面，选项A中五角星黑色尖端部位所指向的面是“\”面，排除；选项B中五角星黑色尖端部位所指向的面是“□”面，排除；选项D中五角星黑色尖端部位所指向的面是“空白面”，排除；

故正确答案为C。

61. 【解析】D

本题属于数量类，因为有粗线条存在，因此首先考虑部分数。①③⑤部分数均为1；②④⑥部分数均为2。因此本题选择D选项。

62. 【解析】B

第一步：分析题干词语的逻辑关系

黄连是一种草本植物，其味入口一定是极苦，因此苦涩是黄连的一种必然属性。

第二部：逐一分析选项

A选项：班级可能团结可能不团结，不是一种必然属性关系，与题干逻辑不符，排除。

B选项：钻石是在地球深部高压、高温条件下形成的一种天然矿物。钻石在天然矿物中的硬度最高，因此坚硬是钻石的必然属性，与题干逻辑关系一致，为正确答案。

C选项：鲜红是花朵的属性，但花朵不一定是鲜红的，花朵的颜色可以多样，不是必然属性，与题干逻辑不符，排除。

D选项：城市不一定繁华，不是一种必然属性关系，与题干逻辑不符，排除。

故正确答案为B。

63. 【解析】D

第一步：分析题干词语的逻辑关系

报刊是利用纸张把文字资料传播的一种工具，是发表、宣传新闻的一种载体。并且新闻的发表方式有很多，报刊只是其中一种。

第二部：逐一分析选项

A选项：土地与玉米是作物和种植地之间的对应关系，与题干逻辑不符，排除。

B选项：法院是司法审判机关，不是法律的载体，与题干逻辑不符，排除。

C选项：出版社出版书籍，不是书籍刊登的载体，与题干逻辑不符，排除。

D选项：唱片是一种传播音乐、歌曲的载体，并且歌曲的发表形式有很多，唱片只是其中一种，与题干逻辑关系一致，为正确答案。

故正确答案为D。

64. 【解析】D

第一步：分析题干词语的逻辑关系

手机是一种沟通工具，金属是制造手机的一种原材料。

第二步：逐一分析选项

A选项：面试是招聘的一个流程，与工具无关，简介与面试之间也不是原材料关系，不符合题干逻辑关系，排除；B选项：运输是物流的一个环节，与工具无关，运输与公路之间也不是原材料关系，不符合题干逻辑关系，排除；C选项：卫星是一种科学装置，科学家是研究科学的人，不符合题干逻辑关系，排除；D选项：帐篷是一种露营工具，帆布是制造帐篷的一种原材料，符合题干逻辑关系。

故正确答案为D选项。

65. 【解析】A

A选项：娴熟是指很熟练，二者为近义词，前者是对后者程度的加深，敏捷是指反应非常灵敏，二者为近义词，前者是对后者程度的加深，前后逻辑关系一致；

B选项：熟练可以形容操作，敏捷与迅捷是近义词，前后逻辑关系不一致，排除；

C选项：熟悉是指十分了解，知道得很清楚；熟练是指技术精通而有经验，两者之间是程度上的加深；敏捷是指灵敏迅速，意思上与迅速之间是包含关系。前后逻辑关系不一致，排除；

D选项：谙熟与熟练是近义词，都可指熟悉（某种事物）。敏捷是指灵敏迅速，灵动多指灵活，意思上与两者是包含关系。前后逻辑关系不一致，排除

故正确答案为A。

66. 【解析】C

题干可以造句为在雾霾环境下，出行需要戴口罩。出行为动词，雾霾和口罩为名词

A项：沙发是家具，电视是家电，两者之间不存在对应关系，与题干逻辑你关系不一致，排除

B项：在公路上超车并不需要看路标，路标是指路的一种工具，与题干逻辑关系不一致。

C项：在野外环境中，勘探需要用地图，与题干逻辑关系一致，当选。

D项：游泳为动词，在词性上与题干就不符，排除。

故正确答案为C。

67. 【解析】A

A选项：楚楚动人，形容美好的样子引人怜爱，可以用来形容美丽。春风满面比喻人喜悦舒畅的表情。可以形容愉快。前后逻辑关系一致，为正确答案。

B选项：笑靥如花形容人美丽，笑起来像花一样漂亮，可以用来形容美丽。但是春风满面不能用来形容兴奋，是形容高兴，愉快的样子。

C选项：眉开眼笑形容人高兴愉快的样子，眉头舒展，眼含笑意。与美丽没有必然逻辑关系，与题干逻辑不符，排除。

D选项：心地善良是从道德层面去形容一个人有道德、德行好，慈善。与美丽无必然逻辑关系，与题干逻辑不符，排除。

故正确答案为A。

68. 【解析】D

第一步：分析题干词语的逻辑关系

题干麻雀属于动物，二者为种属关系，生物链指的是由动物、植物和微生物互相提供食物而形成的相互依存的链条关系。麻雀和动物都属于生物链的一部分。

第二部：逐一分析选项

A选项：豆浆与早餐之间为种属关系，但是早餐不是豆制品的组成部分，与题干逻辑不符，排除。

B选项：开水不属于纸杯，不是种属关系，与题干逻辑不符，排除。

C选项：钢笔和电脑都属于办公品，但是钢笔和电脑之间不是种属关系，与题干逻辑不符，排除。

D选项：发卡是首饰的一种，二者为种属关系，发卡和首饰都属于妆饰品，与题干逻辑关系一致，正确。

故正确答案为D

69. 【解析】A

第一步：找到定义关键词。

关键词为“某些物品或者服务的市场需求”“不同季节，或一周不同日子，甚至一天不同时间”，“上下波动很大”

第二步：逐一分析选项。

A项：早晚高峰期出租车供不应求，即出租车服务的市场需求在一天的不同时间上下波动很大，符合定义；

B项，“店庆打折当天点击量剧增”说明这种打折服务的市场需求很大，并未体现出需求上下波动，不符

合定义

C项：“博物馆引进梵高画作后游客蜂拥而至”说明人们对欣赏梵高画作的的需求很大，并未体现出需求上下波动，不符合定义。

D项：只提到牙刷品牌对牙刷分类，并未提到消费者的反应如何，也不存在需求上下波动，不符合定义。

故正确答案为A

70. 【解析】D

第一步：找到关键词。

关键词为初级群体是由“面对面互动形成”、“具有亲密人际关系和感情色彩”，次级群体是为了“某种特定的目标”、“有明确的规章制度”

第二步：逐一分析选项。

A项：小赵考上大学山里乡亲为他送行体现的是一种人际关系和感情色彩，属于初级群体，没有涉及到特定的目标和规章制度，排除；

B项：小张的玩伴建立了微信群体现的亲密的人际关系，属于初级群体，没有涉及到特定的目标和规章制度，排除；

C项：亲友团到比赛现场为小李助威，体现的是一种亲密的人际关系和感情色彩才聚集到一起，没有涉及到具有特定的目标，也没有明确的规章制度；

D项：小王考上研究生，同事为他庆祝，这个群体指的是公司群体，大家的共同目标就是努力工作，把公司搞好，同时这个关系群中有严格的公司规章制度，属于次级群体，D选项为正确答案。

71. 【解析】D

第一步：找到定义关键词。

关键词为“由于一个物体的运动”“使其相邻的一个静止物体产生运动”，“错觉”

第二步：逐一分析选项。

A项：不存在“一个物体的运动”，而且烛光本来就会随风摇动，也不属于静止物体，不符合定义；

B项：不存在“使相邻的一个静止物体产生运动”，且电影画面本来就在动，不是错觉，不符合定义；

C项：瀑布是往下流的，注视瀑布久了，再看树木，会觉得树木朝着瀑布相反的方向飞升。之所以会觉得树木朝着瀑布相反方向飞升，原因是长时间注视，与题干的原因不同，不符合定义；

D项：月亮并未运动，只是由于云在运动给人以错觉，误以为月亮在运动，符合定义。

故正确答案为D。

72. 【解析】C

第一步：找到关键词。

关键词为“职业的成功在于他具有一片特别硕大的红叶子”、“需要靠个人优势不断努力获得”

第二步：逐一分析选项。

A项：小刘对工作尽职尽责富有团队精神没有体现出这是他的个人优势，也没体现出他在不断努力，不符合定义，排除；

B项：小张觉得数学专业枯燥选择了读经济学硕士，没有体现出他的个人优势，也没体现出个人的不断努力，不符合定义，排除；

C项：小李销售水平一般，但是对市场特别敏感，体现了他的个人优势，对市场敏感，同时他努力发展优势体现了他的个人不断努力，属于红叶子理论，C选项为正确选项；

D项：小文是英语系学生，口语不好，辅修国际法方面的课程最后成为出色律师，说的是虽然有劣势，但是成功了，并没有体现出他的个人优势和特色，不符合定义，排除。

故正确答案为C

73. 【解析】A

本题属于单定义，主要考察名词型关键词。贷款替代的主体是“企业”，客体是“外币替为人民币”。

B选项是获取外币，故排除；

C选项和D选项是个人，不是企业，故排除。

A选项满足题意。

因此本题选择A选项。

74. 【解析】D

第一步：找到关键词。

关键词为“主动参与体育活动的态度和行为表现”

第二步：逐一分析选项。

A项：小强体质较弱，为了增强体质他开始参加体育运动，体现的是他参加体育活动的自主性，但是说的是开始参加，没有很好的体现出参与体育运动的行为表现，不属于运动参与，排除；

B项：为了培养孩子的兴趣，小生的父亲经常带他去游泳，虽然有参与体育运动的行为，但是没有体现出小生的主动参与体育运动，而是被迫的，是父亲为了培养他的兴趣，不属于运动参与，排除；

C项：小张酷爱网球比赛，会经常观看各种各样的网球比赛，没有体现出他参与体育活动的行为表现，排除；

D项：小李热爱跑步，只有有时间就会参加马拉松，热爱一词体现了小李的主动参与性，同时一有时间他就参加马拉松体现了他参与体育活动的行为表现，与A选项比较起来，D选项更明确，更好，故D选项为正确答案。

75. 【解析】B

第一步：找到关键词。

关键词为“气候变暖”、“导致生存受到威胁”、“逐渐扩大的人群”

第二步：逐一分析选项。

A项：卡特里娜飓风是由于特殊气候因素引起的，同时众多居民逃离家乡是一种生存威胁，属于气候难民，排除；B项：印度洋海啸不是由气候因素引起的，一般是由地震或者气象变化产生的破坏性波浪，不属于气候难民，为正确答案；C项：土地沙漠化是由于气候变异或者人类活动引起的，属于气候难民，排除；D项：海平面上涨是由于气候因素引起的，导致国民生存受到威胁，符合定义，排除。

故正确答案为B。

76. 【解析】D

第一步：找到定义关键词。

题干中精益生产的方式是“通过系统结构，人员组织，运行方式和市场供求等方面的变革”，目的是“整体优化，均衡物流，高效利用资源”，达到“最少的投入向顾客提供最完美的价值”。

第二步：逐一分析选项。

A项：题干中目的是为顾客提供最完美的价值，A中目的是抢占市场，不符合定义要求。

B项：题目中方式是通过系统结构，人员组织，运行方式和市场供求等方面，B是通过资金的调整，不符合定义要求。

C项：只说到有强大的供货体系，但是这个供货体系是否经过各方面的变革，是否是最优化的并没有提及，该选项不够明确。

77. 【解析】A

第一步：找到论点论据

论点：群体比个体更具有冒险精神，群体倾向于获利大但成功率小的行为

本题没有论据

第二步：逐一分析选选项

A选项：群体作决策时比个人更容易走极端，将群体决策和个人决策做比较，解释了群体决策与个人决策之间存在差距的原因，可能会导致群体倾向于获利大但成功率小的行为，有一定的加强力度；

B选项：说的是在群体中，个体会偏向于群体的一般意见，说的是个体在群体中是发表自己独特意见还是屈众，跟论题不一致，所以排除；

C选项：群体决策可能会被个体或者小群体所主导，也就是说群体决策可能和个体决策是一样的，而不是比个体决策更具有冒险精神，有削弱的意思，排除；

D选项：题干中没有涉及到决策的科学性与成功率，为无关选项，排除；

B、D为无关选项，C有削弱的意思，只有A有一定的加强作用，比较而言只能选A。

故正确答案为A

78. 【解析】C

第一步：分析题干的论证方式。

因为没有任何证据证明反物质是不存在的，所以反物质是存在的。这种论证方式是诉诸无知，其论证模式是：没有证明S为真，所以S为假的；没有证明S为假，所以S为真的。

第二步：逐一分析选项。

A选项，“没有证明与上帝对过话，你可能胡编乱造，也可能精神失常”，并不符合题干的论证模式，排除；

B选项，论证方式为举例论证，即抛出一个观点，然后举出一个例子来证明这个观点，不符合题干的论证模式，排除；

C选项，“不能证明平行世界不存在，所以平行世界存在”完全符合题干的论证模式，正确；

D选项，因为有活动踪迹，所以有怪兽，这是因为有证据所以得到一个结论，不符合题干的论证模式，排除。

故正确答案为C。

79. 【解析】D

第一步：找到论点论据

论点：远古时期火星可能存在生命

论据：火星陨坑内的远古土壤存在着类似地球上土壤裂纹剖面的土壤样本

第二步：逐一分析选选项

A选项：地球沙漠土壤与火星土壤不同，是对论据的削弱，所以排除；

B选项：经化学分析后，陨坑内土壤与地球上土壤的风华过程相似，与论据表意相同，是对论据的加强；

C选项：火星远古土壤样本情况仅表明比先现在宜居，与有没有生命无关，所以排除；

D选项：磷在土壤裂纹剖面上，微生物就是生命，本选项解释了为什么看到土壤裂纹剖面就说明可能有生命，属于搭桥加强，比单纯重复论据加强力度更强；

故正确答案为D

80. 【解析】D

第一步：找到题干论点论据。

论点：激光技术或许将成为医学领域的一种变革工具

论据：激光刺激干细胞生长可能实现组织生长，干细胞具有可以变成任何类型细胞的能力

第二步：逐一分析选项。

A选项，讨论的是不同波段的激光对人体的组织作用的原理不清楚，属于不明确选项，排除；

B选项，用激光对儿童视网膜影响的例子来证明激光技术会对人体有损伤，属于举例削弱，排除；

C选项，没有在人体试验，风险还在评估，属于不明确选项，排除；

D选项，用有洞的牙齿来作为例子，证明激光技术确实能够成为医学领域变革的工具，举例加强，正确。

故正确答案为D选项。

81. 【解析】B

第一步：找到论点论据

论点：全球变暖并不严重

论据：与1970年至1998年相比，1999年至今全球表面平均气温上升速度明显放缓，近15年来该平均气温的上升幅度不明显

第二步：逐一分析选项

A选项：题干主题是全球变暖是否严重，A项讨论的是海洋表层热量向深海输送的原因，无关排除；

B选项：此现象指的是全球表面平均气温上升速度放缓的现象。这个现象曾经出现过，但随后又加速变暖，即：气温上升速度的放缓并不能得出变暖不严重，有可能之后全球变暖会更加严重，题干所选的样本不具有代表性，是对论点的可能性削弱；

C选项：首先专家的意见不一定符合实情，其次二氧化碳和全球变暖是否有关系题干中也没提到，无关排除；

D选项：题干主题是全球变暖这件事儿会不会变得更严重，而D项说的是气候变暖所带来的后果是什么，二者话题并不一致，属无关选项，排除；

故正确答案为B。

82. 【解析】C

第一步：找到论点论据

论点：建图书馆（该项举措）对发展文化强市有实效

论据：在建成3个图书馆的四年内，光顾图书馆的市民增加了近两倍

第二步：逐一分析选项

A选项：说的是图书馆的维护成本高，与论题建图书馆对发展文化强市有实效没有关系，论题不一致，属于无关选项，排除；

B选项：两所高校的学生也办理了借书证，说明建立的图书馆对这两所高校的学生有帮助，有一定的实效，对论题有一定的加强，是加强论据，排除；

C选项：说的是一个市民办理两个借阅证，这样就是说明看书的人并不一定在增加，只是一人多办证，是对论据的否定；

D选项：该市在这4年间有很多外来人口涌入，只是说该市的人口多了，跟看书的人数没有直接的关系，排除；

故正确答案为C

83. 【解析】A

第一步：找到论点论据

论点：没有一级甲等证书的人不能成为主持人 即：没有一级甲等证书→不是主持人（1）

论据：主持人不能发音不标准 即：主持人→发音标准（2）

要想加强，最强的一定是搭桥。命题（1）的等价命题为 主持人→有一级甲等证书，再加一个条件，可以推出命题（2），那么只需要补充：发音标准→有一级甲等证书 即可。

第二步：逐一分析选项

A选项：没有一级甲等证书→发音不标准，其等价命题为：发音标准→有一级甲等证书，最强搭桥项；

B选项：发音不标准的可能没有证书，既是可能性的表述，同时也不符合我们需要的条件逻辑，排除；

C选项：发音不标准可能获得证书，既是可能性的表述，同时也不符合我们需要的条件逻辑，排除；

D选项：说的是发音标准与受欢迎之间的关系，排除；

故正确答案为A。

84. 【解析】C

题干结论为：目前我国国际工程项目管理体系还未达到要求。

A项支持了题干结论；

B项没有论及“工程项目管理体系”，无关；

C项说明：开展项目管理工作的部门运作机制健全，削弱了结论；

D项“项目控制相关部门专业化程度高”不代表管理体系达到要求，无关。

故答案选C。

85. 【解析】C

第一步：分析题干词语的逻辑关系

鱼饵和鱼竿为配套使用的对应关系。

第二步：逐一分析选项

A选项：笔和书籍没有必然对应关系，笔可以书写书籍，但是书籍上的文字也能通过打印形成。与题干逻辑不符，排除。

B选项：写诗和笔没有必然对应关系，笔可以写诗，但不是必然的对应关系，并且写诗是动宾关系，与题干逻辑不符，排除。

C选项：锅铲与炒锅是配套使用的，与题干逻辑关系一致，为正确答案。

D选项：电脑和无线路由器没有必然配套使用的对应关系，与题干逻辑不符，排除。

故正确答案为C。

86. 【解析】B

定位表格2014年货物运输总量1~11月393.2亿吨，11月39.3亿吨，故求2014年1~10月货物运输总量，可判定此题为简单加减计算问题。2014年1~10月我国货物运输总量=393.2-39.3=353.9。

故正确答案为B。

87. 【解析】D

由题干“2013年1~10月我国货运运输总量最大的领域”可知，本题是基期比较问题，比较各领域1~10月基期货物运输总量即可。观察图表可知，各领域1~11月和11月同比增速相差不大，故本题可直接比较1~10月现期值。铁路=35-3.2=31.8亿吨，公路=303.6-30.7=272.9亿吨，水运=54.5-5.4=49.1亿吨，民航=538-55.5=482.5万吨，可明显看出公路272.9亿吨最大。（注意单位，1亿吨=10000万吨）

故正确答案为D。

88. 【解析】B

水运周转量占比=水运周转量÷货物周转总量。2014年11月水运周转量是8204.1亿吨公里，总量是16409.2亿吨公里，占比非常接近50%。2014年11月水运周转量同比增速为12.5%，货物周转总量同比增速小于12.5%，为8.6%，可得2013年11月占比略小于2014年11月，大约在40%~50%范围内，B项当选。

89. 【解析】D

要使占比超过上年同期水平，只需要使该运输方式货物运输量同比增速大于货物运输总量同比增速即可。根据表格第三列数据可知，符合题意的是公路和水运，因此选择D项。

90. 【解析】C

A项，2014年1~11月月均货物运输量为 $393.2 \div 11 \approx 36$ （亿吨），错误。B项，每吨货物平均运输距离为 $164873 \div 393.2 \approx 165000 \div 400 < 500$ （公里），错误。C项，铁路货运量占总体比重为 $\frac{35}{393.2} = \frac{1}{393.2} \approx \frac{1}{11}$ ，货物

周转量占总体比重为 $\frac{25200.7}{164873} = \frac{1}{\frac{164873}{25200.7}} \approx \frac{1}{7}$ ，前者小于后者，正确。D项，公路货物周转量同比增量为

$\frac{55448}{1+9.8\%} \times 9.8\%$ ，水运的为 $\frac{84056}{1+16\%} \times 16\%$ ，目测可知前者小于后者，错误。因此C项当选。

91. 【解析】C

定位图表可知2014年4月-2015年4月各月租赁贸易进出口额，故求2014年下半年进出口总额，可判定此题为简单加减计算问题。2014年下半年（7月-12月）进出口总额=10.03+8.57+14.58+9.54+6.22+18.26 \approx 10+9+15+10+6+18=68，与C项最接近。

故正确答案为C。

92. 【解析】C

可直接比较各选项的现期值 \div 基期值的分数大小关系，分数最大的则增速最快。A项为 $8.64 \div 3.39 > 2$ ，B项为 $14.58 \div 8.57 < 2$ ，C项为 $18.26 \div 6.22 \approx 3$ ，D项为 $12.09 \div 6.9 < 2$ 。显然C项分数最大，增速最快，当选。

93. 【解析】B

2015年一季度进出口总额为 $6.9+12.09+5.29 \approx 7+12+5=24$ （亿美元），2014年第四季度为 $9.54+6.22+18.26 \approx 10+6+18=34$ （亿美元），前者比后者降低了 $\frac{34-24}{34} = \frac{10}{34} < \frac{1}{3} \approx 33\%$ ，B项符合。

94. 【解析】B

由题干可知本题是找全国租赁贸易总额及同比增长率均高于上月的月份数，可判定本题为直接找数问题。定位图表材料，观察全国贸易总额及增长率均高于上月的有2014年5、7、9、12月和2015年2、4月，总共6个月。

故正确答案为B。

95. 【解析】C

由题干可判断本题为综合分析类，逐项分析可得：

A项由图表可知2015年4月，全国租赁贸易进出口额同比增长105%，而2014年4月同比增长-41.7%，由间隔增长率公式可得2015年比2013年同比增长 $105\%-41.7\%-41.7\% \times 105\% < 1$ ，故A选项错误。

B项，2015年1~4月全国租赁贸易进出口额月均为

$$\frac{6.9 + 12.09 + 5.29 + 6.94}{4} < \frac{7 + 12 + 6 + 7}{4} = \frac{32}{4} = 8 \text{（亿美元）}，\text{该项错误。}$$

C项，2013年8~9月租赁贸易进出口总额为 $\frac{8.57}{1-15.9\%} + \frac{14.58}{1+38.7\%} > \frac{8.57}{0.857} + \frac{14.58}{1.458} > 10+10=20$ （亿美元），该项正确，当选。

D项由图表材料可得，全国租赁贸易进出口额同比下降的月份为2014年4月、8月、11月及2015年3月共4个月，而2014年4月-2015年4月共13个月，故占比不到三分之一，D选项错误。

故正确答案为C。

96. 【解析】A

由题干“2015年2月”判断现期，“平均每笔快递业务收入”判断平均数，故本题为现期平均数计算问题。定位文字材料第一段“2015年2月份，快递业务量完成8.2亿件，业务收入完成136.0亿元”可得平均每笔快递业务收入=总收入÷业务量=136÷8.2≈16.6元。

故正确答案为A。

97. 【解析】A

由题干“2015年2月”判断现期，“消费者对快递业务的全部申诉量”和文字材料第一段“占全部申诉量的97.6%”判断本题为现期比重中总量的计算问题。定位文字材料第一段“2015年2月份，快递业务量完成8.2亿件”和文字材料第二段“2015年2月，全国每百万件快递业务中有效申诉量为23.4件”可得8.2亿=820百万快递业务中有效申诉量=820×23.4=19188件，全部申诉量=19188÷97.6%略大于1.9万件，与A项最接近。

故正确答案为A。

98. 【解析】D

2015年1月，企业1丢失损毁有效申诉量为 $23.79 \div (1+49\%)$ ，企业2为 $8.89 \div (1+87\%)$ ，显然企业1>企业2，排除A、C两项。企业3为 $7.07 \div (1+114\%) \approx 7.07 \div 2.14 \approx 3.3$ ，企业4为 $6.37 \div (1+55\%) = 6.37 \div 1.55 \approx 4.1$ ，企业4>企业3，排除B项，因此D项当选。

99. 【解析】B

2015年2月，企业1的有效申诉量环比增长48%，投递服务环比增长53%，因此2月所占比重高于上月。企业2的有效申诉量环比增长55%，投递服务环比增长44%，比重小于上月。企业3的有效申诉量环比增长140%，投递服务环比增长139%，所占比重小于上月。企业4的有效申诉量环比增长36%，投递服务环比增长41%，因此所占比重高于上月。综上只有两家符合题意，B项当选。

100. 【解析】B

A项，2014年2月快递业务完成量为 $8.2 \div (1+18.7\%) < 8$ （亿件），错误。B项，由题意可知，2015年2月，全国每百万件的有效申诉量为23.4件，有效申诉占比为97.6%，因此每百万件中非有效申诉量为 $23.4 \div 97.6\% \times (1-97.6\%) \approx 23.4 \times 0.03 \approx 0.7 < 1$ （件），正确。C项，全国每百万件有效申诉量为23.4件，企业4每百万件有效申诉量为17.81件，后者小于前者，错误。D项，企业1每百万件延误有效申诉量为19.93件，企业2为11.12件，前者没有超过后者的2倍，D项错误。因此B项当选。

2 2016年四川申论真题卷

一、注意事项

1. 本题本由给定资料与作答要求两部分组成。考试时间为150分钟。其中，阅读给定资料参考时限为40分钟，作答参考时限为110分钟。满分100分。
2. 请在题本、答题卡指定位置上用黑色字迹的钢笔或签字笔填写自己的姓名和准考证号，并用2B铅笔在准考证号对应的数字上填涂。
3. 请用黑色字迹的钢笔或签字笔在答题卡上指定的区域内作答，超出答题区域的作答无效!
4. 待监考人员宣布考试开始后，你才可以开始答题。
5. 所有题目一律使用现代汉语作答，未按要求作答的，不得分。
6. 监考人员宣布考试结束时，考生应立即停止作答，将题本、答题卡和草稿纸都翻过来留在桌上，待监考人员确认数量无误、允许离开后，方可离开。

严禁折叠答题卡!

二、给定资料

资料1

在北京西北部一栋办公楼冷飕飕的地下室里，一群想要成为企业家的人正聚集在计算机屏幕前，注视着他们最新的项目雏形。而在几公里之外，在一个暖意融融、装修更为豪华的地下演讲厅里，30多名经理和创业者也在讨论有关新产品和新公司的创意。这两群人都验证着中国社会对创业热潮日益增长的兴趣。英语在线教学服务“英语流利说”创始人王某表示：“初创是令人迷恋的新事物。”“中国的创业精神呈现一种上升趋势。顶级风投公司正在寻找年轻的创业者——一整套生态系统逐步形成。”

据不完全统计，从2013年5月至今，中央层面已经出台至少22份相关文件促进创业创新。各地方政府也纷纷出台政策，简政放权，从财税、金融、保障服务、政策激励等方面支持创新型企业特别是创新型小微企业发展，使各种创新资源向企业集聚，让更多金融产品和服务对接创新需求，用创新的翅膀使中国企业飞向新高度。2015年10月19日，在全国大众创业万众创新活动周启动仪式上，李克强总理被现场热烈气氛所感染而登台发表即席演讲，称“要为创新创业者站台”。李克强总理指出，大企业员工和草根创业者通过创新创业都可以成为更多财富的创造者和拥有者。这既是收入分配结构调整的重要内容，也促进了社会公平正义。双创为所有人提供了公平竞争的机会，让有能力的人通过自身奋斗获得上升通道。

资料2

近年来，创业一词已经成为大众关注的热点，在众多创业团队里，90后群体以其高学历、年轻、接受新鲜事物快而成为一股不可忽视的重要力量。前不久，某网站邀请了几位90后创业者，分享自己的创业心得。1992年出生的小尹已经开了三家公司。为了弄明白“为什么KTV的歌单十年不变”这个问题，小尹跑遍了N市所有的KTV。他发现，KTV的点歌系统更新周期较长，而且每一次更新，硬件和软件都要付钱，点歌系统的硬件公司缺少互联网思维，创新动力不足。也有人尝试做智能点歌，但所做系统，小尹说“不忍直视”。在小尹看来，社交、娱乐才是这个时代年轻人的刚需。KTV不再只是一个唱歌的场所，而是一个聚集了年轻人社交、娱乐、聚会等多种需求的地方。凭着这个想法，他创立了KTV团购APP“一起唱”，把整个N市的KTV硬件系统作了更新。现在，用“一起唱”的用户，只要提前列出歌单，并同步到APP，进入包房后摇一摇手机，歌单便自动导入了点歌盒子。除此之外，用这款软件还可约别人来唱歌，还可以把KTV现场旋律进行混音，然后传到云端，分享到社交网站，甚至可以在包房里和朋友一起看世界杯。小尹说，从物质转到服务、娱乐，是他们这一代人创业和上一代的不同，这类创业不需要太高成本，往往一个想法，一份风险投资就可以做起来。90后正在用一种更新、更年轻的方式去与这个世界相处，创业的可选空间变大了，且较少受到家庭背景、所支付

成本和教育程度的限制。

这一观点得到了很多人的认同。与 90 后相比，80 后们从父母那里得到的传承不多，且多有负担，除了养活自己，通常还需考虑如何让父母过得更好。而很多 90 后的父母有很强的经济能力和社会人脉，不但不需被养，还能帮到子女。90 后没有后顾之忧，中国第一次出现了“可以干自己想干的事情”的一代人，这代人喷薄而出的创新力，会帮助中国进入一个极具创新力的年代。

也有分析人士认为，很多 90 后在创业心态上有了改变，他们不像做企业，更像是做项目，对于成功的渴望不是很强烈，有的甚至只把这当做一种体验。

某互联网金融公司创始人、CEO 小孙觉得，在传统社会，行业与社会规则已经形成，年轻人往往要学习社会中的既成经验，才能进入正轨。在这种系统里，年轻往往成为一种劣势。而在现代社会，互联网已经渗透到社会生活的各个部分，与互联网同生共长的年轻人成为互联网原住民，他们可以直接从互联网获取经验，寻找机遇，而对于年长者，年龄反而成了迁移转型的一种包袱。所以在传统部落中，年长者往往是部落中最有权威的人，而互联网社会中，则会涌现扎克伯格等一系列的创新者。现代社会不是经验的时代，而是技术与创新的年代。

资料 3

深圳的创业者乔峤想要做一款智能耳机，他发现，60%的人都会在跑步过程中听歌，并用手机 APP 记录运动数据。如果有产品能同时解决跑步人群运动数据记录和听歌的需求，又能通过音乐来实现运动激励，会有很好的市场前景。乔峤对记者说，他想针对每个人的身体特征，设计和提供有效的音乐服务产品，做到每一个硬件设备都是针对个人定制的。

可是，光有好点子还不行，初始创业的乔峤，面临既缺资金、又缺人才的尴尬，他尝试着用股权众筹的方式来实现自己的创业梦想。在众筹网上，他发布了自己的股权众筹商业计划书，以出让公司 10% 股份的方式，融资 187 万元，最低投资额 1 万元。最终，吸引了 16 名投资者参与。乔峤告诉记者，这些投资者为他引入了互联网、音乐、体育领域的强大资源，其中，几个志同道合的投资人干脆直接加入了创业团队。

资料 4

在北京大学东门外一处不起眼的楼里，有一处名曰“一八九八咖啡馆”的休闲场所。它成立于 2013 年 10 月，虽然看起来很简朴，但成立以来，它每天都在吸引着大批“咖粉”流连忘返，且不少是业界大佬。它究竟有何魅力？

董事长杨勇认为：“在传统的创业中，第一步要找投资人，这就很难，能拿到钱更不容易。第二步，找完投资人之后，要把产品卖出去，也挺难的，所以每步都是一个坎。为什么那么多创业公司都死掉，为什么那么多中小企业发展不了？就是因为每一个坎都不容易走过去。众筹就把这个模式改变了，每个人都是投资人，每个人都是消费者，每个人也是传播者，这种方式的改变，你就发现，做公司容易了。所以某种意义上消费者就是投资者和生产者。”

杨勇说：“传统的创业特别辛苦，就是因为你老要求人，或者叫做外部交易，今天要找一个人银行的人，去求管银行的人，给他什么好处帮我办个事情，这叫外部交易。现在众筹是什么呢？你缺什么就让谁来当股东，把你未来要求的人全部变成股东了，把原来外部的交易变成内部的合作了，内部合作就非常容易。”

“200 人聚在一起就有很大的能量。实际上，它真正意义在后面的裂变，每一个项目做完之后，会带出一堆项目出来，原因就是通过众筹找了 200 个非常靠谱的人，这些人再有非常多的合作机会，所以基本上一个项目出来会带一堆项目。一八九八咖啡馆实现众筹之后，项目太多了，很大原因就是找了一群可以相互信任，相互熟悉，又都不错的人，而这些人本身又是跨界又是组合，非常容易谈成生意，所以这个裂变的过程，力量会特别巨大。”

浏览股东花名册，200 位发起人涵盖了北京大学近 30 年来不同届别、不同院系、不同专业的毕业生，皆为

各领域中的知名人士、企业家、高层管理者。这些联合创始人所在的行业涉及金融、移动互联网、新能源、新媒体、教育、法律，高科技等多个领域。杨勇表示，“通过众筹，聚集众多资源。每天跟像打了鸡血一样，所以创业的生存问题解决了。”“这 200 人股东，可能我把他们伺候好了，每月就会有一两百万收入，这就挺好，公司就能存续下来。而创新是怎么来的？创新就是因为大家能够很轻松地做自己的事情了，就会主动去创新，每天为了生存去创业的时候，你就不可能去创新。”

资料 5

“如果你真的想做一件事，全世界都会帮助你”，时下正风靡的众筹让这句话以更直接的方式照进现实。2014 年初，在华南理工大学就读的刘永杰和 3 个小伙伴萌生了开一间咖啡馆的创业想法。这时，众筹模式走入了他们的视野，众筹咖啡馆“比逗 BEPOATO”的计划也就被列入了日程。

为了考察众筹在校园的可行性，2014 年 4 月，创业团队在华工和华农的校园进行了 300 份以上的问卷调查，高达 70% 的参与众筹意愿给予了团队正式启动的信心。随后，他们以这两所学校的学生为目标群体进行股东招募。他们的众筹计划是：众筹股东每股 1000 元，每位最少需出资 1000 元，最多 5000 元，享有 1 至 5 股的分红权。经过一个多月的招募，他们共有 170 多位众筹股东和 70 多万元的启动资金。筹得了资金后，下一步就是选址。经过一段时间的考察，他们在五山地铁站附近租了一间临街的铺位。170 多位众筹股东都竭力宣传这间咖啡馆，不仅自己来消费，也拉朋友来消费，开业两个月以来，咖啡馆的生意也越来越好。

在咖啡馆最显眼的地方，整个墙面挂满了印有比逗 LOGO 的马克杯，仔细一看，这些马克杯上都刻着名字和编号。王海向记者介绍，每一个马克杯代表咖啡馆的一位众筹股东。由于股东数量庞大，不少众筹咖啡馆最后变成了“看上去很美”而实际运营却举步维艰，落得散伙的下场。为了避免这种情况发生，咖啡馆建立了自己的董事会，由核心运营团队、校园股东、社会股东等 7 人构成，虽然每个众筹股东都拥有建议权，但最终的决策权是在专业的核心运营团队手中。“尽管有摩擦，但大家都奉行‘专业的事给专业的人做’的原则，合作很顺利。”刘永杰说。

为解决学生股东“毕业”带来的流动问题，“比逗 BEPOTATO”设置了学生股东毕业的股权流转计划。对于第一批学生股东，两年之后按贡献度排名，挑选一部分成为永久股东，其余在毕业时需将股份流转给附近高校在校生。对于之后加入的股东，均需要在毕业时将股份流转给合适的在校大学生。

利用校园优势，比逗将咖啡馆主题定位为“创业交流”。除了承接许多校园社团活动以外，他们还承办广东天使会等线下交流活动。通过举办类似的创业交流活动，店铺也获得了更多的创业资源，一些更富有经验的专业团队还能够给予他们诸如薪酬制度设计的指导。一些兴趣小组也自发找到了比逗，如锤子科技、海星会、微博读书会等等，都在比逗举办了线下活动。

比逗还在进行面向所有众筹股东的 APP 研发，主要目的是加强股东之间的交流、提高股东活跃度等。王海举例说，可以将股东对店铺的贡献设置成一个一个的任务，例如来店消费或发布一篇推介文章就能获得“经验值+1”，带朋友来消费就能够获得更多经验值。王海还举例说，店铺中要增加一幅壁画，以此设置一个任务，那么股东就可以通过 APP 来领取这个任务，在股东中找队友一起执行，完成后就获得相应的奖励。通过这样的任务完成获得的奖励积分，就可以更直观地看到每个股东对咖啡馆的贡献值，今后的分红、股权流转等就有据可依。

资料 6

在众多的创业者中还有这样一些与众不同的人，人们把他们的创业形式称之为社会创业。年轻女孩小丁，为了解决残疾人和行动迟缓的老年人穿脱衣裤不便的问题，研发生产出了可拆卸的特制衣裤，并在这些特制衣裤上增加了加热、中药、磁极、按摩等辅助功能，患者试用后，好评如潮，目前产品已经投入市场。小丁还为此申请了专利，注册了有限责任公司。

行为心理学认为，人对任何付出都是希望能有所回报的。一直以来，我国公益项目对捐赠人的奖励多是精

神奖励，捐赠人的心理难以得到很好的满足，影响公益事业的发展。小韩和小张创立了“路人甲”公众小额捐赠平台。他们希望把鼓励捐赠行为实体化、物质化，能用商业的手段，解决这个社会问题。“路人甲”的“惠捐模式”在中国是首创，即用户在捐赠 10 元后即可兑换一张答谢券，凭着这张答谢券可享受众多合作商家的超值优惠和在线服务。这样一来受助者有尊严，捐赠人有答谢，商家得客户，捐赠人、商业机构和公益项目（或受助人）三者之间形成一个非常好的公益价值闭环，互惠共赢，同时也挖掘了优质捐款户背后的巨大价值。

人们把小丁、小韩、小张这样的创业者称为社会创业家。第二届芝华士“赢之有道”社会创业家大赛的评委们用自己独特的视角与丰富的经验表达了对这些人的理解。

著名经济学家 A：我所理解的社会创业家是新一代企业家，他们通常受过良好的教育，承担社会责任，关注自然环境，拥有人文情怀，追求愿景理想，他们以创新的商业模式拓展可持续增长路径，在为企业和社会创造财富的同时，也回应社会挑战，贡献社会进步。作为评委，我关注参赛者的激情与智慧、理想与务实的平衡。

资深财经评论员 B：社会资源的发展有两个终极目标：第一个是效率，第二个是公平。普通的创业者，一般的商业诉求是解决效率问题，并且通过提高效率来获得商业上利润的诉求，但是人类社会追求的另外一个目标就是公平。有的时候效率和公平之间是有矛盾的，社会创业家就是兼顾效率和公平的这样一批创业者，他们和一般创业者最大的区别就是他们更多强调的是公平。对于整个社会资源分配当中一些处于弱勢的群体，通过商业的行为、商业的链条架构来提升他们的地位，我觉得这是社会创业家与一般创业者最大的不同。

技术创业投资基金合伙人 C：首先我不认为哪个企业家是和社会脱离关系的。他们不论是提供产品还是提供服务，那种方式都或多或少对社会产生了影响或创造了价值。如果有的创业家所做的事情是完全公益的，那么我佩服他。但是在毫不盈利的前提下，我并不建议这样做。

风险投资人 D：社会创业家创业的第一动机更多是想实现改变世界或改变社会的目的，跟“发明者”和“追梦者”类似，不是以传统利润模式导向，而是出于更高一层的梦想和驱动创业。这些创业者会比一般创业者对自己的产品、服务或项目设的禁区更多，但也比一般创业者对自己的梦想有着更超乎一般的执着和理念。用自己的优势结合梦想找到一个更有颠覆性的产品和思路是很重要的。

甘客科技创始人 E：社会创业者就是创业者中的 NGO（非政府组织）。社会创业是源于为特定群体、社会创造更大的价值。因此，他们的责任感、使命感更强，更有社会情怀，而非简单地追求个人财富的积累。这是创业的新型价值体系，更具有社会公益意义。

资料 7

在某大学生创业大赛现场，5 名女孩准备筹集 40 万元资金，到武汉近郊去承包 50 亩地，种植有机蔬菜。台上陈述的女孩充满激情和自信，台下观众也不时报以阵阵掌声。当评委问到“你们种过蔬菜吗？”“你们的创业资金从哪里来？”“农民凭什么把土地转包给你？”“你们种出来的有机蔬菜准备卖给谁？”等问题时，她们的回答却难以令人满意。如今，创业已经成为青年人口中的高频词语，对大学生而言，创业正在变得“简单”，曾经的理想似乎也触手可及。

机械专业硕士小杨，进入杭州一家民营企业从事技术工作不满半年，因没有期待中的高薪，没有理想中的激情，他开始琢磨创业。此后，他每天都在与人交谈，项目、资金、人脉、经验等问题弄得他头疼，深感创业之艰的他最终放弃了创业梦。

某投资基金首席合伙人阎先生拥有 20 多年投资经历，曾位列《福布斯》中国年度最佳创业投资人榜首。他参与过投资的企业包括完美世界、环球雅思、凡客、分众传媒、百度、阿里巴巴、巨人网络等著名企业。在阎先生看来，当创业成了一种“时尚”和“运动”时，多数人都急功近利地把创业当成了投机行为。他说，“从时下来看，创业的动机大多是源自对财富和名声的渴望。”

某著名网站策略营销总监范女士认为，赚钱是创业的应有之义，但更多成功的创业者却是从想要赚钱开始，继而解决用户需求，在解决用户需求、创造社会价值这条路上不断自我追问、探寻并最终走向成功之地的。如

果仅仅停留在“为了赚钱”上是赚不到钱的。星巴克 CEO 舒尔茨曾说：“为钱创业是肤浅的，应为梦想所驱动。”在创业路上有太多诱惑，也有太多艰险，只有怀揣理想的人才能够抵抗诱惑，才能够不惧艰险，朝着自己的目标前行，百折而不回。诺奖得主菲尔普斯在《大繁荣》中指出：大多数创新并非是亨利·福特类型的孤独的梦想家带来的，而是由千百万普通人共同推动，他们有自由的权利去构思、开发和推广新产品与新工艺，或对现状进行改进。正是这种大众参与的创新带来了普通民众的繁荣兴盛——物质条件的改善加上广义的“美好生活”。大众创新带来国家繁荣。

某公司创始人卢先生在接受记者采访时说，目前创业氛围很好，但创业却也成为一种时尚，仿佛不去创业就是落伍了。创业项目的选择部分属于异想天开型的，部分属于复杂型的。而现实需要创新型、技术型的项目，那些通过移动互联网，把原有商业模式去中间化，搞流量，然后再找商业模式，这样的创新都是伪创新。仅怀着一腔热血，就幻想着自己只要去创业就能成为下一个马云，而对创业的概念，对行业隐形的壁垒和门槛却知之甚少，这是许多大学生创业伊始的真实写照。在国内的互联网创业环境中，有一个非常不好的特性就是抄袭成风。很多创业者虽有好的创意，但却因为没有好的原创保护制度来保护，导致被其他一些公司抄袭过去，这些公司凭借着更雄厚的资本实力，迅速把原创者打败并挤出市场。

领英中国区总裁在一次公开演讲中，用自身经验阐述了关于创业的两个公理：第一，创业成功是一个小概率的事件，每一个成功故事背后更多的是失败；第二，创业没有失败者。即使是创业项目失败，作为创业者而言，过程中积累的经验将促进个人成长，即可定义为成功者。他认为，创业是没有失败者的历程。

ZUK 联合创始人陈先生同样表达了对年轻人创业的观点。陈先生说：“创业是一件很复杂的事情，其实做好每一件事情就是创业。”

资料 8

乔治·马洛里是英国探险家，他曾就读于温切斯特公学和剑桥大学，曾是英国著名公学查特豪斯的教师。马洛里 18 岁的时候就喜欢上了登山，在那个被称为“阿尔卑斯登山的黄金年代”的日子里，年轻的马洛里并不是欧洲大陆最优秀的攀登者。然而，他对山有着巨大的兴趣，1921 年到 1924 年，乔治·马洛里参加了人类前三次征服珠穆朗玛峰的尝试。

当马洛里随着登山队第一次来到珠峰脚下，第一次见到他心中的“女神”时，他将她描述为“梦境中最狂野的造物”，是那样巨大、美丽而又可怕！这一次他们到达了海拔 6985 米的地方，由于缺乏地形知识，全队处于极端疲惫的状态，他们没有向更高的地方前进，但是他们终于找到通向顶峰的路。除此之外，这次攀登让他们在“阿尔卑斯攀登方式”之外，找到了更适合于 8000 米山峰的“金字塔攀登方式”。

马洛里第二次攀登珠峰时，到达了 8300 米之处，离顶峰只有 500 米之遥。这一年最大的收获是发现了氧气的确切效用，并确立了高山氧气设备的基本模式——气瓶、气管、面罩，后世的人们只增加了一个调节器。

1924 年 6 月马洛里斯辞去了剑桥大学讲师职务，第三次来到珠峰的脚下，那一年他已 38 岁，有幸福祥和的家庭，有深爱着他的美丽妻子，有三个可爱的孩子。当《纽约时报》的随队记者在追问他“你为什么要攀登珠峰”时，马洛里说，“因为山在那里！”。

从某种意义上说，每个真正创业的人，在他的内心深处都耸立着一座高山，而生命不息，攀登不止，正是真正创业者的境界所在。

三、作答要求

（一）请根据材料 4、5、6，归纳众筹的特点。（20 分）

要求：概括准确，内容全面，表述清晰，字数不超过 200 字。

（二）请根据给定资料 1、2、7，就大学生如何提高创业成功率提出建议。（30 分）

要求：（1）观点明确，建议可行；（2）语言简洁，有逻辑性；（3）不超过 500 字。

(三) 给定资料 7 中提“为钱创业是肤浅的，应为梦想所驱动。”请你根据对这句话的理解，结合所给材料，联系社会生活实际，自选角度，自拟题目，写一篇议论文。(50 分)

要求：1. 观点明确，内容充实，论述深刻；2. 思路清晰，结构严谨，语言流畅；3. 字迹清楚，书写工整，限 800~1000 字。

温馨提示：**2018 年公考通网校重新起航****系统班+考前直播冲刺班+一对一申论批改班+面试通关课程
更多好课等你挑选！****【参考答案与解析】****（一）【参考答案】**

众筹的特点：

- （1）众筹方式以股权众筹为主；
- （2）主体多元，参与主体多，涉及领域广，聚集众多资源；
- （3）融资便捷，参与门槛低，融资方式灵活，最低投资额低；
- （4）模式创新，社会参与度高，参与主体承担投资人、消费者和传播者角色，吸引人才加入创业团队，通过将外部交易变为内部合作，过程轻松容易；
- （5）合作机会多，促进主动创新，产生裂变效应，发挥集群效应；
- （6）有风险性，内部管理、分红、股权流转存在一定困难。

（二）【参考答案】

第一，转变创业动机，摒弃为财富和名声而创业的理念，树立为解决用户需求，创造社会价值而创业的理念，避免功利性创业。

第二，坚定创业心态，不惧艰险，做好每一件事情，正确面对失败，着力解决项目、资金、人脉和经验问题，促进个人成长，实现持久创业。

第三，做好充分准备，详细了解创业的概念、行业隐形的壁垒和门槛，做好创业的长远规划和风险评估，避免伪创业。

第四，利用政府政策，充分利用各级政府制定的财税、金融、保障服务等激励政策，促进创新资源向大学生聚集。

第五，了解市场需求，做好市场需求调研，将服务内容从物质转向服务和娱乐，注重个性化定制服务，满足时代消费需求。

第六，充分利用各项创业资源，借助互联网平台，获取经验，寻找机会，融聚资源，发掘创新动力，借助父母的经济能力和社会人脉创业。

第七，坚持原创思想，从现实需要的创新型、技术型项目出发，不抄袭原有商业模式，并积极申请知识产权，保护原创产权。

（三）【参考例文】**把梦想作为创业的驱动力**

最近几年，中央层面已出台多份文件鼓励创业创新，各地方政府也相继出台各项政策鼓励创新型企业特别是创新型小微企业的发展，中国的创客们迎来了创业的春天。李克强总理指出“要为创新创业者站台”，他强调双创为所有人提供了公平竞争的机会。于是，有能力的人才们纷纷跃跃欲试。

目前中国创业氛围很好，但创业也成了一种风气，似乎不去创业就是落伍了。大量创业者们盲目创业，把创业当成投机，动机不正，仅仅源自对财富和名声的渴望，这是具有极大隐患的。诚然，赚钱是创业的目的之一，但把目标仅仅停留在赚钱上是难以对抗创业之艰的。所以，我们需要强调一种认识——为钱创业是肤浅的，应当把“梦想”作为创业的驱动力。

创业之路过于艰辛，太多问题要解决，太多方向要选择，只有以梦想作为驱动力的创业者们才能抵挡住诱惑、经受住挫折。为钱创业是肤浅的，应为梦想所驱动。

以梦想驱动创业才能守住良心、守住底线。创业者们如果仅仅把眼光停留在赚钱上，就容易被金钱腐蚀，为金钱让步，丧失良心和底线，做出危害自身、危害家人、危害社会的无可挽回的事情，频频曝光的食品安全问题、工程安全问题、医疗安全问题则是前车之鉴。为梦想驱动创业者才能抵抗诱惑，坚守住心中那一股正能量，让金钱让步，把赚钱和解决用户需求、创造社会价值结合起来，达到良性循环的效果。

以梦想驱动创业才能有力迎战创业之艰。创业成功是小概率事件，多数创业者会以失败结局，即使是创业成功者，也会经历一连串的失败的打磨。成熟企业拥有更多资金、人脉、管理、经验优势，在同台竞争中，新创企业或许会举步维艰。为钱创业者驱动力不足，往往于创业途中因胆怯而止步不前。同时，创业收益往往是长线的，前期更多的是投入，过度重视金钱则会在投入阶段畏首畏尾，怀疑策略，贻误时机。以梦想作为驱动力的创业者们才能有更大的心理动力，有做长线生意的打算，有坚持到底的决心。

以梦想驱动创业能创造社会价值。怀有梦想的创业者们在赚钱的同时会更多地构思、开发和推广新产品和新工艺，更愿意对现状的不足进行改进，切实解决大量现实问题，从而为社会创造更多金钱之外的价值。而为钱创业者们大部分实现的是社会财富的转移而不是创造，无非是从企业 A 转移到企业 B，从企业家 C 转移到企业家 D，难有对社会价值总和的影响。

创业不是跟风，也不是投机，借着“双创”大力推行的良好氛围，中国应该成为更多梦想家们展示创造力的大舞台。千百万大众共同构思、共同创新、共同实践，把梦想作为创业的驱动力，安心向下，踏实创业，必能带来经济的繁荣和社会的进步。

3 2017年四川行测真题卷

第一部分 常识判断

1. 以下行为属于行政诉讼受理范围的是（ ）
 - A. 行政机关对其工作人员的奖惩决定
 - B. 行政机关对其工作人员的任免决定
 - C. 行政机关对其工作人员的离退休决定
 - D. 行政机关吊销其工作人员参股企业的营业执照
2. 王某（14周岁），蔡某（18周岁），共同策划实施了一起入室抢劫，抢劫过程中，二人将反抗的户主杀害，下列说法正确的是（ ）
 - A. 蔡某不能获得指定辩护
 - B. 王某和蔡某构成了共同犯罪
 - C. 抢劫罪和故意杀人罪数罪并罚
 - D. 王某是未成年人，不需要承担刑事责任
3. 下列关于古诗名句的说法，错误的是（ ）
 - A. “独在异乡为异客，每逢佳节倍思亲”中的“佳节”指的是中秋
 - B. “但使龙城飞将在，不教胡马度阴山”中的“飞将”指的是李广
 - C. “窗含西岭千秋雪，门泊东吴万里船”中的“西岭”指的是岷山
 - D. “忽如一夜春风来，千树万树梨花开”中的“梨花”指的是雪花
4. 下列关于黄河的说法不正确的是（ ）
 - A. 共流经我国九个省区
 - B. 是世界上含沙量最高的河流
 - C. 发源于青海省，最后流入黄海
 - D. 上游、中游、下游各有其独特的环境特征
5. 下列中国历史上的变法与其内容对应不正确的是（ ）
 - A. 商鞅变法——实行郡县制
 - B. 王安石变法——颁行保甲法
 - C. 张居正变法——推行青苗法
 - D. 戊戌变法——开办京师大学堂
6. 在农业生产中若长期使用某种杀虫剂，会导致害虫的抗药性增强、杀虫效果减弱，其最主要原因是（ ）
 - A. 害虫体内积累的杀虫剂增强了自身的抗药性
 - B. 杀虫剂造成害虫基因突变，产生了抗药性基因
 - C. 抗药性强的害虫所产生的后代一定具有很强的抗药性
 - D. 杀虫剂对害虫有选择作用，使抗药性强的害虫被保留下来
7. 超声波技术用途非常广泛，它使用类似于声波，但某项参数大于普通声波的振动技术来工作，所以称为超声波，这个大于普通声波的参数是（ ）
 - A. 波长
 - B. 振幅
 - C. 传播速度
 - D. 频率
8. 下列关于食品药品监管说法正确的是（ ）
 - A. 获得“驰名商标”称号，且连续5年产品抽检合格的食品生产厂家，其所生产的食品可获免检资格
 - B. 药品包装上印有“OTC”字样的，表明该药品为处方药
 - C. 保健品、药品均需国家食品药品监督管理总局批准注册

D. 个人姓名不可注册为食品商标

9. 从生物学角度来讲, 下列骨髓配对移植成功概率最大的是 ()

选项	捐髓者	受捐者	备注
A	父亲	女儿	两人血型相同
B	丈夫	妻子	共同生活近 50 年, 感情深厚, 生活习惯一致
C	哥哥	妹妹	同父同母兄妹, 年龄相差 12 岁
D	孙子	爷爷	爷爷曾为孙子捐出血液和部分肝脏

10. 下列语句与哲学原理对应错误的是 ()

- A. 横切牛羊竖切猪, 要省力气看纹路——办事要按客观规律
- B. 工欲善其事, 必先利其器——主观能动性发挥受客观条件限制
- C. 破屋更遭连夜雨, 漏船又遇打头风——事物发展是前进性与曲折性的统一
- D. 不登高山, 不知天之高也; 不临深渊, 不知地之厚也——实践是真理来源

第二部分 言语理解与表达

11. 每个民族都有自己的优秀品格, 同样每个民族都有自己的历史痼疾。健康而优秀的民族心理必然善于扬长避短, 精于_____, 长于“取其精华去其糟粕”。

填入画横线部分最恰当的一项是 ()

- A. 去芜存菁
- B. 弃旧图新
- C. 激浊扬清
- D. 拨乱反正

12. 怀有爱心的人必定真诚而大度, 如果需要, 他会_____地展示自己的灵魂, 捧出自己的心, 爱的价值难以用金钱衡量, 心藏龌龊的人甩出的大把金币, 有时还不如贫穷的善者脸上的一丝微笑。

填入画横线部分最恰当的一项是 ()

- A. 推心置腹
- B. 开诚布公
- C. 毫不犹豫
- D. 光明磊落

13. 南宋诗人周紫芝在《竹坡诗话》中记载: 李氏家族有一人为官廉洁, 公私分明。一天, 他正在烛光下办理公务, 有人送来一封家书。他当即灭掉公家的蜡烛, 点燃自家的蜡烛, 因为在他看来, 公与私之间绝对不容混淆, 这在今天看来有点_____, 但所折射的公与私的严格区分仍然值得深思。

填入画横线部分最恰当的一项是 ()

- A. 自命清高
- B. 小题大做
- C. 沽名钓誉
- D. 矫枉过正

14. 好的作品会对一些人的人产生重大和深远的影响。它能让人变得更加坚强, 让人生目标更加_____, 曾几何时, 一部《钢铁是怎样炼成的》, 一部《平凡的世界》, 成为许多青年人精神世界的“圣经”, 成为他们一生中经受_____, 战胜苦难的强大精神动力。

依次填入画横线部分最恰当的一项是 ()

- A. 笃定 磨难
- B. 确定 波折
- C. 淡定 磨炼
- D. 镇定 挫折

15. 读完一本可心的书, 就如同_____的河床有了清流的浸润, 如同精神的荒原有了生命的_____, 人的精神状态立刻有了不同, 颇有点“腹中诗书气自华”的感受, 而查世事, 思万物也有了些深度和张力。

依次填入画横线部分最恰当的一项是 ()

- A. 干燥 萌生
- B. 干旱 觉醒
- C. 干涸 萌动
- D. 干裂 苏醒

16. 3D. 电视是一种能够_____实际景物的真实空间关系的新型电视, 对观众而言, 延伸于屏幕的景物具有_____的震撼效果。

依次填入画横线部分最恰当的一项是（ ）

- A. 模仿 近在咫尺 B. 展示 活灵活现
C. 展现 栩栩如生 D. 模拟 触手可及

17. 纵观现代化历程，中国改革一直是在争论中推进的，之所以能够顺利推进并取得举世瞩目的成就，就是因为主流意识形态具有强大的_____力量，总是能够超越左与右，促使社会形成新的共识。而主流意识形态有这样强大的力量，恰恰是从不同社会思潮中汲取智慧，而不是_____的“任性”。

依次填入画横线部分最恰当的一项是（ ）

- A. 吸收 泥古不化 B. 平衡 剑走偏锋
C. 整合 刚愎自用 D. 柔化 恃才放旷

18. 用中国品牌讲中国故事是一种艺术，必须善讲会讲。既讲品牌成长的经历、也讲品牌_____的精神，既讲大故事、也讲小故事，既讲老故事、也讲新故事，把中国品牌的故事讲得_____，使中国品牌成为当代中国形象的闪亮名片。

依次填入画横线部分最恰当的一项是（ ）

- A. 彰显 娓娓动听 B. 包含 绘声绘色
C. 展示 栩栩如生 D. 蕴含 惟妙惟肖

19. 一个人从小就生活在平等、尊重的环境中，长大了就会更平等地对待人和事，反之，从小就生活在_____的训导或者宠物般的溺爱中，就很难养成健康的人格，容易变得_____，甚至容易走极端。

依次填入画横线部分最恰当的一项是（ ）

- A. 盛气凌人 平庸 B. 吹毛求疵 固执
C. 唠唠叨叨 偏激 D. 居高临下 偏执

20. 虽然没有法律强制力作支撑的道德是虚妄的，但是法律在面对道德问题时，也总是会显得_____，这种力不从心的根本原因还是由于法律的外在属性与道德的内在属性之间的矛盾，社会秩序的大厦是法理与道德共同支撑的，如果道德不立，人心善变，法律终会_____。

依次填入画横线部分最恰当的一项是（ ）

- A. 相形见绌 回天乏力 B. 爱莫能助 孤立无援
C. 左支右绌 独木难支 D. 捉襟见肘 力所不逮

21. 如何看待各项指标的起落调整？如何领会稳增长、调结构、促改革的辩证用意？如何贯彻稳中求进的调控指引？_____中国经济的复杂问题，需要_____的专业剖析，更离不开格局宏大的战略思考。

依次填入画横线部分最恰当的一项是（ ）

- A. 破解 具体而微 B. 反观 一丝不苟
C. 解读 返观内视 D. 反思 条分缕析

22. 研究者称，可爱的人真诚善良，平和亲切，他们会让对方放下_____，更愿意与之交朋友，适当地在家人和朋友面前学句夸张的“可爱语”，偶尔穿一次可爱的衣服，能让人显得有童趣，但如果一味地脱离年龄，刻意装可爱，只会是_____。

依次填入画横线部分最恰当的一项是（ ）

- A. 骄傲 事倍功半 B. 自卑 削足适履
C. 成见 东施效颦 D. 戒备 适得其反

23. 人格魅力是什么？就是人的信仰、气质、品德、才智等汇聚而成的感召力量，管理学者称之为_____的号召力，凝心聚力的吸引力，_____的感染力。

依次填入画横线部分最恰当的一项是（ ）

- A. 说一不二 耳濡目染 B. 一言九鼎 润物无声
C. 一呼百应 潜移默化 D. 不令而行 春风化雨

24. 生命之所以美丽，正在于它有血有肉的过程中，始终高扬着一个美丽的主题，美丽之所以_____，正在于生命的底蕴中，始终流动着人类对世界最_____的良知与渴望。

依次填入画横线部分最恰当的一项是（ ）

- A. 恒久 基本 B. 永恒 纯粹
C. 迷人 坚定 D. 可贵 率真

25 到近几年，一度_____的神经网络算法开始复兴。这个算法在一定程度上_____了生物神经分层的构架，不仅能够不断调整优化各项行动的逻辑权重，还能够进行结果的_____，把结果重新作为输入进行训练。

依次填入画横线部分最恰当的一项是（ ）

- A. 沉默 模仿 回馈 B. 沉沦 仿真 回应
C. 沉寂 模拟 反馈 D. 沉凝 仿照 反应

26. 索尔仁尼琴的终极关怀，与托尔斯泰和陀思妥耶夫斯基_____，他们共同勾勒出俄罗斯文学的近现代_____。在某种意义上，索氏就是两位先贤的_____；不仅同样叙写反抗黑暗和寻找光明的先知话语，而且擅长文学叙事。

依次填入画横线部分最恰当的一项是（ ）

- A. 如出一辙 画卷 翻版 B. 一脉相承 轮廓 传人
C. 异曲同工 轨迹 回响 D. 不谋而合 图景 后学

27. 雄企鹅这样煞费苦心地用石子来讨好雌企鹅绝非小题大做，而是由于筑巢的石子对它们有_____的魅力。有好巢才能吸引好配偶，筑巢最好的雄企鹅，引起异性注意的机会最大。别致的巢能够_____雄企鹅作为配偶的价值，确保配偶的珍贵投资——企鹅蛋不被冰雪冻坏，所以雄企鹅要_____地通过建造新居来打败竞争对手。

依次填入画横线部分最恰当的一项是（ ）

- A. 不可名状 体现 千方百计
B. 无与伦比 昭示 不惜血本
C. 不可抗拒 彰显 不遗余力
D. 无以复加 代表 千难万险

28. 两千多年前，孔子在竹简上写下“君子和而不同”，这不仅成为中华文化的内在品格，也代表着中国对世界秩序的理想。不同国家、民族的思想文化各有千秋。文化的共存不是让一种文明普适化，而是要寻求大多数文明的共同点和公约数。毕竟，只有每一颗星星都发光，人类文明的星空才会更加璀璨。

这段文字主要说的是（ ）

- A. 中华文化对世界的贡献
B. 孔子对中华文化的影响
C. 古人对世界秩序的理想
D. 文化共存的实现途径

29. 暖春三月，当你在华南植物园的姜园中漫步时，会看到一种头戴“高帽”的奇特植物，每当微风吹拂，就像是翩翩起舞的“美少女”，甚是惹人爱怜，“她”就是益智，属于姜科，为多年生草本植物，高1~3m；茎丛生；总状花序在花蕾时全部包藏于酷似“高帽”状的总苞片中；花冠白色，唇瓣粉白色而中部具粉红色脉纹，由于花果均有很高的观赏性，益智是优良园林观赏植物。

这段文字介绍益智的（ ）

- A. 植物种属 B. 观赏价值 C. 生长习性 D. 生存环境

30. 新兴城市或城市新区犹如一张白纸，摩天楼能凸显新城的现代化，体现出生机与繁华，但是，每个城市都有独特的格调，尤其是在老城区特别是历史文化一级众多的街区，摩天楼必须服从周围的环境，应不强调个性，不突出体量、不破坏景观的连续性与历史的均衡感，如上海金茂大厦的密檐式塔造型，台北 101 大厦的朱姐造型等地域元素的使用，就是为了体现建筑与当地文化之间强有力的联系。

这段文字意在强调摩天楼建设（ ）

- A. 需要符合城市的文化气质
- B. 不能脱离城市的整体规划
- C. 必须立足于配套城市功能
- D. 不能忽视舒适性和安全性

31. 打开微信朋友圈，能看到很多年轻父母拍照“晒娃”，看得多了，难免让人产生一种错觉，似乎有些父母把孩子“宠物化”了。事实上，不少家长对孩子的确有这种“宠物化”倾向，开心时会和孩子玩一玩逗一逗，温言细语，心情不好时就态度粗暴，拿孩子撒气，而在孩子成长过程中，当絮叨无效或“婆婆妈妈”令孩子逆反之后，一些“懒得废话”的家长就会诉诸暴力。

这段文字反映出一些年轻家长存在的主要问题是（ ）

- A. 缺乏信息安全意识
- B. 心智显得不够成熟
- C. 利用孩子满足虚荣心
- D. 忽略孩子的心理需求

32. 一段中国的箏箫名曲，多有雨声中的幽远；一幅中国的山水古画，多有雨声中的迷蒙一大堆中国古代的哲学，其所谓“自足”“求诸己”“尽其在我”一类的命题，作为几千年文明的意旨内核和情感基点，当然是事出有因，_____，它们也许都来自作者们在雨声中的独处。

填入画横线部分最恰当的一项是（ ）

- A. 雨声会让人心中安宁静谧
- B. 这是中国文化独有的意趣
- C. 所谓情由境生和感由事发
- D. 就好像“小楼一夜听春雨”

33. 在层出不穷的网络热词中，我们可以清晰地找到各种民意的身影，在某一网络热词产生之后，网民常常会模仿热词的形式，创造出一个小型的系统，如在“被就业”产生之后，网民又创造出了“被幸福”等结构相似的“被”字系列，新词的不断涌现，使得这股“被 XX”之风长盛不衰，也使得民众对于现实的无力、焦灼等心理状态被有效地传达到上层舆论系统。

最适合做这段文字标题的是（ ）

- A. 网络热词中的民意
- B. 长盛不衰的“被”字风
- C. 网民无穷的创造力
- D. 层出不穷的网络新词

34. ①每一类型的法制本身都经历适应社会发展或不适应社会发展的动态变化

②历史地看，奴隶制法、资本主义法、社会主义法因生产力的发展前后相继地依次更迭

③这种变化或表现为由盛入衰，或表现为弃旧扬新，没有永恒不变的法

④这一阶段的法制在总体上保持旧法体系的同时，不断地“部分变质”，增生着新法的因素，这类型法的因素不断增多

⑤在法的这种动态发展过程中，特别值得注意的是，法的“部分质变”贯穿于法的发展过程中，激励法的前承后继，不断完善

⑥在一种类型的法与取而代之的另一种类型的法之间，存在着一个为时漫长的过渡阶段

将以上 6 个句子重新排列，语序正确的是（ ）

- A. ①③②⑤⑥④
- B. ②①③⑥④⑤
- C. ①②⑥④⑤③
- D. ②⑥①③④⑤

35. ①然而哲学家罗素对康德不无讽刺地说，这只是一个出生在柯尼斯堡（康德的家乡）平原的人的想法，一个出生在阿尔卑斯山区的人就不会这样想

②牛顿和康德都持有一种绝对空间的观念

③但这些事物与空间无关，对空间不产生影响，其实这是一种绝对的虚空观

④牛顿说，绝对的空间，它与一切外在事物无关，它处处均匀，永不迁移；康德说，我们可以设想一种绝对虚空，里面空无一物

⑤我们的常识也支持这种看法，即空间是空的，可以在里面装各种事物，或者说空间像一个舞台，让各种事物在上面亮相表演

⑥从空间的角度看首都，是一件很有意思的事，但在此之前，需要先讨论空间的观念

将上述 6 个句子重新排列，语序正确的是（ ）

A. ⑥④①②⑤③

B. ⑥②⑤③④①

C. ⑥②④①③⑤

D. ④②⑤⑥①③

36. “选举”一词早已见诸古代文献，古人常用以描述人才选拔入仕，其含义完全不同于现代。中国古代选举制度，经历了从西汉到晚清，从察举到科举两千多年的发展，使得政治权利、经济财富和社会地位与名望主要社会资源的分配，得以是通过选拔来实现。中国社会从而由西周至春秋的“世袭社会”转变为一种“选举社会”。即从一种封闭的等级社会转变为一种流动的等级社会。宋以后，“士大夫多出草野”，统治阶级的再生产发生了转变，对个人和家族谋求上升的途径选择产生深刻影响，用“选举社会”的概念来解释从秦汉到晚清的社会结构的演变，比其他解释这一历史时期的概念，如侧重整治上层的“官僚帝国社会”的概念，更能显示中国历史文明的特色。

下列最适合做这段文字关键词的是（ ）

A. 选举 选举社会 社会结构

B. 选举 人才选拔 统治阶级

C. 选举制度 世袭社会 选举社会

D. 选举制度 社会资源分配 等级社会

37. 医生诊疗费用的低下与药品加成的过高，共同形成了以药养医的现状。它保证了公共医院在数据上的收支平衡，却导致了“大处方”“新特贵药”“过度医疗”等现象的出现，让医生和患者都容易成为扭结的医疗制度及其为轴的社会冲突的代偿者。前一段时间，患者魏则西的去世和医生陈仲伟的遇害先后引起舆论大潮，两件新闻被附会了各种情绪，最终_____。其所展现出的，正是医患双输局面长久酝酿出的情绪瞬间决堤的效果。

填入画横线部分最恰当的一项是（ ）

A. 导致医患关系的紧张和对立局面

B. 形成了喧闹和群体舆论冲突事件

C. 异化成为群体对群体的谴责和喊话

D. 造成了医患之间矛盾的形成与扩散

38. 文字概率相对于数字概率具有模糊性、非概率运算性和语义特征等特征。数字概率是一种更精确的风险表达方式，在风险沟通时人们对其能比较客观地传递、解释和利用。文字概率和数字概率在进化历史上出现时间不同，隶属的发展领域（语言和数学）也不同，所以其特征上的差异可能不至于以上所述。例如文字概率的非概率运算性表明，人们传达或接受文字概率表征的信息时不会按照概率规则进行审慎地运算，文字概率更多地引发直觉式思考，数字概率更多地引发分析式思考。

对这段文字概括最恰当的一项是（ ）

- A. 文字概率与数字概率分属不同领域
- B. 数字概率其实优于文字概率
- C. 文字概率与数字概率不同
- D. 数字概率与文字概率的思考方式不同

39. 据悉, 第四代光源的 LED 灯溢出的蓝光可能对视网膜造成损害, 甚至导致失明。事实上, 由于大多数光源发出的白光是通过蓝光 LED 芯片加上黄色荧光粉混合而成的, 所以蓝光能量的比例高于其他。当前, 我国在光生物安全性鉴定上主要参考《灯和灯系统的光生物安全性》国家推荐标准, 其标准的限值基于成人的实验数据。如果婴幼儿长时间直视 LED 光源, 则会伤害视网膜。

这段文字意在强调 ()

- A. LED 灯对健康的潜在危害
- B. 制定光生物安全新标准的必要性
- C. 有必要补充光生物安全性的实验数据
- D. 应督促 LED 灯企业严格执行国家推荐标准

40. 传统经验医学正遭遇“不确定性”技术瓶颈, 造成医疗资源浪费和医疗效果不尽如人意, 相比传统诊疗手段, 精准医学具有精准性和便捷性, 一方面通过基因测序可以找出疾病相关的突变基因, 从而迅速确定对症药物, 减少弯路, 提高疗效, 同时还能够在患者遗传背景的基础上降低药物副作用; 另一方面, 精准医学检测所需的组织样本较少, 可以减少诊断过程中对患者身体的损伤。可以预见, 精准医学技术的出现, 将显著改善疾病、尤其是癌症患者的诊疗体验和诊疗效果。

根据以上文字, 对精准医学理解正确的是 ()

- A. 能减少药物使用, 提高医疗效果, 增强医疗的确定性
- B. 具有精准性和便捷性, 因此拥有传统经验医学无可比拟的优越性
- C. 减少对患者的损伤和降低副作用, 是其改善诊疗体验和效果的关键
- D. 可减少医源性损害, 降低医疗资源耗费, 获得优化的病患治疗效益

根据下面的材料回答 41~45 题。

①心理学领域有个术语叫做“羊群效应”, 专门用来形容人类的从众心理。羊群有个习性, 那就是跟着头羊走, 无论前面那个大坑有多宽, 只要有一头羊率先跳过去了, 后面的羊便会跟着它往前跳。羊群效应一直是心理学研究的热点之一, 社交网站的出现提供了一个绝佳的实验场, 研究者们可以通过大数据的研究方法排除个案的影响。

②众所周知, 在心理学领域单独研究某件个案是不科学的。就拿羊群效应来说, 不可能把网民们对某件产品的评价单独拿出来研究, 因为这件产品有可能确实质量很好。为了避免这个问题, 美国麻省理工学院附属的斯隆商学院的希南·阿拉尔博士和他的同事们决定借鉴自然科学的研究方法, 进行一次大规模随机对照实验。他们和一家社交网站合作, 花了 5 个多月的时间对这家网站所有的网友评论做了一次实验。

③这是一家综合性社交网站, 先由网友上传文章, 再由其他网友做出评论。评论的内容是可以被打分的, 要么点赞 (大拇指朝上), 要么给差评 (大拇指朝下)。点赞的数量减去差评的数量就是每段评论的最终得分。研究人员和站方达成协议, 事先为这 5 个月当中出现的 101281 篇评论进行打分。也就是说, 每出现一篇评论, 都立即由机器自动生成一个网友评论。当然, 到底是点赞还是差评则是随机决定的, 和帖子的内容无关。另外还有一定数量的评论不事先打分, 作为对照组。

④结果显示, 社交网站上的羊群效应还是相当明显的。研究人员一共收集到 30.8515 万次网友打分, 发现事先被点赞的评论最终得正分的可能性比对照组高出 32%, 最终的得分也比平均值高了 25%。相比之下, 事先被点差评的评论则不受影响, 和对照组没有区别。

⑤“如果机器给出的是负面评价，后面往往会有很多人试图进行修正，最终导致负面评价对一条评论的总得分没有影响。”阿拉尔博士评价说，“正面评价则没有这种情况，说明人们对于不符合自己意见的正面评价和负面评价的态度是不一样的，对于前者比较宽容。”

⑥牛津大学互联网学院的伯尔尼·霍根教授认同这一判断，他认为正面评价往往是一种广告，做出正面评价的人是让更多的网友喜欢某件东西，而负面评价则是一种个人化的情绪发泄，这就是为什么一般社交网站点赞比差评多的原因所在。

⑦另外，评论的内容对于实验结果也有影响。文化、社会、政治和商业类的新闻评论容易受到羊群效应的影响，普遍新闻和经济新闻则影响较小，这大概是因为前者比较主观，受个人观点影响大，容易走极端，而后者属于事实类新闻，比前者要客观得多，不太受个人因素的影响。

41. 下列文字最适合放在文中的位置是（ ）

值得一提的是，随机出现的点赞和差评的总数并不是一样的，因为在通常情况下，这家网站点赞的数量比差评要多。于是研究人员根据以往的情况，设定了随机点赞和差评的比例。从这个细节可以看出，研究人员对于实验材料的选取是非常细心的，尽量做到不影响网友的直观感觉。

- A. ②和③之间
- B. ③和④之间
- C. ④和⑤之间
- D. ⑤和⑥之间

42. 关于“负面评价”，下列说法与原文不符的是（ ）

- A. 该社交网站中的负面评价比正面评价少
- B. 负面评价往往带有个人的主观情绪色彩
- C. 人们通常并不介意负面评价是否与自己的观点相符
- D. 网友的修正意见会最终抵消机器所给出的负面评价

43. 下列说法与原文不符的是（ ）

- A. 正面评价往往会起到广告宣传的作用
- B. 事实类新闻更不易受羊群效应的影响
- C. 我们很难通过单独研究某件个案获得科学的结论
- D. 阿拉尔博士在社交网站的实验属于自然科学研究

44. 这段文字意在说明（ ）

- A. 网络消费者的从众心理
- B. 羊群效应在网络中的表现
- C. 大数据在心理研究中的应用
- D. 社交网络中网友评价的误区

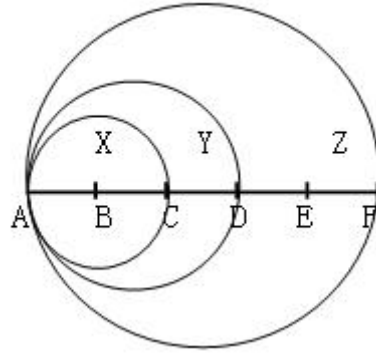
45. 实验者观察到下列四个现象，哪一现象能在最大程度上体现阿拉尔博士在文中提到的“修正”过程（ ）

- A. 关于总统大选新闻的评论引发口水大战
- B. 某知名品牌的新产品发布会的评价反响寥寥
- C. 关于股市走向分析的评价得到网友一致认可
- D. 网友对某场球赛胜负预测的评论量“一边倒”态势

第三部分 数量关系

在这部分试题中，每道题呈现一段表述数字关系的文字，要求你迅速、准确的计算出答案。

46. 下图为以 AC、AD 和 AF 为直径画成的三个圆形，已知 AB、BC、CD、DE 和 EF 之间的距离彼此相等，问小圆 X、弯月 Y 以及弯月 Z 三部分的面积之比（ ）



- A. 4: 5: 16 B. 4: 5: 14
C. 4: 7: 12 D. 4: 3: 10

47. 甲用 1000 万购买了一件艺术品并卖出，获利为买进价格的 10%，随后甲用艺术品卖出价格的 90% 买入一件珠宝，并以珠宝买进价格的九折卖出，若上述交易中的其他费用忽略不计，则甲最终（ ）

- A. 盈亏平衡 B. 盈利 1 万
C. 盈利 9 万 D. 盈利 1.1 万

48. 甲乙两队举行智力抢答比赛，两队平均得分为 92 分，其中甲队平均得分为 88 分，乙队平均得分为 94 分，则甲乙两队人数之和可能是（ ）

- A. 20 B. 21 C. 23 D. 25

49. 农户老张的田里有一堵 16 米长的围墙。老张想利用现有的围墙作为其中的一边，修建一个长和宽均为整数米的长方形养鸡场。如老张手头的材料最多只能新修 41 米长的围墙，则他能围出的长方形养鸡场面积最大为多少平方米（ ）

- A. 195 B. 204 C. 210 D. 256

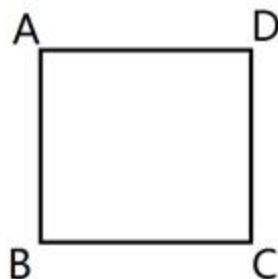
50. 甲车从 A. 地，乙车从 B. 地同时出发匀速相向行驶，第一次相遇距离 A. 地 100 千米。两车继续前进到达对方起点后立即以原速度返回，在距离 A. 地 80 千米的位置第二次相遇。则 A. B. 两地相距多少千米（ ）

- A. 170 B. 180 C. 190 D. 200

51. 某兴趣组有男女生各 5 名，他们都准备了表演节目。现在需要选出 4 名学生各自表演 1 个节目，这 4 人中既要有男生、也要有女生，且不能由男生连续表演节目。那么，不同的节目安排有多少种（ ）

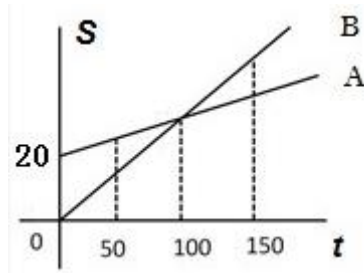
- A. 3600 B. 3000 C. 2400 D. 1200

52. 如右图，正方形的迷你轨道边长为 1 米，1 号电子机器人从点 A 以 1 米/秒的速度顺时针绕轨道移动，2 号电子机器人从点 A 以 3 米/秒的速度逆时针绕轨道移动，则它们的第 2017 次相遇在（ ）



- A. 点 A B. 点 C C. 点 B D. 点 D

53. 某电信公司推出两种手机收费方式：A 种方式是月租 20 元，B 种方式是月租 0 元。一个月的本地网内通话时间 t (分钟) 与电话费 S (元) 的函数关系如图所示，当通话 150 分钟时，这两种方式的电话费相差（ ）



- A. 10 元 B. 15 元 C. 20 元 D. 30 元

54. 某饮料店有纯果汁（即浓度为 100%）10 千克，浓度为 30%的浓缩还原果汁 20 千克。若取纯果汁、浓缩还原果汁各 10 千克倒入 10 千克纯净水中，再倒入 10 千克的浓缩还原果汁，则得到的果汁浓度为（ ）

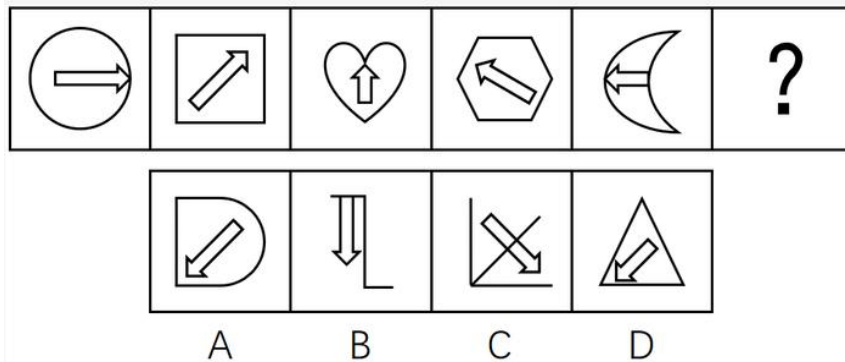
- A. 40% B. 37.5% C. 35% D. 30%

55. 小王、小张、小李 3 人进行了多轮比赛，比赛按名次高低计分，得分均为正整数。多轮比赛结束后，小王得 22 分，小张和小李各得 9 分且小张在其中一轮比赛中获第一名。那么，三人共进行了多少轮比赛（ ）


- A. 2 B. 3 C. 4 D. 5

第四部分 判断推理

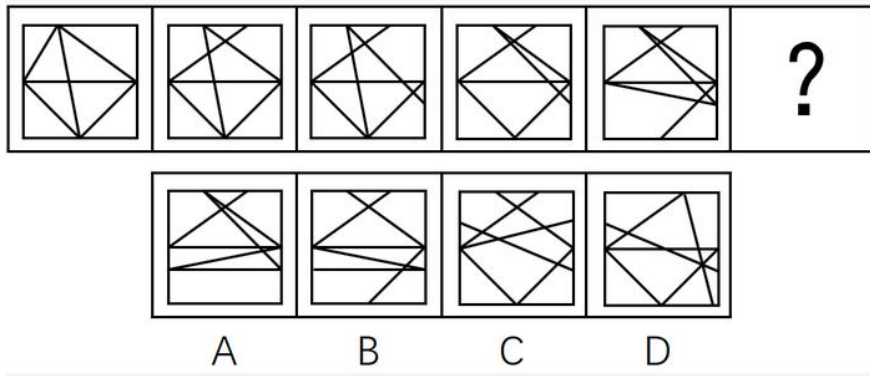
56. 从所给的四个选项中选择最合适的一个填入问号处，使之呈现一定的规律（ ）




57. 从所给的四个选项中选择最合适的一个填入问号处，使之呈现一定的规律（ ）



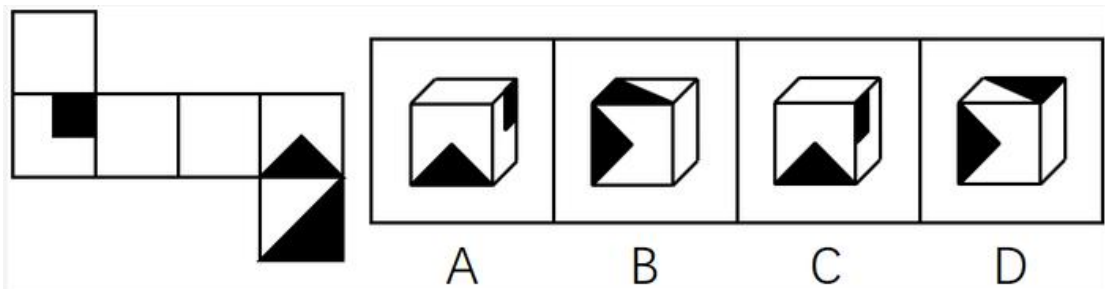
58. 从所给的四个选项中选择最合适的一个填入问号处，使之呈现一定的规律（ ）



59. 从所给的四个选项中选择最合适的一个填入问号处，使之呈现一定的规律（ ）



60. 左边给定的是纸盒的外表面，下列能由它折叠而成的是（ ）



61. 供给侧改革就是从提高供给质量出发，用改革的办法推进结构调整，矫正要素配置扭曲，扩大有效供给，提高供给结构对需求变化的适应性和灵活性，提高全要素（劳动，土地，资本，创新）生存率，更好地满足广大人民群众的需求，促进经济社会持续健康发展。

根据上述定义，下列不符合供给侧改革要求的是（ ）

- A. 见面企业税负，提高企业盈利
- B. 增大政府投资，建设各种基础设施
- C. 推进产学研相结合，为企业提供技术支持
- D. 改革户籍制，促进劳动力跨地区，跨部门流动

62. 感情管理是指管理者通过自身的形象、行为、情感来调动职工积极性的一种管理办法。

根据以上定义，下列不属于感情管理的是（ ）

- A. 车间主任从来回避脏活累活，总是带头干

- B. 尽管李经理喜欢抽烟，但他从来不在员工面前抽
- C. 每逢节假日，公司领导都会给员工发放节日慰问品
- D. 部门经理与员工一起聊天、吃饭让大家畅所欲言

63. 正强化又称“阳性强化”，是指个体做出某种行为或反映随后或同时得到某种奖励，从而使行为或反映强度、概率或速度增加的过程，也可以说，正强化是通过增加一个喜欢的刺激以提高事件发生的概率。

根据以上定义，下列属于正强化的是（ ）

- A. 小明觉得电视上宇航员叔叔很酷，下决心好好学习，长大了也要上太空
- B. 老师激励学生好好复习考试，承诺数学 95 分以上的同学可以不做假期作业
- C. 某中学规定上课玩手机的同学，手机一律没收，规定执行后，几乎没人敢玩手机了
- D. 父亲为了鼓励儿子努力学习，承诺儿子如果他能考进全班前三名，就带他出国旅游

64. “城乡污染转移”是指在经济发展过程中，组织或个人将造成环境污染的设备、工艺、技术、产品以及其他有形或无形的污染物质，由城市转移至农村的行为，“城乡污染转移”已经成为农村环境形势日益严峻的主要原因之一。

根据以上定义，下列不属于“城乡污染转移”的是（ ）

- A. 某市水泥厂每年有 10 万吨未经处理的工业废水流经附近乡村的河流
- B. 某镇的耕地接受城区搬迁过来的工厂产生的重金属残渣
- C. 为打造绿色文明城市形象，某市将重污染的钢铁厂迁至附近乡镇
- D. 某市为保证城区用水修建水库，致使下游许多村庄农田灌溉用水不足

65. C2C 是指消费者（Consumer）与消费者（Consumer）之间以信息技术为手段，以商品交换为中心的商务活动。

根据上述定义，下列活动属于 C2C 的是（ ）

- A. 某小区指出“旧物置换”服务，业主可将家中不用的物品放到门卫室，与其他业主置换
- B. 大学生小李以 2000 元的价格在网上拍卖了自己的旧笔记本电脑，没想到买家居然是自己的同班同学小方
- C. 每到毕业季，学校广场上的跳蚤市场都异常火爆，“甩卖”的学长学姐和“淘宝”的学弟学妹都各取所需，满载而归
- D. 小梅逛街时在某品牌服装专卖店相中了一款风衣，便记下了衣服吊牌上的信息，回来后从该品牌的官方网站上买了一件，省了不少钱

66. 沉默行为是指面对管理制度或生产活动等方面的隐患，为了避免人际冲突，害怕遭受打击报复或维护自身脸面等原因而有意保留自己想法的行为。

根据上述定义，下列属于沉默行为的是（ ）

- A. 小王看到同事小赵的计划书有个明显的错误而没有指出来，在接下来与小赵的评比中小王的计划方案获得通过
- B. 老张意识到小明最近老是上班时间唱歌已经影响到了别人工作，但考虑到他是自己的徒弟，老张不但不向领导报告，还和其他抱怨的同事争辩
- C. 尽管小马就如何提高顾客对公司服务的满意度有见解，由于前面发言的同事已经基本谈到该问题，所以小马也就没再接着说
- D. 小刘尽管在新产品开发报告会上有想法，但考虑到该想法尚不成熟，贸然提出可能会影响工作进度，因此在会上也就没发表意见

67. 正向思维，是指大脑在处理问题时沿着习惯性，常规性的方向展开思维，并在一定范围内按照有一定

顺序的、可预测的、程式化的方向进行思考。

根据上述定义，下列没有运用到正向思维的是（ ）

- A. 王侯将相宁有种乎
- B. 种瓜得瓜，种豆得豆
- C. 朝霞不出门，晚霞行千里
- D. 冬天来了，春天还会远吗

68. 逆向激励是指政策设计初衷与实际执行效果呈现“事与愿违”的现象，逆向激励效应一旦被激发，不仅会导致现状恶化，损害政策制定者的信用，还将进一步强化相关负面后果，最终造成恶性循环。

根据上述定义，下列不属于逆向激励的是（ ）

A. 为了扭转治安问题，上世纪美国颁布了禁酒令，然而酒的销量不跌反升，而且由此又引发了新的犯罪问题

B. 宋神宗为了整肃吏治、严明司法审判，下令凡是能找到错判事实的官员官升一级，结果这项举措却成了新旧官员相互攻讦的武器

C. 为了更有利孩子成长而提供优裕的物质条件，然而却让其养成了好逸恶劳的恶习

D. 老师在课堂上通过有意对害羞学生提问而帮助其克服容易紧张的问题

69. 职业倦怠是指个体不能顺利应对工作压力时的一种极端反映，是个体在长时期压力体验下而产生的情感、态度和行为的衰竭状态。

根据以上定义，下列不属于职业倦怠的是（ ）

A. 某省队运动员小吴刻苦训练多年，但今年以来比赛都没有获奖，斗志丧失，训练时总是无精打采

B. 小强大学毕业被父母安排到家族企业上班，没过几天他就心生倦意，迟到早退，找各种理由不去公司

C. 李老师多年带高三学生，为提高升学率殚精竭虑，临近高考经常失眠，容易头疼，对学生动不动就大加指责

D. 王护士在医院工作多年，经常加班，临近年终又要应对各种考核，没有精力和同事来往，对病人也没有以前热情

70. 拟态，是指某些生物在进化过程中具有与另一种生物或周围自然界物体的相似的形态，这种相似性很高，几乎难以分辨，可以保护某一物种或两个物种。

根据上述定义，下列选项属于拟态的是（ ）

A. 海豚、企鹅和带鱼虽然分别属于鲸类、鸟类和鱼类，但为了适应海洋生活，都进化出了流线形的身体

B. 北极熊生活在白雪皑皑的北极，为了掩护自己捕食时不被猎物过早发现，皮毛逐渐变成与周围环境相似的白色

C. 大鲵，俗名娃娃鱼，已在地球上生活了数亿年，其受到刺激时的叫声酷似人类婴儿哭声，让人听到不忍心伤害，对一些猎食动物也有威慑作用

D. 杜鹃会将与宿主卵酷似的卵产在宿主巢内，其雏鸟在孵出后不久就会将宿主雏鸟挤出巢外，独享体型只有自己一半大小的宿主父母的喂食

71. 猪：猪肝

A. 鱼：鱼鳔

B. 马：马蹄

C. 虫：虫草

D. 虾：虾须

72. 词语：句子

A. 概念：判断

B. 定义：定理

C. 书本：书籍

D. 山谷：山脉

73. 处之泰然：镇定
 A. 大义凛然：壮烈
 B. 虚怀若谷：谦虚
 C. 杳如黄鹤：消失
 D. 似水流年：时间
74. 梅：孤傲：品质
 A. 火：热情：性格
 B. 月饼：团圆：食品
 C. 鸽：和平：象征
 D. 红灯：禁行：信息
75. 报：新闻：时效
 A. 饭店：食物：口感
 B. 电视：广告：效果
 C. 车站：汽车：速度
 D. 展会：照片：像素
76. 储存：光盘：硬盘
 A. 晾晒：绳索：衣架
 B. 吃饭：钢叉：锅铲
 C. 书写：签字笔：毛笔
 D. 游泳：泳圈：泳衣
77. 水 对于 () 相当于 () 对于 光合作用
 A. 生命 二氧化碳
 B. 水蒸气 阳光
 C. 空气 氧气
 D. 灌溉 土壤
78. () 对于 针灸 相当于 理财 对于 ()
 A. 中药 消费
 B. 中医 银行
 C. 治疗 储蓄
 D. 推拿 利息
79. () 对于 规划 对于 鸿沟 对于 ()
 A. 城市 协调
 B. 计划 河流
 C. 成功 隔阂
 D. 蓝图 界限
80. () 对于 宋朝 相对于 () 对于 汉朝
 A. 岳飞 陈胜
 B. 金人 匈奴人
 C. 词 《汉书》
 D. 印刷术 万里长城

81. 有人认为“意象”是一个外来词，是英文“image”的译文，并把它和 20 世纪初的英美意象派诗歌联系起来。但其实，意象是中国古代文艺理论固有的概念和词语，并不是外来的东西。

以下各项如果为真，最能证明“意象”在我国的原生性的是 ()

- A. 英美意象派所提倡的“image”是指运用想象、幻想、譬喻所构成的各种具体鲜明的、可以感知的诗歌形象，与中国的“意象”含义不相同
- B. 很多主张把自己的情绪全部隐藏在意象背后，通过意象将它们暗示出来的英美意象派诗人实际上是深受中国古代诗歌的影响
- C. 我国古代诗歌诞生远远早于英美诗歌，我国古代的传说故事是很多英美意象派诗人创作的灵感来源
- D. 意象在南朝《文心雕龙》等著作中有提及，它没有确定的涵义和一致用法，有的指意中之象，有的指意和象，有的接近于今天所说的艺术形象

82. 2015 年 5 月 4 日，财政部、国家税务总局发文，烟草消费税由 5% 提高至 11%，并加征从量税，有专家认为，“税价联动”会使香烟价格随着税率的提高而提高，购买香烟的人会因此减少，从控烟角度说，这无疑是一件好事。

以下哪项如果为真，最能削弱上述结论 ()

- A. 如果产量不会受到售价的影响
- B. 收入水平的提高使人们对香烟的价格不太敏感

- C. 世界上大多数国家的烟草消费税税率低于 11%
- D. 一些发达国家出现过提高烟草消费税后私烟泛滥的现象

83. 研究人员对中风幸存者进行分组实验, 他们让一组中风幸存者在研究人员的监督下进行为期 3 个月的户外健步走的锻炼。另一组不进行运动, 而是接受治疗性按摩, 实验结束后, 研究人员发现在持续 6 分钟的测试中, 步行组的人比按摩组的人走的更远, 能比后者多走 17.6%, 研究者认为, 身体适度受损的中风幸存者仅通过简单廉价的运动就能获得更有效的效果。

下列哪一项如果为真, 最能削弱上述论证 ()

- A. 步行组的平均年龄为 72 岁, 按摩组的平均年龄为 65 岁
- B. 与按摩组相比, 体质的改善使得步行组中风幸存者生活质量更高
- C. 步行组中风幸存者还服用了相关治疗药物, 按摩组停服了相关药物
- D. 研究证明, 对身体严重受损的中风幸存者来说, 接受按摩的效果更佳

84. 地方政府对经济的干预不仅表现在直接通过财政投资拉动经济增长, 还表现为通过财政补贴、税收优惠、信贷优惠和降低土地等要素成本诱导性地干预企业的投资决策。国有企业因为与政府具有密切的产权关系, 其控制权主要掌握在政府手中, 这就造成国有企业往往成为政府干预和调控经济的手段。

以下各项如果为真, 最能支持上述结论的是 ()

- A. 钢铁、水泥和电解铝等产能过剩行业中既有国有企业, 也有民营企业
- B. 房地产行业前三强都是民营企业, 它们多数都享受了信贷优惠
- C. 国有企业的投资决策通常会受到地方政府的直接指导和干预
- D. 部分大中型国有企业被政府遴选为“重点企业”, 享受税收、信贷优惠

85. 某景区举办萤火虫展, 每天都会吸引大批游客来观赏, 数日后, 该景区萤火虫的数量急剧下降。景区负责人认为是游客的不文明行为破坏了萤火虫的生存环境。

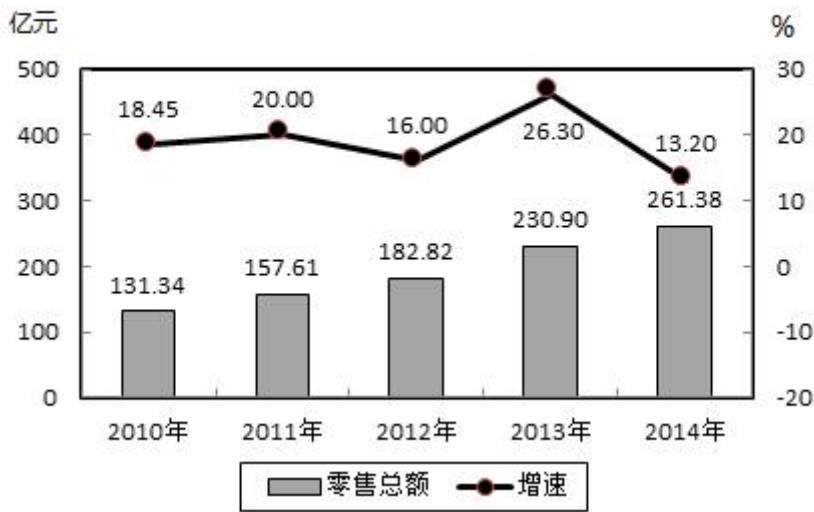
以下哪项如果为真, 能够支持景区负责人的观点 ()

- A. 萤火虫对生态环境的要求很高
- B. 游客不文明的行为在其他景区也存在
- C. 在规范游客行为后萤火虫灭亡数量急剧下降
- D. 和萤火虫同类的昆虫数量受游客行为影响不大

第五部分 资料分析

2014 年, 某市全年实现社会消费品零售总额 261.38 亿元, 比上年增长 13.2%。按经营地统计, 城镇消费品零售总额为 178.6 亿元, 比上年增长 13.5%, 乡村消费品零售总额 82.78 亿元, 比上年增长 12.5%。按消费形态统计, 批发业增长 17.6%, 零售业增长 22.1%。

2010~2014年某市社会消费品零售总额及增速



全年消费价格总水平比上年增长 1.3%。其中家庭设备用品及维修服务类累计下降 1.1%；食品类、烟酒类、衣着类、医疗保健及个人用品类、交通与通信类、娱乐教育文化用品及服务类、居住类累计分别上升 0.6%、0.6%、4.4%、1.5%、1.5%、1.8%、1.5%。

86. 2013 年，该城镇消费品零售总额约为多少亿元 ()
- A. 120.5 B. 157.4 C. 178.6 D. 206.5
87. 与 2009 年相比，2014 年该市社会消费品零售总额增量最接近多少亿元 ()
- A. 130 B. 140 C. 150 D. 160
88. 能准确反映 2011—2014 年间该市社会消费品零售总额同比增量的变化趋势的折线图是 ()



89. 把不同的消费类型按该市 2014 年消费价格上涨幅度从高到低排列，以下正确的是 ()
- A. 居住类、衣着类、食品类、家庭设备用品及维修服务类
- B. 衣着类、居住类、家庭设备用品及维修服务类、食品类
- C. 居住类、衣着类、家庭设备用品及维修服务类、食品类
- D. 衣着类、居住类、食品类、家庭设备用品及维修服务类
90. 关于该市社会消费品零售状况，能够从上述资料推出的是 ()
- A. 2014 年批发业销售额占社会消费品零售总额比重低于上年水平
- B. 2010 到 2014 年间，社会消费品零售总额增速慢于 20% 的年份有 4 个
- C. 2013 到 2014 年社会消费品零售总额之和高于前 3 年之和
- D. 2014 年烟酒类消费品价格增速快于居民消费总水平增速

2014 年，上海市全年实现金融业增加值 3268.43 亿元，比上年增长 14%。

全年新增各类金融单位 96 家。其中，货币金融服务单位 37 家；资本市场服务单位 40 家。至年末，全市各类金融单位达到 1336 家。其中，货币金融服务单位 601 家；资本市场服务单位 292 家；保险业单位 363 家。

至年末，全市中外资金融机构本外币各项存款余额 73882.45 亿元，比年初增加 4612.96 亿元；贷款余额 47915.81 亿元，比年初增加 3424.23 亿元。

全年通过上海证券市场股票筹资 3962.59 亿元，比上年增长 57.5%；发行公司债 2955.2 亿元，比上年下降 5.6%。至年末，上海证券市场上市证券 3758 只，比上年增加 972 只，其中股票 1039 只，增加 42 只。

全年金融市场（包括外汇市场）交易总额达到 786.66 万亿元，比上年增长 23.2%。上海证券交易所各类有价证券总成交金额 128.15 万亿元，增长 48.1%，其中，股票成交金额 37.72 万亿元，增长 63.8%。上海期货交易所总成交金额 126.47 万亿元，增长 4.7%。中国金融期货交易所总成交金额 164.02 万亿元，增长 16.3%。银行间市场总成交金额 361.51 万亿元，增长 27.0%。上海黄金交易所总成交金额 6.51 万亿元，增长 24.7%。

91. 2014 年，上海市全年新增货币金融服务单位在当年新增的各类金融单位中占（ ）
 - A. 两成多
 - B. 三成多
 - C. 四成多
 - D. 五成多
92. 2014 年间，上海市中外资金融机构本外币存贷款差（ ）
 - A. 增加了 1 千多亿元
 - B. 增加了 2 万多亿元
 - C. 减少了 1 千多亿元
 - D. 减少了 2 万多亿元
93. 2014 年上海市股票成交金额比 2013 年增加约（ ）万亿元。
 - A. 10
 - B. 12
 - C. 15
 - D. 18
94. 以下金融市场中，2014 年成交金额同比增量最高的是（ ）
 - A. 上海证券交易所
 - B. 中国金融期货交易所
 - C. 上海黄金交易所
 - D. 上海期货交易所
95. 能够从上述资料中推出的是（ ）
 - A. 2013 年全年，上海市实现金融业增加值 3000 多亿元
 - B. 2013 年上海市证券交易所各类有价证券总成交额中，股票成交金额占比高于 2014 年
 - C. 2014 年末，上海市资本市场服务单位数量不到货币金融服务单位数量的一半
 - D. 2014 年间，上海市银行间市场月均成交金额超过 31 万亿元

2012 年全年货物进出口总额 38668 亿美元，比上年增长 6.2%。其中，出口 20489 亿美元，增长 7.9%；进口 18178 亿美元，增长 4.3%。

表 8 2012 年主要商品进口数量、金额及其增长速度

商品名称	数量(万吨)	比上年增长%	金额(亿美元)	比上年增长%
谷物及谷物粉	1398	156.7	48	134.2
大豆	5838	11.2	350	17.6
食用植物油	845	28.7	97	25.6
铁矿砂及其精矿	74355	8.4	956	-15.0
氧化铝	502	165.1	18	133.3
煤(包括褐煤)	28851	29.8	287	20.2
原油	27102	6.8	2207	12.1
成品油	3982	-1.9	330	0.6
初级形状的塑料	2370	2.9	462	-2.2
纸浆	1646	14.0	110	-7.5
钢材	1366	-12.3	178	-17.5
未锻造的铜及铜材	465	14.1	386	4.9

表 9 2012 年我国对主要国家和地区货物进出口额及其增长速度

单位：亿美元

国家和地区	出口额	比上年增长 (%)	进口额	比上年增长 (%)
美国	3518	8.4	1329	8.8
欧盟	3340	-6.2	2121	0.4
中国香港	3235	20.7	180	15.9
东盟	2043	20.1	1958	1.5
日本	1516	2.3	1778	-8.6
韩国	877	5.7	1686	3.7
印度	477	-5.7	188	-19.6
俄罗斯	441	13.2	441	9.2
中国台湾	368	4.8	1322	5.8

96. 表中 2012 年进口数量最高的商品，其当年进口额占全国进口总额的比重为（ ）
 A. 2% B. 5% C. 8% D. 12%
97. 2012 年我国的进出口数量和金额都比去年增长的有（ ）种。
 A. 5 B. 6 C. 7 D. 8
98. 2012 年间我国的贸易顺逆差关系与上年不同的国家或者地区的是（ ）
 A. 东盟 B. 日本 C. 美国 D. 欧盟
99. 表中 2012 年对华进出口贸易额最高的国家或者地区，其贸易额是表中 2012 年对华贸易额最低的国家或地区的（ ）倍。
 A. 5.5 B. 7.3 C. 8.2 D. 12.8
100. 能够从上述资料推出的是（ ）
 A. 2012 年我国全年货物进出口顺差额低于上年水平
 B. 2011 年我国煤（包括褐煤）进出量高于原油进出量
 C. 2012 年日本对华货物贸易额高于上年水平
 D. 2012 年我国进口钢材的平均每吨价格超过 1000 美元

温馨提示：**2018 年公考通网校重新起航****系统班+考前直播冲刺班+一对一申论批改班+面试通关课程
更多好课等你挑选！****【参考答案与解析】****1. 【解析】D**

A 项错误：根据《行政诉讼法》第十二条第三款规定：人民法院不受理公民对行政机关对行政机关工作人员的奖惩、任免等决定提起的诉讼。

B 项错误：详析同 A 项。

C 项错误：行政机关对其工作人员的离退休决定属于内部行政行为，不是具体行政行为，所以不属于人民法院行政诉讼的受案范围。

D 项正确：根据《行政诉讼法》第十一条第一款规定：人民法院受理公民、法人和其它组织对拘留、罚款、吊销许可证和执照、责令停产停业、没收财物等行政处罚不服的提起的诉讼。依此若对此行政处罚提起诉讼，法院应该受理。该工作人员参股企业的行为，可处以内部行政处分。

故正确答案为 D。

2. 【解析】B

A 项错误：依据《刑事诉讼法》第三十四条第三项：犯罪嫌疑人、被告人可能被判处有期徒刑、死刑，没有委托辩护人的，人民法院、人民检察院和公安机关应当通知法律援助机构指派律师为其提供辩护。而蔡某抢劫且致人死亡的行为，依据《刑法》第二百六十三条规定可能“处无期徒刑或死刑”，则蔡某是可以获得指定辩护的。

B 项正确：按照《刑法》第二十五条：共同犯罪是指二人以上共同故意犯罪。共同犯罪成立要件必须包括：2 人或 2 人以上；有共同故意；有共同行为。依此王某、蔡某行为构成共同犯罪。

C 项错误：抢劫过程中，将反抗的人杀害，只定抢劫罪；如果是抢劫后为了灭口把人杀了，才是数罪并罚。抢劫罪的核心就是“压制反抗，强行取财”，本题中“将反抗的户主杀害”是为了实施抢劫而“压制反抗”，所以杀人仅仅是抢劫的手段而已，所以只定抢劫罪一罪。

D 项错误：按照《刑法》第十七条：已满十四周岁不满十六周岁的人，犯故意杀人、故意伤害致人重伤或者死亡、强奸、抢劫、贩卖毒品、放火、爆炸、投毒罪的，应当负刑事责任。其中已满十四周岁四包含十四周岁。王某 14 周岁，且犯的是抢劫罪，故应当承担刑事责任。

故正确答案为 B。

3. 【解析】A

A 项错误：“佳节”指的是重阳节。语出唐·王维《九月九日忆山东兄弟》独在异乡为异客，每逢佳节倍思亲。遥知兄弟登高处，遍插茱萸少一人。九月九日是重阳节，有登高、插茱萸习俗。

B 项正确：语出唐·王昌龄《出塞·其二》。唐诗用典常用汉代人物，唐诗中飞将指李广。《史记·李广列传》载：广居右北平，匈奴闻之，号曰“汉之飞将军”，避之，数岁不敢入右北平。

C 项正确：西岭指的是岷山山脉中的西岭雪山。西岭雪山位于成都市大邑县境内，距成都仅 95 公里，属世界自然遗产、大熊猫栖息地，因唐代大诗人杜甫的千古绝句“窗含西岭千秋雪，门泊东吴万里船”而得名。景区内终年积雪的大雪山，海拔 5353 米，为成都第一峰。

D 项正确：语出唐·岑参《白雪歌送武判官归京》，描写冬季下雪天送武判官从轮台城回京时的雪景，把白

雪比作梨花。

故正确答案为 A。

4. 【解析】C

A 项正确，自西向东分别流经青海、四川、甘肃、宁夏、内蒙古、陕西、山西、河南及山东 9 个省（自治区）

B 项正确，黄河中上游以山地为主，中下游以平原、丘陵为主。由于河流中段流经中国黄土高原地区，因此夹带了大量的泥沙，所以它也被称为世界上含沙量最多的河流。

C 项错误，黄河发源于青海省青藏高原的巴颜喀拉山脉，最后流入渤海而非黄海。

D 项正确，黄河自发源之后流经高原、平原等地形，而且东西地理特征差异明显，比如上游的黄土高原千沟万壑，下游平原物产丰饶等。

本题为选非题，故正确答案为 C。

5. 【解析】C

A 项正确，秦孝公任用商鞅变法，第一次变法中有“令民为什伍”，实行连做法；重农抑商，奖励耕织；按功授爵等，几年后又实施第二次变法，主要措施有统一秦国度量衡；废分封，行县制，废除井田等。此处的废分封，行县制即为题目中所说的郡县制。

B 项正确，1069 年，宋神宗任用王安石为参知政事，主持变法，主要措施包括：

理财方面：青苗法、募役法、农田水利法、方田均税法、市易法。

军事方面：保甲法、将兵法。

教育方面：改革科举制度、整顿太学。

C 项错误，张居正改革主要推行的是一条鞭法，青苗法是王安石变法的主要内容。

D 项正确，戊戌变法期间，在文化教育方面的主要措施有：开办京师大学堂、各地设立中小学堂，废除八股，改试策论，设经济特科等。

本题为选非题，故正确答案为 C。

6. 【解析】D

D 项正确：当使用某种杀虫剂后，绝大多数害虫被杀死，少数具有抗药性的个体生存下来并繁殖；抗药性害虫大量繁殖后，再用该种杀虫剂，会有比以前更多的个体生存下来。因此，杀虫剂对害虫起到一个定向选择的作用。

A 项错误：害虫体内积累的杀虫剂增加了害虫自身的耐药性，而非抗药性。

B 项错误：基因突变是本来就存在的，是不定向的，并不是由于用了杀虫剂产生了抗药性基因。

C 项错误：选项说法过于绝对，由于变异是不定向的，所产生的后代不一定都具有很强的抗药性。

故正确答案为 D。

7. 【解析】D

人对声音的感觉有一定频率范围，大约每秒钟振动 20 次到 20000 次范围内，即频率范围是 20Hz~20000Hz，如果物体振动频率低于 20Hz 或高于 20000Hz 人耳就听不到了。

高于 20000Hz 的频率就叫做超声波，而低于 20Hz 的频率就叫做次声波。所以说不是所有物体的振动所发出的声音我们都能听到的。另外要能听到声音也必须要有传播声音的介质。据此可知，这个大于普通声波的参数是频率。

故正确答案为 D。

8. 【解析】C

C 项，正确：根据“《保健食品注册与备案管理办法》第五条：国家食品药品监督管理总局负责保健食品

注册管理”和“《药品注册管理办法》第五条：国家食品药品监督管理局主管全国药品注册工作，负责对药物临床试验、药品生产和进口进行审批。”故C项正确。

A项，错误：《食品安全法》第八十七条：县级以上人民政府食品药品监督管理部门应当对食品进行定期或者不定期的抽样检验，并依据有关规定公布检验结果，不得免检。进行抽样检验，应当购买抽取的样品，委托符合本法规定的食品检验机构进行检验，并支付相关费用；不得向食品生产经营者收取检验费和其他费用。根据规定，不得免检。

B项，错误：OTC是英文Over The Counter，是可在柜台上买到的药物的缩写，即那些不需要医生处方，消费者可直接在药房或药店中直接购取的药物。

D项，错误：并没有这样的禁止性规定，典型的反例是“王守义十三香”。

故正确答案为C。

9. 【解析】D

骨髓移植即造血干细胞移植，是通过静脉输注造血干、祖细胞，重建患者正常造血与免疫系统，从而治疗一系列疾病的治疗方法。骨髓移植成败的关键之一是HLA(人类白细胞抗原)配型问题，如果骨髓供者与受者的HLA不同，便会发生严重的排斥反应，甚至危及患者的生命。应选择HLA配型尽可能完全相同的、8~60岁之间的、身体健康、造血及免疫系统功能正常的供者。

D项正确：爷爷曾经为孙子成功捐献过血液和部分肝脏，恰好能证明两人之间的HLA不会发生严重的排斥反应。现在孙子为捐献者，爷爷为受捐者，两人的骨髓配对移植成功概率最大。

A、B、C项没有明确说明捐赠者和受捐者的HLA(人类白细胞抗原)的配型问题，无法确定捐赠者给受捐者移植之后是否发生排斥反应，能否移植成功。

故正确答案为D。

10. 【解析】C

本题考查哲学原理，需结合选项具体分析。

A项表述正确，做事情要按照客观规律，才能更加容易的完成。按照牛、羊、猪的原有纹路进行切割，会更加容易且省力气，遵循了客观规律。

B项表述正确，在发挥主观能动性的同时，会受到客观条件的限制。想要完成一件事，如果没有很好的利器就不能很好的完成，表明了发挥主观能动性的同时会受客观条件的限制。

C项表述错误，屋子本来就破了，可是偏偏又赶上连夜下雨。船本来就漏水了，但是又赶上逆风航行。只体现出了事物发展过程中的曲折性，并未体现出前进性。

D项表述正确，实践是检验真理的标准。登高山才知天之高，临深渊才知地之厚，通过实践才能获得真理。本题为选非题，故正确答案为C。

11. 【解析】C

文段通过“善于”、“精于”、“长于”表示并列，体现优秀民族心理三个方面的特征，且和前文“优秀品格”、“历史痼疾”形成对应。一般来说，文中出现三个并列排比时，各自的语义基本不会重复。而A项“去芜存菁”指除去杂质，保留精华，与“取其精华去其糟粕”语义重复，排除。B项“弃旧图新”指抛弃旧的，谋求新的，“优秀品格”并非新事物，排除。C项“激浊扬清”比喻清除坏的，表扬好的，用在此处表意恰当，“清”、“浊”分别对应“优秀品格”、“历史痼疾”，当选。D项“拨乱反正”指治平乱世，恢复正常；现也指纠正错误，整顿混乱局面，使之恢复正常，用在此处语义过重，且文段中无“整治混乱局面”的表述，排除。

故正确答案为C。

【文段出处】《污染减排须政府、企业和公众合力攻坚》

12. 【解析】C

本题考查对应关系，横线处修饰“展示自己的灵魂，捧出自己的内心”，对应前文“必定真诚而大度”，“展示自己的灵魂，捧出自己的内心”对应“真诚而大度”，故所填词语与“必定”形成对应，“必定”表示必然一定，C项“毫不犹豫”指在处理事情上非常果断，没有片刻迟疑，与“必定”对应最为恰当，当选。

A项“推心置腹”指把赤诚的心交给人家，对应的是“捧出自己的心”；B项“开诚布公”指坦白无私，D项“光明磊落”形容人的行为正直坦白，对应的是“展示自己的灵魂”，这三个成语均和“必定”无法形成对应，排除。

故正确答案为C。

【文段出处】《爱是什么》

13. 【解析】B

横线之前的“这”指代前文李氏一官员的做法，根据“在他看来，公与私之间绝对不能混淆”可知，这位官员把一根蜡烛的小事也看的非常重要，B项“小题大做”指把小事当作大事来处理，与文段对应恰当。A项“自命清高”指自以为清高，通常主语为人，“这”指代一种做法，与“自命清高”搭配不当，排除；C项“沽名钓誉”指用某种不正当的手段捞取名誉，文段没有体现出不正当的手段，排除；D项“矫枉过正”比喻纠正错误超过了应有的限度，文段并未涉及纠正错误，排除。

故正确答案为B。

【文段出处】《莫让“私”字入公门》

14. 【解析】A

第一空，搭配“目标”，C项“淡定”、D项“镇定”均指冷静、稳定，多形容人处于不慌乱的状态，与“目标”搭配不当，排除。第二空，“经受……战胜……”为相同句式构成的并列，横线处对应“苦难”，语义程度重，A项“磨难”与“苦难”对应恰当，当选。B项“波折”表示波动起伏，比喻事情发展中的曲折变化，语义程度轻，与“苦难”对应不当，排除。

故正确答案为A。

【文段出处】《人民日报：雷剧横行 好作品向何处寻？》

15. 【解析】C

第一空，根据“清流的浸润”可知，横线处表示河床处于缺水的状态，选项的四个词语均可形容缺少水分，但A项“干燥”多修饰“气候”，与“河床”搭配不当，排除。

第二空，根据“精神的荒原”可知，横线处表示有生命在活动，C项“萌动”表示萌生活动，与“生命”搭配恰当，契合文意。B项“觉醒”指醒悟、觉悟，文段表示生命在活动而非醒悟，排除；D项“苏醒”指从昏迷或沉睡中醒过来，文段并非强调生命在此之前昏迷或沉睡，仅强调活动，排除。

故正确答案为C。

【文段出处】《阅读是开掘精神荒原的铧犁》

16. 【解析】D

第一空，横线处所填词语搭配“真实空间关系”，A项“模仿”指按照现成的样子做，与“关系”搭配不当，且3D电视并非模仿“实际景物”的产物，排除。

第二空，根据“真实空间关系”可知，横线处所填成语形容“延伸于屏幕的景物”近在手边，D项“触手可及”指近在手边，一伸手就可以接触到，与前文对应恰当，且体现“震撼效果”，当选。B项“活灵活现”意为神情逼真，使人感到好像亲眼看到一般；C项“栩栩如生”指艺术形象非常逼真，如同活的一样，均无法对应“真实空间关系”，排除。

故正确答案为D。

【文段出处】《什么是3D电视》

17. 【解析】C

本题可从第二空入手，根据并列关联词“是……而不是……”可知，前后语义相反，所填成语表示不汲取别人的智慧，且修饰“任性”，C项“刚愎自用”是指完全固执己见不听取别人的意见，与前文对应恰当，符合语境。A项“泥古不化”比喻拘泥于古代的成规或说法，不知根据具体情况，加以变通，文中并非是古人的说法，而是固执己见，排除；B项“剑走偏锋”是指寻找新的、不同以往的办法来解决问题，以求出奇制胜，侧重方法奇特而非“任性”，排除；D项“恃才放旷”是指倚仗自己的才能而对行为不加约束，文中并非强调倚仗才能，排除。基本锁定C项。

第一空代入验证，“整合”与“超越左与右，促使社会形成新的共识”对应准确，契合文意。

故正确答案为C。

【文段出处】《思潮是飘荡在社会中的幽灵》

18. 【解析】A

第一空，文段首句均论述“讲故事”，故横线处表示讲述出品牌所体现出的精神，A项“彰显”、C项“展示”均表示显现出来，符合文意。B项“包含”、D项“蕴含”均指内在所包含的，与“讲”对应不当，不符合文意，排除。第二空，搭配“讲得”，C项“栩栩如生”指艺术形象非常逼真，如同活的一样，与“讲得”搭配不当，排除。A项“娓娓动听”形容善于讲话，使人喜欢听，与“讲得”搭配恰当，当选。

故正确答案为A。

【文段出处】《用中国品牌讲中国故事》

19. 【解析】D

第一空，通过“反之”可知，横线处与前文的“平等、尊重”形成反义并列关系，应体现不平等、不尊重的含义，B项“吹毛求疵”比喻过度挑剔别人的缺点，C项“唠唠叨叨”指说话啰嗦，说个没完，两者均与“不平等、不尊重”无关，排除。

第二空，根据“甚至”可知，横线处所填词语应比“极端”程度稍轻，且要体现出“不健康的人格”，D项“偏执”符合文意。A项“平庸”指平常人做着平凡的事，与健康的人格无关，且无法与“极端”构成递进，排除。

故正确答案为D。

【文段出处】《平等是对生命最好的馈赠》

20. 【解析】C

第一空，根据代词“这种”可知，横线处词语要体现“力不从心”之意，说明法律在面对道德的时候，想做点什么却力量不够。C项“左支右绌”和D项“捉襟见肘”均指力量不够，应付不过来，符合文意。A项“相形见绌”指跟同类相比，显出不足，与“力不从心”无关，排除。B项“爱莫能助”指心中关切同情，却没有力量帮助，文中并无“同情”的语义，排除。

第二空，“社会秩序的大厦是法理与道德共同支撑的”，说明法律和道德共同支撑社会秩序，没有道德，法律就会孤立无援，对应C项“独木难支”，比喻单个力量单薄，维持不住全局，符合文意，表意形象。D项“力所不逮”指力量达不到，不能体现“法律与道德”的密切关系，排除。

故正确答案为C。

【文段出处】《扶不扶，法律不能规范道德》

21. 【解析】A

本题从第二空入手，根据“需要……更离不开……”可知，对策是从两个不同的方面入手，后面强调的是“宏大”，指宏大、宏伟，所以横线词语应该表示“微小”的含义，对应A项“具体而微”，指事物的各个组

成部分大体都有了，不过形状和规模比较小些。B项“一丝不苟”指做事认真，文段强调的是“小”，而非“认真”，排除；C项“返观内视”指自我反省，和“专业剖析”搭配不当，且语意不符，排除；D项“条分缕析”形容分析得有条理，很细致，与“剖析”语义重复，且语意不符，排除。

第一空代入验证，“破解问题”搭配恰当，且后文“需要”提出破解问题的对策，符合文意。

故正确答案为A。

【文段出处】《打好转变发展方式硬仗》

22. 【解析】D

本题从第二空入手，根据“但”表转折，可知前后语义相反，前面说偶尔装可爱可让人显得童趣，带来好处，故横线后应该表达刻意装可爱带来的消极影响，D项“适得其反”指恰恰得到与预期相反的结果，符合文意。

A项“事倍功半”形容做事的方法费力大，收效小，反义词是“事半功倍”，不符合文意，排除；B项“削足适履”比喻不合理的牵就凑合或不顾具体条件，生搬硬套，语意不符，排除；C项“东施效颦”比喻模仿别人，不但模仿不好，反而出丑，文段没有提及“模仿别人”，排除。

第一空代入验证，“放下戒备”搭配恰当，且与后文“愿意与之交朋友”形成对应，当选。

故正确答案为D。

【文段出处】《做一个善良可爱女人》

23. 【解析】C

第一空，横线处所填词语用来形容“号召力”。C项“一呼百应”意为一人呼喊，多人响应，强调“号召力”强，契合文意；D项“不令而行”意为领导者本身的行为正当，即使不以法令约束，人们也会自然而然的效法的行为，走上正道，放在此处用来形容领导者正面的感召力尚可。A项“说一不二”指一个人说话算数，不会改变，强调“信誉”；B项“一言九鼎”指说话有份量，起决定作用，强调人的身份地位重要。A、B两项均与“感召力”无关，排除。

第二空，横线处所填词语形容“感染力”，C项“潜移默化”指人的思想或性格不知不觉受到感染、影响而发生了变化，与“感染力”搭配得当，当选。D项“春风化雨”比喻良好的熏陶和教育，与大语境不符，排除。

故正确答案为C。

【文段出处】人民日报《涵养人格的魅力》

24. 【解析】B

第一空，由“之所以…正在于…”可知，后文是对横线处的解释说明，故A项“恒久”、B“永恒”均有“长久存在”之意，可与“始终”呼应。

第二空，与“良知与渴望”搭配。A项“基本的良知”尚可，但“渴望”意为迫切地希望，与“基本”程度上不符，排除；B项“纯粹”指不掺杂质的，可与“良知与渴望”搭配。

故正确答案为B。

【文段出处】《读者卷首语—生命与美丽》

25. 【解析】C

第一空，对应后文的“开始复兴”，说明以前不够兴盛，所填词语与“复兴”语义相反。A项“沉默”形容不爱说话、一言不发，通常搭配人，且与是否复兴无关，排除。B项“沉沦”指陷入罪恶的、困苦的境界，感情色彩消极，文段并非强调陷入不好的境地，排除。D项“沉凝”意为凝滞，不流动，与文意无关。基本锁定C项。

第二空、第三空代入验证，“模拟构架”、“反馈结果”搭配均可。

故正确答案为 C。

【文段出处】《人工智能赢了围棋，人类赢了未来》

26. 【解析】A

本题突破口在第三空，横线处所填词语搭配“先贤”且冒号之后的内容对其进行解释说明，根据冒号后“同样”可知，索氏与先贤做法趋于一致，A项“翻版”指翻印的版本，强调两者有许多共同之处，符合文意，当选。

C项“回响”指声音一再地发出回声，常搭配“声音”，与“先贤”搭配不当，排除；D项“后学”指学问居于人后的学者、读书人，多作谦词，用以自称，与文意不符，排除；B项“传人”即接班人，后文未体现传授关系且无法与“同样”进行对应，排除。

前两空代入验证，“如出一辙”比喻两件事情非常相似，对应后文“共同”，符合文意；“勾勒画卷”搭配得当，当选。

故正确答案为 A。

【文段出处】《索尔仁尼琴的背影》

27. 【解析】C

第一空，根据“绝非……而是……”可知，前后语义相反，根据“小题大做”可知，此处表示筑巢石子的魅力大。B项“无与伦比”指事物非常完美，没有能跟它相比的；D项“无以复加”表示不可能再增加，指程度达到了极点，用在此处均程度过重，且“无以复加”一般不做定语修饰其他名词，常见用法为“魅力大到无以复加”，排除B、D两项。

第二空，搭配“价值”，A项“体现”与C项“彰显”用在此处均可。

第三空，修饰“通过建造新居来打败竞争对手”，“通过建造新居”即采取的方法，此处表示尽力去做，C项“不遗余力”指把全部的力量都使出来不保留，符合语境。A项“千方百计”是指想尽一切办法，侧重方法多，文段仅提到一种方法，排除。

故正确答案为 C。

【文段出处】《鸟类求偶炫耀之“勤劳”获爱情》

28. 【解析】D

文段开篇引用孔子的观点“君子和而不同”且通过“不仅……也”的并列结构强调其重要性，随后文段指出不同国家、民族的思想文化各有不同，而这些不同的文化需要共存，后文通过“不是……而是”的反义并列强调实现文化共存的途径为“寻求大多数文明的共同点和公约数”即“君子和而不同”，并通过“星星”的比喻进一步论证文化共存的重要意义，故文段围绕“和而不同”“文化共存”展开论述，D项包含主题词，当选。

A项“中华文化的贡献”文段未提及，无中生有，排除；B项“孔子对中华文化的影响”、C项“古人对世界秩序的印象”均对应文段开篇并列结构的一部分，表述片面且并非文段重点，排除。

故正确答案为 D。

【文段出处】《我们为什么要“回到孔子”》

29. 【解析】B

文段首先把益智比喻成美少女，强调其外观之美，紧接着从高度、花序、颜色等方面继续介绍益智的外在形态，尾句进行总结，强调益智是优良的观赏植物，故文段重在说明益智具有很高的观赏性，对应B项。

A项仅对应文段“益智属于姜科”，表述片面，排除；

C项“生长习性”和D项“生存环境”，文段并未提及，无中生有，排除。

故正确答案为 B。

【文段出处】《戴“帽子”的植物——益智》

30. 【解析】A

文段首句引出话题“摩天楼”，接着通过转折提出文段的重点，强调“摩天楼必须服从周围环境”，“如”后的例子对观点做了进一步解释说明，指出“建筑和当地文化要有强有力的联系”，故文段重在强调摩天楼建设与城市文化气质的协调统一，对应A项。

B项，“城市整体规划”的范围扩大，文段只强调建筑应与当地城市文化紧密联系，排除；

C项“配套城市功能”和D项“舒适性和安全性”，文段均没有提到，无中生有，排除。

故正确答案为A。

【文段出处】《各地摩天楼拔地而起 城市发展须冷静》

31. 【解析】D

文段先由朋友圈“晒娃”引入话题，指出当下存在家长将孩子“宠物化”的现象，并详细阐述了此类现象的表现：家长对待孩子的态度仅由自己的心情决定，甚至诉诸武力。故文段强调的是这类年轻家长在养育孩子的过程中，只从自己的角度出发，而没有考虑孩子的心理状况，对应D项。

A项“缺乏信息安全意识”、C项“满足虚荣心”均对应文段开头的“晒娃”这一背景，而非“宠物化”教育的主要问题所在，排除；

B项“心智不成熟”表述不明确，未指出年轻家长在教育方面存在的具体问题，排除。

故正确答案为D。

【文段出处】《年轻父母不应把孩子“宠物化”》

32. 【解析】C

分析文段，由两个分号可知，文段属于并列结构，首先分别指出“名曲”与雨声有关，“山水画”与雨声有关，故下文阐述的是“哲学”也与“雨声”有关。由横线之前的“事出有因”，与横线之后的“来自作者们在雨声中的独处”可知，横线上所填的句子应该表达古人的哲学观与雨之间存在着因果关系，对应C项，这里的“情”和“感”对应前文提到的哲学观，而“境”和“事”对应雨，当选；

A项强调雨声让人内心宁静，没有体现出与哲学观之间的因果关系，排除；

B项“中国文化”概念扩大，该句阐述的是“哲学”，排除；

D项“小楼一夜听春雨”只涉及“雨”这一个方面，不能体现与哲学观之间的因果关系，排除。

故正确答案为C。

【文段出处】《雨读》

33. 【解析】A

文段首先提出观点，即在网络热词中体现着各种民意，紧接着通过“被就业”来进行举例论证，依旧围绕着民意的表达在阐述，故文段重在论述网络热词中所体现出来的民意，A项符合。

B项“被”字风是文段举例说明部分，非重点，排除。

C、D两项均未提到文段重点强调的网络热词背后的“民意”，非文段重点，排除。

故正确答案为A。

【文段出处】《网络热词层出不穷专家称热词转正需符合语言学规律》

34. 【解析】B

本题为语句排序题从选项入手，首先观察首句，对比1句和2句首句特征不明显，无法判断。观察可知，3句中出现“这种变化”，指代1句中的“动态变化”，4中的“这一阶段”指代6句中的“过渡阶段”，故根据指代词信息捆绑，13捆绑在一起，64捆绑在一起，排除C、D两项。对比A、B两项，尾句存在差别，对比4句和5句，可发现，4句提出“部分质变”这一概念，而5句进一步阐述需要特别注意“部分质变”，故4句应在5句前，排除A项。

故正确答案为 B。

【文段出处】《激励法学与法制发展》

35. 【解析】B

语句排序题，需从选项入手。观察选项可知，首句可能为⑥或④句，对比可知，⑥句引出“空间”的观念，④句阐述了牛顿对于空间的看法，为对⑥句的具体阐述，⑥句更适合作为首句，排除 D 项。

继续观察选项，可知⑥句后可能衔接④句或②句，对比可知，④句为牛顿对于空间观念的具体阐述，②句说明牛顿和康顿均对空间持有自己的观念，故④句为对②句的进一步解释说明，应置于②句之后，排除 A 项。

继续观察选项，先看顺承衔接，②句后可能衔接⑤句或④句，但通过阅读可知，⑤句中的“这种看法”可指代②句中的绝对空间观念，④句为解释牛顿对空间的观念，衔接均可，故从其他角度解题。观察选项不难发现，B、C 两项的重大差别在于③句与⑤句顺序不同，③句中的“这些事物”可指代⑤句中的“各种事物”，故⑤应在③前，排除 C 项。

故正确答案为 B。

【文段出处】《首都的空间与时间》

36. 【解析】A

文段首先指出“选举”在古代的含义是完全不同于现代的，接着详细说明选举在中国古代的应用范围，故“选举”应为其中一个主题词，排除 C、D 两项。对比 A、B 两项，可知 B 项“人才选拔”仅仅是选举的手段，而 A 项“选举社会”，是选举产生的结果，且文段最后用“更”强调其作用，说明其为文段重点阐述内容，排除 B 项。验证 A 项，文段后半部分重点论述了中国社会从“世袭社会”向“选举社会”的转变，即社会结构的转变，且最后说明用选举社会解释社会结构的演变，才更能显示中国历史文明的特色，可知“社会结构”为关键词之一，验证正确。

故正确答案为 A。

37. 【解析】C

横线在文段中间，需要分析上下文。文段首句指出当前存在以药养医的现状，接着论述以药养医引发的问题，即既损伤了医生的利益，也损伤了患者的利益。尾句中的“其”代指横线处，指出是医患长期矛盾导致情绪爆发的结果。C 项“群体对群体”指的是医生与患者群体，“谴责和喊话”对应“情绪爆发”，“异化”一词现用来形容事情发展偏离了其原来的样子，故 C 项与前后文衔接恰当，且符合整个文段的语体风格，当选。

A 项，“医患关系的紧张和对立”不能体现“情绪瞬间爆发”这层含义，与后文对应不当，排除；B 项，从语义上基本符合，但“喧闹的”一词相较于 C 项的用语显得过于随意，与文段的语体风格并不相符，排除；D 项，医患矛盾的“形成”并非两件新闻造成的，排除。

故正确答案为 C。

【文段出处】《在医疗改革中彰显“人的尺度”》

38. 【解析】C

文段开篇介绍了文字概率和数字概率的特征，说明文字概率是模糊的，而数字概率更精确，表明两者特征的不同。接着说明文字概率和数字概率的出现时间不同、发展领域不同，随后通过“所以”得出结论，说明其特征上的差异可能还有更多，并举例详细说明。故文段意在表明文字概率和数字概率的特征是不同的，对应选项为 C 项。

A 项中的“分属不同领域”、D 项中的“思考方式”均为文字概率与数字概率之间差异的一个方面，无法完全概括文意，排除。

B 项，文段仅仅是对比两者间的差异，而并未说明两者的好与坏，故“优于”表述无中生有，排除；

故正确答案为 C。

【文段出处】《用文字概率衡量不确定性:特征和问题》

39. 【解析】B

文段首先说明,第四代LED灯溢出的蓝光可能对视网膜产生的不良影响,且指出光源中的蓝光能量较高,即提出问题。接着指出我国在光生物安全性鉴定上使用的国家推荐标准,是不全面的。故可知文段意在通过第四代LED灯的危害性,来说明我国应改变相关标准,对应选项为B。

A项,“对健康的潜在危害”表述不具体明确,文段已说明这种危害是对视力的损伤,且是问题的表述,对策更重要,排除;

C项,“补充实验数据”表述不明确,补充实验数据的目的即是更新标准,排除;

D项,文段意在强调“标准”不合理,故对策主体错误,排除。

故正确答案为B。

【文段出处】《LED蓝光溢出危害不容忽视》

40. 【解析】D

文段开篇首先通过传统医学引出本文的核心话题精准医学,接着通过与传统医疗手段的对比突出精准医学的优势,并由“一方面……另一方面……”的并列结构进行具体列举,即一方面可以提高疗效,降低药品副作用,另一方面可以减少诊断过程对患者的身体损伤,尾句进一步强调精准医学的意义。

综合全文强调精准医学能够迅速确定对症药物,提高疗效,降低无谓的医疗资源消耗,减少诊断过程中对患者身体损伤,显著改善疾患治疗效果,D项概括最为精准全面。

A项,精准医学能够“迅速确定对症药物,减少弯路,提高疗效”,并不等于能够减少药物使用,曲解文意,排除;

B项“无可比拟”表述绝对,由原文可知,传统经验医学只是遭遇不确定性的技术瓶颈,排除;

C项“是其改善诊疗体验和效果的关键”文段未提及,无中生有,排除。

故正确答案为D。

【文段出处】《詹启敏:精准医学是未来社会发展的制高点》

41. 【解析】B

观察文段发现,③中提到了对网友上传文章评论内容的点赞及差评的数量情况,并就此作出对照试验。而需要填入的句子中出现了点赞及差评的具体实验表现,应紧随其后,接着④中给出了“结果”,这几段内容均讲述了实验的相关内容,存在共同信息,且符合逻辑顺序,衔接紧密,该段内容应该在③④之间。其他几项均不能构成话题的一致性,排除。

故正确答案为B。

【文段出处】《互联网时代的羊群效应》

42. 【解析】C

A项,根据58题所填入的内容及⑥句中的最后一句话“社交网站的点赞比差评多”可知,表述正确;

B项,根据⑥句中的论述“负面评价是一种情绪的宣泄”,可知负面评价带有主观的情绪色彩,表述正确;

C项,根据⑤句可知,人们对于负面评价的态度不太宽容,想要去修正负面评价,故该项表述“不介意”与文段不符,表述错误;

D项,对应⑤句,“人们会修正负面评价,最终抵消机器给出的评价”,可知该项表述正确。

本题为选非题,故正确答案为C。

【文段出处】《互联网时代的羊群效应》

43. 【解析】D

由第六段“他认为正面评价往往是一种广告,作出正面评价的人事想让更多的网友喜欢某件东西”可以得

知，正面评价能够让更多的人喜欢，产生积极的宣传效果，对应 A 项表述，符合文意。

由第七段“而后者属于事实类新闻，比前者要客观的多，不太受个人因素的影响”可知，事实类新闻更不易受羊群效应的影响，对应 B 项表述，符合文意。

由第二段“在心理学领域单独研究某件个案是不科学的”可知，单独研究某件个案是不科学的，很难获得科学的结论，对应 C 项表述，符合文意。

由第二段“阿拉尔博士和他的同事决定借鉴自然科学研究的方法”可知，阿拉尔博士只是借鉴自然科学研究的方法，并不是进行一项自然科学实验，因此 D 项表述偷换概念，

本题为选非题，故正确答案为 D 项。

【文段出处】《网络心理学：点赞党的羊群效应》

44. 【解析】B

材料①开篇具体阐释“羊群效应”的概念，尾句强调“社交网站”是研究“羊群效应”的“绝佳的实验场”，接着材料②论述“社交网站成为绝佳试验场”的原因，材料③阐述具体的实验过程，材料④得出实验结果，即“社交网站上的‘羊群效用’还是十分明显的”，材料⑤⑥⑦对实验结果进行了具体分析，全篇材料重点强调“社交网站上的羊群效应很明显”，对应 A 项。

A 项，由材料③“先由网友上传一篇文章，再由其他网友做出评论”可知，文段谈论的并非“消费者”，且未提及主题词“羊群效应”，排除。C 项“心理研究”概念扩大，文段重点谈论的是“羊群效应”，其只是“心理研究”中的一个方面，排除。D 项未提及主题词“羊群效应”，排除。

故正确答案为 B。

【文段出处】《互联网时代的羊群效应》

45. 【解析】A

首先定位阿拉尔博士在文中提到的“修正”，即“如果机器给出的是负面评价，后面会有很多人试图进行修正”，所以很多人给出的评论是与事先给出的评论相反的，而不是一致，B 项的“反响寥寥”不能体现出前后的评论相反，排除。C 项“一致认可”和 D 项的“一边倒”不能体现“修正”的含义，排除。A 项中的“口水战”可以体现出很多人对先前评论的反对，即“修正”，当选。

故正确答案为 A。

【文段出处】《互联网时代的羊群效应》

46. 【解析】A

假设 AB=1，由题意得，AC=2，AD=3，AF=5，即小圆 X、大圆 Y、大圆 Z 的半径分别为 1、1.5、2.5。根据圆的面积公式， $S_{\text{小圆X}} = \pi$ ， $S_{\text{大圆Y}} = 2.25\pi$ ， $S_{\text{大圆Z}} = 6.25\pi$ ，则

$$S_{\text{小圆X}} : S_{\text{大圆Y}} : S_{\text{大圆Z}} = \pi : 2.25\pi : 6.25\pi = 4 : 9 : 25$$

故正确答案为 A。

47. 【解析】B

由题意得，艺术品卖出的价格=1000×(1+10%)=1100 万元；珠宝买进价格=1100×90%=990 万元；珠宝卖出价格=990×90%=891 万元，则甲最终盈利=(1100-1000)+(891-990)=100-99=1 万元。

故正确答案为 B。

48. 【解析】B

由题干中“平均分”可知，本题为平均数问题。根据线段法，甲队和乙队平均得分的距离之比 $\frac{92-88}{94-92} = \frac{4}{2} = \frac{2}{1}$ ，由于平均得分的距离与人数成反比，则甲队和乙队的人数之比为 1:2，总人数为 3 的倍数，观察选项，只有 B 选项符合。

故正确答案为 B。

49. 【解析】A

根据题意可知长方形的边一定不超过 16，假设长为 16，那么面积一定为 16 的倍数，结合选项只有 D 符合。若面积为 256，则宽=256÷16=16，那么另外三边的和=16+16×2=48>41，与题意不符；假设长为 15，则宽的最大值为 (41-15)÷2=13，面积最大为 15×13=195。

故正确答案为 A。

50. 【解析】C

方法一：两人第一次相遇共走了一个 AB 全程，第二次相遇共走了三个 AB 全程，两次相遇总路程之比为 1:3，因为速度和不变，所以两次相遇时间之比为 1:3。甲的速度不变，两次时间之比为 1:3，则路程之比也为 1:3。甲第一次相遇时的路程为 100，设 AB 全程为 s，则甲第二次相遇时的路程为 2s-80，则 100:(2s-80)=1:3，解方程得 s=190 千米。

方法二：根据单岸型相遇公式，两地相距的总路程 = (3S1 + S2) ÷ 2 = (3×100 + 80) ÷ 2 = 380 ÷ 2 = 190 千米。

故正确答案为 C。

51. 【解析】C

若有 1 个男生、3 个女生表演节目，情况数为 $C_5^1 \times C_5^3 \times A_4^4 = 5 \times 10 \times 24 = 1200$ ；

若有 2 个男生、2 个女生表演节目，情况数为 $C_5^2 \times C_5^2 \times A_2^2 \times A_5^2 = 10 \times 10 \times 2 \times 6 = 1200$ ；

若有 3 个男生、1 个女生表演节目，则一定会出现男生连续表演的情况，排除。

故总的情况数为 1200+1200=2400。

故正确答案为 C。

52. 【解析】D

在环形跑道相遇问题当中，相遇一次即共跑一圈。故所求“第 2017 次相遇”应为两人共跑了 2017 圈。一圈的路程 S=1×4=4 米。结合相遇问题公式可得：2017×S=(V1+V2)t，即 2017×4=(1+3)t，解得 t=2017 秒。

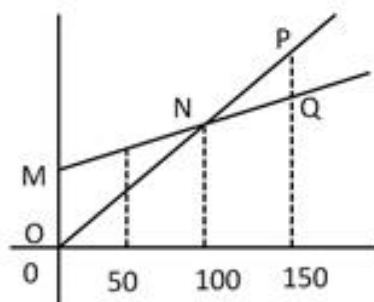
此时，1 号机器人共跑了 $\frac{2017}{4} = 204$ 圈.....1 米。因顺时针移动，故应出现在 D 点位置，两人相遇。

故正确答案为 D。

53. 【解析】A

方法一：假设 A 种方式每分钟电话费为 a 元，B 种方式每分钟电话费为 b 元，根据图中 100 分钟，二者电话费用相等，则 20+100a=100b，即 b-a=0.2 元，则 150 分钟时，二者电话费相差 150(b-a)-20=150×0.2-20=10 元。

方法二：如下图所示：由题意可得，三角形 OMN 相似于三角形 PQN，N 点到 OM 的横轴距离为 100，到 PQ 的横轴距离为 50，则 $\frac{PQ}{OM} = \frac{1}{2}$ ，已知 OM=20，则 PQ=10，即两种方式的电话费相差 10 元。



故正确答案为 A。

54. 【解析】A

根据题干可得，一共倒入纯果汁（即浓度为100%）10千克，纯净水10千克，浓度为30%的浓缩还原果汁20千克。可知最终溶液量为 $10+10+20=40$ 千克，根据溶质=溶液 \times 浓度，最终溶液溶质为 $10\times 100\%+20\times 30\%+10\times 0=16$ 千克。则最终果汁浓度=溶质 \div 溶液= $16\div 40=40\%$ 。

故正确答案为A。

55. 【解析】D

由条件“每一轮的比赛按名次高低计分”，故每一轮的总得分为定值。多轮比赛结束后，三人总得分=22+9+9=40分。若进行了3轮比赛，则总得分应为3的倍数，不满足，排除B项；代入D项，若进行了5轮比赛，则每轮的总得分=40 \div 5=8分。假设按名次高低每人的得分分别为5、2、1分，三人得分情况可分别为：22=5+5+5+5+2，9=2+2+2+2+1，9=5+1+1+1+1，D项满足构造。

故正确答案为D。

56. 【解析】D

题干每幅图形的内部图形都有箭头，且箭头的方向每次逆时针旋转45度，据此排除BC；对比AD选项，发现外框的曲直性明显不同，题干的图形外框的曲直性分别是曲、直、曲、直、曲、？，？处应该选择外框是直线的图，排除A。

故正确答案为D。

57. 【解析】D

题干每幅图形都有多个独立的小元素，数元素的个数和种类均无规律，考虑每幅图之间的元素差异，通过观察发现相邻图形间均含有一个相同的元素，因此？处也应该与前一幅图有一个相同元素，据此排除ABC。

故正确答案为D。

58. 【解析】B

题干已知图形窟窿和线较多，先考虑数面，无明显规律，再考虑数线，图形均由10条直线组成，且选项也都是由10条直线组成，无法排除。无思路时，可以通过相邻比较的思维找规律，对比图1和图2，发现只有一条直线位置发生变化，图2到图3、图3到图4、图4到图5同理，也只有一条直线位置发生变化，故？处也应该与前一幅图只有一条直线位置发生变化，排除ACD。

故正确答案为B。

59. 【解析】D

元素组成相似，考虑样式规律，图形间有相似的线条，优先考虑样式规律中的加减同异。九宫格优先按行看，并没有发现规律，再考虑按列看，通过观察发现，每一列图2与图3相加得到图1，故第三列还缺中间一条竖线和一条长横线，据此排除ABC。

故正确答案为D。

60. 【解析】A

本题考察六面体的空间重构。

逐一分析选项。

A项：与题干一致，为正确答案；

B项：题干展开图中面e的小黑三角形底边就是面e和面f的公共边，而选项中面e中的小黑三角形的底边不是面e和面f的公共边，排除；

C项：如上图所示，对面b画边，题干展开图中第四条边与面a相邻，选项中第四条边与面e相邻，排除；

D项：与B项同理，题干展开图中面e的小黑三角形底边就是面e和面f的公共边，而选项中面5中的小黑三角形的底边不是面e和面f的公共边，排除。

故正确答案为 A。

61. 【解析】B

第一步，找出定义关键词。

“提高全要素（劳动、土地、资本、创新）生存率”。

第二步，逐一分析选项。

A 项：减免企业税负，提高企业盈利体现了“资本”，符合定义，选非，排除；

B 项：增大政府投资属于投资（投资是需求侧改革不是供给侧改革），不符合定义，选非，当选；

C 项：推进产学研结合体现了“创新”，符合定义，选非，排除；

D 项：改革户籍制，促进劳动力跨地区体现了“劳动”，符合定义，选非，排除。

本题为选非题，故正确答案为 B。

62. 【解析】B

第一步，找出定义关键词。

方式：通过自身的形象、行为、情感。

目的：调动职工积极性。

第二步，逐一分析选项。

A 项：带头干体现了通过自己的行为来调动职工的积极性，符合定义，排除；

B 项：李经理喜欢抽烟但不在员工面前抽未体现目的“调动职工积极性”，不符合定义，选非，当选；

C 项：公司领导发放节日慰问品属于通过自己的行为来调动职工的积极性，符合定义，排除；

D 项：部门经理和员工一起聊天、吃饭体现了通过自身的行为以及情感调动职工积极性，符合定义，排除。

本题为选非题，故正确答案为 B。

63. 【解析】D

第一步，找出定义关键词。

方式：通过增加一个喜欢的刺激。

目的：提高事件发生的概率。

第二步，逐一分析选项。

A 项：小明觉得电视上宇航员很酷并未体现“增加一个喜欢的刺激”，而是小明自己下决心，不符合定义，排除；

B 项：老师承诺数学 95 分以上的同学可以不做假期作业并不是“增加一个喜欢的刺激”，而是减少一个不喜欢的事情，不符合定义，排除；

C 项：上课玩手机没收手机是减少一个喜欢的事情，不符合定义，排除；

D 项：父亲承诺儿子如果能考进全班前三名，就带他出国玩体现了方式“增加一个喜欢的刺激”和目的“提高事件发生的概率”，符合定义，当选。

故正确答案为 D。

64. 【解析】D

第一步：找到定义关键词。

“将造成环境污染的有形无形的污染物质”、“由城市转移至农村”

第二步：逐一分析选项。

A 项：工业废水属于“有形污染物质”，市水泥厂将其排放至乡村河流是“将污染物由城市转移至农村的行为”，符合定义，排除；

B 项：城区的工厂产生的重金属残渣属于“有形污染物质”，将工厂由城区搬至乡镇是“将制造污染物的

设备由城市转移至农村的行为”，符合定义，排除；

C项：将重污染钢铁厂迁至乡镇是“将制造污染物的设备由城市转移至农村的行为”，符合定义，排除；

D项：城区修建水库只是导致下游村庄农田灌溉用水不足，并没有产生污染环境的污染物，不符合定义，当选。

本题为选非题，故正确答案为D。

65. 【解析】B

第一步：找到定义关键词。

“消费者与消费者之间”、“以信息技术为手段”、“以商品交换为中心”、“商务活动”

第二步：逐一分析选项。

A项：小区的“旧物置换”服务没有“以信息技术为手段”，不符合定义，排除；

B项：小李在网上拍卖旧笔记本电脑运用了“信息技术手段”，是以“商品交换为中心”的商务活动，且小李和小方都是“消费者”，符合定义，当选；

C项：学校的“跳蚤市场”没有运用“信息技术手段”，不符合定义，排除；

D项：某品牌官方网站不属于“消费者”，因此不是“消费者与消费者”之间的商务活动，不符合定义，排除。

故正确答案为B。

66. 【解析】D

第一步，找出定义关键词。

“面对管理制度或生产活动等方面的隐患”；“为了避免人际冲突，或者害怕遭受打击报复或维护自身脸面”；“有意保留自己的想法的行为”。

第二步，逐一分析选项。

A项：两人参与评比属于竞争关系，并不是为了“避免人际冲突，或者害怕遭受打击报复或维护自身脸面”而没有指出来，而是为了自己赢，不符合题干定义，排除；

B项：小明上班时间唱歌不属于“管理制度或生产活动等方面的隐患”，老张与其他同事争辩发生人际冲突，不符合题干定义，排除；

C项：小马没有提出见解的原因是前面发言的同事已经谈到了这个问题，并不是为了“避免人际冲突，或者害怕遭受打击报复或维护自身脸面”，不符合题干定义，排除；

D项：新产品刚出来必然会有问题存在，小刘对新产品开发报告会有想法符合“面对管理制度或生产活动等方面的隐患”，“贸然提出会影响工作进度”符合“避免人际冲突，或者害怕遭受打击报复或维护自身脸面”这一目的，符合题干定义，当选。

故正确答案为D。

67. 【解析】A

第一步：找到定义关键词。

“沿着习惯性、常规性的方向展开思维”、“按照有一定顺序的、可预测的、程式化的方向进行思考”

第二步：逐一分析选项。

A项：“王侯将相宁有种乎”意思是那些称王侯拜将相的人，难道就比我们高贵吗？通过反问的语气来否认常规性观点（那些称王侯拜将相的人不一定比我们高贵），是一句非常带有反抗精神的话语，并没有按照习惯性的方向展开思维，不符合定义，当选；

B项：“种瓜得瓜，种豆得豆”是“种什么的什么”的常规性思维，是按照“可预测”的方向进行思考，符合定义，排除；

C项：“朝霞不出门，晚霞行千里”是古人根据长期的生活规律总结得来的，是按照“程式化”的方向进行思考，符合定义，排除；

D项：冬天结束了就是春天，“冬天来了，春天还会远吗”是按照“有一定顺序的方向”进行思考，符合定义，排除。

本题为选非题，故正确答案为A。

68. 【解析】D

第一步，找出定义关键词。

“政策设计初衷与实际执行效果呈现事与愿违的现象”；“导致现状恶化，强化了相关负面后果，造成恶性循环”。

第二步，逐一分析选项。

A项：禁酒是设计初衷，酒的销量不降反升符合“实际执行效果呈现事与愿违”，引发新的犯罪问题符合“现状恶化”，符合题干定义，排除；

B项：“为了整肃吏治、严明司法审判”是该项政策的设计初衷，新旧官员互相攻讦的武器符合“实际执行效果呈现事与愿违”并且“强化了相关负面后果”，符合题干定义，排除；

C项：“家长为了更有利于孩子成长”是设计初衷，“孩子养成了好逸恶劳的恶习”，符合实际执行效果呈现事与愿违”并且“强化了相关负面后果”，符合题干定义，排除；

D项：“老师提问害羞的孩子帮助其克服容易紧张的问题”是设计初衷，但是没有说明实际执行效果是否出现事与愿违的现象，不符合题干定义，当选。

本题为选非题，故正确答案为D。

69. 【解析】B

第一步，找出定义关键词。

“个体不能顺利应对工作压力时的一种极端反映”；“是个体在长时期压力体验下而产生的情感、态度和行为的衰竭状态”。

第二步，逐一分析选项。

A项：“刻苦训练多年”符合“长时期压力体验”；“斗志丧失，训练时无精打采”符合“情感、态度衰竭状态”，符合题干定义，排除；

B项：小强在家族企业上班，没有明确体现“应对工作压力”；并且“没过几天就心生倦意”不符合“长时期压力体验下”这一关键词，不符合题干定义，当选；

C项：李老师多年带高三学生，提高升学率而殚精竭虑，符合“个体在长时期压力体验”；并且失眠头疼属于行为的衰竭状态、对学生斥责属于对符合情感、态度衰竭状态。符合题干定义，排除；

D项：“在医院工作多年，经常加班”符合“长时期压力体验”；“对病人没有以前热情”符合“情感、态度的衰竭状态”，符合题干定义，排除。

故正确答案为B。

70. 【解析】B

第一步，找出定义关键词。

“某些生物在进化过程中具有与另一种生物或周围自然界物体的相似的形态”、“相似性很高，几乎难以分辨”、“可以保护某一物种或两个物种”

第二步，逐一分析选项。

A项：海豚、企鹅和带鱼这三种不同的物种都具有流线形身体这一相似性，但相似性是否很高，是否难以分辨不明确，不符合定义，排除；

B项：北极熊的皮毛逐渐变为与周围的环境相似的白色，体现了“某些生物在进化过程中具有与另一种生物或周围自然界物体的相似的形态”，可以掩护自己捕食时不被猎物过早发现体现了“相似性很高，几乎难以分辨”，符合定义，当选；

C项：大鲵的叫声与婴儿相似，并不是形态的相似，不符合“某些生物在进化过程中具有与另一种生物或周围自然界物体的相似的形态”，不符合定义，排除；

D项：杜鹃产的卵与宿主卵酷似，虽然符合“相似性很高，几乎难以分辨”，但这是杜鹃鸟产的卵本来就与宿主卵相似，并不是“某种生物在进化过程中具有与另一种生物或周围自然界物体的相似的形态”，没有体现“进化”，不符合定义，排除。

故正确答案为B。

71. 【解析】A

第一步：判断题干词语间逻辑关系

猪肝是猪的内脏，组成关系。

第二步：判断选项词语间逻辑关系

A项：鱼鳔是鱼的内脏，与题干逻辑关系一致，当选；

B项：马蹄是马的组成部分，但不是马的内脏，与题干逻辑关系不一致，排除；

C项：虫草是冬虫夏草的子实体与僵虫菌核（幼虫尸体）构成的复合体，虫是虫草的原材料，与题干逻辑关系不一致，排除；

D项：虾须是虾的组成部分，但不是虾的内脏，与题干逻辑关系不一致，排除。

故正确答案为A。

72. 【解析】D

第一步：判断题干词语间的逻辑关系

句子是由词语组成的，二者为包容关系。

第二步：判断选项词语间逻辑关系

A项：理性认识包括概念、判断、推理三种形式，因此概念、判断属于并列关系，二者不符合题干中的逻辑关系，排除；

B项：定义是指对于一种事物的特征简要说明；定理是经过受逻辑限制的证明为真的陈述，二者不是组成关系，不符合题干中的逻辑关系，排除；

C项：书本是指装订成册的著作；书籍是指装订成册的图书和文字，书本不是书籍的组成部分，不符合题干中的逻辑关系，排除；

D项：山脉是指一系列山连在一起，成一条线；山谷是指两山间低凹而狭窄处。山脉是由山谷组成的，二者为包容关系。与题干逻辑关系一致，当选。

故正确答案为D。

73. 【解析】B

第一步：判断题干词语间的逻辑关系

处之泰然是指若无其事的样子，表示很镇定，二者为近义词关系。

第二步：判断选项词语间逻辑关系

A项：大义凛然，常用来描写勇士受屈时或烈士遇难前的英勇气概，是形容英勇无畏，而不是形容壮烈，与题干逻辑关系不一致，排除；

B项：虚怀若谷，意指胸怀像山谷那样深而且宽广，形容十分谦虚。与谦虚是近义词关系，与题干逻辑关系一致，当选；

C项：杳如黄鹤原指传说中仙人骑着黄鹤飞去，从此不再回来，现比喻无影无踪或下落不明，是指没有消息。消失是指事物渐渐减少以至没有，事物不复存在。两者不是近义词关系，不符合题干中的逻辑关系，排除；
D项：似水流年。流年：光阴，形容时间一去不复返。与时间不是近义词关系，与题干逻辑关系不一致，当选。

故正确答案为B。

74. 【解析】A

第一步：分析题干词语间逻辑关系。

孤傲是一种品质，梅花可以形容孤傲的品质，品质是人的特征。

第二步：判断选项词语间逻辑关系。

A项：热情是一种性格，火可以形容热情的性格，性格人的特征，与题干逻辑关系一致，当选；

B项：月饼象征团圆，月饼是食品的一种，而团圆不是一种食品，与题干逻辑关系不一致，排除；

C项：鸽子象征和平，和平不是一种象征，与题干逻辑关系不一致，排除；

D项：禁行是一种信息，红灯是禁行的标志，可以象征禁行，但是禁行不是人的特征，与题干逻辑关系不一致，排除。

故正确答案为A。

75. 【解析】B

第一步：分析题干词语间逻辑关系。

报纸是新闻的载体，新闻具有时效性，题干为对应关系。

第二步：判断选项词语间逻辑关系。

A项：饭店是售卖食物的场所，与题干逻辑关系不一致，排除；

B项：电视是广告的载体，广告具有效果，为对应关系，与题干逻辑关系一致，当选；

C项：车站是汽车停泊的场所，不是载体，与题干逻辑关系不一致，排除；

D项：展会不是照片的载体，照片是展会展示的一种形式，像素的高低决定照片的清晰度，与题干逻辑关系不一致，排除。

故正确答案为B。

76. 【解析】C

第一步：判断题干词语间逻辑关系。

光盘和硬盘两者是并列关系，主要功能都是储存数据，光盘和硬盘与储存是功能对应关系。

第二步：判断选项词语间逻辑关系。

A项：绳索和衣架两者是并列关系，衣架的主要功能是晾晒衣物，而绳索的主要功能是连接、牵引，不是晾晒，与题干逻辑关系不一致，排除；

B项：钢叉和锅铲两者是并列关系，钢叉的主要功能是协助吃饭，而锅铲的主要功能是炒菜，与题干逻辑关系不一致，排除；

C项：签字笔和毛笔两者是并列关系，主要功能是书写文字，签字书和毛笔与书写是功能对应关系，与题干逻辑关系一致，当选；

D项：泳圈和泳衣两者是并列关系，泳圈的主要功能是协助游泳，泳衣是指游泳时专用的衣服，与题干逻辑关系不一致，排除。

故正确答案为C。

77. 【解析】A

将选项逐一代入，判断前后两组词语的逻辑关系。

A 项：水是生命的必要条件，二氧化碳是光合作用的必要条件，前后逻辑关系一致，当选；

B 项：水达到沸点时，水就变成水蒸气，两者是同一物质阳光是光合作用的必要条件，前后逻辑关系不一致，排除；

C 项：空气和水都是生物生存的必要条件，二者为并列关系，氧气是光合作用的产物，前后逻辑关系不一致，排除；

D 项：水可以用来灌溉，土壤和光合作用没有必然的逻辑关系，前后逻辑关系不一致，排除。

故正确答案为 A。

78. 【解析】C

逐一代入验证选项

A 项：针灸是中医学中治疗疾病的方法，中药是中医治疗时使用的药材，两者无必然联系，理财与消费是对钱的不同使用方式，前后逻辑关系不一致，排除；

B 项：针灸是中医学中治疗疾病的方法，理财是银行的一种业务，都是对应关系，但词语位置摆放顺序不一致，排除；

C 项：针灸是一种治疗手段，储蓄是一种理财手段，都是种属关系，前后逻辑关系一致，当选；

D 项：推拿与针灸并列，理财可以获得利息，前者是并列关系，后者是对应关系，前后逻辑关系不一致，排除。

故正确答案为 C。

79. 【解析】D

逐一代入验证选项

A 项：城市规划，主谓关系。协调鸿沟，动宾关系，前后逻辑关系不一致，排除；

B 项：计划与规划是近义词，鸿沟比喻事物间明显的界限，也比喻大河，前后逻辑关系不一致，排除；

C 项：因为有规划所以取得成功，因果关系。隔阂指情意不相通，彼此思想有距离，鸿沟指巨大的隔阂，前后逻辑关系不一致，排除；

D 项：用蓝图来比喻规划，用鸿沟来比喻界限，前后逻辑关系一致，当选。

故正确答案为 D。

80. 【解析】B

逐一代入验证选项

A 项：岳飞是宋朝人，陈胜是秦朝人而非汉朝人，前后逻辑关系不一致，排除；

B 项：金人是宋朝的外患，匈奴人是汉朝的外患，前后逻辑关系一致，当选；

C 项：词是一类文体，《汉书》是具体的某一本书，前后逻辑关系不一致，排除；

D 项：印刷术开始于隋唐时期的雕版印刷，北宋毕昇发明活字印刷术。长城始建于周朝，汉朝继续对长城进行修建，筑成了一条全程近一万公里的长城，故称为万里长城。所以应该是宋朝的活字印刷与汉朝的万里长城相对应，而非印刷术，前后逻辑关系不一致，排除。

故正确答案为 B。

81. 【解析】B

第一步：找到论点论据

论点：意象是中国古代文艺理论固有的概念和词语，并不是外来的东西。

论据：无

第二步：逐一分析选项

A 项：指出英美的“image”和中国的“意象”并非同一概念，但并不能直接说明“意象”在中国的原生性，

为不明确选项，排除；

B项：指出英美的“意象”实际上是深受到中国古代诗歌的影响，说明意象是中国固有的，而非外来词，相反是被外国人借用的，可以加强，当选；

C项：指出我国古代诗歌作为英美意象派诗人创作的灵感来源，但是并未明确说明“意象”这一概念是来自中国，为不明确选项，排除；

D项：单纯说明中国的“意象”一词涵义多、不确定，不能说明它是否在我国具有原生性，无关排除。
故正确答案为B。

82. 【解析】B

第一步：找到论点论据。

论点：“税价联动”会使香烟价格随着税率的提高而提高，购买香烟的人会减少，从控烟角度说是好事

论据：烟草消费税提高，并加征从量税

第二步：逐一分析选项。

A项：产量不会受到售价的影响，没有提及购买香烟人数减少的问题，属于无关选项，排除；

B项：收入水平的提高使人们对香烟价格不太敏感，说明价格不是购买香烟人考虑的因素，直接削弱论点；

C项：世界上大多数国家的烟草消费税问题并不能说明我国购买香烟人数会减少，与论点无关，属于无关选项，排除；

D项：私烟泛滥和购买香烟的人数之间没有必然联系，无关选项，排除。

故正确答案为B。

83. 【解析】C

第一步：找到论点论据。

论点：身体适度受损的中风幸存者仅通过简单廉价的运动就能获得更有效的效果

论据：对中风幸存者分组实验，健步走组比按摩组走得更远

第二步：逐一分析选项。

A项：补充条件说明步行者平均年龄比按摩组年龄高，还能走得更远，加强论点，排除；

B项：体质的改善让步行组生活质量更高，生活质量和走路距离无关，排除；

C项：步行组服用了药物，按摩组未服用，说明实验数据不一样，削弱论据，当选；

D项：论点强调的是身体适度受损的人，而选项强调的是身体严重受损的人，与题干讨论的主体不一致，属于无关选项，排除。

故正确答案为C。

84. 【解析】C

第一步：找到论点论据

论点：国有企业往往成为政府干预和调控经济的手段。

论据：国有企业与政府具有密切的产权关系。

第二步：逐一分析选项

A项：过剩行业中既有国有企业也有民营企业，与政府是否利用国有企业干预和调控经济无关；

B项：房地产行业前三强都是民营企业，享受到了信贷优惠，说明的是民营企业受到了政府的干预，但题干讨论的是国企，无关选项，排除；

C项：国有企业投资决策会受到地方政府的直接指导和干预，对题干论点进行支持，说明国有企业确实是政府干预和调控经济的手段，保留选项；

D项：部分大中型国有企业被政府遴选为“重点企业”，享受优惠，能够对题干国有企业是政府干预和调

控经济的手段这个观点进行支持；

C 和 D 选项进行比较，D 选项部分企业，是部分加强，C 选项直接强调的是国有企业，属于整体加强，C 选项当选。

故正确答案为 C。

85. 【解析】C

第一步：找到论点论据。

论点：游客的不文明行为破坏了萤火虫的生存环境

论据：某景区举办萤火虫展，大批游客观赏数日后，萤火虫的数量急剧下降。

第二步：逐一分析选项。

A 项：萤火虫对生态环境要求高，但游客不文明行为是否破坏了其生存环境并不清楚，属于无关选项，排除；

B 项：游客不文明的行为在其他景区也存在，不能说明该景区的游客不文明行为破坏了生存环境，属于无关选项，排除；

C 项：规范游客行为后萤火虫数量急剧下降说明，说明并不是游客不文明行为破坏的生存环境，削弱论点；

D 项：其他同类的昆虫数量与萤火虫的无关，属于无关选项，排除。

故正确答案为 C。

86. 【解析】B

由题干“2013 年……总额约为……亿元”，而且材料给出的时间为 2014 年，可判定此题为基期计算问题。定位文字第一段，可知 2014 年城镇消费品零售总额为 178.6 亿元，增长率为 13.5%，代入基期计算公式，

$$\text{基期} = \frac{\text{现期}}{1 + \text{增长率}} = \frac{178.6}{1 + 13.5\%} \approx 157 \text{ 亿元，与 B 项最接近。}$$

故正确答案为 B。

87. 【解析】C

由题干“与 2009 年相比，2014 年……增量最接近”，可判定此题为增长量计算问题。定位图表可得，2010 年社会消费品零售总额为 131.34 亿元，增长率为 18.45%，代入基期计算公式，

$$\text{基期} = \frac{\text{现期}}{1 + \text{增长率}} = \frac{131.34}{1 + 18.45\%} \approx 111 \text{ 亿元，则增长量} \approx 261.38 - 111 = 150.38 \text{ 亿元，与 C 项最接近。}$$

故正确答案为 C。

88. 【解析】A

由题干“同比增量的变化趋势”，可判定此题为增长量比较问题。定位图表，可得 2010-2014 年历年零售总额数据，根据增长量公式可得：

2011 年零售总额增量=157.61-131.34=26.27 亿元；

2012 年零售总额增量=182.82-157.61=25.21 亿元；

2013 年零售总额增量=230.90-182.82=48.08 亿元；

2014 年零售总额增量=261.38-230.90=30.48 亿元。

观察数据可知，2013 年（第三年）增量最高，2014 年比 2011 和 2012 年都高，排除 C、D 项；2011 和 2012 年很接近，但 2011 年要比 2012 年高，所以排除 B 项。

故正确答案为 A。

89. 【解析】D

由题干“上涨幅度从高到低排列”，而且在材料中可以直接找出对应上涨幅度数据，可判定此题为简单计

算中的排序类题目。定位第二段文字材料，衣着类（4.4%）、居住类（1.5%）、食品类（0.6%）、家庭设备用品及维修服务类（-1.1%），D项的排序符合从高到低的要求。

故正确答案为D。

90. 【解析】C

A项，定位文字材料第一段，可知批发业销售额增长率 $a=17.6\%$ ，社会消费品零售总额增长率 $b=13.2\%$ ，根据两期比重差公式 $\frac{A}{B} \times \frac{a-b}{1+a}$ ，因为 $a>b$ ，故比重上升，2014年比重高于上年水平，错误；

B项，定位图表，根据折线图和数据标签可知，2010年-2014年，只有2010、2012、2014这3年的增长率慢于20%，错误；

C项，定位图表，2013年和2014年的总额之和为 $261.38+230.90 \approx 490$ 亿元，前三年之和为 $131.34+157.61+182.82 \approx 470$ 亿元， $490>470$ ，正确；

D项，定位文字材料第二段，可知2014年烟酒类消费品价格增速为0.6%，而居民消费总水平增速为1.3%，前者慢于后者，错误。

故正确答案为C。

91. 【解析】B

由题干“2014年……占……”，结合材料所给年份是2014年，可判定该题是现期比重问题。定位文字材料第二段，“2014年新增各类金融单位96家，其中货币金融服务单位37家”，可得

$$\text{所占比重} = \frac{\text{2014年货币金融服务单位}}{\text{2014年新增各类金融单位}} = \frac{37}{96} \approx 38.5\% \text{（三成多）}。$$

故正确答案为B。

92. 【解析】A

题目所求“2014年间，……存贷款差增加了或者减少了……”，即2014年和2013年的存贷款之差。假设14年存贷款之差为 $A-B$ ，且14年存款增量为 a ，贷款增量为 b ，则13年存贷款之差为 $(A-a)-(B-b)$ ，则2014年和2013年的存贷款之差为 $(A-B)-[(A-a)-(B-b)]=a-b$ ，即增长量之差。定位文字材料第三段，“2014年末，全市中外资金融机构本外币各项存款余额比年初增加4612.96亿元；贷款余额比年初增加3424.23亿元”，所以2014年间上海市中外资金融机构本外币存贷款差 $=4612.96-3423.23 \approx 1200$ 亿元，所以增加了1千多亿元。

故正确答案为A。

93. 【解析】C

由题干“2014年……比2013年增加……万亿元”，可判定该题为增长量计算问题。定位文字材料最后一段，“2014年股票成交金额37.72万亿元，增长63.8%”，所以2014年上海市股票成交金额比2013年增加额万亿元。

故正确答案为C。

94. 【解析】A

由题干“2014年……同比增量最高的是……”，可判定该题是增长量比较问题。定位文字材料最后一段，“上海证券交易所各类有价证券总成交金额128.15万亿元，增长48.1%，中国金融期货交易所总成交金额164.02万亿元，增长16.3%，上海黄金交易所总成交金额6.51万亿元，增长24.7%，上海期货交易所总成交金额126.47万亿元，增长4.7%”，可得2014年上海证券交易所成交金额同比增量 $= \frac{128.15}{1+48.5\%} \times 48.5\% \approx \frac{128.15}{1+\frac{1}{2}} \times \frac{1}{2} = \frac{128.15}{3} \approx 42.7$ 万亿元；2014年中国金融期货交易所成交金额同比增量

$$= \frac{164.02}{1+16.3\%} \times 16.3\% \approx \frac{164.02}{1+\frac{1}{6}} \times \frac{1}{6} = \frac{164.02}{7} = 23.4 \text{ 万亿元};$$

2014 年上海黄金交易所成交金额同比增量

$$= \frac{6.51}{1+24.7\%} \times 24.7\% \approx \frac{6.51}{1+\frac{1}{4}} \times \frac{1}{4} = \frac{6.51}{5} \approx 1.3 \text{ 万亿元};$$

2014 年上海期货交易所总成交金额同比增量亿元，所

以 2014 年上海证券交易所成交金额同比增量最高。

故正确答案为 A。

95. 【解析】C

A 项：定位文字材料第一段，“2014 年，上海市全年实现金融业增加值 3268.43 亿元，比上年增长 14%”，所以 2013 年上海市实现金融业增加值 = $\frac{3268.43}{1+14\%} \approx 2867 \text{ 亿元} < 3000 \text{ 亿元}$ ，错误；

B 项：定位文字材料最后一段，上海证券交易所各类有价证券总成交金额增长 $b=48.1\%$ ，股票成交金额增长 $a=63.8\%$ ， $a > b$ 则比重上升，故 2014 年股票成交金额占比 $>$ 2013 年股票成交金额占比，错误；

C 项：定位文字材料第二段，货币金融服务单位 601 家，资本市场服务单位 292 家，所以 $601 \times \frac{1}{2} = 300.5 > 292$ ，所以 2014 年末上海市资本市场服务单位数量不到货币金融服务单位数量的一半，正确；

D 项：定位文字材料最后一段，2014 年间上海市银行间市场月均成交金额 = $\frac{361.51}{12} < \frac{372}{12} = 31 \text{ 万亿元}$ ，所以 2014 年间上海市银行间市场月均成交金额低于 31 万亿元，错误。

故正确答案为 C。

96. 【解析】B

由题干“2012 年……占……比重”，可知本题为现期比重问题。定位表格材料可知，2012 年进口数量最高的商品为铁矿砂及其精矿（74355 万吨）。定位文字和表格材料可知，2012 年全年货物进口总额为 18178 亿美元，铁矿砂及其精矿的进口金额为 956 亿美元，故所求比重为： $\frac{956}{18178} \approx \frac{956}{18000} \approx 5\%$ 。

故正确答案为 B。

97. 【解析】C

由题干“2012 年……都比去年增长”可知本题为直接找数问题。数值比去年增长，即增长率大于 0，定位表格材料可知，2012 年我国进出口数量和金额的增长率都大于 0 的有：谷物及谷物粉、大豆、食用植物油、氧化铝、煤（包括褐煤）、原油、未锻造的铜及铜材，共 7 种。

故正确答案为 C。

98. 【解析】A

由题干“2012 年我国贸易顺逆关系与上年不同”可知本题为基期和差问题。定位表格材料，贸易顺逆关系与上年不同，即为一年是顺差、一年是逆差。逐项验证答案：

东盟：2012 年出口额和进口额分别为：2043、1958，出口额 $>$ 进口额，为贸易顺差；

2011 年出口额和进口额分别为： $\frac{2043}{1+20.1\%} \approx 1700$ 、 $\frac{1958}{1+1.5\%} \approx 19000$ ，出口额 $<$ 进口额，为贸易逆差，

故东盟两年的贸易顺逆差关系不同。A 项满足题意，无需验证剩余选项。

故正确答案为 A。

99. 【解析】C

由题干“2012 年……是……的多少倍”可知本题为现期倍数问题。定位表格材料可知，进出口贸易额最高

的地区是欧盟：3340+2121=5461 亿美元，进出口贸易额最低的国家是印度：477+188=665 亿美元，故所求倍数为： $\frac{5461}{665} \approx 8.2$ 倍。

故正确答案为 C。

100. 【解析】D

A 项：2012 年我国全年货物进出口顺差额为：20489-18178=2311 亿美元；2011 年我国全年货物进出口顺差额为： $\frac{20489}{1+7.9\%} - \frac{18178}{1+4.3\%} \approx 19000 - 17400 = 1600$ 亿美元，2311>1600，则 2012 年我国全年货物进出口顺差额高于上年水平，错误；

B 项：2011 年我国煤（包括褐煤）进口数量为： $\frac{28851}{1+29.8\%} \approx 22000$ 亿美元；2011 年我国原油进口数量为： $\frac{27102}{1+6.8\%} \approx 25000$ 亿美元，则 2011 年我国煤（包括褐煤）进口数量低于原油进口数量，错误；

C 项：2012 年日本对华贸易额+进口额+出口额=1516+1778=3294 亿美元；2011 年日本对华贸易额=进口额+出口额= $\frac{1516}{1+2.3\%} + \frac{1778}{1-8.6\%} \approx 1480 + 1950 = 3430$ 亿美元，3294<3430，则 2012 年日本对华贸易额低于上年水平，错误；

D 项：2012 年我国进口钢材的平均每吨价格，正确。

故正确答案为 D。

4 2017年四川申论真题卷

一、注意事项

1. 本题本由给定资料与作答要求两部分组成。考试时间为150分钟。其中，阅读给定资料参考时限为40分钟，作答参考时限为110分钟。满分100分。
2. 请在题本、答题卡指定位置上用黑色字迹的钢笔或签字笔填写自己的姓名和准考证号，并用2B铅笔在准考证号对应的数字上填涂。
3. 请用黑色字迹的钢笔或签字笔在答题卡上指定的区域内作答，超出答题区域的作答无效!
4. 待监考人员宣布考试开始后，你才可以开始答题。
5. 所有题目一律使用现代汉语作答，未按要求作答的，不得分。
6. 监考人员宣布考试结束时，考生应立即停止作答，将题本、答题卡和草稿纸都翻过来留在桌上，待监考人员确认数量无误、允许离开后，方可离开。

严禁折叠答题卡!

二、给定资料

材料1:

习近平总书记在第二届世界互联网大会的主旨演讲中指出：“要加强网络伦理、网络文明建设，发挥道德教化引导作用，用人数文明优秀成果滋养网络空间、修复网络生态。”

2016年里约奥运会，中国女排夺冠。国内外各大媒体纷纷进行报道，有网友表示，“这是奥运会三大球中夺冠的唯一一支亚洲队，而且是女子项目，真不错。”各舆论平台都发表了满满正能量的评论，网络空间难得地呈现出一片欢欣鼓舞的气象。女排奥运夺冠与女排精神成为网络流行的话题，女排精神也成为鼓舞国人实现中国梦的重要动力。

有评论指出，国人感动于女排无畏无惧、自强不息精神力量的同时，一种“女排精神成就中国”的说法也随之蔓延。殊不知，中国梦才是成就女排精神的根本。梦想是引导前进的目标。女排精神并非凭空产生，也不是无根发芽。而是源于一种力量、一种激情，那就是把国家利益、民族利益和每个人具体利益紧密联系在一起的中华民族伟大复兴中国梦。

我国近7亿网民的海量规模充分证明，网络空间已经成为公众生活不可分离的精神家园。广大网民对于继承和弘扬中华优秀传统文化的需求更为迫切，也充分意识到净化网络空间、建设和规范网络伦理的必要性。从网络评论、新闻跟帖留言、论坛话题等方面可以看出，女排精神以及作为源泉的中国梦必将成为润化网络空间的强大“正能量”，正确加以引导，运用，一定会在建设网络伦理、修复网络生态中发挥重要的作用。

材料2:

美国学者理查德·斯皮内洛说过：“技术往往比伦理学理论发展得快，而这方面的滞后效应往往会给我们带来相当大的危害”。确实，网络伦理的失范会给社会带来一系列问题。

关于网络伦理，有学者指出这是20世纪中叶以来新兴的应用伦理学研究的重要内容，是指人们在网络空间中应该遵守的行为道德准则和规范。

随着互联网的蓬勃发展，我们遭遇的网络虚假信息越来越多，花样也变得层出不穷，时常难辨真伪，例如，轰动一时的朱自清的《背影》因“违反交规”被逐出教材、香蕉得艾滋病濒临灭绝、哈尔滨赚钱不给老婆花算家暴、东莞警方将拘留非法同居者、95后女网友“身体换旅行”等等。这样的虚假新闻不仅混淆是非，给当事人造成了困扰，而且引发了对世界观、人生观、价值观的冲击，危害不小。从技术层面讲，谣言的产生是因为网络的开放性和匿名性；从社会层面讲，是由于权威信息的滞后以及危机预警能力差；从受众层面讲，是因为公众具有猎奇、娱乐、恐慌、盲从及网上宣泄的心理。

2015年，“成都女司机被打事件”的当事人被“人肉搜索”，个人隐私被大肆转发。一场因违章而引发的文明开车讨论，异化成对当事人二次伤害的“网络暴力”事件。当事人面对镜头泣不成声，其家人表示抗议，要诉诸法律，却引来网友更多批判。部分网民对个人信息无边界侵害、对个人道德无限制审判，甚至为了一时情绪的发泄随意谩骂、人肉骚扰，给当事人以及理性的评论者带来了不可言说的伤害。

中国预防青少年犯罪研究会的统计资料显示：目前未成年人犯罪总数中，有70%的少年犯因网络色情、暴力内容影响而诱发盗窃、抢劫、强奸等几类严重犯罪，对传统伦理观念和伦理规范带来了严重的冲击。在此类事件中，青少年可以通过低价、便捷的方式连接互联网，同时利用网络的匿名性，使得网络侵害者与受害者之间的关系复杂化，继而将网络影响现实化。

2016年7月12日，文化部公布了对一批网络表演平台的查处结果，26个网络表演平台被查处，16881名网络表演者被处理。“现在手机几乎成了学生的标配，直播平台里防不胜防的色情信息实在让人担心”，北京一位家长说。“新华视点”记者调查发现，随着网络直播中单从PC端走向移动端，直播开始步入全民时代。与此同时，网络直播中的色情、玻璃、侵权等问题也随之凸显，严重影响青少年的身心健康。

如果说2015年是网红年的话，2016年就是直播年了。六间房秀场上，一团队打着户外主播的名义进山林捕杀野生动物，且手段残忍，却吸引了失少三万多粉丝的关注。在这场娱乐的无极限狂欢中国，什么道德、法律、文明都被抛掉，取而代之的是娱乐至死的疯狂举动。不可否认，这种无序性源于网络的低门槛、开放性和相对虚拟等特质，但更是“眼球经济”在背后推波助澜。

材料3:

网络上文字内容的光怪陆离、图片的鲜艳夺目、标志的新奇诱人，都会使网络用户目不暇接，难以自拔。作家王蒙将触屏时代的到来称为“心智灾难”。在他看来，触屏和电视一样，提供了一些文化含量可疑的声像信息，让人们再度被科技征服。电脑与鼠标、触屏和智能手机先后冲进生活、杀入头脑，它们“提供了最全面的服务与引领，也许还有劫持”。如多伦多大学学者纳尔逊·塔尔所说：“今天，电子技术将人脑加速到一个异乎寻常的速度，而人的肉体支原地不动，这样形成的鸿沟造成了巨大的精神压力。”在强大的诱惑力面前，人们不知不觉地在网上投入了过多的时间，感知了一些不该感知或不宜过多感知的内容，忽视了正常的工作、学习和生活。在这样的过程中，网络用户被诱发生理和心理疾病，导致异化倾向的概率是非常高的。

2015年7月29日，一场EXO跟TFboys的粉线在网上的骂战引发了极高的关注。起因是由于一则TFboys小学生粉丝所录制的视频指责EXO，引发了EXO和TFboys双方粉丝在网上互掐。仅仅几分钟的视频，在24小时内微博浏览量飙升3300万，瞬间登上了“微博热门话题榜”。对此，心理专家说：“现在的孩子自降生下来就生活在网络环境之中，网络中各种各样的讯息几乎无时无刻不在影响着他们。孩子会为自己制定角色，作为某个明星的粉丝，就是一种角色意识。角色一旦不被认知，加上网络的污秽之气，孩子不自觉地就会模仿，特别是骂人用语，这其实就是网络暴力的行为，它伤害孩子的心灵，激发愤怒，从而做出过激行为。”网络制造了源于但又远于生活的虚拟情景空间，上网者被赋予了独特的角色，能够满足现实生活中难以实现的各种欲望，久而久之，就导致了现实伦理与网络伦理的错位。现实世界中的普通人张三在网络游戏中可以是受万人敬仰的大英雄，身边美女环绕，众将惟其马首是瞻。

2016年6月28日上午，某省公安厅召开“飓风10号”专案新闻发布会，通报了近期成功打掉“传销式”网络交友诈骗案的情况。该团伙的诈骗手段是利用QQ、微信等网络聊天工具，从网络上下载面容姣好的女性图片作为头像，以交男朋友的形式，通过微信红包和银行转账等方式骗取受害人的金钱。“在网上没有人知道你是条一狗。”网络的隐匿性使人们可以随意注册身份，编造个人所期望的身份资料，使人们可以体验其自由选择的各种社会角色，达成各种交际目的，甚至包括经济诈骗、感情欺骗等。这是网络导致网民社会角色异化的典型案例。通过网络，网民可以实现性别异化（男人可以用女人的思维、情感、表达方式在网上交友，反之亦然）、年龄异化（老人可以用年轻人的口气、情调、交流方式在网上交友，反之亦然）、身份异化（上网者

可以随意编造自己的职业、学历、经历、婚姻状况等等，以各种身份出现在网上交际场合，赢得对方的好感以致迷恋）。

材料 4:

某澳洲女留学生被害一事引发舆论关注，但在网上却出现了不和谐的一幕，部分网络留言内容低俗甚至污秽。毋庸讳言，不管什么事，只要捅到网上了，部分“盖楼”的网络从来不怕事大，也不怕措词有多尖刻，说话有多脏，凡能让网友觉得“痛快”的，只要能说出口的，一律不含糊，像竹筒倒豆子一样，全都倒了出来。

仔细分析，网民在网上无论是对事实的关注度还是对黑子、粉丝或偶像的态度上，都要比现实生活中高，比现实生活中顾忌少，所以在网络这个大环境下，可控性更弱。这些特性对现有的舆论体系产生了巨大的冲击。因为网民在网络上显示的往往是不同于生活的一面。这一面既有可能来源于伪装，也可能是来自于对人性放纵一面的回归。因此现有的道德体系在网络世界上逐渐被瓦解。例如，生活中绝大部分场合，我们对人身攻击是持坚决抵触的情绪，而在网民文化中却可能成为一种最为熟悉且亲切的问候方式。在这个人人都脱下假面的世界，因对虚拟的轻蔑与放松，原来一本正经的道德体系便不再适用。彼此互不认识的情况下，包袱一旦放下，侵犯与伦理的错位就有可能发生。

“51%的受访者每天会用超过一小时阅读社交媒体上的信息（刷微信、看微博或通过电子设备看新闻等）。”这是亚马逊中国 2015 全民阅读调查报告给出的数据。随着智能手机的普及，碎片化阅读的时长每年增长近 10%，是纸质书籍及的近 4 倍。碎片化阅读，对传统阅读方式正产生着越来越大的冲击。

著名学者许纪霖也在微博上直言碎片化阅读的后果是“毁三观”，因为“世界观、人生观、价值观是人们对宇宙、自然、社会的一整套观念、一整套理解，而今天由于知识的碎片化、资讯的零碎化，不少年轻人是通过各种破碎的知识和资讯，‘拼凑’起自己其实没有世界观的‘三观’，他们的表达方式也是破碎的。”碎片化阅读很轻松，有一度他自己也沉迷于刷微博，“我发现自己没有了读书的时间，微博、微信上的‘信息快餐’，90%的内容看完就忘，为了记住 10%的东西，浪费了 90%的时间，这让我产生了恐惧感。”

茅盾文学奖得主，著名作家麦家则以自己跟孩子的聊天为例说明自己的担忧，“有时我能明显感觉到他的某些用词、观点简单粗暴，绝对不是从我推荐的书中看来的，那只能是从网络阅读中带来的，可他在网上到帝都了些什么，我无从知晓。”

毋庸置疑，碎片信息影响了我们的伦理取向。当我们吸收他人各式各样的想法时，他们即成为我们的一部分，同样，我们也成为他们的一部分。充斥各种声音的多元文化社会，使人们沉浸于不一致与风马牛不相及的自我言语中，有学者指出：“年轻人不阅读名著、不动笔、不进行思考性的阅读，思维模式就会渐渐浅表化，这很危险，长此以往我们会被技术手段绑架。”

材料 5:

发挥中国传统文化在修复网络生态、建设网络伦理等方面的作用，首先需要正确的文化传播。优秀传统文化如何在互联网时代实现良好的传承、弘扬、发展、革新？如何通过恢复和创新“诗书礼乐”国学教育体系，使网民对中国文化精神内化于心、外化于行？2016 年 5 月 14 日，中国文化网络传播首届高峰论坛在北京师范大学举行，专家就相关话题展开了论坛。

当下，国民的文化认同是国家安全的文化基础，国民的文明修养已成为中国现代化成功与否的瓶颈等话题已成为大众意识到的问题。“观乎人文以化成天下者，言圣人观察人文，则《诗》《书》《礼》《乐》之谓，当法此教而‘化成天下’也。”人文是什么？以文化人的“文”指的是什么？圣人观察人与社会的关系规律，选择诗书礼乐为教法，来改变天下人的行为习惯，向大同文明前进。“文”，乃诗书礼乐也。诗是谈吐的训练，书是文笔的锤炼，礼是举止的修炼，乐是性情的冶炼，健康完备地传播中国传统文化的内容在现代传播过程中显示尤其重要。

正因为传统文化在陶冶人心方面的重要性，在新的历史条件下，我们必须全面认识祖国传统文化，古为今用，推陈出新，积极开展优秀文化教育普及活动，发挥国民教育在文化传承创新中的基础性作用，从而为网络伦理的建设与规范奠定坚实的基础。因此，应该在各层次教育体系中增加国学课程内容，加强国学研究基地建设，我们在日常也应该提倡尊孔读经，尊重圣人，尊重文化，尊重良心，尊重道德，博之以文，约之以礼。时时力戒一贪嗔痴慢疑，每日精进一恒喜孝诚习；改掉坏秉性一恨怨心怒烦，发掘善天性一仁义礼智信。只有持之以恒、精研细读，大众才能把国学作为一种生命价值和生活规约。也只有这样才能发挥传统文化在网络伦理建设中的作用。

在信息化建设下，新兴的互联网技术重构了社会空间，文化生态、文艺生态发生了巨大变化，传统文艺场域受到冲击，新型社会空间需要新的文艺场域形成。中国文联文艺资源中心副主任冉茂金认为，在这个信息社会大环境发展趋势之下，传统文化的现代传播要以传承为生、以创新为命。传统文化对现代化建设有着重要的积极意义，又能够丰富网络空间的内容建设和价值观建设。故宫、国博等单位的数字化工程，都是传统文化的现代化传播方式。每一代的文化都是包容开放的，有着很多的创新。传统文化要融入今天的工作形态和生活形态，就需要文化单位利用大数据等数字化的技术手段，以互联网思维构建数字工作平台集群的文化信息化道路。

材料 6:

传统文化对网络伦理的滋养，还需要我们转换思维，发掘内容，创新形式，注意教化的方式与态度。

2016年，一则关于“网络端午”的新闻吸引了大家的眼球。众所周知，端午节是中华民族的传统节日。每年的农历五月初五，人们通过包粽子、戴香包、挂菖蒲、赛龙舟等一系列传统习俗活动来纪念著名爱国诗人屈原，通过与每个个体紧密关联的节日，可以激活历史传统、唤起文化记忆，塑造着一个民族共同的心灵认同。但是，传统的节日不能只是变成商家促销的噱头，不能只是成为购物节、吃饭节、旅游节，也要适应现代生活需要，创新过节方式。

在这个信息化时代，把中国的网络文化融入传统节日里，能让传统更为时尚，感悟节日意义，凸显端午精神。比如，“网络中国节”活动，就是希望在今天重新挖掘和弘扬传统节日里的中国故事和中国精神，理解和传承节日所承载的那些价值理念和传统美德，让我们成为具有传统文化修养的当代中国人。

有评估认为，“互联网+”时代，更要充分发挥中华优秀传统文化凝聚人心，滋养网络的积极作用。运用互联网+思维，切实打造网络文化精品，探索中华文化网络传播的方法和途径，让中华文化得到创新和传承，让中华传统文化的魅力熏陶网民。深度挖掘中华优秀传统文化中的民族精神与时代意义，让端午节所承载的爱国精神和情操，能更加现代化、人性化地与生命联系，逐渐演变成蕴含独特民族精神和丰富文化的传统节日，成为人类非物质文化遗产宝库中的瑰宝。

北京市社会文化科学院文化研究所黄仲山认为，在坚持传统文化优秀基因的基础上，站在网络受众角度，摆脱简单的灌输方式，努力培养有营养、有质感、有活力的文化传播方式。在网络中传播传统文化，传播者需是老中青人口味，避免利用网络空间进行简单的“文化晾晒”。我们要认真研究网络受众的心理特征和兴趣点找到灵活多样的传播方式，把“阳春白雪”变得“喜闻乐见”。

事实上，也只有这样，才能让传统文化真正深入网民内心，才能让传统的道德文化潜移默化地成为网络伦理的重要规范。

三、作答要求

(一) 根据给定资料 2，概括当前网络伦理失范的危害。(20 分)

要求：全面准确，简明扼要，不超过 200 字。

(二) 假设你是某市文明办工作人员，给定资料 5-6 是你搜集的资料，就“如何弘扬优秀传统文化，发挥道德教化引导作用，滋养网络空间，修复网络生态”向领导提出意见。(30 分)

要求：内容全面，紧扣材料，观点明确，有针对性；层次分明，条理清晰，不超过 500 字。

（三）网络空间已成为公众生活须臾不可分离的精神家园，而在虚拟的网络世界中，现有的道德体系受到冲击，侵犯和伦理的错位可能发生，净化网络空间，加强网络文明建设需要更多的正能量。请从材料出发，联系实际，以“网络文明建设呼唤正能量”为主旨，自拟题目，写一篇论文。（50 分）

要求：不拘泥于给定资料；观点明确，内容充实，结构完整，语言流畅；总字数 800-1000 字

温馨提示:

2018 年公考通网校重新起航

系统班+考前直播冲刺班+一对一申论批改班+面试通关课程

更多好课等你挑选!

【参考答案与解析】

(一) 【参考答案】

1. 给当事人和理性评论者带来伤害。伦理失范混淆是非，给当事人和理性评论者构成困扰，对其世界观、人生观、价值观造成冲击和危害。
2. 严重影响青少年的身心健康。诱发青少年犯罪，特别是盗窃、抢劫、强奸等几类严重犯罪。
3. 严重冲击传统伦理观念和伦理规范，道德、法律、文明被抛弃。

(二) 【参考答案】

1. 在日常提倡尊重传统文化。尊重圣人和良心，尊重道德，博之以文，约之以礼。倡议大众持之以恒、精研细读，把国学作为一种生命价值和生活规约。健康完备的传播中国传统文化内容。
2. 积极开展优秀传统文化教育普及活动。发挥国民教育在文化传承创新中的基础性作用，在各层次教育体系中增加国学课程内容，加强国学研究基地建设。为网络伦理的建设与规范奠定基础。
3. 深度挖掘优秀传统文化中的民族精神与时代意义。理解传统节日所承载的价值理念和传统美德，让其承载的民族精神和情操，能更加现代化、人性化的与生命联系。让传统节日成为人类非物质文化遗产宝库中的瑰宝。
4. 充分发挥优秀传统文化凝聚人心，滋养网络的积极作用。运用互联网+思维，打造网络文化精品，探索中华文化网络直播的方法和途径，熏陶网民，提高国人文化修养，让中华文化得到创新和传承。
5. 培养新的文化传播方式。在坚持传统文化优秀基因的基础上，站在网络受众角度，研究心理特征和兴趣点，努力培养有营养、有质感、有活力的，灵活多样的文化传播方式。让传统文化深入网民内心，成为网络伦理的规范。

(三) 【参考例文】

道德教化激发网络正能量

网络暴力、污言秽语、造谣诈骗、虚假炒作……网络空间似乎弥漫着乌烟瘴气。网络文明的建设，网络生态的修复，网络行为的约束都迫在眉睫，应该早日提上日程。虽然我们出台了不少法律条文、行为规范，然而“徒法不足以自行”，更多还要依靠道德教化来重建网络伦理，激发网络正能量。从号召多读书到价值观的重塑，从文明氛围的熏陶到传统文化的弘扬，道德教化对于构建网络文明、净化网络环境、传播网络正能量至关重要。

道德教化是软约束，比起法律更能润物无声、循序渐进地净化网络空间，营造文明氛围。网络需要秩序，维持秩序的手段通常包括风俗、舆论、宗教、道德、法律等，其中法律和道德是最主要的途径。网络治理的一个基本原则是“网络并非法外之地”，网络治理的更高原则是“网络是人们平等分享技术进步和顺利获得社会交往乐趣的空间”，后者就需要引入网络伦理。因此，在流动化时代和高匿名性的网络空间，道德调解是极具建设性的，它通过舆论评价和个人反省自检，唤起人们主动对照网络伦理规范的要求，更提醒当事人要严于律己，与他人理性讨论，彼此尊重。

道德教化还能重塑个人的价值观，用精神的力量来感召网络伦理。人肉搜索、碎片化阅读、娱乐至死……这些网络行为一定程度上反映了网络上独特的价值观。这样的价值观是脱离传统伦理和主流价值观的，网络也

是一个社会形态，离开了道德教化，同样是一盘散沙。中国古代大一统国家之所以能够维持两千余年，靠的就是“纲常名教”这样的道德教化。西方国家的现代文明秩序也得益于各种社会组织参与其中的广泛社会教化。可以相信，网络伦理建设将使每个网民受益，通过澄清网络空间，可以增大网民在网络世界驰骋的自由度，落实网民个人信息存取、流动的安全性，最终提高网民因网络带来的便利、高效而获得的幸福感。

当然，道德教化的过程可能会更漫长，因为任何一种站得住脚的道德要求都要经历无数次试错，积累持久和广泛的日常生活基础。但我们不能因噎废食，而应砥砺前行。

因此，注重道德教育，要引导人们多读书，更要挖掘中国传统文化优势，以文化人。网络似乎占用了大家大多的时间，碎片化的阅读更是肢解了我们的价值观，重读经典、多读经典是当前救赎网络伦理的重要途径。更关键的是要充分重视传统文化的教化作用。当然，对待传统文化有一个去粗取精、深入挖掘、整理加工的过程。多挖掘中国传统文化精髓中的“仁爱”、“诚信”、“义利”、“慎独”的精神资源，从而促进一个良好的网络伦理规范的构建。同时，传统文化要与时俱进，大胆的与现代网络文化融合。

网络时代是大势所趋，各国更应高瞻远瞩，未雨绸缪，道德教化势必会成为网络伦理构建最关键的手段。对于每个个体而言，无论是普通网民，还是企业、社会组织，在网络使用、信息传播、新闻报道等方面都要坚守底线、坚守道德，只有这样，人类的尊严、自由、秩序才能在互联网世界得到有效保障。

5 2018年四川行测真题卷

第一部分 常识判断

(共15题,参考时限15分钟)

根据题目要求,在四个选项中选出一个最恰当的答案。

1. 十九大报告中总结了过去五年我国在经济建设、民主法制建设、思想文化建设、人民生活、生态文明建设等方面取得的历史性成就。下列不属于过去五年我国经济建设取得的重大成就的是()

- A. 南海岛礁建设积极推进
- B. 农业现代化稳步推进,粮食生产能力达到一万二千亿斤
- C. 就业状况持续改善,城镇新增就业年均一千三百万人以上
- D. 城镇化率年均提高一点二个百分点,八千多万农业转移人口成为城镇居民

2. 习近平总书记在党的十九大报告中明确要求:“打造共建共享的社会治理格局。”下列不属于社会治理措施的是()

- A. 加强平安中国建设
- B. 加强社区治理体系建设
- C. 加强国家安全体系建设
- D. 加强预防和化解社会矛盾机制建设

3. 刘某偷得同事一张信用卡和身份证,向女朋友黄某谎称路上捡到的,刘某、黄某根据身份证号码试出信用卡密码,持卡消费5000元,关于刘某和黄某的行为,下列哪一说法正确()

- A. 刘某和黄某均构成盗窃罪
- B. 刘某和黄某均构成信用卡诈骗罪
- C. 刘某构成盗窃罪,黄某构成信用卡诈骗罪
- D. 刘某构成信用卡诈骗罪,黄某不构成犯罪

4. 下列行为构成盗窃罪的是()

- A. 张某无意间将李某埋藏在屋外树下的十万元现金挖出,并占为己有,拒不交出
- B. 胡某在任邮政局营业员期间,盗取储户的存折密码,然后冒充储户在取款单上签名,提取现金40余万元

C. 张某在给客户维修网络过程中获知该客户的网游账号和密码,后张某和其朋友利用该账号和密码在网吧玩网游,共消费3000余元

D. 赵某意欲窃走丁某的手提包,在其刚拿到手提包准备离开时被丁某发现,丁某当即抓住手提包,但因力气较小,最终手提包还是被赵某夺走

5. 对于债务关系主体,如果实际通货膨胀率高于预期的水平,则下列说法正确的是()

- A. 债务人和债权人都受损
- B. 债务人和债权人都受益
- C. 债权人受损,债务人受益
- D. 债务人受损,债权人受益

6. 关于税收,下列说法错误的是()

- A. 涉及税收的制度只能由法律来规定
- B. 履行纳税义务是公民享有其他权利的前提条件
- C. 企业在缴纳增值税时应当扣除企业的经营成本
- D. 小王抽奖获得的10万元奖金应当缴纳个人所得税

7. 下列与哲学有关的说法正确的是()

- A. “感觉是人与世界之间的屏障”是不可知论的观点

- B. “千军易得，一将难求”是否认群众作用的历史唯心主义观点
 C. 从哲学角度来看，“机不可失，时不再来”说明了时间的绝对性
 D. “不识庐山真面目，只缘身在此山中”说明真理是具体和多元的
8. 宗教对文学艺术的创作影响深远，下列未受宗教影响的作品是（ ）
 A. 米开朗基罗的《大卫》 B. 柴可夫斯基的《天鹅湖》
 C. 大仲马的《基督山伯爵》 D. 达·芬奇的《最后的晚餐》
9. 下列情形不可能发生在中国宋代的是（ ）
 A. 农户张三用铁犁耕地 B. 士兵李四用火药攻城
 C. 商人王五用交子订货 D. 厨师赵六用番茄制酱
10. 下列诗句所描写的我国名山大川，按照从北到南的顺序，排列正确的是（ ）
 ①会当凌绝顶，一览众山小
 ②坚冰连夏处，太白接青天
 ③横看成岭侧成峰，远近高低各不同
 ④罗浮山下四时春，卢橘杨梅次第新
 A. ③④②① B. ①②③④
 C. ②①④③ D. ④①②③
11. 以下著名建筑中，所处地点的地球纬线最长的是（ ）



A



B



C



D

12. 下列可能出现次生盐碱化的地区是（ ）
 A. 水土流失严重地区
 B. 地下水位很高的湿润区
 C. 蒸发量较大的旱作漫灌区
 D. 大量抽取地下水致地面下沉的地区
13. 下列生活常识中，表述错误的是（ ）
 A. 药物大多饭后服用，是为了减少对胃肠道的刺激
 B. 大米久泡，会使无机盐和可溶性维生素溶于水而损失
 C. 经常用冷水刷牙，容易导致牙龈出血、牙髓痉挛等疾病
 D. 发烧时喝茶能辅助降温，因为茶叶所含的茶碱能降低人体温度
14. 下列关于航天员的太空生活说法不正确的是（ ）
 A. 太空食品与我们日常食品并无显著差异
 B. 航天员在舱内睡眠可采取直立、倒挂等姿势
 C. 航天员在太空舱内可以直接用语言进行交流
 D. 航天员在舱内工作时可以穿比较舒适的工作服
15. 关于物理现象，下列说法错误的是（ ）
 A. 将充满空气的气球放气时，气球内的温度比外界高

- B. 用易拉罐给收音机做一个密封壳，可以屏蔽无线电波
C. 用沾过洗洁精的抹布擦拭汽车玻璃，可以避免车窗产生水雾
D. 充满空气的黑色密封塑料袋在太阳底下暴晒，塑料袋会慢慢上升

第二部分 言语理解与表达

(共 30 题，参考时限 35 分钟)

本部分包括表达与理解两方面的内容。请根据题目要求，在四个选项中选出一个最恰当的答案。

16. 山有山的雄峻，水有水的柔婉，云有云的缥缈，而表现出的美丽各不相同。如果每个人都成为一道_____的风景，生活就是绚丽多姿的世界。

填入画横线部分最恰当的一项是 ()

- A. 熠熠生辉 B. 引人入胜 C. 与众不同 D. 美轮美奂

17. 圆明园废墟是北京城最有历史感的文化遗迹之一，如果把它完全铲平，造一座崭新的圆明园，该是多么_____。大清王朝不见了，熊熊火光不见了，民族的郁忿不见了，历史的感悟不见了，抹去了昨夜的故事，收拾来的只是今日的游戏。

填入画横线部分最恰当的一项是 ()

- A. 天马行空 B. 得不偿失 C. 耸人听闻 D. 不可思议

18. 虽然大学校园环境的文化濡染作用是在潜移默化中逐步实现的，但为了保证校园环境有效地发挥作用，有必要对某些非言语信息有意识地进行_____，让其主动争取学生的关注。不过，尽量不要让环境带有过于强制的色彩，以免使人产生_____心理。

依次填入画横线部分最恰当的一项是 ()

- A. 引导 厌倦 B. 整合 抵触
C. 强化 排斥 D. 改造 逆反

19. 在全球化的视野下，每个城市都与世界上其他地区发生着直接或间接的联系，这就使得中国城市的发展不能_____，隔绝与其他地区的联系。现代城市的发展越来越趋向于多元化，每个城市都_____自己的特征，形成特色鲜明的城市单体，这意味着城市之间的互补性增强，城市之间除竞争以外更多的是合作关系。

依次填入画横线部分最恰当的一项是 ()

- A. 闭门造车 强调 B. 画地为牢 突出
C. 停滞不前 依赖 D. 固步自封 立足

20. 这些学校虽然保留了师范院校的名称，但实际已经发展为综合性大学。这些学校具有教师教育传统，有着师资和课程体系等的_____，可以保证大学后期教育专业培养的质量。这类大学具有举办教师教育培训的资格是_____的。

依次填入画横线部分最恰当的一项是 ()

- A. 支持 无懈可击 B. 积累 毋庸置疑
C. 积淀 无可厚非 D. 支撑 毋庸置疑

21. 我们的整个文明都建立在自然生态之上，它们跟不上我们的步伐，终将令我们也随之_____。将责任推给“适者生存”，任凭野生动物在我们制造的阴影中_____，这不但是一件残忍的事情，更是一件愚蠢的事情。

依次填入画横线部分最恰当的一项是 ()

- A. 消亡 自谋生路 B. 崩塌 自生自灭
C. 瓦解 自取灭亡 D. 崩溃 自求多福

22. 古籍与其他馆藏文物及不可移动文物的最大差异是具有文献价值，文献价值是通过对古籍记载的信息内容的阅读和研究而体现出来的，若将古籍_____，不让人阅读，古人留下文字记载的_____就无法实现，古籍也就失去了其重要的文献价值。

依次填入画横线部分最恰当的一项是（ ）

- A. 束之高阁 初衷 B. 置之不理 愿望
C. 漠然置之 目的 D. 视若拱壁 意图

23. 明清以来，北京城南天桥地区随着人口增加，逐渐成为集合北京平民消遣种类之大成的演艺场，因江湖艺人聚集而_____。天桥形成的“江湖文化”，是京、冀民间文化艺术最重要的展示平台之一。天桥因有江湖艺人而繁华，艺人也因天桥而_____，正所谓“人能兴地，地能兴人”。

依次填入画横线部分最恰当的一项是（ ）

- A. 人声鼎沸 身价倍增 B. 能人辈出 扬名天下
C. 闻名遐迩 安身立命 D. 鱼龙混杂 大显身手

24. 市场放缓，有实力的车企调整对策，使得自主品牌车企在乘用车市场的表现呈现出两极分化的态势。趋于成熟的自主品牌车企_____，越走越好；也有一些企业走到了生死存亡的关头，已到_____的地步。

依次填入画横线部分最恰当的一项是（ ）

- A. 势如破竹 如履薄冰 B. 所向披靡 进退维谷
C. 如日中天 如临深渊 D. 激流勇进 骑虎难下

25. 君子之德要求坚守正道、深明大义、矢志不移、乃至_____，不为各种威逼利诱所降服。这就是孟子所谓“富贵不能淫，贫贱不能移，威武不能屈，此之谓大丈夫”。君子要讲和谐，但不能随波逐流，更不能_____。《中庸》所谓“君子而和而不流”，就是指在大是大非面前不能有丝毫含糊。

依次填入画横线部分最恰当的一项是（ ）

- A. 以身殉道 人云亦云 B. 杀身成仁 口是心非
C. 视死如归 沆瀣一气 D. 舍生取义 同流合污

26. 我们是有着五千年文明传承的东方大国，儒家的“仁义礼智信”思想_____于民族精髓之中，社会主义核心价值观正是在_____传统思想精华的基础上应运而生。当下，改革释放出的红利推动中国经济的迅猛发展，与此同时，物欲膨胀带来的拜金主义、享乐主义、个人主义等一系列负面影响也_____着文明底线。

依次填入画横线部分最恰当的一项是（ ）

- A. 扎根 吸收 触碰 B. 孕育 继承 挑战
C. 深植 汲取 冲击 D. 蕴藏 提炼 腐蚀

27. 当今世界，文化交流、交融、交锋之势_____，西方强势文化深刻影响甚至侵蚀着一些欠发达国家和民族的文化。如何保持和_____自身的文化主体性，成为这些国家和民族最关切的问题之一。对于中华文化来说也是如此：如果没有主体意识，就有可能被其他文化侵蚀甚至_____，沦为“文化殖民地”。

依次填入画横线部分最恰当的一项是（ ）

- A. 波谲云诡 坚守 分化 B. 来势汹汹 树立 湮没
C. 前所未有 彰显 同化 D. 错综复杂 捍卫 浸染

28. 改革开放以来，我国文艺创作迎来了新的春天，产生了大量_____的优秀作品。同时，也不能否认，在文艺创作方面也存在着有数量缺质量、有“高原”缺“高峰”的现象，存在着抄袭模仿、_____的问题。精品之所以“精”，就在于其思想精深、艺术精湛、制作精良。文艺工作者要_____，随着时代生活创新，以自己的艺术个性进行创新。

依次填入画横线部分最恰当的一项是（ ）

- A. 脍炙人口 千篇一律 志存高远
- B. 家喻户晓 泥沙俱下 标新立异
- C. 良莠不齐 照猫画虎 精耕细作
- D. 喜闻乐见 因循守旧 与时俱进

29. 科学就是不断接近真理的过程，所有理解这一点的人都明白：在发展过程中，不断更新知识才是科学进步的正道。然而，_____：吸烟就从曾被医生推崇转变为被认为危害健康；吃肉曾被认为是有益的，后来又被说成是有害的，后来又变成有益的，现在又变成一个个人观点问题；女性应该接受乳房 X 光检查的年龄也提高了；地球曾被认为是宇宙的中心，后来又被发现不过是宇宙边缘的一颗行星。至于我自己，现在已经不知道喝红酒对健康究竟是有益还是有害了。

填入画横线部分最恰当的一项是（ ）

- A. 这个过程有时会令人困惑和不安
- B. 不同知识的“有效期”是不同的
- C. 自然科学的前沿理论淘汰起来比社会科学更快
- D. 人们总是固执地认为头脑中的某些知识是正确的

30. 为了适应 21 世纪知识更新的变化，世界各地的大学图书馆都在重塑自身：一方面忙着为老师开发课程提供技术支撑，另一方面忙着为师生采购图书、获取学术期刊的访问权。但是，对于那些不离开书桌便能在线阅读科学文献的学者而言，图书馆的这些变化并不明显。对于许多人来说，图书馆似乎不能满足他们的需求，开始变成历史的纪念。

这段文字意在强调（ ）

- A. 大学图书馆在 21 世纪发生的新变化
- B. 数字化趋势给图书馆造成的生存困境
- C. 大学图书馆在服务职能方面做出的调整
- D. 大学图书馆的改进与学者需求之间的错位

31. 在亚利桑那大学的一项研究中，研究人员将参与者对自己习惯的看法跟他们丢弃垃圾所提供的记录进行了对比，结果发现：人们常常声称自己省吃俭用，但实际并非如此；人们常常吃垃圾食品，但自己并不承认。在牛羊肉的消费上，富裕家庭报告的消费量比实际消费量少，或许为了显示他们的饮食健康；而贫困家庭所报告的消费量比实际的多，也许为了满足他们多吃的愿望。

这段文字意在说明（ ）

- A. 垃圾记录比本人陈述更能真实反映行为习惯
- B. 人们往往无法正确评估自己丢弃垃圾的行为
- C. 经济状况可能对人们的消费主张产生一定影响
- D. 消费观念会在一定程度上影响人们的饮食习惯

32. 没有 18 世纪的蒸汽机和纺织机，也就没有工业革命；没有 19 世纪的电气技术和汽车，没有 20 世纪的半导体、集成电路以及生物制药、互联网，也就没有今天众多的新产业和产品的极大丰富。但是，21 世纪的智能化手机能和蒸汽机、汽车相比吗？今天的很多技术虽然改变了生活方式，但没有带来新的动力和产业的巨变；许多高科技公司虽然抢眼风光，但对经济的实际影响并不像社会关注的那么大。我们面对的不单单是金融危机，其实也是一场产业危机和创新性危机。

这段文字表达了作者（ ）

- A. 对产业发展缺乏革命性创新的批评
- B. 对缺乏提振经济的重大创新的忧虑

- C. 对新技术革命不如传统技术的遗憾
D. 对创新性危机引发金融危机的警惕

33. 在传统的学校中，每个教室孤立且封闭，教师们不会花什么时间来观察同事的教学方法，或者向别人学习。然而，教育研究证实，当教师们相互协作时，学生们表现也相应提高。经济学家通过统计方法和大型数据库分析发现：当教师有机会与同事长期合作、互相交流教学经验时，学生们在测试中得分较高。在一项针对美国教师的调查中，超过 90% 的受访人反映，同事之间的交流有助于提高自己的教学效果。

这段文字意在说明（ ）

- A. 大数据研究对教育的启示
B. 教师之间交流合作的意义
C. 教学方法对学生表现的影响
D. 传统学校中教师受到的限制

34. 西方语言的书写形式是字母文字，这种文字既不表形，也不表意，而仅仅表音。这种纯粹记录语言的字母文字频繁地刺激人们的大脑，逐渐形成了西方人长于语言思维的特点。而汉语书写符号是方块汉字，它不仅表音，还能表形、表意。这种音、形、意互相联系的文字，使中国人长于形象思维。

对这段文字的主旨概括最准确的是（ ）

- A. 中西方文字的书写形式各有优势
B. 语言和思维有着密不可分的关系
C. 中西方的思维模式有着本质的不同
D. 不同书写形式的文字对思维有不同影响

35. ①餐饮企业以超过生物柴油企业收购价格水平出售的地沟油，多数流向了非法油品生产单位。

②不仅如此，甚至连合法性的身份都没有得到重视。

③当市场监管和处罚制度不健全时，合法企业如何能够“竞争”过非法企业？

④通过滤杂、去色、调和等一系列处理后，再次成为普通消费者难以辨识的食用油。

⑤在餐饮和废弃动植物油脂回收市场中，生物柴油企业的环境友好型身份没有得到完全认可。

⑥事实上，这只是在特定市场制度下的一场不公平竞争。

将以上 6 个句子重新排列，语序正确的是（ ）

- A. ①④⑥③⑤②
B. ①⑤②④⑥③
C. ⑤②①④③⑥
D. ⑤②④③⑥①

36. ①既然是团圆饭，春晚的味道如何显然已不是最重要的。

②它年复一年地陪伴百姓迎接新年钟声，陪伴无数家庭包饺子、吃年夜饭，陪伴一代代孤独的海外游子感受浓浓的中国年味儿。

③如今，春晚就像过年回家的车票、大年三十晚上的团圆饭一样，一样都不能少。

④从 1983 年至今，从“全民联欢”到“全民吐槽”，春晚这桌“年夜饭”已经做了 30 多年。

⑤相反，如果不看春晚，这个春节或许会让人觉得多少有些遗憾。

⑥实际上，一道已经吃了 30 多年的大餐，要想年年有新意、场场有突破，要想让每一名观众都满意，根本没有可能。

将以上 6 个句子重新排列，语序正确的是（ ）

- A. ③②④⑥①⑤
B. ③④②①⑤⑥
C. ④②③①⑤⑥
D. ④③②①⑥⑤

37. 民国初年的文学革命，其实也就是一场类似库恩所说科学革命的例子。革命者认为旧有典范已经死亡

僵化了，于是进行革命。革命之后，新典范出现，整个文学和文学研究遂导向一套新的信念，研讨的问题和答案的标准也改变了：采用西方的思考方式、观念系统、术语、概念来讨论中国文学。碰到这个新“典范”所无法丈量的地方，便诟病中国文学及文学评论定义不精确、系统不明晰、结构不严谨、思想不深刻等等。

这段文字意在说明（ ）

- A. 西方文学批评理论对民国初年的文学革命产生了深刻影响
- B. 民国初年的文学革命与库恩所说的科学革命有相通之处
- C. 民国初年的文学革命用新典范评判中国文学不尽合理
- D. 民国初年的中国文学作品带有革命性的特点

38. 在所有文学形式中，传奇是最接近如愿以偿的梦幻的。正是由于这一原因，从社会的角度看，传奇起到一种奇妙又矛盾的作用。在每个时代，社会的统治阶级或知识界的权威阶层总是用某种传奇的形式来表现自己的愿望，而通常以战争为题材的小说更容易唤起大众读者的阅读兴趣。

这段文字意在说明（ ）

- A. 传奇故事能满足人们虚幻的愿望
- B. 英雄传奇故事是特定时代的产物
- C. 统治阶级和知识精英都喜欢塑造英雄传奇
- D. 传奇故事深受读者与主流意识形态的欢迎

39. 随着近年来痛风人群的增多，忌食豆腐等豆制品，成了约定俗成的主流保健意识。豆腐对人体健康的好处，被豆制品嘌呤含量高的概念一并抹杀。其实，豆腐特别是含水量较多的南豆腐，由于其加工过程中嘌呤物质流失转化，其嘌呤含量每百克仅有 13 毫克左右，远远低于我们日常生活中的很多食品。就慢性痛风者而言，嘌呤含量在 150 毫克以下的食物是不用严格禁忌的，比如鲤鱼、鸡鸭鹅肉等，但是要求进食量不宜过多；嘌呤含量超过 150 毫克的动物内脏，是痛风者应该禁忌的食品。在痛风急性发作期，嘌呤含量在 75 毫克以上的食品都属于禁忌。此时，由于可供患者食用的食品非常有限，豆腐、豆浆等食品对患者的营养支持，就更显重要。

这段文字意在（ ）

- A. 为痛风患者推荐适宜的食品
- B. 比较不同类型痛风患者的饮食禁忌
- C. 纠正痛风患者不能吃豆腐的错误认识
- D. 说明加工过程对豆腐嘌呤含量的影响

40. “微时代”的媒介技术革新与融合，改变和重塑着人们的审美感知方式，传统艺术审美活动的固有流程与秩序几乎被颠覆。艺术的鉴赏只需通过手指在智能手机上的简单点击或滑动即可实现，艺术接受的场所不再局限于美术馆、博物馆、剧院或影院等传统艺术空间，而是扩大至移动网络信号覆盖的所有区域；艺术创造不再为少数精英们独享，数字媒介技术带来的专业门槛和诸种成本的降低，使越来越多的人实现了由单纯的艺术接受者向艺术创作者的身份转变。

这段文字意在说明（ ）

- A. 数字技术条件下艺术鉴赏有哪些实现途径
- B. “微时代”艺术审美的大众化程度愈来愈高
- C. 智能手机已成为人们艺术创造和欣赏的重要媒介
- D. “微时代”的媒介技术对审美活动产生颠覆性影响

41. 语言是人类社会特有的产物，在个人、社会和国家三个层次上发挥着不同的功能。对个人而言，语言是思维工具；对社会而言，语言是交际工具。在全球化和信息化的今天，语言不仅仅是交际的工具，更是创造经济价值和社会效益的宝贵资源。语言能够带来各种红利。例如，在英国，与语言相关的产业所带来的收益超

过了石油和船运收益；在瑞士，语言对国民经济的贡献度达到百分之十；欧盟的语言产业已是少数增速最快的产业之一。因此，如何抓住新的发展机遇，提高语言资源开发利用能力和水平，大力发展语言经济，意义重大。

适合做这段文字关键词的是（ ）

- A. 语言资源、语言经济、语言产业
- B. 交际工具、经济价值、社会效益
- C. 语言红利、语言产业、国民经济
- D. 语言、交际工具、社会效益

42. 英国一项研究发现，咀嚼行为能激活口腔一种名为 Th17 的免疫细胞，这种免疫细胞能抵御口腔常见的细菌和真菌感染。研究人员在实验室中给小鼠喂食硬度较高的食物，增加它们进食时的咀嚼次数，结果成功导致小鼠的 Th17 免疫细胞数量上升，证明了咀嚼行为激活相关免疫系统的效果。与皮肤、肠道等部位的免疫细胞不同，口腔中的 Th17 免疫细胞的激活机制比较独特，不是因出现细菌被激活，而是通过咀嚼行为被激活，从而引发牙龈中的免疫反应。

这段文字意在说明（ ）

- A. Th17 免疫细胞激活机制的独特之处在于它是被咀嚼行为激活的
- B. 口腔中能抵御细菌和真菌感染的免疫细胞只能被咀嚼行为激活
- C. 咀嚼行为比细菌更能唤起牙龈的免疫反应
- D. 适当的咀嚼行为有助于增强口腔的免疫力

43. 荆轲，那个“风萧萧兮易水寒，壮士一去兮不复还”的勇士，在我国历史上是个特有的文化符号。然而，在手游里，“荆轲”二字变成了刺客家族世代传承的名号；刘备变成了肩扛火枪身穿风衣的黑帮教父；“刺秦”的故事也被胡编乱造得南辕北辙……在手游里，几千年来人们熟知的历史人物变得面目全非。这对缺少历史知识的少年儿童来说很容易产生迷惑，历史在这里，真成了可以“被随意打扮的小姑娘”。

最适合做以上文字标题的一项是（ ）

- A. 手游也需要尊重历史
- B. 手游不该“游戏”历史
- C. 对历史的演绎不能过火
- D. 历史不该被手游过度消费

44. 近年来，众筹商业模式快速兴起，股权众筹、奖励型众筹、捐赠性众筹等不同形式的众筹如雨后春笋般蓬勃发展。但是，2016 年一些中小众筹平台却没有挺过“年关”，众筹联盟最近发布的研究报告显示，截至 2016 年年底，平台下线或众筹业务下架的平台数量达 89 家，占正常运营众筹平台数量的五分之一。

接下来最可能讲的是（ ）

- A. 众筹平台怎样做到“曲不断，人不散”
- B. 火热上线的众筹平台缘何遇冷下架
- C. 众筹市场的未来为什么不容乐观
- D. 众筹市场如何应对新的严峻挑战

45. 烧碱即氢氧化钠，是具有强烈腐蚀性的“高危化学品”。但烧碱也是一种“可在各类食品加工过程中使用，残留量不需限定的加工助剂”，是一种高效的酸度调节剂。但用作食品加工的烧碱需要“食品级”，而不少报道提到的是“不法商贩使用工业烧碱”。食品级烧碱和工业烧碱的区别不在于主要成分，而在于前者对于重金属杂质有监控要求，后者则没有。其实，在食品中使用氢氧化钠，危险是由工作人员来承担的。而在最终食品中，它们的“腐蚀性”早已不存在。至于使用工业烧碱，则属于使用“不合格原料”，应该打击。

下列选项中，与这段文字意思不相符的是（ ）

- A. 工业烧碱含有大量重金属杂质，不可在食品加工环节使用
- B. 在食品加工中使用烧碱，工作人员承担着被其腐蚀的危险
- C. 在食品加工中使用烧碱并不违法，甚至对其残留量都没有规定
- D. 食品级烧碱和工业烧碱的主要成分基本相同，都可作为酸度调节剂

第三部分 数量关系

(共 10 题，参考时限 15 分钟)

根据题目要求，在四个选项中选出一个最恰当的答案。

46. 甲、乙两车早上分别同时从 A、B 两地出发驶向对方所在城市，在分别到达对方城市并各自花费 1 小时卸货后，立刻出发以原速返回出发地。甲车的速度为 60 千米/小时，乙车的速度为 40 千米/小时，两地之间相距 480 千米。问两车第二次相遇距离两车早上出发经过了多少个小时 ()

- A. 13.4
- B. 14.4
- C. 15.4
- D. 16.4

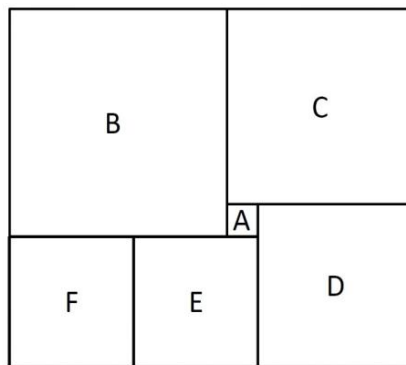
47. 某超市下午 3 点开始对其新上架的洗发液进行半价促销，并规定之后每次整点时，洗发液的价格都会上调其原价的 5%，直至恢复原价。张大妈 4 点 15 分在超市抢购了 2 瓶，6 点半又去超市买了 2 瓶。张大妈两次购买洗发液共花费 48 元，问与原价相比共节省了多少元 ()

- A. 12
- B. 24
- C. 32
- D. 48

48. 6 月 1 日当天，小张用去其当月手机上网套餐流量的 15%，2 日用去 8MB，这时用去的流量和套餐内剩下的流量之比为 1:3。如小张从 3 日开始每天使用 6MB 流量，问小张 6 月使用的套餐外手机流量为多少 MB ()

- A. 80
- B. 96
- C. 108
- D. 128

49. 如图所示，长方形恰好分成六个正方形，其中最小的正方形面积是 1 平方厘米，则这个长方形的面积是 ()



- A. 143 平方厘米
- B. 132 平方厘米
- C. 110 平方厘米
- D. 90 平方厘米

50. 若干名天使投资人对某个需求资金 120 万的创业项目表达出投资意向，并计划每人以相同的金额投资该项目。但实际投资时有 2 人退出，剩下的每人需要多投资 10 万元才能满足该项目的资金需求，问实际投资这一项目的有多少人 ()

- A. 3
- B. 4
- C. 6
- D. 8

51. 甲、乙、丙三个网站定期更新，甲网站每隔 48 小时，乙网站每隔 72 小时，丙网站每隔 96 小时更新一次内容。问在一个星期内至多有多少天，三个网站中至少有一个更新内容 ()

- A. 4 天
- B. 5 天
- C. 6 天
- D. 7 天

52. 一战斗机从甲机场匀速开往乙机场，如果速度提高 25%，可比原定时间提前 12 分钟到达；如果以原

定速度飞行 600 千米后，再将速度提高 $\frac{1}{3}$ ，可以提前 5 分钟到达。那么甲、乙两机场的距离是多少千米（ ）

- A. 750 B. 800 C. 900 D. 1000

53. 从 A 地到 B 地为上坡路。自行车选手从 A 地出发按 A—B—A—B 的路线行进，全程平均速度为从 B 地出发，按 B—A—B—A 的路线行进的全程平均速度的 $\frac{4}{5}$ ，如自行车选手在上坡路与下坡路上分别以固定速度匀速骑行，问他上坡的速度是下坡速度的（ ）

- A. $\frac{1}{2}$ B. $\frac{1}{3}$ C. $\frac{2}{3}$ D. $\frac{3}{5}$

54. 加油站营业时间为每日 1 时到午夜 12 时，且在每日停业的 1 小时中进货 1 万升 92 号汽油。某月 1 日开始营业时有 92 号汽油库存 4 万升，当日销售 92 号汽油 1 万升，但由于周边车流量增加，每日 92 号汽油销量都比上一日增加 1000 升。问该加油站如不增加每日的进货量，92 号汽油将在哪一日售罄（ ）

- A. 11 日 B. 10 日 C. 9 日 D. 8 日

55. 10 个相同的盒子中分别装有 1~10 个球，任意两个盒子中的球数都不相同。小李分三次每次取出若干个盒子，每次取出的盒子中的球数之和都是上一次的 3 倍，且最后剩下 1 个盒子。问剩下的盒子中有多少个球（ ）

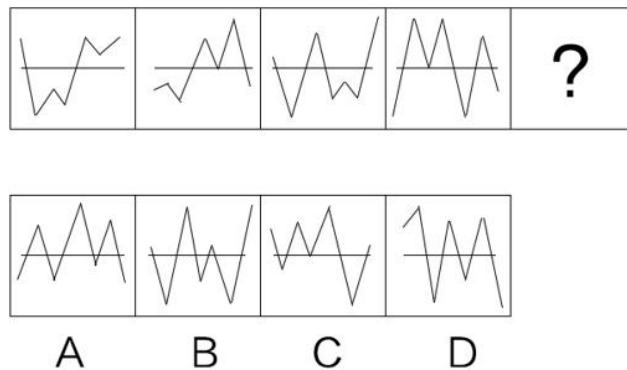
- A. 9 B. 6 C. 5 D. 3

第四部分 判断推理

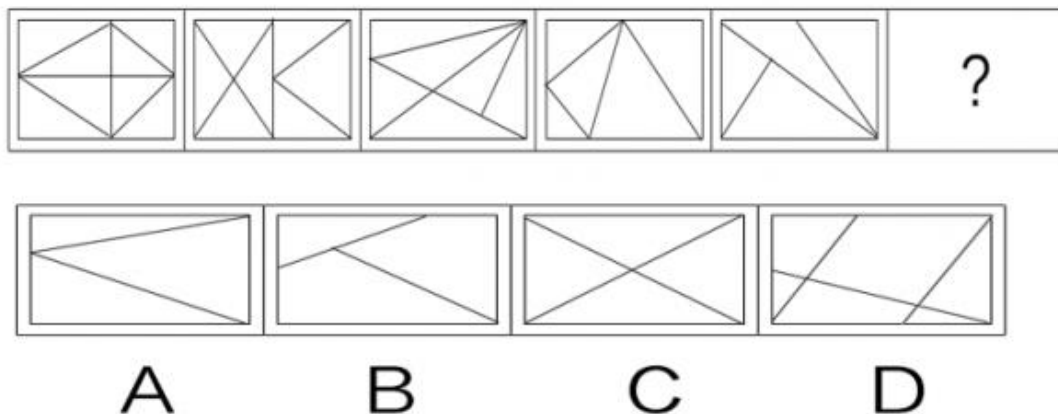
(共 30 题，参考时限 35 分钟)

一、图形推理。请按每道题的答题要求作答。


56. 从所给四个选项中，选出最合适的一个填入问号处，使之呈现一定的规律性（ ）



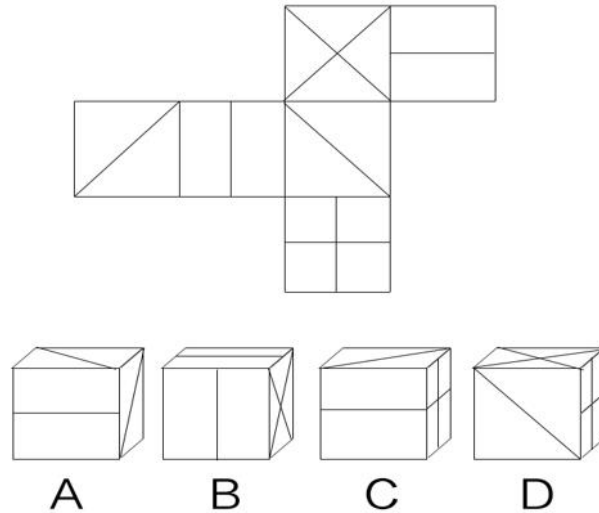
57. 从所给四个选项中，选出最合适的一个填入问号处，使之呈现一定的规律性（ ）



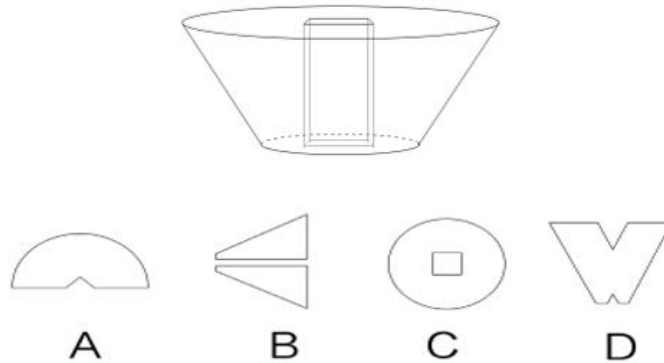
58. 从所给四个选项中，选出最合适的一个填入问号处，使之呈现一定的规律性（ ）



59. 左图给定的是正方体纸盒的外表面，下面哪一项能由它折叠而成（ ）



60. 左图是从圆台中挖出一个截面为正方形的长方体形成的立体图形，如果从任一面切开，以下哪一个不可能是该立体图形的截面（ ）



二、定义判断。每道题先给出定义，然后列出四种情况，要求你严格依据定义，从中选出一个最符合或最不符合该定义的答案。注意：假设这个定义是正确的，不容置疑的。

61. 间接正犯又称为间接实行犯，是指利用他人为道具而实施犯罪的实行行为，利用者通过支配被利用者

的工具行为实现自己的犯罪意图。利用者与被利用者不构成共同犯罪。它包括以下两种情况：一是利用无刑事责任能力人犯罪；二是利用他人过失或不知情的行为犯罪。

根据上述定义，下列甲的行为属于间接正犯的是（ ）

- A. 甲挑唆乙和丙的关系，致使乙一怒之下将丙打成重伤。甲、乙、丙均为完全刑事责任能力人
- B. 甲教唆精神病人乙用刀砍伤与其素有仇怨的丙。甲、丙为完全刑事责任能力人，乙为无刑事责任能力人
- C. 甲派员工乙殴打一直欠钱不还的丙，并允诺给其好处，乙随后将丙打伤。甲、乙、丙均为完全刑事责任能力人
- D. 甲让自己尚未成年的孩子乙诬告丙，未想到乙捏造的事实正是丙客观存在的事实。甲、丙为完全刑事责任能力人，乙为无刑事责任能力人

62. 不征税收入是指专门从事特定目的，从性质和根源上不属于营利性活动带来的经济利益，不负有纳税义务并且不作为应纳税所得额组成部分的收入，比如财政拨款、行政事业性收费等；免税收入是纳税人应税收入的重要组成部分，只是国家为了实现某些经济和社会目标，在特定时期或对特定项目取得的经济利益给予的税收优惠照顾，而在一定时期又有可能恢复征税的收入。

根据上述定义，下列说法错误的是（ ）

- A. 为鼓励高新技术企业自主创新，政府规定，在近两年内对这类企业研发产品的销售收入暂不收税，因此企业在研发产品上的销售收入属于免税收入
- B. 某农产品企业获得了当地政府对其农业加工产品的专项财政补贴，该补贴属于不征税收入
- C. 国家规定，企业技术转让所得年净收入在 30 万元以下的，暂免征收所得税，因此这部分所得属于免税收入
- D. 为鼓励纳税人积极购买国债，国家规定国债所得利息收入暂不计入应纳税所得额，不征收企业所得税，因此国债利息收入属于不征税收入

63. 信息腐败指的是手中掌握有公共权力的人，借用自身的权力获得某些特殊信息，然后由自己或其代理人利用这些垄断信息从事某些牟利活动的一种违法乱纪行为。

根据上述定义，下列涉及信息腐败的是（ ）

- A. 市政府某局干部为了个人升迁，贿赂有关人员，多次修改个人档案信息
- B. 某法学院教授为了将其负责的研究生班办成品牌，私自使用秘密窃取的某资格考试试卷对该班学生进行辅导
- C. 省科技厅王处长离职后到某公司就职，他将自己研究的某项技术加以创新，为该公司开发出极具市场竞争力的新产品
- D. 副区长龙某将工程招标报名情况、投标企业业绩要求、中标方式等秘密信息泄露给某投标企业，并收受该企业 50 余万元

64. 前摄抑制是指先学习的材料对识记和回忆后学习的材料所产生的干扰作用；倒摄抑制是指后学习的材料对识记和回忆先学习的材料所产生的干扰作用。

根据上述定义，下列选项只包含倒摄抑制的是（ ）

- A. 背课文时发现中间段落往往是最难记住的
- B. 一天中，人们一般在早晨和夜晚的记忆效果最佳
- C. 学习英文字母后，之前学的拼音字母会读错
- D. 头部受伤后，回忆不起来之前发生的事情

65. 趋同进化是遗传学中的一个概念，指的是不同的物种在进化过程中，由于适应相似的环境而呈现出表

型上的相似性。而趋异进化则相反，它是指同一物种在进化过程中，由于适应不同的环境而呈现出表型差异的现象。

根据上述定义，下列属于趋异进化的是（ ）

- A. 澳洲的袋食蚁兽与亚洲的穿山甲相比较，具有相似的生活方式和适于捕食白蚁的相似生理结构
- B. 鲸、海豚等和鱼类的亲缘关系很远，前者是哺乳类，后者是鱼类，但由于都在水域中生活，体形都很相似
- C. 欧亚大陆温带地区生活的鼯鼠、非洲南部的金毛鼯在分类上相距甚远，但它们的生存环境和生活方式相似，形态也相似
- D. 更新世时期，冰川将一群棕熊从主群中分了出来，在北极环境下发展成与环境颜色一致、善于捕猎的白色北极熊。北极熊食肉，而其他棕熊以植物为主要食物

66. 经济文盲指的是被很多经济学名词弄得满头大汗不知其意的人们，他们的典型特色是容易盲从，专家说啥信啥，缺乏独立思考，即使专家说错了他们也会继续相信。

根据上述定义，下列涉及经济文盲的是（ ）

- A. 某“专家”在其出版的书中宣扬“绿豆治百病大法”，引发市场绿豆涨价
- B. 一天电视节目里某娱乐明星说低钠盐好处多，第二天一些超市的低钠盐被一抢而空
- C. 为了通过某资格考试，小王死记硬背了“边际效益”等很多经济学名词，但是他并没有发现复习资料中其实有很多错误
- D. 小王被《重金属攻略》一书中的“浮动盈亏”等概念弄糊涂了，但是看到书中宣传的重金属盈利前景，还是迅速参与了交易

67. 拟态环境指由大众传播活动形成的信息环境，它不是客观环境的镜子式再现，而是大众传播媒介通过对新闻和信息的选择、加工和报道，重新加以结构化以后向人们所提示的环境。

根据上述定义，下列不涉及拟态环境的是（ ）

- A. 小刘在某报看到一篇文章宣传某农产品的多种养生功能，他对此深信不疑
- B. 受某产品广告语“新一代的选择”的影响，年轻人非常认同且热衷于购买这一产品
- C. 小李在公司内网论坛上看到大家都说同事张某专业功底深厚，经观察他发现确实如此
- D. 某微信公众号发布一则消息，称2016年1月1日起乘车不系安全带将罚200元，交警部门对此出面辟谣

三、类比推理。每道题先给出一组相关的词，要求你在备选答案中找出一组与之在逻辑关系上最为贴近、相似或匹配的词。

68. 高血压：传染病

- A. 蝙蝠：哺乳动物
- B. 黄梅戏：京剧
- C. 鲫鱼：两栖动物
- D. 计算机：电脑硬件

69. 软实力：硬实力

- A. 军事实力：经济实力
- B. 精神文明：物质文明
- C. 现实主义：浪漫主义
- D. 心理健康：精神健康

70. 工作：职员：薪水

- A. 资费：网民：电邮
- B. 驾照：司机：汽车
- C. 考试：学生：成绩
- D. 饭店：厨师：菜肴

71. 生产：质检：销售

- A. 上学：预习：复习
- B. 调查：整理：分析

- C. 监督：改进：效率
D. 无业：贫困：救济
72. 房屋：不动产：抵押
A. 股票：财产：增值
B. 苹果：水果：食用
C. 轮船：海洋：行驶
D. 中药：三七：抗血栓
73. 扣子：西装：裤子
A. 鼠标：电脑：键盘
B. 学生：青年：艺术家
C. 窗帘：窗户：房子
D. 方向盘：轿车：商务车
74. 常规问题：非常规问题：问题
A. 期中考试：期末考试：考试
B. 顶层设计：基层落实：管理
C. 豪华装修：简单装修：装修
D. 转基因油：非转基因油：油
75. () 对于 服装 相当于 雕琢 对于 ()
A. 鞋帽 修饰
B. 设计 图案
C. 外表 心灵
D. 裁剪 玉器
76. 石油 对于 () 相当于 廉洁 对于 ()
A. 煤炭 贪腐
B. 能源 品德
C. 矿产 政府
D. 原油 简朴
77. () 对于 风景 相当于 美丽 对于 ()
A. 秀丽 动人
B. 画卷 人生
C. 怡人 心灵
D. 如画 如花

四、逻辑判断。每道题给出一段陈述，这段陈述被假设是正确的，不容置疑的。要求你根据这段陈述，选择一个答案。

78. 心理学家研究发现，一般情况下学生的注意力随着老师讲课时间的变化而变化。讲课开始时，学生的注意力逐步增强，中间有一段时间保持在较为理想的状态，随后学生的注意力开始分散。

以下哪项如果为真，最能削弱上述结论 ()

- A. 老师经过适当安排能够获得足够注意力
B. 总有个别学生能够全程保持注意力集中
C. 兴趣是影响注意力能否集中的关键因素
D. 人能完全集中注意力的时间只有七秒钟

79. 在大量的信息中容易迷失是人性的弱点。那些不管是有用的还是没用的，全都想要收集到的完美主义者，是不能很好地分析信息的。克服这一点的关键就是，养成明确的“目标意识”，尽可能瞄准自己想要的信息收集。为了防止主观臆断和先入为主，必须把信息的收集和判断这两个工作分开，如果信息的数量庞大，就要进行两次乃至多次的检验。

由此可以推出 ()

- A. 不能很好地分析信息的人都是完美主义者
B. 养成明确的“目标意识”，才不容易在大量的信息中迷失
C. 把信息的收集和判断这两个工作分开，就能够防止主观臆断
D. 如果信息的数量不大，就不需要进行两次乃至多次的检验

80. 婴儿的幼年特征可以唤起成年人的慈爱和养育之心，许多动物的外形和行为具有人类婴儿的特征。因

此，人们容易被这样的动物所吸引，将它们养成宠物。

以下哪项如果为真，最能支持上述结论（ ）

- A. 很多空巢老人喜欢饲养宠物
- B. 体态庞大且凶猛的动物很少成为宠物
- C. 有的家庭在生育儿女后就不会再养宠物
- D. 父母喜欢养宠物的，子女也喜欢养宠物

81. 某研究小组汇集了 140 多种非人类灵长类动物脑量数据，以研究灵长类动物大脑体积比其他脊椎动物大得多的原因。在研究中，研究人员不仅考虑了灵长类动物的社会化因素，如种群规模、社会体系、交配系统等，还研究了它们的饮食习性，即它们是食叶、食果，抑或属于杂食动物。研究人员据此认为，饮食习性是灵长类动物大脑体积大的主要原因。

以下哪项如果为真，最能支持上述结论（ ）

- A. 灵长类动物的饮食习性对其体型发育有重要影响
- B. 以往人们普遍接受的社会因素决定灵长类动物大脑体积的观点只是一种假说
- C. 研究结果并没有显示出在同种灵长类动物中，水果或树叶摄入量与大脑体积之间存在联系
- D. 在这 140 多种灵长类动物中，食果类动物的大脑体积，要明显大于食叶动物；杂食动物的大脑体积，也要大于食叶动物

82. 近日，有动物实验研究发现，在正常饮食中加入一定剂量的苦瓜水提取物，可降低 II 型糖尿病小鼠的高血糖。这是由于苦瓜中含有一种类似胰岛素的物质，能够降低血糖。有人据此认为，II 型糖尿病患者多吃苦瓜有助于降低血糖水平。

以下哪项如果为真，最能质疑上述论证（ ）

- A. 苦瓜含糖量低，对血糖的影响小
- B. 日常食用的苦瓜中，苦瓜水提取物含量极少
- C. 苦瓜水提取物可能会导致血清总蛋白轻微降低
- D. 苦瓜水提取物对 I 型糖尿病小鼠的血糖无显著影响

83. 近年来，一种儿童天赋基因检测在家长圈里流行起来。提供这种检测的公司声称，他们通过唾液获取儿童的基因，就能分析出儿童具有哪些“特长”，如音乐天赋、数学天赋、交际能力、长跑能力、抗压能力等，不少家长纷纷花高价为孩子做了这种检测，他们认为通过这种检测，可以有的放矢地去开发儿童的天赋和潜能，不再需要通过尝试过多的兴趣班来挖掘儿童的特长。

以下哪项如果为真，最能削弱上述家长的观点（ ）

- A. 有些教师也可以根据自身的经验有的放矢地开发儿童的天赋和潜能
- B. 相比于儿童天赋基因检测，肥胖基因、癌症基因检测具有更强的科学依据
- C. 天赋是多基因共同调控的结果，目前很难准确地界定哪些基因对哪些天赋有影响
- D. 有的商家按全基因组检测收费，但只做单一或者某几个基因的检测，家长们很难区分出来

84. 一个人如果是智者，那么他一定是一位谦虚的人；而一个人只有认识到自己的不足，他才会谦虚。但是，如果一个人听不进别人的意见，那么他就不会认识到自己的不足。

由此可以推出（ ）

- A. 一个人如果认识到自己的不足，他就是一位智者
- B. 一个人如果听不进别人的意见，他就不是位智者
- C. 一个人如果听得进别人的意见，他就会认识到自己的不足
- D. 一个人如果认识不到自己的不足，他一定听不进别人的意见

85. 高校食堂某窗口前有张明、李伟、王刚、赵曼、钱强 5 人在排队买菜。每人只买一份菜。已知：
- (1) 要买红烧肉的人排在张明后面；
 - (2) 李伟紧排在要买芹菜炒香干的人前面；
 - (3) 王刚虽然排在队伍的第 2 位，但他还不知道要买什么；
 - (4) 赵曼一向吃素，今天她来得有点晚，排在了队伍的最后。

由此可以推出 ()

- A. 李伟排在队伍的正中间位置
- B. 钱强排在队伍的正中间位置
- C. 李伟不可能排在队伍的最前面
- D. 张明不可能排在队伍的最前面

第五部分 资料分析

(共 15 题, 参考时限 20 分钟)

所给出的图、表、文字或综合性资料均有若干个问题要你回答。你应根据资料提供的信息进行分析、比较、计算和判断处理。

一、根据以下资料, 回答 86~90 题。

2015 年末, 我国规模以上高技术制造业共有企业 26894 家, 比 2010 年增加 1077 家; 占规模以上制造业企业数的比重为 7.8%, 比 2010 年提高 1.3 个百分点。

2015 年末, 我国高技术制造业从业人员 1293.7 万人, 比 2010 年增长 36.9%; 占全部制造业从业人员的比重为 15.1%, 比 2010 年提高 2.9 个百分点。

2015 年, 我国高技术制造业实现主营业务收入 116048.9 亿元, 比 2010 年增长 108.2%; 占全部制造业企业的比重为 12.8%。比 2010 年提高 0.8 个百分点。2015 年, 我国高技术制造业实现利润总额 7233.7 亿元, 比 2010 年增长 165.5%, 增幅比其他制造业平均水平高出 11.5 个百分点; 高技术制造业利润总额占全部制造业的比重为 13.1%, 比 2010 年提高 0.5 个百分点。

2015 年, 我国规模以上高技术制造业投入研发经费 2034.3 亿元, 比 2010 年增长 178.2%, 增幅比其他制造业平均水平高 8.7 个百分点。2015 年我国高技术制造业申请发明专利 7.4 万件, 比 2010 年增长 179%; 实现新产品销售收入 3.1 万亿元, 比 2010 年增长 127%。

86. 2015 年, 我国高技术制造业主营业务收入比 2010 年增加约多少万亿元 ()

- A. 5
- B. 6
- C. 7
- D. 8

87. 2010 年, 我国制造业实现利润总额约多少万亿元 ()

- A. 1.3
- B. 1.7
- C. 2.2
- D. 2.8

88. 2010 年, 我国高技术制造业实现新产品销售收入约多少万亿元 ()

- A. 1.4
- B. 1.5
- C. 1.6
- D. 1.7

89. 与 2010 年相比, 2015 年下列高技术制造业的指标中哪项增长最快 ()

- A. 利润总额
- B. 新产品销售收入
- C. 主营业务收入
- D. 申请发明专利数

90. 根据上述资料, 下列说法错误的是 ()

- A. 2010 年, 我国高技术制造业申请发明专利达 3 万件
- B. 2010 年末, 高技术制造业从业人员占全部制造业从业人员的比重为 12.2%
- C. 2015 年末, 我国规模以上制造业企业数是规模以上高技术制造业企业数的 10 倍以上

D. 2015 年, 我国规模以上高技术制造业投入的研发经费比 2010 年增加了 1000 亿元以上

二、根据以下资料, 回答 91~95 题。

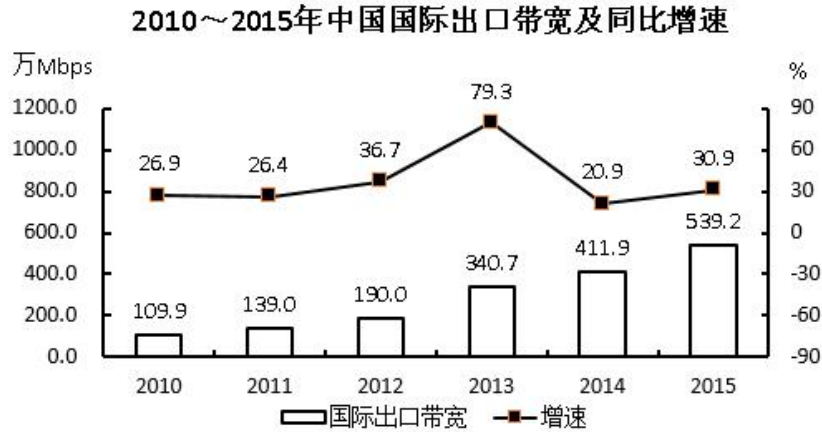
2012~2015 年我国 GDP 和研究与试验发展 (R&D) 经费支出统计表

单位: 亿元

分 类	2012 年	2013 年	2014 年	2015 年
国内生产总值	540367.0	595244.0	643974.0	689052.0
全国研究与试验发展 (R&D) 经费支出	10298.4	11846.6	13015.6	14169.9
按活动类型分				
基础研究	498.8	555.0	613.5	716.1
应用研究	1162.0	1269.1	1398.5	1528.7
试验发展	8637.6	10022.5	11003.6	11925.1
按执行部门分				
企业	7842.2	9075.8	10060.6	10881.3
政府属研究机构	1548.9	1781.4	1926.2	2136.5
高校	780.6	856.7	898.1	998.6

91. 2013~2015 年, 试验发展经费支出年平均增加 ()
- A. 不到 800 亿元 B. 800 多亿元
- C. 900 多亿元 D. 1000 亿元以上
92. 2015 年, 我国研究与试验发展经费投入强度 (研究与试验发展经费支出与国内生产总值之比) 约为 ()
- A. 1.6% B. 2.1% C. 2.6% D. 3.1%
93. 2013~2015 年间, 企业研究与试验发展经费支出同比增量大于 1000 亿元的年份有几个 ()
- A. 0 B. 1 C. 2 D. 3
94. 2012~2015 年, 基础研究经费支出占全国研究与试验发展经费支出比重最大的年份是 ()
- A. 2012 年 B. 2013 年 C. 2014 年 D. 2015 年
95. 根据资料, 下列选项错误的是 ()
- A. 2012~2015 年, 基础研究经费支出年均不到 600 亿元
- B. 2013~2015 年, 应用研究经费支出年增量逐年增大
- C. 2015 年, 企业的研究与试验发展经费支出比政府属研究机构高 5 倍多
- D. 2012~2015 年, 我国高校的研究与试验发展经费支出呈逐年递增趋势

三、根据以下资料, 回答 96~100 题。



2015年主要运营商骨干网络国际出口带宽

单位: Mbps

运营商	国际出口带宽
中国电信	3223629
中国联通	1414868
中国移动	645073
中国教育和科研网	61440
中国科技网	47104
中国国际经济贸易互联网	2
总计	5392116

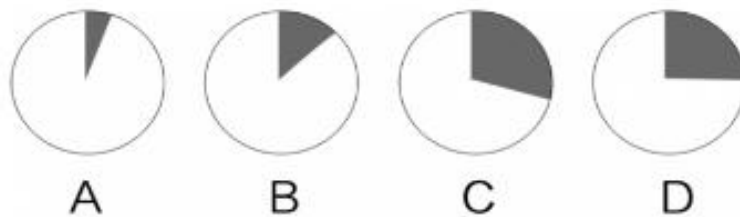
96. 2010~2015年间, 中国国际出口带宽增速高于30%的年份有多少个 ()

- A. 1 B. 2 C. 3 D. 4

97. 2009年, 中国国际出口带宽最接近以下哪个数字 ()

- A. 71万Mbps B. 87万Mbps
C. 97万Mbps D. 128万Mbps

98. 以下各图, 最能体现2015年中国移动提供的国际出口带宽(黑色部分)在主要运营商骨干网络国际出口带宽中所占比例的是 ()



99. 2010~2015年, 中国国际出口带宽增速最高的年份, 其增量比增速最低的年份的增量 ()

- A. 多71.2万Mbps B. 少71.2万Mbps
C. 多79.5万Mbps D. 少79.5万Mbps

100. 能够从上述资料中推出的是 ()

- A. 2015年中国国际出口带宽比2010年增长了5倍
B. 2010~2015年, 中国国际出口带宽的增速逐年上升
C. 2010~2015年间, 中国国际出口带宽增量最高的两年相邻
D. “十二五”(2011~2015年)期间中国国际出口带宽年均增长80万Mbps以上

温馨提示：

2018 年公考通网校重新起航

**系统班+考前直播冲刺班+一对一申论批改班+面试通关课程
更多好课等你挑选！**

【参考答案与解析】

1. **【解析】**C。A 项，党的十九大报告明确指出：“南海岛礁建设积极推进。开放型经济新体制逐步健全，对外贸易、对外投资、外汇储备稳居世界前列。”属于过去五年我国经济建设取得的成就，排除。

B 项，党的十九大报告明确指出：“经济建设取得重大成就……农业现代化稳步推进，粮食生产能力达到一万二千亿斤。”属于过去五年我国经济建设取得的成就，排除。

C 项，党的十九大报告明确指出：“人民生活不断改善……就业状况持续改善，城镇新增就业年均一千三百万人以上。”属于过去五年人民生活不断改善方面取得的成就，不属于经济建设取得的成就，当选。

D 项，党的十九大报告明确指出：“城镇化率年均提高一点二个百分点，八千多万农业转移人口成为城镇居民。”属于过去五年我国经济建设取得的成就，排除。

2. **【解析】**C。A 项，党的十九大报告指出：“建设平安中国，加强和创新社会治理，维护社会和谐稳定，确保国家长治久安、人民安居乐业。”加强平安中国建设属于社会治理的措施。排除。

B 项，党的十九大报告指出：“加强社区治理体系建设，推动社会治理重心向基层下移，发挥社会组织作用，实现政府治理和社会调节、居民自治良性互动。”加强社区治理体系建设属于社会治理的措施。排除。

C 项，党的十九大报告指出：“健全国家安全体系，加强国家安全法治保障，提高防范和抵御安全风险能力。”加强国家安全体系建设属于维护国家安全的措施，而不是社会治理的措施。当选。

D 项，党的十九大报告指出：“加强预防和化解社会矛盾机制建设，正确处理人民内部矛盾。”加强预防和化解社会矛盾机制建设属于社会治理的措施。排除。

3. **【解析】**C。根据《刑法》第 196 条的规定，有下列情形之一，进行信用卡诈骗活动，数额较大的，处五年以下有期徒刑或者拘役，并处二万元以上二十万元以下罚金；数额巨大或者有其他严重情节的，处五年以上十年以下有期徒刑，并处五万元以上五十万元以下罚金；数额特别巨大或者有其他特别严重情节的，处十年以上有期徒刑或者无期徒刑，并处五万元以上五十万元以下罚金或者没收财产：（一）使用伪造的信用卡，或者使用以虚假的身份证明骗领的信用卡的；（二）使用作废的信用卡的；（三）冒用他人信用卡的；（四）恶意透支的。前款所称恶意透支，是指持卡人以非法占有为目的，超过规定限额或者规定期限透支，并且经发卡银行催收后仍不归还的行为。盗窃信用卡并使用的，依照本法第 264 条的规定定罪处罚。第 264 条是关于盗窃罪的规定。

本题中，刘某是盗窃信用卡并使用，构成盗窃罪。黄某并不知信用卡是刘某偷的，但知晓使用的是他人的信用卡，属于上述法条中“冒用他人信用卡”的情形，其行为构成信用卡诈骗罪。因此 C 项当选。

4. **【解析】**C。A 项，根据《刑法》第 270 条的规定，侵占罪，是指将代为保管的他人财物非法占为己有，数额较大，拒不退还的，或者将他人的遗忘物或者埋藏物非法占为己有，数额较大，拒不交出的行为。该项中的张某将他人的埋藏物非法占为己有，拒不交出，构成侵占罪。

B 项，根据《刑法》第 382 条第 1 款的规定，国家工作人员利用职务上的便利，侵吞、窃取、骗取或者以其他手段非法占有公共财物的，是贪污罪。该项中的胡某作为国家工作人员，利用职务上的便利，私自取走（窃取）储户帐户中的钱款，此外，储户的存款同时系邮政局管理的财产，其工作人员取走储户的存款具有公共财产的属性。因此构成贪污罪。

C项,根据《刑法》第264条的规定,盗窃罪是指以非法占有为目的,盗窃公私财物数额较大,或者多次盗窃、入户盗窃、携带凶器盗窃、扒窃的行为。该项中的张某与其朋友以非法占有为目的,非法消费(相当于窃取)客户网游账号里的钱,数额较大(3000余元),构成盗窃罪。

D项,该项中的赵某盗窃丁某手提包时(尚未实际取得)被发现,丁某当即抓住手提包,赵某为了非法取得手提包,而使用暴力夺走手提包,构成抢劫罪,而不是盗窃罪。

因此C项当选。

5. 【解析】C。债务人,与“债权人”相对,是指根据法律或合同、契约的规定,在借债关系中对债权人负有偿还义务的人。在债务关系履行过程中,如果实际通货膨胀率高于预期的水平,则会出现物价进一步上涨、货币贬值的现象。但此时债务人需承担的还款债务并没有随着实际通货膨胀率的比例增加,故债务人受益。而随着通货膨胀率的提高,货币贬值,债权人的实际利益将会受损。故当实际通货膨胀率高于预期水平时,债务人受益,而债权人受损。因此C项当选。

6. 【解析】B。A项正确,根据《立法法》第8条的规定,下列事项只能制定法律:……(六)税种的设立、税率的确定和税收征收管理等税收基本制度;……。

B项错误,根据《宪法》第56条的规定,中华人民共和国公民有依照法律纳税的义务。依法纳税是公民应该履行的一项基本义务。纳税义务的履行,实际上也为纳税人带来相应的权利。从某种意义上说,纳税义务的履行是纳税者享有权利的基础与条件。但这并不表示纳税是公民享有其他权利的前提,比如选举权、人身自由权等。

C项正确,从计税原理上说,增值税是对商品生产、流通、劳务服务中多个环节的新增价值或商品的附加价值征收的一种流转税。企业的经营成本也是商品的成本,不属于新增价值,所以在缴税时应该扣除。

D项正确,根据《个人所得税法》第2条的规定,下列各项个人所得,应纳个人所得税:……十、偶然所得;……。又根据《个人所得税法实施条例》第8条第1款第10项的规定,偶然所得,是指个人得奖、中奖、中彩以及其他偶然性质的所得。因此小王抽奖获得的10万元奖金,应当缴纳个人所得税。

本题为选非题,因此B项当选。

7. 【解析】A。A项正确,“感觉是人与世界之间的屏障”是哲学家休谟的观点,他认为人的感觉把人对世界的认识隔离开来了,其本质特点是否定了人的认识与客观世界的统一性,属于不可知论的观点。

B项错误,“千军易得,一将难求”这一谚语说的是千万人的军队容易组建,而能统帅千军的杰出将领却难以寻求,以此来说明将帅之才的可贵。属于肯定个人历史作用的历史唯物主义观点,故不是历史唯心主义观点。

C项错误,“机不可失,时不再来”指时机难得,必须抓紧,不可错过。体现了时间是线性前进且不可逆的,说明时间具有一维性,而非绝对性。

D项错误,“不识庐山真面目,只缘身在此山中”意思是我之所以认不清庐山本来的面目,是因为我自己身在庐山之中。这就告诉我们由于人们所处的地位不同,看问题的出发点不同,对客观事物的认识难免有一定的片面性。因此要认识事物的真相与全貌,必须超越狭小的范围,摆脱主观成见。故没有体现真理的观点。

因此A项当选。

8. 【解析】B。A项,《大卫》是文艺复兴雕塑巨匠米开朗基罗的代表作。关于大卫的记载大部分出自犹太教的宗教经典《塔纳赫》,说明作品受犹太教的影响。排除。

B项,《天鹅湖》是俄国作曲家柴可夫斯基的作品,是古典芭蕾舞剧的典范。其内容取材于民间传说,并未体现宗教内容或受到宗教影响。当选。

C项,法国作家大仲马的《基督山伯爵》从表面上来看似乎仅仅是一部讲述报恩复仇的故事,但在其背后,也隐含有浓郁的宗教情结,特别是在表面的复仇故事下表达了基督教的爱,从主人公复仇时行为思想的变化,

体现出了其爱的精神从旧约精神到新约精神的转变。整个《基督山伯爵》呈现出的“蒙难——神恩——拯救——永生”结构采用的正是与耶稣受难的故事相似的结构模式，说明作品受基督教影响。排除。

D项，《最后的晚餐》是意大利艺术家达·芬奇所创作，以《圣经》中耶稣跟12个门徒共进最后一次晚餐为题材。说明作品深受基督教影响。排除。

9. 【解析】D。A项，我国铁器的使用一直可以上溯到西周晚期。春秋时期，铁制农具开始出现，战国时期铁制农具的使用范围进一步扩大，且在春秋战国时期，人们开始使用铁犁并逐渐推广，宋朝在春秋战国以后，因此A项描述的情形可能发生。排除。

B项，火药是中国四大发明之一。唐朝末年，火药已被用于军事，北宋在东京设立专门机构，制造火药和火器。南宋时发明了管型火器“突火枪”，因此B项描述的情形可能发生。排除。

C项，交子，是发行于北宋于仁宗天圣元年（1023年）的货币，是我国最早由政府正式发行的纸币，也被认为是世界上最早使用的纸币，因此C项描述的情形可能发生。排除。

D项，番茄原产南美洲，明代时传入我国。因此，用番茄制酱的情形不可能出现在我国宋代。当选。

10. 【解析】B。①“会当凌绝顶，一览众山小”出自唐代诗人杜甫的《望岳》。“岳”指的是东岳泰山，泰山位于山东省中部，隶属于泰安市，为“五岳之首”。其地理纬度大约为北纬 36° 。

②“坚冰连夏处，太白接青天”出自唐代诗人贾岛的《送僧归太白山》。太白山是秦岭山脉最高峰，位于陕西省宝鸡市，其地理纬度大约为北纬 $33^{\circ}57'$ 。

③“横看成岭侧成峰，远近高低各不同”出自宋代诗人苏轼的《题西林壁》。该诗句描写的是庐山。庐山位于江西省九江市庐山市境内，其地理纬度大约为北纬 29° 。

④“罗浮山下四时春，卢橘杨梅次第新”出自宋代诗人苏轼的《食荔枝》。其中，罗浮山位于广东省惠州市，毗邻惠州西湖，其地理纬度大约为北纬 20° 。

因此，按照从北到南的顺序排列正确的是①②③④，B项当选。

11. 【解析】C。纬线是地球表面某点随地球自转所形成的轨迹。所有的纬线都相互平行，并与经线垂直，纬线指示东西方向。纬线形状为圈。纬线圈的大小不等，赤道为最大的纬线圈，从赤道向两极纬线圈逐渐缩小，到南、北两极缩小为点。即纬度越小，纬线越长。

A项显示的建筑是长城，我们现在看到的长城基本是明长城，大约处在北纬 $36^{\circ}\sim 46^{\circ}$ 之间。

B项显示的建筑是自由女神像，位于美国纽约海港内自由岛的哈德逊河口附近，处在北纬 $40^{\circ}41'$ 。

C项显示的建筑是斯芬克斯狮身人面像，屹立于胡夫金字塔东侧，处在北纬 $29^{\circ}58'$ 。

D项显示的建筑是比萨斜塔，位于意大利托斯卡纳省比萨城北面的奇迹广场上，处在北纬 $43^{\circ}43'$ 。

四座建筑中，斯芬克斯狮身人面像的纬度最小，所以纬线最长。C项当选。

12. 【解析】C。次生盐碱化指由于不合理的耕作灌溉而引起土壤盐渍化的过程。主要发生在蒸发作用强烈的干旱或半干旱地区，因受人为不合理措施的影响，使地下水位抬升，在当地蒸发量大于降水量的条件下，使土壤表层盐分增加，引起土壤盐碱化。

A项，水土流失严重的地区，土壤表层的盐分会随着水土流失排放出去，发生次生盐碱化的可能性低。排除。

B项，地下水位很高的湿润区，降水量大，土壤中的盐分不易析出，土壤不易发生次生盐碱化。排除。

C项，蒸发量较大的旱作漫灌区，由于漫灌会使地下水位上升，地下水位上升会把地下的盐分带到地面来，并且干旱地区，蒸发作用强烈，会使盐分留在地表，出现次生盐碱化的可能性大。当选。

D项，大量抽取地下水致地面下沉的地区，地下水位会降低，发生次生盐碱化的可能性低。排除。

13. 【解析】D。A项正确，药物在饭后服用，是因为有些药物对胃有刺激性。在饭后服用，胃里的食物可以将药物隔离，使药性缓慢释放，减少药物对胃肠道的刺激，有利于药物吸收和利用。

B项正确，由于大米中含有一些溶于水的维生素和无机盐，而且很大一部分在大米的外层，如果久泡，米粒中的无机盐和可溶性维生素会有一部分溶于水而损失。

C项正确，人的牙齿相对来说最适应约 $35\sim 36.5^{\circ}\text{C}$ 的温度，如果经常用冷水刺激牙齿容易导致牙龈出血、牙髓痉挛或其他牙齿疾病的发生。

D项错误，茶叶中含有茶碱，茶碱有兴奋中枢神经、加强血液循环及加速心跳的作用，相对地也会使血压升高。发烧时如果喝茶，茶碱会使体温更快上升，并影响和降低药物的作用，从而加重病情，因此，发烧时不宜喝茶。

本题为选非题，因此D项当选。

14. 【解析】A。A项错误，太空食品是指经特殊工艺加工而成，专门在太空环境下食用的食物。由于空间环境的不同和航天员生活工作的特点，对太空食品提出了许多特殊要求，如体积小、质量轻、营养丰富、方便进食等。因此，太空食品与日常食品存在显著差异。

B项正确，在太空舱内微重力条件下，航天员睡觉不受姿势的限制，可以躺着睡、坐着睡、站着睡，甚至倒立着睡。

C项正确，声音的传播需要介质，太空舱内是有空气介质的。因此，宇航员在太空舱内可以直接用语言进行交流。但在太空舱外作业时，他们之间必须借助通信设备进行交流。

D项正确，舱内工作服是航天员在飞船入轨后正常飞行时脱去舱内航天服后穿的服装。比如有连身式或分身式长袖服，连身式舱内工作服款式与连身式内衣基本相同，领口为立领，腰部有松紧。因此，航天员在舱内工作时可以穿比较舒适的工作服。

本题为选非题，因此A项当选。

15. 【解析】A。A项错误，放气时，气球内部压强降低，气球内的气体会对外做功，气体内能转变为气球动能，使气体内能减少，同时又来不及从外界吸热，只能通过降低温度（减少内能）来实现对外做功。

B项正确，无线电波是一种电场和磁场的波动，所以又叫电磁波。如果想屏蔽电磁波应该使用磁性材料，即只要使金属变成网罩在物体上就可以有效地屏蔽电磁波，题干指出用易拉罐做一个密封壳，属于密封的金属壳，所以可以屏蔽无线电波。

C项正确，车窗起雾的原因是车内外存在温差，当车内温度高于车外温度时，就会形成雾气。洗洁精中含有的活性成分，能在玻璃表面形成一层膜，隔绝玻璃和水，可有效防止水蒸气在玻璃上凝结。

D项正确，黑色可以吸收所有波段的光，不反射任何可见光，所以对热辐射的吸收能力强，导致塑料袋内温度升高，空气受热膨胀，密度变小，所以会上升。

本题为选非题，因此A项当选。

16. 【解析】C。横线处搭配“风景”，根据“美丽各不相同”“生活就是绚丽多姿的世界”可知，横线处表示每个人都是跟别人不一样、独一无二的风景。C项“与众不同”意为与其他人不一样，符合文意，当选。A项“熠熠生辉”形容光彩闪耀的样子，B项“引人入胜”多指风景和艺术作品特别吸引人，两项均无法体现跟别人不一样，与文段无法照应，排除。D项“美轮美奂”形容建筑物宏伟壮丽、富丽堂皇，也用来形容雕刻或建筑艺术的精美效果，与“风景”搭配不当，排除。

17. 【解析】B。根据“大清王朝不见了，熊熊火光不见了，民族的郁忿不见了，历史的感悟不见了……收拾来的只是今日的游戏”可知，为了建造一座崭新的圆明园，而抹去了历史遗迹，是因小失大的行为，B项“得不偿失”指所得的利益抵偿不了所受的损失，符合文意，当选。A项“天马行空”形容诗文、书法、言行等气势豪放，也比喻人浮躁不踏实，无法形容重建圆明园的行为，排除。C项“耸人听闻”指夸大或捏造事实，使人听了感到惊异或震动，文段意在指出重建圆明园的行为会产生不良的后果，而非夸大事实使人震惊，排除。D项“不可思议”指无法想象，难以理解，与后文无法照应，排除。

18. 【解析】C。第一空，横线处搭配“非言语信息”，且根据“让其主动争取学生的关注”可知，横线处需体现为了保证校园环境发挥作用，需要让某些非言语信息更加凸显，让其存在更加引人注目，C项“强化”符合文意。A项“引导”指通过某种手段或方法去带动某事物的发展，D项“改造”指改变、打造，两项均与“非言语信息”搭配不当，排除。B项“整合”指通过整顿、协调重新组合，文段没有体现出重新组合之意，排除。将C项代入第二空验证，“以免使人产生排斥心理”与前文“不要让环境带有过于强制的色彩”对应，符合文意，当选。

19. 【解析】D。第一空，根据“每个城市都与世界上其他地区发生着直接或间接的联系”“隔绝与其他地区的联系”可知，横线处强调中国城市的发展不能将自己限定在一个范围内，要与外面联系。A项“闭门造车”指关起门来造车，比喻不与外界交流，关起门来搞建设；B项“画地为牢”表示只允许在指定的范围内活动；D项“固步自封”表示限制在一定范围内，守着老一套，不求进步，三项语意均可。C项“停滞不前”指停留不动，不继续前进，与文意无关，排除。

第二空，横线处搭配“特征”，根据“形成特色鲜明的城市单体”可知，横线处要表达能凭借、基于此特征使自身得到长足发展之意，D项“立足”指凭借某事或某物站稳、安身立命，与文意相符，当选。A项“强调”、B项“突出”更多侧重于言语上的强调，形式上的突出，不一定能达到“形成特色鲜明的城市单体”的目的，排除。

20. 【解析】D。本题可从第二空入手，根据“这些学校具有教师教育传统”“可以保证大学后期教育专业培养的质量”可知，这类大学是具备举办教师教育培训资格的，对此我们不用怀疑。D项“毋庸置疑”指事实明显或理由充分，不必怀疑，符合文意。A项“无懈可击”形容十分严密，找不到一点漏洞；B项“毋庸置疑”表示用不着隐讳，可以直说，两项均与文意无关，排除。C项“无可厚非”指说话做事虽有缺点，但还有可取之处，应予谅解。而文段并未论述该类大学的缺点弊端，排除。

将D项代入第一空验证，根据“可以保证大学后期教育专业培养的质量”可知，“有着师资和课程体系等的支撑”符合文意，当选。

21. 【解析】B。第一空，横线处搭配“我们的整个文明”，分析文意可知，自然生态跟不上我们的步伐，我们的整个文明也会产生不好的结果，B项“崩塌”指崩裂倒塌，C项“瓦解”指事物的分裂、分离，两项均可。A项“消亡”指消失、灭亡，程度过重，排除。D项“崩溃”指人因过度刺激情绪失控，置于此处搭配不当，排除。

第二空，“这”指代人类对野生动物的做法，由后文可知体现做法的残忍和愚蠢，B项“自生自灭”形容自然发展，无人过问，可以体现人类对野生动物不过问的做法愚蠢而残忍，符合文意，当选。C项“自取灭亡”指所作所为把自己引上绝路，野生动物并非自己把自己引上绝路，而是由于人类的做法，与文意不符，排除。

22. 【解析】A。第一空，由横线后的“不让人阅读”可知，横线处应填入表示将古籍藏起来之意，A项“束之高阁”比喻放着不用，符合文意。B项“置之不理”指放在一边，不理不睬，并无“不让人阅读”之意，排除。C项“漠然置之”指对人或事态度冷淡，放在一边不理，多用作贬义，不符合文意，排除。D项“视若拱璧”指十分珍贵，并无“不让人阅读”之意，排除。将A项代入第二空验证，古人留下文字记载，最初的目的是让后代能够阅读，“不让人阅读”则违背了其最初的想法和意图，“初衷”填入恰当，当选。

23. 【解析】C。第一空，修饰“北京城南天桥地区”，由“集合北京平民消遣种类之大成的演艺场”“京、冀民间文化艺术最重要的展示平台之一”可知，该地区因为江湖艺人聚集而闻名。B项“能人辈出”形容有才能的人不断涌现，对应“江湖艺人聚集”，语意尚可。C项“闻名遐迩”表示名声很大、远近都知道，与文意相符。A项“人声鼎沸”只形容人群的声音吵吵嚷嚷，不能体现闻名的意思，排除。D项“鱼龙混杂”形容好人与坏人混在一起，与文意不符，排除。

第二空，根据“天桥因有江湖艺人而繁华”“人能兴地，地能兴人”可知，天桥能够让艺人获得一个相对

优越的生活状态，对应C项“安身立命”，表示生活有着落，精神有寄托，当选。B项“扬名天下”形容名声极大、全国闻名，填入文段程度过重，排除。

24. 【解析】A。第一空，根据横线后的“越走越好”可知，横线处应填入表示“成熟的自主品牌车企”正不断向前发展之意的词语，A项“势如破竹”比喻作战或工作节节胜利，毫无阻碍；B项“所向披靡”比喻力量所达到的地方，一切障碍全被扫除；D项“激流勇进”比喻不畏险阻，奋勇向前，三项均符合文意。C项“如日中天”比喻事物正发展到十分兴盛的阶段，横线处仅表示向前发展，并没有体现发展到十分兴盛之意，不符合文段语境，排除。

第二空，根据“也有一些企业走到了生死存亡的关头”可知，横线处词语应表示这些企业现在特别小心谨慎，A项“如履薄冰”指像走在薄冰上一样，比喻行事极为谨慎，存有戒心，符合文意，当选。B项“进退维谷”、D项“骑虎难下”均强调陷于进退两难的境地，文段并非强调这些企业处于两难境地，而是强调其在生死存亡的关头行事小心谨慎，均与文意不符，排除。

25. 【解析】D。第一空，根据递进关联词“乃至”可知，横线处词语与“坚守正道、深明大义、矢志不移”相比意思相近且程度更重，A项“以身殉道”、B项“杀身成仁”、D项“舍生取义”均指为了正义牺牲生命，均可与前文构成递进关系。C项“视死如归”形容不怕牺牲生命，体现不出坚守道义的含义，故与文意不符，排除。

第二空，根据递进关联词“更”可知，横线处词语与“随波逐流”相比意思相近且程度更重，“随波逐流”比喻没有坚定的立场，缺乏判断是非的能力，只能随着别人走。D项“同流合污”多指跟着坏人一起做坏事，可与“随波逐流”构成递进关系，当选。A项“人云亦云”指没有主见，只会随声附和；B项“口是心非”指口所言说的与心中所思想的不一，两项均无法与“随波逐流”构成递进关系，排除。

26. 【解析】C。本题从第二空入手，搭配“精华”，B项“继承”指继续传承，与“精华”搭配不当，排除。第三空，搭配“底线”，表达物欲膨胀的一系列负面影响对于文明底线的不良影响，C项“冲击”指冲击攻击，符合文意。A项“触碰”指接触、触摸，程度过轻，无法与“一系列负面影响”构成对应，排除。D项“腐蚀”指腐烂、侵蚀，和“底线”搭配不当，排除。将C项代入第一空验证，“思想深植于民族精髓之中”符合文意，当选。

27. 【解析】C。第一空，横线处所填成语与势头搭配，C项“前所未有”指从来没有发生过的；D项“错综复杂”指头绪繁多，相互纠结，均可以用来搭配势头。A项“波谲云诡”指好像云彩和水波那样，形容变幻不定，不可捉摸，与势头搭配不当，排除。B项“来势汹汹”指动作或事物到来的气势很厉害，置于此处语意重复，排除。

再看第三空，由表示递进关系的关联词“甚至”可知，所填词语语意程度应比“侵蚀”更重，“侵蚀”指逐渐侵害使受消耗或损害，D项“浸染”指逐渐沾染或感染，与“侵蚀”程度相近，无法构成语意上的递进，排除。又根据后文“沦为‘文化殖民地’”可知，最终结果是变得与其他文化一样，C项“同化”指变得一致，符合文意。将C项代入第二空验证，“彰显自身的文化主体性”符合文意。因此C项当选。

28. 【解析】A。第一空，横线处所填成语与“优秀作品”搭配，A项“脍炙人口”指好的诗文受到人们的称赞和传诵；B项“家喻户晓”指家家户户都知道；D项“喜闻乐见”指喜欢听，乐意看，形容很受欢迎，均与“优秀作品”搭配得当，且符合文意。C项“良莠不齐”指好人坏人都有，混杂在一起，适用对象只能是人，与“优秀作品”难以对应，排除。

第二空，由顿号可知，横线处所填成语与“抄袭模仿”构成并列关系，语意相近，A项“千篇一律”指办事按一个格式，非常机械，与“抄袭模仿”含义相近，符合文意。B项“泥沙俱下”指好的和坏的混杂在一起，与“抄袭模仿”无关，难以构成对应，排除。D项“因循守旧”指沿袭旧规，不思革新，死守老一套，缺乏创新的精神，文段并无死守老规矩的语意，排除。

将A项代入第三空验证，“志存高远”指追求远大的理想、事业上的抱负，对应后文“以自己的艺术个性进行创新”，符合文意，当选。

29. 【解析】A。横线出现在文段中间，需结合前后文内容进行分析。前文首先介绍更新知识是好事，紧接着话锋一转，出现转折关联词“然而”，可知前后语意相反，故横线处应体现“更新知识”也会带来一定的消极影响，由横线后的冒号可知，后文是对横线处内容的进一步解释说明，后文通过吸烟、吃肉、女性接受乳房X光检查年龄、地球是否为宇宙中心、喝红酒的利弊等例子具体说明人们由于接受的知识不断更新变化而感到疑惑和不知所措，对应A项，“这个过程”指代前文中“更新知识”的过程，且“令人困惑和不安”能够体现出在更新知识的过程中人们的心态，当选。

B项“‘有效期’是不同的”、C项“自然科学的前沿理论淘汰起来比社会科学更快”在文段中均没有体现，属于无中生有，排除。D项“固执地认为头脑中的某些知识是正确的”与后文“究竟是有益还是有害了”表述相悖，后文体现的是不断更新带来的困惑，排除。

30. 【解析】D。文段开篇指出世界各地的大学图书馆为了适应21世纪的知识更新重塑自身，接着具体解释说明其做出的两方面的改进，随后通过转折关联词“但是”，重点强调对于学者而言，这些改进并不能满足他们的需求，即大学图书馆的改进与学者的需求产生了错位，对应D项，当选。A、C两项属于转折前内容，非重点，排除。B项“给图书馆造成的生存困境”文段没有提及，属于无中生有，排除。

31. 【解析】A。文段首先引出一项关于参与者对自己习惯的看法跟他们丢弃垃圾的记录之间联系的研究。接着从节俭家庭、喜食垃圾食品的人、富裕家庭和贫困家庭不同群体出发，论述了他们对自己习惯的看法与从“垃圾”记录上反映的真实行为存在较大差异，故文段重在强调垃圾记录比人们的习惯看法更真实，对应A项，当选。B项，文段重点强调的不是人们对自己丢弃垃圾行为的评估，而是垃圾记录会更真实地反映他们的自身行为，偏离中心，排除。C项强调消费影响，D项强调饮食习惯，两项均未提及文段主题词“垃圾”，且表述片面，排除。

32. 【解析】A。文段开篇指出18世纪的蒸汽机和纺织机带来工业革命，19、20世纪的汽车、半导体等成果促成了新产业的产生，即科技发展带来了产业的变革，随后通过转折词“但是”提出问题，后通过并列结构给出答案，强调如今的技术没有带来新的动力和产业的巨变，最后基于前文得出结论，即“目前面对的是产业危机和创新性危机”。由此可知，作者对于当今技术带来的产业发展持否定态度，认为其没有发生巨变，缺乏创新，对应A项，当选。B项“经济”表述不准确，文段强调的是“产业危机”，排除。C项“新技术革命不如传统技术”对应结论前内容，非重点，排除。D项“创新性危机引发金融危机”属于无中生有，文段并无此类因果关系，排除。

33. 【解析】B。文段首先介绍传统学校较为封闭，教师们不会彼此学习。接下来由“然而”转折引出文段重点，依次引用教育研究的观点、经济学家的观点以及调查结论阐明教师相互交流、协作可提高学生的表现，使学生获得较高分数的同时也有助于提高教学效果。故文段意在说明“教师之间交流合作的意义”，对应B项，当选。A项“大数据研究”偏离文段核心话题，排除。C项“教学方法”偏离文段核心话题，文段重在强调“教师交流”的作用，排除。D项“传统学校中教师”为转折前的表述，非重点，排除。

34. 【解析】D。文段开篇介绍西方语言的书写形式仅仅表音，随后强调西方语言的书写形式使西方人长于语言思维。后文介绍汉语书写符号不仅能表音，还能表形、表意，强调汉语书写符号使中国人长于形象思维。文段为并列结构，强调书写形式对思维产生影响，故“书写形式”和“思维”为文段主题词，对应D项，当选。A、C两项均未同时提及“书写形式”和“思维”两个主题词，排除。B项，文段强调的是书写形式对思维的影响，而不是语言和思维的关系，排除。

35. 【解析】C。对比选项，判断首句，①⑤两句均可作为首句使用，不易判断。寻找其他解题线索发现，⑥中出现指代词“这”并提示这是一场不公平竞争，故⑥之前的语句应谈论“不公平竞争”的话题，对应到③

中的“竞争”，故③⑥捆绑，排除 A、B 两项。对比 C、D 两项，差别在于①的位置，①提到餐饮企业收购地沟油，⑥提到“不公平竞争”，话题不一致，排除 D 项。C 项中④同样围绕地沟油展开，①④话题一致。对 C 项进行验证，逻辑通顺，当选。

36. 【解析】D。对比选项，判断首句，③介绍如今的春晚，④介绍从 1983 年至今的春晚，根据时间顺序，④在③之前，④更适合作为首句，排除 A、B 两项。观察选项发现，⑤中存在“相反”，可知前后语意相反，⑤指出大家不看春晚有些遗憾，即呼吁大家要看春晚。⑥则表示春晚不可能让每一个人满意，很多人也就不爱看了。⑥⑤语意相反，根据关联词捆绑，⑥⑤相连，且⑥在⑤之前，排除 C 项。对 D 项进行验证，逻辑通顺，当选。

37. 【解析】C。文段开篇引出民国初年文学革命，接着分析旧典范死亡新典范出现，当新典范无法丈量时，就诟病中国文学存在问题，可知所谓新典范是无法适用于整个中国文学的，因此以新典范的标准批评中国文学是不合理的，对应 C 项，当选。A 项，偏离文段核心话题，文段重点强调西方文学批评理论的不合理之处，排除。B 项，为文段背景内容，非重点，排除。D 项，文段并未阐述“民国初年的中国文学作品带有革命性的特点”，属于无中生有，排除。

38. 【解析】D。文段开篇引出传奇文学话题以及传奇的特点，后文指出统治阶级用传奇形式表现愿望，且由此创作的战争小说也深受大众读者欢迎，因此文段重点强调传奇文学深受统治阶级或权威阶层以及大众的欢迎，D 项中“读者”对应文段“大众”，“主流意识”对应文段“统治阶级或知识界的权威阶层”，表意准确，对应全面，当选。A 项，介绍的是传奇故事的作用，非文段重点，排除。B 项，“特定时代”表述错误，文段说的是“在每个时代”，排除。C 项，“统治阶级和知识精英”表述片面，未提及大众，且“英雄传奇”在文段中并无论述，排除。

39. 【解析】C。文段开篇引出痛风人群需要忌食豆腐这一约定俗成的主流保健意识，随后通过转折词“其实”强调豆腐嘌呤含量并不高，后文进一步证明痛风患者可以食用豆腐。故文段重点强调痛风病人可以吃豆腐，即对痛风人群不能吃豆腐的错误认识进行反驳和纠正，对应 C 项，当选。A 项，没有提及文段的主题词“豆腐”，排除。B 项，“比较不同类型痛风患者的饮食禁忌”对应后文并列分述的表述，非重点，且没有提及主题词“豆腐”，排除。D 项，“加工过程”对应“由于”之后的内容，非文段重点，排除。

40. 【解析】D。文段开篇指出“微时代”的媒介技术革新与融合会颠覆传统艺术审美活动，随后通过艺术接受的区域扩大化和艺术创造的去精英化，并列分述了“微时代”的媒介技术是如何颠覆人们的审美活动的。故文段为总分结构，重点强调了“微时代”的媒介技术可以颠覆人们的审美活动，对应 D 项，当选。A 项，“艺术鉴赏”是对首句观点的解释论证，非重点，排除。B 项，“艺术审美的大众化程度”在文段中并未提及，属于无中生有，排除。C 项，文段谈论的中心不是“智能手机”的重要性，不符合文意，排除。

41. 【解析】A。文段首先阐述了语言在不同层次发挥着不同的功能，接下来通过程度词“更”强调了语言是宝贵资源，随后列举了英国、瑞士以及欧盟在语言产业方面获取的收益，最后通过“因此”对上文进行总结，强调要抓住“语言产业”这一新的发展机遇，提高语言资源的开发利用水平，大力发展语言经济。因此文段的关键词为“语言资源”“语言产业”“语言经济”，对应 A 项，当选。

42. 【解析】D。文段开篇指出咀嚼行为可以激活 Th17 免疫细胞，从而达到增强口腔免疫力、抵御口腔感染的目的。之后通过“小鼠实验”进一步证明了咀嚼可以激活相关免疫系统，引发免疫反应。故文段意在强调咀嚼行为能增强口腔免疫力，对应 D 项，当选。A 项，Th17 免疫细胞的独特之处对应尾句的表述，非重点，排除。B 项，文中仅提到通过咀嚼可以激活 Th17 免疫细胞，“只能被咀嚼行为激活”表述过于绝对，排除。C 项，文段并未对比谁更能唤起牙龈的免疫反应，属于无中生有，排除。

43. 【解析】B。文段由荆轲的例子引出在手游中人们熟知的历史人物变得面目全非，尾句指出历史在手游里成了“被随意打扮的小姑娘”。B 项准确地把握了文段的中心意思，“游戏”是“被随意打扮的小姑娘”

的同义替换，当选。A项，“尊重历史”没有表述出历史在手游里被“游戏”的现状，排除。C项，文段只介绍了在手游里历史被过度演绎，选项未提及手游，范围太大，排除。D项，文段重点介绍手游对历史的胡编乱造，过度消费属于无中生有，排除。

44. 【解析】B。文段开篇介绍近年来各种众筹形式蓬勃发展，而后指出2016年有一些众筹平台没有挺过“年关”，下架众筹平台数量达正常运营众筹平台的五分之一。尾句围绕众筹平台遇到的问题展开阐述，下文所述话题应该与尾句话题保持一致，且提出问题之后应该首先分析问题，再解决问题。故下文应继续围绕众筹平台这一话题论述其问题产生的原因，对应B项，当选。A项，“怎样做到‘曲不断，人不散’”为对策表述，应该放在B项之后，排除。C、D两项均围绕“众筹市场”论述，而文段尾句围绕“众筹平台”进行阐述，话题不一致，排除。

45. 【解析】C。C项表述错误，根据文段“但用作食品加工的烧碱需要‘食品级’”，所以不是在食品加工中使用任何烧碱都不违法，而是使用“食品级”的烧碱不违法，当选。A项，对应文段“至于使用工业烧碱，则属于使用‘不合格原料’，应该打击”，表述正确，排除。B项，对应文段“在食品中使用氢氧化钠，危险是由工作人员来承担的”，表述正确，排除。D项，根据文段可知烧碱“是一种高效的酸度调节剂”，再根据文段“食品级烧碱和工业烧碱的区别不在于主要成分”可知，两者的主要成分基本相同，都可作为酸度调节剂，表述正确，排除。

46. 【解析】C。第二次相遇存在两种可能，即在端点处或中间某一位置。根据题意，甲车从A地到B地需要 $480 \div 60 = 8$ （小时），卸货花费1小时，回到A地再花费8小时，共用时 $8 + 1 + 8 = 17$ （小时）；同理，乙车从B地到A地需要 $480 \div 40 = 12$ （小时），卸货花费1小时，共用时 $12 + 1 = 13$ （小时）， 17 小时 >13 小时，则两车第二次相遇一定在A、B两地之间（非端点）。结合两端出发多次相遇公式： $(2n - 1) \times s = (v_1 + v_2) \times t$ ，第二次相遇时： $(2 \times 2 - 1) \times 480 = (60 + 40) \times t$ ，解得 $t = 14.4$ （小时）；由于两车在中间各自花费1小时卸货，则两车第二次相遇距离两车早上出发经过了 $14.4 + 1 = 15.4$ （小时）。因此C项当选。

47. 【解析】C。根据题意，设洗发液原价为 $100a$ 元，则有：

原价	3点价格	4点价格	5点价格	6点价格
$100a$	$50a$	$55a$	$60a$	$65a$

张大妈两次抢购的总价 $= 2 \times 55a + 2 \times 65a = 240a = 48$ （元），解得 $a = 0.2$ ；原价购买4瓶的总价 $= 400a = 80$ （元），则与原价相比共节省了 $80 - 48 = 32$ （元）。C项当选。

48. 【解析】C。根据题意，设当月上网套餐流量为 x MB，则该月流量如下表：

日期	6月1日	6月2日	剩下
套餐内流量	$15\%x$	8	$x - 15\%x - 8$

由“这时用去的流量和套餐内剩下的流量之比为1:3”可得 $\frac{15\%x + 8}{x - 15\%x - 8} = \frac{1}{3}$ ，解得 $x = 80$ 。那么，剩下套餐内流量 $= 80 - 80 \times 15\% - 8 = 60$ （MB）。又“小张从3日开始每天使用6MB流量”，可算出6月3~30日共需流量 $= 28 \times 6 = 168$ （MB），因此小张6月使用的套餐外手机流量为 $168 - 60 = 108$ （MB）。C项当选。

49. 【解析】A。由“最小的正方形面积是1平方厘米”可得，A正方形边长 $= 1$ cm，设F正方形边长为 d cm，则E正方形边长为 d cm，D正方形边长为 $(d + 1)$ cm，C正方形边长为 $(d + 2)$ cm，B正方形边长为 $(d + 3)$ cm。

用B、C正方形边长表示长方形的长 $= d + 3 + d + 2 = 2d + 5$ ，用D、E、F正方形边长表示长方形的长 $= d + 1 + d + d = 3d + 1$ ，就有 $2d + 5 = 3d + 1$ ，解得 $d = 4$ 。则长方形的长 $= 2d + 5 = 2 \times 4 + 5 = 13$ （cm），宽 $= d + 3 + d = 2d + 3 = 2 \times 4 + 3 = 11$ （cm），面积 $= 13 \times 11 = 143$ （cm²）。A项当选。

50. 【解析】B。设实际投资这一项目的有 x 人，则计划投资的有 $(x + 2)$ 人，根据题意可得 $\frac{120}{x} = \frac{120}{x + 2} + 10$ ，解得 $x = 4$ （人）。B项当选。

51. 【解析】D。由题意可知，甲每 $48 \div 24=2$ （天）更新一次，乙每 $72 \div 24=3$ （天）更新一次，丙每 $96 \div 24=4$ （天）更新一次，要想有更新的天数尽可能多，则三个网站在一周的更新天数应尽可能多，且尽量不重复。安排甲从周一开始更新，则甲在周一、周三、周五、日均更新一次，此时乙在周一、周四、周日更新，丙分别在周二与周六更新，情况最优，一周内每天均有网站更新。

周一	周二	周三	周四	周五	周六	周日
甲		甲		甲		甲
乙			乙			乙
	丙				丙	

注：每隔 48 小时就是每 48 小时，不需要额外加 1 小时。

因此 D 项当选。

52. 【解析】C。第一种情况：如果提速 25%，可比原定时间提前 12 分钟到达。可知，提速前后速度之比为 4：5，路程相同时，时间与速度成反比，则时间之比为 5：4。节省了 1 份等于 12 分钟，所以原计划用时 $5 \times 12=60$ （分钟）。

第二种情况：如果原定速度飞行 600 千米后，再将速度提高 $\frac{1}{3}$ ，可以提前 5 分钟到达。可知，提速前后速度之比为 3：4，则在提速后所走的路程内，时间之比为 4：3，节省了 1 份等于 5 分钟，则原计划用时 $4 \times 5=20$ （分钟）。故前 600 千米用时 $60-20=40$ （分钟），则全程路程 $=\frac{600}{40} \times 60=900$ （千米）。

因此 C 项当选。

53. 【解析】A。假设上坡所用时间为 x ，下坡所用时间为 y ，从 A 地出发按 A—B—A—B 的路线行进所用时间为 $t_1=2x+y$ ，从 B 地出发按 B—A—B—A 的路线行进所用时间为 $t_2=2y+x$ 。总路程相同，速度与时间成反比，已知前者全程平均速度是后者的 $\frac{4}{5}$ ，则 $\frac{t_1}{t_2} = \frac{2x+y}{2y+x} = \frac{5}{4}$ ，则 $\frac{x}{y} = \frac{2}{1}$ 。由于上坡和下坡路程相同，速度和时间成反比， $\frac{\text{上坡的速度}}{\text{下坡的速度}} = \frac{1}{2}$ 。A 项当选。

54. 【解析】C。由在“每日停业的 1 小时中进货 1 万升 92 号汽油。某月 1 日开始营业时有 92 号汽油库存 4 万升”可知，开始营业是 1 时，说明 4 万升已经包含了当日进货的 1 万升，故 1 日 0 时库存为 3 万升。又由“某月 1 日……当日销售 92 号汽油 1 万升”可得，在不增加车流量的情况下，每日新进货和当日销售额持平，故原库存 3 万升不会被消耗掉。

考虑在增加车流量的情况下，“比上一日增加 1000 升”，则每日新增销量构成一个首项 a_1 为 0，公差 d 为 0.1 万升的等差数列。设 n 天内新增销量之和超过 3 万升，由等差数列求和公式 $S_n = na_1 + \frac{n(n-1)}{2}d$ ，代入数据可得 $\frac{n(n-1)}{2} \times 0.1 \geq 3$ ，化简得 $n(n-1) \geq 60$ 。结合选项枚举代入：

当 $n=8$ 时， $n(n-1) = 8 \times 7 = 56 < 60$ ，不符合题意。

当 $n=9$ 时， $n(n-1) = 9 \times 8 = 72 > 60$ ，符合题意，即汽油将在 9 日售罄。

因此 C 项当选。

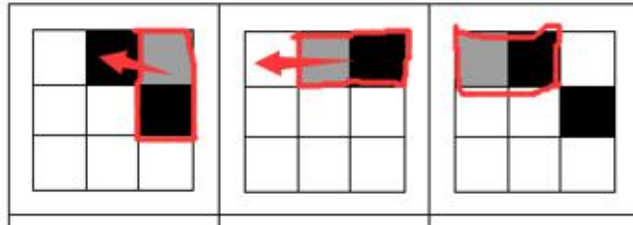
55. 【解析】D。由题意可得，小球总个数为 $1+2+3+\dots+10 = \frac{10 \times (1+10)}{2} = 55$ ，假设第一次取出小球个数为 x ，剩下盒子中球数为 y ，则第二次与第三次取出小球个数分别为 $3x$ 、 $9x$ ，前三次取出小球总个数为 $x+3x+9x=13x$ ，则 $13x=55-y$ ， $55-y$ 是 13 的倍数，只有 D 项符合，当选。

56. 【解析】B。元素组成不同，且无明显属性规律，优先考虑数量规律。观察题干发现，折线与直线相交，优先考虑数面。题干图形面的数量依次为：1，2，3，4，故问号处图形应为 5 个面。又观察发现题干图形

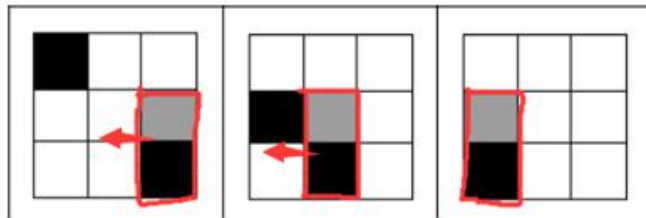
折线开口朝向依次为：上、下、上、下，故问号处折线应开口朝上。因此 B 项当选。

57. 【解析】A。元素组成不同，且无明显属性规律，优先考虑数量规律。观察题干图形发现，封闭面较多，优先考虑数面。题干图形面的数量依次为：8，7，6，5，4，故问号处图形为 3 个面。又观察发现题干图形中的面均是三角形，只有 A 项符合，当选。

58. 【解析】C。第一步，观察图形，九宫格中黑色和灰色填充位置变化明显，优先考虑平移；第一横行灰色填充和一个黑色填充依次逆时针移动一个，另一个黑色填充依次顺时针移动一格，如下图所示：



第二横行，灰色填充和一个黑色填充依次顺时针移动一格，另一个黑色填充依次逆时针移动一格，如下图所示：



第三横行，两个黑色填充分别顺时针和逆时针移动一格，灰色填充逆时针移动一格，因此，选择 C 选项。

59. 【解析】C。A 项，两对角线所在的面为相对面不能同时出现，排除；B 项，两横线所在的面为相对面不能同时出现，排除；D 项“X”型面和“十”字型面为相对面不能同时出现，排除；因此，选择 C 选项。

60. 【解析】D。A 项，可从圆台的侧面切入，经过长方体，到圆台底，排除。

B 项，可以圆台正中间竖着切排除。

C 项，可沿水平方向切出排除。

D 项，如果外侧要切出梯形，只能从中间竖着切，而中间是中空的，所以不能切出，当选。

61. 【解析】B。定义要点为：①利用他人为道具而实施犯罪的实行行为；②利用者与被利用者不构成共同犯罪；③两种情况：一是利用无刑事责任能力人犯罪，二是利用他人过失或不知情的行为犯罪。

A 项，甲挑唆乙和丙的关系，致使乙将丙打伤，但甲、乙、丙均是完全刑事责任能力人，且乙知情，不符合要点③，不符合定义，排除。

B 项，甲教唆乙将丙砍伤，符合要点①，被利用的乙是精神病人，属于无刑事责任能力人，符合要点③，符合定义，当选。

C 项，甲派乙殴打丙，乙是被利用者，但甲、乙、丙均是完全刑事责任能力人，且乙知情，不符合要点③，不符合定义，排除。

D 项，甲让自己的孩子乙诬告丙，乙虽然是无刑事责任能力人，但乙捏造的事实正是丙客观存在的事实，并非诬告，因此不符合要点①，不符合定义，排除。

62. 【解析】D。不征税收入定义要点为：①专门从事特定目的；②从性质和根源上不属于营利性活动带来的经济利益；③不负有纳税义务并且不作为应纳税所得额组成部分的收入。

免税收入定义要点为：①国家为了实现某些经济和社会目标；②在特定时期或对特定项目取得的经济利益给予的税收优惠照顾；③在一定时期又有可能恢复征税的收入。

A 项，为鼓励高新技术企业自主创新，符合免税收入中的要点①，在近两年内对这类企业研发产品的销售

收入暂不收税，符合免税收入中的要点②，符合“免税收入”定义，排除。

B项，某农产品企业，符合不征税收入中的要点①，获得了当地政府专项财政补贴，符合不征税收入中的要点②，符合“不征税收入”定义，排除。

C项，企业技术转让所得年净收入暂免征收所得税，符合免税收入中的要点②和要点③，符合“免税收入”定义，排除。

D项，为鼓励纳税人积极购买国债，符合免税收入中的要点①，规定国债所得利息收入暂不计入应纳税所得额，符合免税收入中的要点②和要点③，符合“免税收入”定义，不符合“不征税收入”定义，错误，当选。

63. 【解析】D。定义要点为：①手中掌握有公共权力的人；②借用自身权力获得某些特殊信息，从事某些牟利活动。

A项，市政府某局干部贿赂有关人员改档案信息，并没有获得特殊信息，不符合要点②，不符合定义，排除。

B项，某法学院教授是用窃取的试卷辅导学生，不符合要点②，不符合定义，排除。

C项，省科技厅王处长离职后将自己的技术创新，并没有利用权力获得信息，不符合要点②，不符合定义，排除。

D项，副区长将工程投标秘密信息泄露给投标企业，并获得50余万元，符合要点①和要点②，符合定义，当选。

64. 【解析】C。前摄抑制定义要点为：先学习的材料对识记和回忆后学习的材料所产生的干扰作用。

倒摄抑制定义要点为：后学习的材料对识记和回忆先学习的材料所产生的干扰作用。

A项，背课文中间段落最难记住，说明前面材料和后面材料都对中间材料产生了影响，即“先学习的材料”和“后学习的材料”都对中间学习的材料产生了干扰，因此选项中既包含了前摄抑制，又包含了倒摄抑制，排除。

B项，早晨和夜晚的记忆效果最佳，说明中午的记忆效果不佳，早晨的记忆和夜晚的记忆都对中午的记忆产生影响，即“先学习的材料”和“后学习的材料”都对“中间的学习材料”产生了干扰，因此选项中既包含了前摄抑制，又包含了倒摄抑制，排除。

C项，之前学的拼音字母会读错，说明后学的英文字母对先学的拼音字母产生了影响，即“后学习的材料对识记和回忆先学习的材料所产生的干扰作用”，选项中只包含倒摄抑制，当选。

D项，由于头部受伤而回忆不起来之前的事情，没有提到先、后学习的材料对识记和回忆后、先学习的材料所产生的干扰作用，因此选项中既没有包含前摄抑制，也没有包含倒摄抑制，排除。

65. 【解析】D。趋同进化定义要点为：①不同的物种在进化过程中；②由于适应相似的环境而呈现出表型上的相似性。

趋异进化定义要点为：①同一物种在进化过程中；②由于适应不同的环境而呈现出表型差异的现象。

A项，袋食蚁兽和穿山甲是不同的物种，符合趋同进化中的要点①，具有相似的生活方式和适于捕食白蚁的相似生理结构，符合趋同进化中的要点②，符合“趋同进化”定义，不符合“趋异进化”定义，排除。

B项，鲸、海豚等和鱼类亲缘关系很远，符合趋同进化中的要点①，因为生活在水中而体形相似，符合趋同进化中的要点②，符合“趋同进化”定义，不符合“趋异进化”定义，排除。

C项，鼯鼠和金毛鼯分类相距甚远符合趋同进化中的要点①，生存环境和生活方式相似，形态也相似符合趋同进化中的要点②，符合“趋同进化”定义，不符合“趋异进化”定义，排除。

D项，白色北极熊是从棕熊中分出来的，符合趋异进化中的要点①，北极熊在北极环境中发展成与环境颜色一致、善于捕猎的食肉白色北极熊，而其他棕熊以植物为主要食物，符合趋异进化中的要点②，符合“趋异进化”定义，当选。

66. 【解析】D。定义要点为：①被经济学名词弄得满头大汗、不知其意；②容易盲从；③专家说啥信啥；④专家说错了也会继续相信。

A项，“绿豆治百病大法”是一种民间食疗方法，不是经济学名词，不符合定义，排除。

B项，低钠盐好处多是指低钠盐对人体的好处，不是经济学名词，不符合定义，排除。

C项，“边际效益”是经济学名词，小王是为了通过考试而死记硬背这些经济学名词，而不是盲目跟从专家说法，不符合定义，排除。

D项，《重金属攻略》一书中的“浮动盈亏”是经济学名词，小王被“浮动盈亏”等概念弄糊涂了，符合要点①。看到书中宣传的重金属的盈利前景就马上参与交易，符合要点②和要点③，符合定义，当选。

67. 【解析】C。定义要点为：①由大众传播活动形成的信息环境；②不是客观环境的镜子式再现；③大众传播媒介通过对新闻和信息的选择、加工和报道；④重新加以结构化。

A项，报纸是大众传播媒介，通过报纸对某农产品的多种养生功能进行报道，是将农产品的多种养生功能这些信息进行整合，重新加以结构化向人们展示，符合定义，排除。

B项，广告是大众传播媒介，该产品的广告语“新一代的选择”是对该产品的加工报道，符合要点③，符合定义，排除。

C项，公司内网论坛不是大众传播媒介，且“经观察他发现确实如此”说明张某专业功底深厚这个信息是客观存在的，不符合要点②，不符合定义，当选。

D项，微信公众号是大众传播媒介，通过公众号发布消息体现了“对信息进行报道”，交警部门出面辟谣说明公众号发布的信息与客观事实不符，符合要点②，符合定义，排除。

68. 【解析】C。高血压不是传染病，且高血压是一种疾病，传染病是一类疾病。

A项，蝙蝠是一种哺乳动物，二者为种属关系，与题干逻辑关系不一致，排除。

B项，黄梅戏和京剧为并列关系，与题干逻辑关系不一致，排除。

C项，鲫鱼不是两栖动物，且鲫鱼是一种动物，两栖动物是一类动物，与题干逻辑关系一致，当选。

D项，电脑硬件是计算机的组成部分，二者为组成关系，与题干逻辑关系不一致，排除。

69. 【解析】B。软实力和硬实力为矛盾关系。

A项，军事实力和经济实力之外还有文化实力等，二者为反对关系，与题干逻辑关系不一致，排除。

B项，精神文明和物质文明为矛盾关系，与题干逻辑关系一致，当选。

C项，现实主义和浪漫主义之外还有古典主义等，二者为反对关系，与题干逻辑关系不一致，排除。

D项，有一种说法认为心理健康就是精神健康，二者为全同关系，也有一种说法认为心理健康和精神健康是交叉关系，但任何一种说法都说明二者不是矛盾关系，与题干逻辑关系不一致，排除。

70. 【解析】C。职员工作可以获得薪水，工作是职员的行为，薪水是工作的结果。

A项，网民资费可以获得电邮，造句不通顺，与题干逻辑关系不一致，排除。

B项，司机驾照可以获得汽车，造句不通顺，与题干逻辑关系不一致，排除。

C项，学生考试可以获得成绩，考试是学生的行为，成绩是考试的结果，与题干逻辑关系一致，当选。

D项，厨师饭店可以获得菜肴，造句不通顺，与题干逻辑关系不一致，排除。

71. 【解析】B。先生产再质检最后销售，三者都是行为，且是时间先后顺序的对应关系。

A项，先预习再复习，但上学与后两者不构成时间先后顺序的对应关系，与题干逻辑关系不一致，排除。

B项，先调查再整理最后分析，三者都是行为，且是时间先后顺序的对应关系，与题干逻辑关系一致，当选。

C项，效率不是行为，且与前两者不构成时间先后顺序的对应关系，与题干逻辑关系不一致，排除。

D项，无业不是行为，且与后两者不构成时间先后顺序的对应关系，与题干逻辑关系不一致，排除。

72. 【解析】B。房屋是一种不动产，前两者为种属关系；抵押房屋，第三个词和第一个词是动宾结构。

A项，股票是一种财产，前两者为种属关系；但是，股票增值，第三个词和第一个词是主谓结构，与题干逻辑关系不一致，排除。

B项，苹果是一种水果，前两者为种属关系；食用苹果，第三个词和第一个词是动宾结构，与题干逻辑关系一致，当选。

C项，轮船不是海洋，前两者不是种属关系，与题干逻辑关系不一致，排除。

D项，三七是中药，前两者是种属关系，但是两词顺序与题干相反，排除。

73. 【解析】D。扣子是西装和裤子的一部分，第一个词和后两个词是组成关系；有的西装是裤子，有的裤子是西装，后两者为交叉关系。

A项，鼠标与电脑配套使用，二者为对应关系，与题干逻辑关系不一致，排除。

B项，有的学生是青年，有的青年是学生，二者为交叉关系，与题干逻辑关系不一致，排除。

C项，窗帘挂在窗户上，二者为对应关系，与题干逻辑关系不一致，排除。

D项，方向盘是轿车和商务车的一部分，第一个词和后两个词是组成关系；有的轿车是商务车，有的商务车是轿车，二者为交叉关系，与题干逻辑关系一致，当选。

74. 【解析】D。常规问题与非常规问题都是问题的一种，前两词与第三词为种属关系，且前两词为并列关系中的矛盾关系。

A项，期中考试与期末考试都是考试的一种，前两词与第三词为种属关系，但前两词为并列关系中的反对关系，考试除此之外还有周考和月考等，与题干逻辑关系不一致，排除。

B项，顶层设计与基层落实都是管理方式的一种，前两词与第三词为种属关系，但前两词是并列关系中的反对关系，与题干逻辑关系不一致，排除。

C项，豪华装修与简单装修都是装修的一种，前两词与第三词为种属关系，但前两词是并列关系中的反对关系，装修除此之外还可以有中等装修等，与题干逻辑关系不一致，排除。

D项，转基因油与非转基因油都是油的一种，前两词与第三词为种属关系，且前两词为并列关系中的矛盾关系，与题干逻辑关系一致，当选。

75. 【解析】D。A项，鞋帽是一种服装，雕琢是一种修饰，二者均为种属关系，前后逻辑关系一致，保留。

B项，设计服装为动宾关系，雕琢和图案不构成动宾关系，前后逻辑关系不一致，排除。

C项，服装会对外表产生影响，雕琢和心灵无明显逻辑关系，前后逻辑关系不一致，排除。

D项，裁剪服装为动宾关系，雕琢玉器为动宾关系，前后逻辑关系一致，保留。

对比A、D两项：A项，鞋、帽是并列关系，都是名词，雕、琢是近义关系，都是动词；D项，裁、剪是近义关系，都是动词，雕、琢是近义关系，都是动词，且裁剪和雕琢都是去掉多余的部分，优选D项。

76. 【解析】B。A项，石油和煤炭是并列关系，廉洁和贪腐是反义关系，前后逻辑关系不一致，排除。

B项，石油是一种能源，廉洁是一种品德，二者均为种属关系，前后逻辑关系一致，当选。

C项，石油是一种矿产，廉洁是政府的属性，前后逻辑关系不一致，排除。

D项，未经加工处理的石油称为原油，廉洁和简朴无明显逻辑关系，前后逻辑关系不一致，排除。

77. 【解析】C。A项，秀丽的风景，二者为偏正结构，美丽和动人为近义关系，前后逻辑关系不一致，排除。

B项，画卷里可能有风景，二者为或然组成关系，美丽的人生，二者为偏正结构，前后逻辑关系不一致，排除。

C项，怡人的风景，美丽的心灵，二者均为偏正结构，前后逻辑关系一致，当选。

D项，风景如画，美丽如花，但后两词顺序与前两词相反，前后逻辑关系不一致，排除。

78. 【解析】C。论点：一般情况下学生的注意力随着老师讲课时间的变化而变化。

论据：讲课开始时，学生的注意力逐步增强，中间有一段时间保持在较为理想的状态，随后学生的注意力开始分散。

A项，论点是注意力随时间变化而变化，与老师能够获得足够注意力没有关联性，属于无关选项，无法削弱，排除。

B项，选项提出个别学生能够一直保持注意力，不随时间变化而变化，举个例不能否定所有，削弱力度弱，排除。

C项，选项提出兴趣是影响注意力能否集中的关键因素，因此注意力与时间变化没有必然联系，属于他因削弱，当选。

D项，论点说的是学生的注意力随着老师讲课时间的变化而变化，该项说的是人能完全集中注意力的时间短，不能说明注意力是否会随着时间变化而变化，无法削弱，排除。

注：本题网上存在争议，部分机构可能会给出A项和B项为正确答案，但经过仔细分析，结合多位老师意见，我们认为C项更加合理。

79. 【解析】B。题干翻译为：①全都想要收集到的完美主义者→不能很好地分析信息。

②克服在大量的信息中迷失→养成明确的“目标意识”。

③防止主观臆断和先入为主→把信息的收集和判断这两个工作分开。

④信息的数量庞大→进行两次乃至多次的检验。

A项翻译为：不能很好地分析信息的人→完美主义者，是对①的肯后，但肯后无法得到确定结论，排除。

B项翻译为：不容易在大量的信息中迷失→养成明确的“目标意识”，是对②的肯前，肯前必肯后，当选。

C项翻译为：把信息的收集和判断这两个工作分开→能够防止主观臆断，是对③的肯后，但肯后无法得到确定结论，排除。

D项翻译为：信息的数量不大→进行两次乃至多次的检验，是对④的否前，但否前无法得到确定结论，排除。

80. 【解析】B。论点：人们容易被这样的动物所吸引，将它们养成宠物。

论据：婴儿的幼年特征可以唤起成年人的慈爱和养育之心，许多动物的外形和行为具有人类婴儿的特征。

A项，该项说的是很多空巢老人喜欢饲养宠物，但宠物的外形和行为是否具有人类婴儿特征不明确，无法加强，排除。

B项，该项说的是体态庞大且凶猛的动物很少成为宠物，说明人们更喜欢养体态较小且无害的动物，具有婴儿的特征，补充论据，当选。

C项，该项说的是有的家庭在生育儿女后就不会再养宠物，话题不一致，无法加强，排除。

D项，该项说的是父母喜欢养宠物的，子女也喜欢养宠物，话题不一致，无法加强，排除。

81. 【解析】D。论点：饮食习性是灵长类动物大脑体积大的主要原因。

论据：研究人员不仅考虑了灵长类动物的社会化因素，如种群规模、社会体系、交配系统等，还研究了它们的饮食习性，即它们是食叶、食果，抑或属于杂食动物。

A项，论点说的是饮食习性是灵长类动物大脑体积大的主要原因，该项说的是饮食习性对灵长类动物的体型发育有重要影响，话题不一致，属于无关选项，无法加强，排除。

B项，该项说的是社会因素决定灵长类动物大脑体积的观点只是一种假说，这种假说是否成立，并不明确，无法加强，排除。

C项，该项说明同种灵长类动物中，水果或树叶摄入量与大脑体积之间不存在联系，削弱论点，无法加强，

排除。

D项，该项说明不同饮食习性的灵长类动物大脑体积大小不同，补充论据，当选。

82. 【解析】B。论点：II型糖尿病患者多吃苦瓜有助于降低血糖水平。

论据：有动物实验研究发现，在正常饮食中加入一定剂量的苦瓜水提取物，可降低II型糖尿病小鼠的高血糖，这是由于苦瓜中含有一种类似胰岛素的物质，能够降低血糖。

A项，论点讨论的是多吃苦瓜有助于降低血糖水平，该项讨论的是苦瓜含糖量低对血糖的影响小，但是否能够降低血糖不明确，属于不明确项，无法削弱，排除。

B项，题干讨论的是多吃苦瓜有助于降低血糖水平，原因是苦瓜水提取物中类似胰岛素的物质能够降低血糖，该项说日常食用的苦瓜中苦瓜水提取物含量极少，即不能通过日常食用苦瓜取得降低血糖的效果，断开了论点和论据之间的联系，属于拆桥项，可以削弱，当选。

C项，题干讨论的是苦瓜水中的类似胰岛素的物质是否有助于降低血糖，该项讨论的是苦瓜水是否会导致血清蛋白降低，话题不一致，属于无关选项，无法削弱，排除。

D项，题干是通过用II型糖尿病小鼠做实验，得出苦瓜是否有助于II型糖尿病患者降低血糖的结论，该项讨论的是苦瓜水提取物是否对I型糖尿病小鼠有影响，主体不一致，无法削弱，排除。

83. 【解析】C。论点：通过这种检测，可以有的放矢地去开发儿童的天赋和潜能，不再需要通过尝试过多的兴趣班来挖掘儿童的特长。

论据：通过唾液获取儿童的基因，就能分析出儿童具有哪些“特长”，如音乐天赋、数学天赋、交际能力、长跑能力、抗压能力等。

A项，题干讨论的是能否通过检测基因开发儿童的天赋和潜能，该项讨论的是有些教师可以根据经验开发儿童的天赋和潜能，话题不一致，属于无关选项，无法削弱，排除。

B项，题干讨论的是能否通过检测基因开发儿童的天赋和潜能，该项讨论的是肥胖基因、癌症基因比儿童天赋基因检测更具科学依据，但儿童基因检测是否有科学依据不清楚，属于不明确项，无法削弱，排除。

C项，论据讨论的是能通过检测基因分析出儿童具有哪些天赋，该项说的是很难界定哪些基因对天赋有影响，削弱论据，当选。

D项，题干讨论的是能否通过检测基因开发儿童的天赋和潜能，该项讨论的是家长难以区分商家是否做了全组检测，话题不一致，属于无关选项，无法削弱，排除。

84. 【解析】B。翻译题干：①智者→谦虚。

②谦虚→认识到自己的不足。

③听不进别人的意见→¬认识到自己的不足。

将③逆否和①②递推出：④智者→谦虚→认识到自己的不足→¬听不进别人的意见。

A项翻译为：认识到自己的不足→智者，是对④的肯后，但肯后得不到确定性的结论，排除。

B项翻译为：听不进别人的意见→¬智者，是对④的否后，否后必否前，当选。

C项翻译为：听得进别人的意见→认识到自己的不足，是对③的否前，但否前得不到确定性的结论，排除。

D项翻译为：¬认识到自己的不足→听不进别人的意见，是对③的肯后，但肯后得不到确定性的结论，排除。

85. 【解析】C。由条件“（2）李伟紧排在要买芹菜炒香干的人前面”，可知：紧排在李伟后面的人知道自己要买什么；结合条件“（3）王刚虽然排在队伍的第2位，但他还不知道要买什么”，可知：李伟不可能排在王刚的前面，即李伟不可能排在队伍的最前面，对应C项，当选。

86. 【解析】B。定位第三段“2015年，我国高技术制造业实现主营业务收入116048.9亿元，比2010年增长108.2%”，则2015年我国高技术制造业主营业务收入相比2010年的增长量
$$= \frac{116048.9 \text{ 亿元}}{1+108.2\%} \times 108.2\% \approx 11.6 \text{ 万亿元} \times \frac{1.1}{2.1} \approx 11.6 \text{ 万亿元} \times \frac{1}{2} = 5.8 \text{ (万亿元)}。$$
 B项与之最接近，当选。

87. 【解析】C。定位第三段“2015年,我国高技术制造业实现利润总额7233.7亿元,比2010年增长165.5%”,则2010年我国高技术制造业实现利润总额 $=\frac{7233.7}{1+165.5\%}\approx\frac{7200}{2.7}\approx 2700$ (亿元)。定位第三段“高技术制造业利润总额占全部制造业的比重为13.1%,比2010年提高0.5个百分点”,则2010年高技术制造业利润总额占全部制造业的比重为 $13.1\%-0.5\%=12.6\%$ 。故2010年我国制造业实现利润总额 $=\frac{2700}{12.6\%}\approx 2700\times 8=21600$ (亿元) ≈ 2.2 (万亿元)。C项当选。

88. 【解析】A。定位第四段可得,2015年我国高技术制造业实现新产品销售收入3.1万亿元,比2010年增长127%,则2010年我国高技术制造业实现新产品销售收入 $=\frac{3.1}{1+127\%}\approx 1.37$ (万亿元)。A项与之最接近,当选。

89. 【解析】D。定位第三段、第四段可知,2015年我国高技术制造业实现利润总额比2010年增长165.5%,新产品销售收入比2010年增长127%,主营业务收入比2010年增长108.2%,申请发明专利数比2010年增长179%,比较可得,增长最快的是申请发明专利数。D项当选。

90. 【解析】A。A项,定位第四段“2015年我国高技术制造业申请发明专利7.4万件,比2010年增长179%”,则2010年高技术制造业申请发明专利数 $=\frac{7.4}{1+179\%}\approx\frac{7.4}{2.8}<3$ (单位:万件),错误。

B项,定位第二段可得,2015年末我国高技术制造业从业人员占全部制造业从业人员的比重为15.1%,比2010年提高2.9个百分点,则2010年末我国高技术制造业从业人员占全部制造业从业人员的比重为 $15.1\%-2.9\%=12.2\%$,正确。

C项,定位第一段可得,2015年末我国规模以上高技术制造业共有企业26894家,占规模以上制造业企业数的比重为7.8%,即 $\frac{\text{规模以上高技术制造业企业数}}{\text{规模以上制造业企业数}}=7.8\%<\frac{1}{10}$,即我国规模以上制造业企业数是规模以上高技术制造业企业数的10倍以上,正确。

D项,定位第四段“2015年,我国规模以上高技术制造业投入研发经费2034.3亿元,比2010年增长178.2%”,则增长量 $=\frac{2034.3}{1+178.2\%}\times 178.2\%\approx 2000\times\frac{1.8}{2.8}>2000\times\frac{1}{2}=1000$ (单位:亿元),即增加了1000亿元以上,正确。

本题为选非题,因此A项当选。

91. 【解析】C。定位表格可知,2013年的试验发展经费支出为10022.5亿元,2015年试验发展经费支出为11925.1亿元。故2013~2015年试验发展经费支出年平均增加量 $=\frac{11925.1-10022.5}{2}=951.3$ (亿元),C项符合,当选。

92. 【解析】B。定位表格可知,2015年国内生产总值为689052.0亿元,研究与试验发展经费支出为14169.9亿元,故投入强度 $=\frac{\text{研究与试验发展经费支出}}{\text{国内生产总值}}=\frac{14169.9}{689052.0}\approx\frac{14200}{690000}\times 100\%\approx 2.1\%$ 。B项当选。

93. 【解析】B。定位表格倒数第三行可得,2013年增长量 $=9075.8-7842.2=1233.6$ (亿元),2014年增长量 $=10060.6-9075.8=984.8$ (亿元),2015年增长量 $=10881.3-10060.6=820.7$ (亿元)。综上,2013~2015年企业研究与试验发展经费支出同比增量大于1000亿元的年份仅有2013年1个。B项当选。

94. 【解析】D。定位表格可得,2012年比重 $=\frac{498.8}{10298.4}\times 100\%=4.*\%$,2013年比重 $=\frac{555.0}{11846.6}\times 100\%=4.*\%$,2014年比重 $=\frac{613.5}{13015.6}\times 100\%=4.*\%$,2015年比重 $=\frac{716.1}{14169.9}\times 100\%=5.*\%$,则2015年基础研究经费支出占全国研究与试验发展经费支出比重最大。D项当选。

95. 【解析】C。A项,2012~2015年基础研究经费年均支出 $=\frac{498.8+555.0+613.5+716.1}{4}=\frac{2383.4}{4}<600$

(单位: 亿元), 正确。

B 项, 2013 年应用研究经费支出增量=1269.1-1162.0=107.1(亿元), 2014 年增量=1398.5-1269.1=129.4(亿元), 2015 年增量=1528.7-1398.5=130.2(亿元), 则 2013~2015 年应用研究经费支出年增量逐年增大, 正确。

C 项, 定位表格可得, 2015 年企业的研究与试验发展经费支出为 10881.3 亿元, 政府属研究机构为 2136.5 亿元, 则所求倍数为 $\frac{10881.3}{2136.5} = 5.1$, 选项描述为企业的研究与试验发展经费支出比政府属研究机构高 5 倍多, 即前者是后者的 6 倍多, 与计算结果不符, 错误。

D 项, 定位表格最后一行可得, 2012~2015 年我国高校的研究与试验发展经费支出是逐年增加的, 正确。本题为选非题, 因此 C 项当选。

96. 【解析】C。定位折线图可得, 2010~2015 年间中国国际出口带宽增速高于 30% 的年份有: 2012 年(36.7%)、2013 年(79.3%) 和 2015 年(30.9%), 共 3 个。C 项当选。

97. 【解析】B。定位柱状图及折线图可得, 2010 年中国国际出口带宽是 109.9 万 Mbps, 增速是 26.9%, 故 2009 年中国国际出口带宽= $\frac{109.9}{1+26.9\%} \approx \frac{110}{1.3} \approx 85$ (万 Mbps)。B 项与之最接近, 当选。

98. 【解析】B。定位表格可得, 2015 年中国移动提供的国际出口带宽是 645073Mbps, 主要运营商骨干网络国际出口带宽是 5392116Mbps, 则所求比例= $\frac{645073}{5392116} \approx \frac{650000}{5400000} \times 100\% \approx 12\% < \frac{1}{8}$ 。观察选项图形, B 项最符合, 当选。

99. 【解析】C。定位折线图可得, 中国国际出口带宽增速最高为 79.3%, 对应年份为 2013 年, 增长量=340.7-190=150.7(万 Mbps); 增速最低为 20.9%, 对应年份为 2014 年, 增长量=411.9-340.7=71.2(万 Mbps)。故中国国际出口带宽增速最高的年份, 其增量比增速最低的年份多 150.7-71.2=79.5(万 Mbps)。C 项当选。

100. 【解析】D。A 项, 定位柱状图可得, 中国国际出口带宽 2015 年为 539.2 万 Mbps, 2010 年为 109.9 万 Mbps, 故 2015 年中国国际出口带宽比 2010 年增长了 $\frac{539.2}{109.9} - 1 \approx 4.9 - 1 = 3.9$ (倍), 错误。

B 项, 定位折线图可得, 2010~2015 年中国国际出口带宽的增速在 2011 年和 2014 年出现下降, 并非逐年上升, 错误。

C 项, 定位柱状图可得, 2013 年中国国际出口带宽增量=340.7-190=150.7(万 Mbps), 其增量最高, 2015 年中国国际出口带宽增量=539.2-411.9=127.3(万 Mbps), 其增量为第二高, 故中国国际出口带宽增量最高的两年分别为 2013 年和 2015 年, 并非相邻年份, 错误。

D 项, 定位柱状图可得, 中国国际出口带宽 2015 年为 539.2 万 Mbps, 2010 年为 109.9 万 Mbps, 故“十二五”期间(2011~2015 年)中国国际出口带宽年均增长量= $\frac{539.2-109.9}{5} = \frac{429.3}{5} > 80$ (单位: 万 Mbps), 正确。

因此 D 项当选。

6 2018年四川申论真题卷

一、注意事项

1. 本题本由给定资料与作答要求两部分组成。考试时间为150分钟。其中，阅读给定资料参考时限为40分钟，作答参考时限为110分钟。满分100分。
2. 请在题本、答题卡指定位置上用黑色字迹的钢笔或签字笔填写自己的姓名和准考证号，并用2B铅笔在准考证号对应的数字上填涂。
3. 请用黑色字迹的钢笔或签字笔在答题卡上指定的区域内作答，超出答题区域的作答无效!
4. 待监考人员宣布考试开始后，你才可以开始答题。
5. 所有题目一律使用现代汉语作答，未按要求作答的，不得分。
6. 监考人员宣布考试结束时，考生应立即停止作答，将题本、答题卡和草稿纸都翻过来留在桌上，待监考人员确认数量无误、允许离开后，方可离开。

严禁折叠答题卡!

二、给定资料

材料1

M市D区是省内实施科技特派员工程的试点地区，早在2004年就开始了相关的试点工作。M市D区的农民是科技特派员工程的最早受益人。在村民们心中，科技特派员就是要给田间地头开药方，把先进的科技种到地里头，长出金苗苗。

不久前，D区记者小菲就本区科技特派员的情况，对区科技局副局长李明进行了一次采访。在采访中，李局长感叹道：“我们的科技特派员大部分是行业领域的专家、大学生，有的讲授得偏重于纯理论，对农民来说，太过于抽象，不接地气，不实用。这在实际操作中是得不到农民欢迎的。再者说，术业有专攻，本是种蔬菜的农民，要是派一个专攻苗木培养的工作人员给他，又能有多少用呢？”李局长认为，“农民需要和专业领域对口的，有真才实学的，能听懂田坎语言的科技特派员对接，而非流于形式的‘拉郎配’。”

D区目前共有440多个行政村，但科技特派员总共才82名，这令李局长忧心。“在这支队伍里，60来岁的根本不算老，最大的已经70多岁了。想想这些老人们还能在田坎上、果林里跑几年？而一个大学生要想成为一名科技特派员，起码要跟着老特派员学习两年。但是，有多少大学生愿意跟着他们天天进村下地？我们这些年过花甲的特派员又有多少精力来带这些‘徒弟’呢？”

D区村民老蒋对小菲说道：“去年我养土鸡，上面给我安排了一个科技特派员，结果每次来就是帮我喂喂鸡苗，陪着唠唠嗑。后来我怀疑有些鸡苗患了瘟病，找他帮忙看看，他却说没事，叫我放心。结果后来几百只鸡全部染上了鸡瘟，让我损失惨重。”对此，老蒋村里的村支书老周也表示无奈：“现在我们这儿对特派员的考核制度还不够完善。要是他们干好干坏都一个样，是很难有积极性的。如果能通过建立责任连带制度，并让特派员们以技术入股的形式参与分红的话，他们和服务的农户就会‘同呼吸、共命运’，双方都可以受益。事实上，乡亲们也知道好的特派员不好找，可现在村里也都通了互联网，能不能像很多医院开通网上诊断那样，通过远程视频，让特派员们给村民们的庄稼、家禽们把把脉，号号病？”

采访中，小菲还对全区82名科技特派员进行了问卷调查。调查发现：有近三分之二的科技特派员认为自己的知识结构趋于老化，需要更新丰富；近80%的科技特派员表示因为工作的关系，根本没有时间自行学习，但如果有相应的知识讲座、观摩交流会，他们会积极参加，也不愿错过优质的网络学习资源。此外，这些特派员还有不少同专业、同领域的朋友、同学，他们也有意愿成为服务农村的科技特派员。但都因为工作忙，或不在本地，或不在政府指派培养范围内等原因而作罢。

据悉，D区计划近期开展服务行动，围绕本地农业主导产业，建立一批“互联网+科技特派员”的创新创业

示范基地，对接国家、省里的“科技特派员管理服务平台”。对此，小菲感叹道：这样的计划固然是美好的，但用好科技特派员的前提是科技特派员好用、够用。

材料 2

在 2017 年 T 市的“全市十佳科技特派员”评选活动中，小童以压倒性的票数获得第一名。一个年仅 25 岁的年轻人，为何能从平均年龄在 50 岁以上的本市特派员中脱颖而出呢？

领导说，他所服务的 S 村地处偏僻，有一段路车根本开不进去，下雨天时他坐摩托车进村，常弄得一身泥，特别狼狈。可是他每个月去 S 村的次数和时间都远远超过了考核要求。同事们说，他要是有什么没弄懂的问题，肯定会睡不好觉，会缠着老特派员们搞清楚的。大学书本告诉了他“是什么”“为什么”，但他觉得还不够。从来到我们这儿，他就开始研究我们这儿的土壤、天气、乡情民俗，他一个北方人竟然在短短几个月时间里学会了我们这儿的方言。

老乡们说，他态度好，说话和气。大家都喜欢和他说话。他说的话大家听得懂，句子不长，用的也是田坎语言，好懂实用。而且他手把手地传技术，把课堂设在田间地头，教给大家的东西都能被记得住。“他讲东西很接地气，富有土味儿。而且，他还会收集村民的需求，定期地在网上开展‘订单化’培训。这样的特派员难找。”村支书也对小童赞不绝口。

而小童自己却说，自己能赢得大家的喜欢，在于自己会玩些“小花样”。“老乡们要的是技术，晦涩的理论讲得再高深，起到的作用也是有限的；老乡们学技术，最终还是要落脚到做上面去。科教本身有些乏味，必须要加点料才会有滋有味。我在做技术特派工作时，就坚持添加‘三味’：一是原味，坚持用原汁原味的田坎语言讲授，尽量讲短话，讲土话；二是鲜味，给乡亲们的一定是最新的农技知识，过时的、可能已经不适用的，坚决不讲；三是甜味，对乡亲们积极鼓励，尽量用积极的语言，谁都希望话好听啊，多给他们看看成功的案例，正面激励。如果你用的是本地语言，说的是农家事，讲的是致富经，他们不欢迎你都难啊。”

材料 3

近几年，很多二线城市的人才引进工作都开展得如火如荼。二线城市尚在努力，三四线城市自然也不甘落后：给钱、给房、给户口。然而，纵观很多三四线城市的“人才争夺战”，大多也只是出台买房打折、租房补贴、落户降标、项目资助、一次性奖励等引才政策。这固然有一定的吸引力，但作为本身经济实力和区位优势不那么突出的三四线城市，给出和二线城市差不多的“彩礼”，能真正地“引凤求凰”吗？

“在人才工作中，一些地方的同质化倾向依旧明显。”一位从事人才引进工作多年的部门负责人说道，“现在，很多中小城市都要高学历、高效能、高层次、高大上、高精尖的人才；而给人才的往往就是‘老三样’——钱、房和户口。”“很多地方把人才引进工作想得过于简单了。”一位评论家说道，“人才工作不是把人引进来就可以的，它其实更依赖人才生态的建设——如何利用、再培养、激励，如何留得住才是重中之重。然而，这往往是被很多中小城市所忽视的。花了大力气，引不到人才；人才来了却又呆不久。消耗了那么多的财力物力，也还是为他人做嫁衣。

问题还不止于此。现在一些地方的人才引进工作，已经给当地的财政带来不小的压力和负担了，但收效甚微。很多地方都重视引进外地人才，厚彼薄此、重外轻里的人才政策更让本地人颇有意见，可以用“赔本也没赚到吆喝”来形容。“计算机、生物科技、航空航天这些尖端领域的顶尖人才本来就非常稀缺，即使在北上广深这样的城市都是‘肉少狼多’。在这样的环境中，实力薄弱许多的三四线城市往往是耗费了大量的财力、物力、人力，最后却还是被‘剩下’。而且，就算引进了，往往也用不好，甚至用不上。”一位从事人力资源研究的教授说道，“引进人才要靠优势，但中小城市能靠的优势往往不是物质吸引力，而是自己的特色。”

另一位评论家也给出了一个观点：“各个地方的人才引进工作必须要‘错位’又‘对位’。我们的城市定位不应该也不可能是趋同的，如果采用同样的人才路线，会是‘撞车’的；毕竟错落有致，才能既尊重城市发展规律，又符合建筑美学嘛。我国各个城市间的地理、经济等方面差距依然较大，对人才的吸引力、对人才的

需求结构都是大不相同的。我们必须认清这个现实，找准自己的位置，才可能做好人才工作。因为你是你，你不是别的城市。你在全省，甚至是全国有你的角色定位，有你自己独特的优势。所以必须各就其位，各求所需。”

位于东部的 B 市，就曾犯一种“经典”的错误，在五年时间里，B 市花费数亿资金引进了大量外市的高职称人才。然而，效果却不尽如人意。“招来了女婿，气走了儿子。各个地方都是这样，厚此薄彼成了通病！”在 B 市土生土长的科研人员小姚说道，“同样的学历，同样的职称，就因为我一直在本地，来路不同，待遇差距就这么大？果然是‘外来的和尚会念经’？这是让我们这些兢兢业业的本地人有些寒心。”与此同时，小姚也接到了外地的一个职位邀请，待遇颇为优厚，他说自己正在考虑，是否要离开家乡到外地去发展。

材料 4

2017 年 8 月，X 市一则“我市学生近六成想落户外省”的新闻深深刺痛了当地市民的心；我们这座有三千多年历史，有近百所院校的城市，居然留不住在这个城市求学的大学生？

要说人才引进计划，X 市也并不是没有。他们按学历、工作经历、从事领域等把人才分为了 A 到 E 五类；对于 A 类到 C 类高级人才的政策优惠力度，相比其他城市可谓毫不逊色，但就 D 类到 E 类人才的政策福利来说，则并无优势可言。况且，调查显示，80% 的被调查者认为，这样的人才分类不符和 X 市实际，对人才的评判、分类分级过于简单草率，存在重视科学理论，轻视技术实际；重视二、三产业，轻视第一产业；重视学历，轻视经验的倾向。如果连本地的人才都留不住，那么可以想象，外地引进的人才来了也还是会走的。据统计，像 X 市这样制定人才引进政策的城市不在少数，类似 X 市这样留不住在本地求学的大学生的中小城市更是占了大多数。

“最让我担忧的是，现在我们正慢慢形成‘倒金字塔型’的人才结构。人才金字塔的顶层结构过于庞大，而底层基础型人才逐渐萎缩，这个金字塔是无法长久维持的，甚至有倒塌的危险。”X 市社科院的一位专家表达了自己的担忧。一位刚毕业不久的大学生说道：“我们也想留在 X 市这座自己生活了四年的城市，为它的发展尽一份力。但是像我这种本科生，即使是‘双一流’院校毕业，也算不上什么‘人才’。如果是差不多的工资收入，我还是选择留在一二线城市吧，毕竟那里有更平等的竞争环境，也有更开放包容的姿态。其实，我们作为普通大学生要求不多，房租能打个九折，找工作时能给我们一个晚上的免费住宿，都会让我们觉得这座城市非常有诚意。”

现在 X 市最亮眼的名片依旧是“千年古都”，而全国以“千年古都”作为名片的城市不下十个，可以说 X 市的现代形象是模糊的。城市的发展必须要有现代性的活力，如果在重温旧梦中停滞不前，那么城市对人才的吸引力就会大打折扣。其实，现在中国许多城市的“现实个性化”发展之路就非常值得借鉴，比如义乌的小商品市场，贵阳的大数据中心等等。城市求贤，君子择城。很多人选择一座城市，往往会考虑这个城市的气质、气场以及传递出来的最强烈信息等和自己的人生目标、发展方向是否投合。

事实上，引进人才不能够片面地理解为“买进人才”，发掘培养本土人才也同样重要。习近平主席曾经在中国科学院、中国工程院院士大会上指出：“未来总是属于年青人的。拥有一大批创新型青年人才，是国家创新活动之所在，也是科技发展希望之所在。‘我劝天公重抖擞，不拘一格降人才。’广大院士不仅要去做科技创新的开拓者，更要做提携后学的领路人。希望广大院士肩负起培养青年科技人才的责任，甘为人梯，言传身教，慧眼识才，不断发现、培养、举荐人才，为拔尖创新人才的脱颖而出铺路搭桥。”

材料 5

W 市位于两座副省级城市之间，大城市强大的人才吸附效应曾经让 W 市这样一个县级市处于非常尴尬的地位。但通过数年努力，W 市引进、培育了 400 名以上能够突破关键技术、发展高新技术产业、带动新兴学科和新兴产业的科技领军人才，600 名以上创新型科技人才，2200 名以上重点产业紧缺人才，以及一批文化教育等领域的高层次人才。今年以来，W 市各类人才总量已突破 16 万人，高层次人才达到 8224 人，这让 W 市真正成为一座智力型城市。据曾经负责人才工作的舒部长介绍，W 市之所以能够做到人才荟萃实现弯道超车，离

不开国际精英周、“名校优生”引才工程、青年精英创业大赛、博士后科研工作站等一系列声势浩大的引才工程，更离不开人才引进的手段、方式和理念的革故鼎新。

在 W 市看来，普惠支持毕业生人才和引进高端人才同等重要。W 市是较早提出把普通大学生纳入人才引进计划的地方之一。不管你是哪儿的大学生，只要凭着和 W 市企业签订的规范用工合同、毕业证即可就近选择人才公寓入住，房租打八折。“普通的大学生也是人才。现在，他们也许缺乏经验，是基础性人才，是构建人才金字塔的基石，但他们中的很多人将来会成为顶尖人才。留住他们，也就留住了一部分顶尖人才。其中，本地大学生是我们必须要重点争取的对象，毕竟他们在这个城市生活了这么多年，对这里有着更深厚牢固的感情。”当地一位负责人才引进的工作人员说道。毫无疑问，将人才补贴的门槛降低为大学毕业生，是一个非常正确的选择，这种普惠度高的人才政策会惠及更多的人才。

引进人才不仅要根据本地情况，合理界定人才范围，还要深挖“引进”的内涵。“现在，仍持‘人才必须到场，必须在现场’的观点就有些老旧了。现在是互联网时代，共享不仅是一种精神，更是一种能力。那么，为什么不可以考虑跨域人才共享呢？跨地区人才共享机制创新能降低引才、用才成本，提升利用率。我们这个时代已经没有信息流通障碍和空间沟通障碍，跨区域资源配置体系也正在逐步成熟，千城‘共享一人’与千人‘共建一城’的实施难度并不会太大。”这是数年前 W 市一位政协委员提出的大胆建议。

W 市吸收了这样的有效建议，于 2016 年在“引进”的概念上进一步深化并落实：以借智的方式引进战略性、全局性、规划性人才——在全国范围内建立起一个智库团队。当遇到重大政策、重大项目、重大发展转型期时，W 市便邀请智库团队，通过视频会议、直播研讨等方式，共同谋划制订出适合城市发展的中长期规划。此外，W 市对稀缺、紧俏型人才也在逐步推广这种远程借智的柔性引才方式。这种更加灵活的智能租赁方式让“人才为我所有”逐步走向“人才为我所用”。

不仅如此，W 市还在“留”上做足了文章。其中，极具特色的是通过“侨乡会”“校友会”等联谊活动挖掘本土人才及“泛本土”人才。“一个人不论走到哪儿，他对自己的家乡都有一份特殊的情感。如果他家乡不是 W 市，但他曾在这里生活过，或他的爱人的家乡是这儿，那他也算是半个本地人。在人才工作方面，必须打好感情牌。我们要用些‘花招’，努力挖掘并发展人才和我们这座城市千丝万缕的联系。”此外，在家庭方面，伴侣工作、子女就学、继续教育和群体交往等这些政府可以撒手的问题，也被当做一项重要的服务内容。“要是当时我们只是给钱、给房，引进些高学历人才，凭着我们地方财政的优势，人才引进工作也能取得一定的成效。但我们认为，人才引进是一个系统工程，常规动作只能起到常规作用，要想实现弯道超车，必须还要有自选动作。”舒部长如是说。

在人才工作方面，W 市政府拥有如此积极的态度，却没有频繁的跑到前台，高调地唱主角，而是做一个不折不扣的服务者。张先生就曾享受到一份厚重的真心。“从工商注册、税务登记、户口迁徙，到投资人的协调，W 市几乎是一条龙服务。”W 市的服务还不仅于此，大部分技术型、人才型企业在银行开户、装修投产、专利商标申请、科技立项、品牌包装等方面也无需操心。张先生说：“甚至有的企业直接入驻办公室就可以开展业务了。”这无疑大大地缩短了人才迁移的时间和周期，便利了他们安家落户。“该麻烦的，就不要怕麻烦；该简便的，就必须简便。当简勿繁，当繁勿简；简繁得当，方能出效率，方能出成果。”这是舒部长由衷的感叹。

三、作答要求

(一) 请根据资料 2，归纳小童获得“全市十佳科技特派员”荣誉的原因。(20 分)

要求：(1) 归纳全面，语言简明；(2) 不超过 200 字。

(二) 请针对资料 3 和资料 4 所涉及的城市人才工作中的问题，提出相应的改进措施。(30 分)

要求：(1) 内容全面，措施得当；(2) 思路清晰，层次分明；(3) 流言流畅，书写工整；(4) 不超过 500 字。

(三) 请根据你对资料 5 中划线部分“当简勿繁，当繁勿简；简繁得当，方能出效率，方能出成果”的理

解，结合给定资料，联系社会实际，以“人才建设工作的简与繁”为题目，写一篇论文。(50分)

要求：(1)观点鲜明，论述深刻；(2)思路清晰，结构严谨；(3)语言流畅，书写工整；(4)总字数 800~1000 字。

温馨提示：

2018 年公考通网校重新起航

系统班+考前直播冲刺班+一对一申论批改班+面试通关课程

更多好课等你挑选！

【参考答案与解析】

（一）【参考答案】

一、服务积极性高。1. 进村意愿强烈，吃苦耐劳。2. 认真好学，坚持跟随老特派员学习，刻苦钻研。二、交流方式亲民。1. 坚持使用当地田坎语言，使用短话多。2. 态度好，说话和气。3. 积极鼓励村民。三、所授技术实用。把课堂设在田间地头，手把手传技术，教授内容接地气。四、积极探索村民所需。收集村民需求，定期在网上开展针对性培训。五、及时更新知识结构。给村民讲解最新的农技知识。

（二）【参考答案】

一、问题：

1. 人才引入工作简单化，同质化倾向明显。
2. 忽视人才生态建设，消耗大量财力物力人力，增加财政压力，效果差，人才流失严重。
3. 人才政策厚彼薄此、重外轻里，本地人才待遇低于外地人才，人才浪费。
4. 人才政策不符合实际，对人才的评判、分类分级过于简单草率，针对底层基础型人才的政策福利缺乏优势。
5. 人才结构不合理，呈现“倒金字塔型”，顶层结构过于庞大，底层基础型人才萎缩。
6. 城市现代形象模糊，对人才吸引力弱。

二、对策：

1. 根据实际情况制定引才政策，考虑自身经济实力和区位优势。
2. 加强人才生态建设，重视利用、培养、激励、留住人才。
3. 找准城市定位，依靠城市特色，制定不同的人才路线，了解自身吸引力与人才需求结构。
4. 打造具有现代化活力的城市，营造更平等的竞争环境，显现开放包容的姿态。
5. 走城市“现实个性化”发展之路，城市的气质、气场以及传递的信息要与人才的人生目标、发展方向投合。
6. 发掘培养本土人才，老一辈科技工作者应发扬奉献精神，肩负起培养青年科技人才的责任，言传身教，慧眼识才，不断发现、培养、举荐人才，选拔创新人才。
7. 优化人才结构，重视底层基础型人才。

（三）【参考例文】

人才建设工作的简与繁

经济发展了、生活富裕了，人才的重要性愈发凸显：“尚贤者，政之本也”，“致天下之治者在人才”……得人者兴、失人者崩，人才决定了城市发展的速度、社会进步的速度、国家兴旺发达的速度，是新时代的核心竞争力。想要迎来选贤任能、群贤毕至的局面就要把握好人才建设工作的简与繁：繁就是多出力、不怕烦，积极转变人才观念、出台人才政策；简就是保持真心、诚心，不搞花架子，做好基础服务。

长久以来，阻碍人才发展的落后思想没有消失，各地的人才引进政策也不尽完善。有的地方不敢大胆使用人才，吝啬于出台人才优惠政策，担心被指责“有失社会公平”；有的地方人才引得来、留不住，对待大学生、研究生不屑一顾，忽略了基础人才的保护，缺少公平竞争环境；还有的地方虽有政策，但是简单粗暴，没有分

层分类、缺少激励机制、发展后劲不足，捆住了人才的手脚，卡住了创新创业的轮子。


人才工作要做到简，即不忘本心、保持初心、体现诚心，为人才做好服务工作。不少地方引进人才敲锣打鼓、舆论哗然，光有花拳绣腿，却不愿意踏实出实招、做服务，这样招不来人才，更留不住人才。然而，人才建设更不怕麻烦，“观念不变原地转，政策放开天地宽”，“要择天下英才而用之，实施更加积极的创新人才引进政策”。

人才工作的繁就要做到转变观念、人才共享、为我所用，用更包容、更开放、更有效的政策，广开进贤之路、广纳天下英才，广泛吸引各地各类创新人才。过去，人才有地域的限制，不是本省的不用、不是本市的不用，说白了还是为了私心，为了地方利益，束缚住了手脚。现在我们必须勇于冲破思想观念障碍，突破利益固化藩篱，向顽症痼疾开刀，打通人才发展的体制关卡，真正做到“不拘一格降人才”。

人才工作的繁还要做到降低门槛、普惠人才，支持毕业生人才和引进高端人才共抓共进。不少地方引进人才唯学历、唯背景，不重视基础人才的使用，出现了倒金字塔的局面，长此以往不利于人才结构的健康和可持续发展。唯有降低人才门槛、普惠人才方能实现人才多元化、层次化、系统化的局面，对于紧缺人才我们应不唯学历、不唯职称，唯才是举。

人才工作的繁更要多打感情牌，结合本地特色，立足本地优势，挖掘本土人才，留住外来人才。要用事业留心，要用待遇稳心，要用真情暖心，不仅要给人才提供干事创业的舞台，提供晋升发展的空间，敢于给他们压担子，让他们挑大梁、唱主角；更应该利用“侨乡会”、“校友会”等联谊活动联络感情，让他们感受到家的温暖，真正在本地落地生根。

“致天下之治者在人才”，让我们做好人才建设的繁与简，让人才进的来、留得住、用得好，为实现中华民族伟大复兴的宏伟目标贡献力量！



美好的事情即将发生...

something wonderful is about to happen



公考通