

3月26日 19:00

# 判断八：平面图形其他类考点专项

公考通网校

[www.chinaexam.org](http://www.chinaexam.org)




公考通 APP

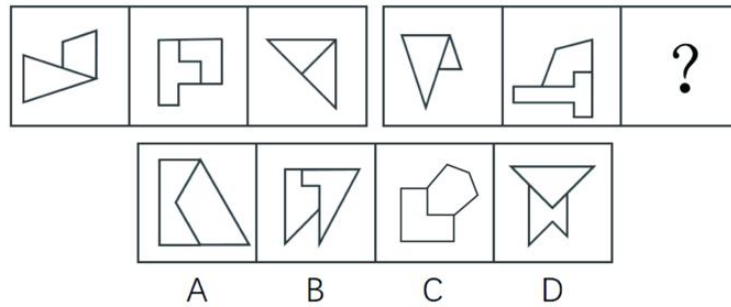


微信公众平台


一、对称



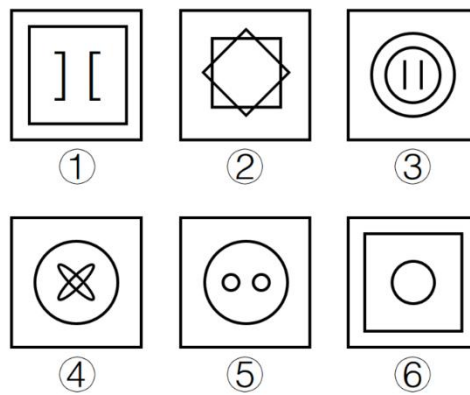
1. 从所给的四个选项中，选出最合适的一个填入问号处，使之呈现一定的规律性（ ）



2. 请从所给的四个选项中，选择最合适的一个填入问号处，使之呈现一定的规律性（ ）

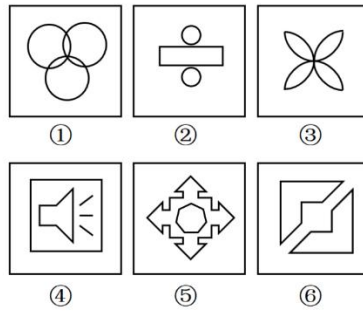


3. 把下面的六个图形分为两类，使每一类图形都有各自的共同特征或规律，分类正确的一项是（ ）



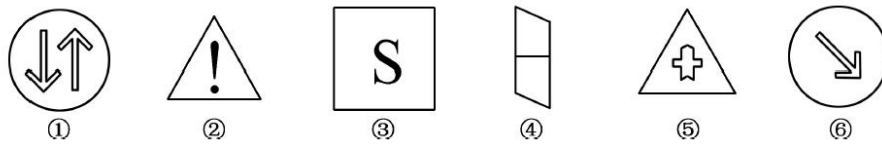
- A. ①②⑤, ③④⑥
- B. ①②③, ④⑤⑥
- C. ①③⑤, ②④⑥
- D. ①④⑤, ②③⑥

4. 把下面的六个图形分为两类，使每一类图形都有各自的共同特征或规律，分类正确的一项是（ ）



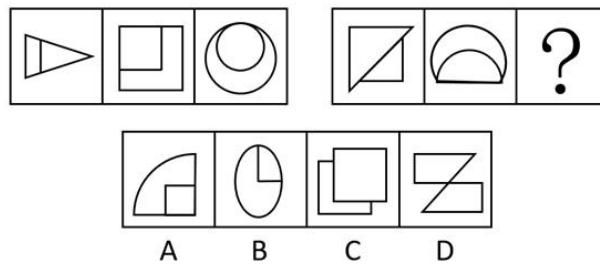
- A. ①④⑥, ②③⑤                      B. ①⑤⑥, ②③④  
 C. ①②③, ④⑤⑥                      D. ①④⑤, ②③⑥

5. 把下面的六个平面图形分为两类, 使每一类图形都有各自的共同特征或规律, 分类正确的一项是 ( )

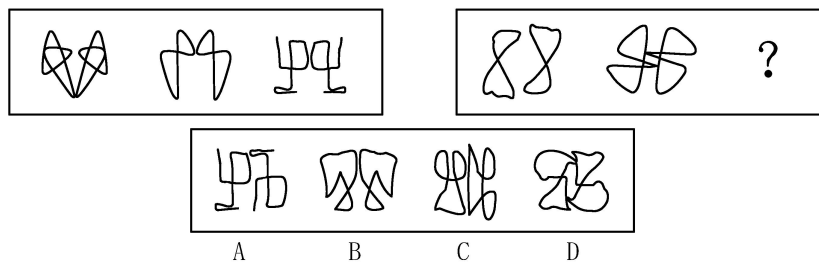


- A. ①②⑤, ③④⑥                      B. ①③⑥, ②④⑤  
 C. ①②④, ③⑤⑥                      D. ①③④, ②⑤⑥

6. 从所给的四个选项中, 选择最合适的一个填入问号处, 使之呈现一定的规律性 ( )



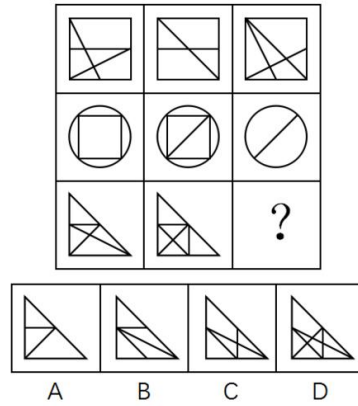
7. 请从所给的四个选项中, 选择最合适的一个填入括号处, 使之呈现一定的规律性 ( )



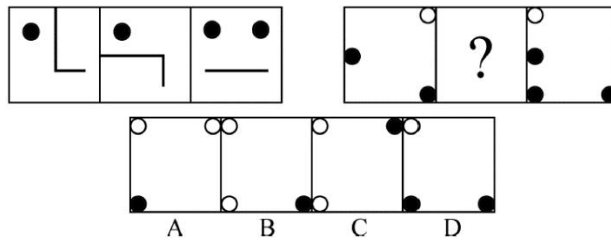
二、组合叠加类考点



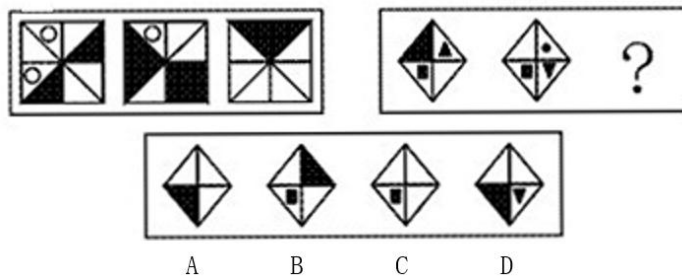
8. 从所给的四个选项中，选出最合适的一个填入问号处，使之呈现一定的规律性（ ）



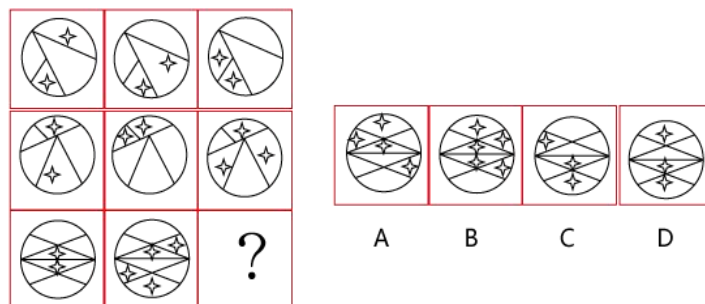
9. 从所给的四个选项中，选择最合适的一个填入问号处，使之呈现一定的规律性（ ）



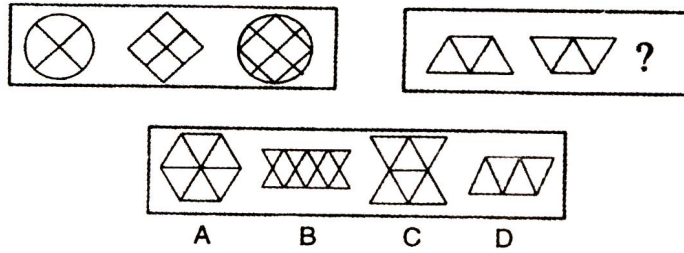
10. 从所给的选项中，选择最合适的一个，使之呈现一定的规律性（ ）



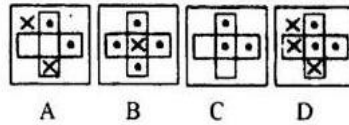
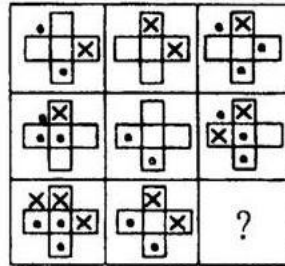
11. 请从四个选项中，选择最合适的一个填入问号处，使之呈现一定的规律性（ ）



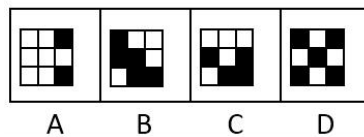

12. 从所给的四个选项中，选择最合适的一个填入问号处，使之呈现一定的规律性（ ）



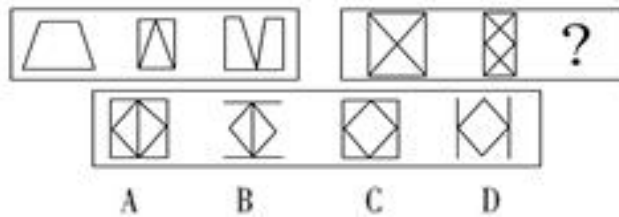
13. 从所给的四个选项中，选择最合适的一个填入问号处，使之呈现一定的规律性 ( )



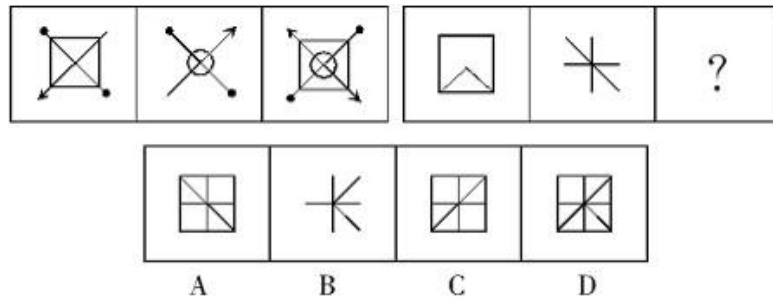
14. 从所给的四个选项中，选择最合适的一个填入问号处，使之呈现一定的规律性 ( )




15. 请从所给的选项中，选出最适合的一个填入括号处，使之呈现一定的规律性 ( )



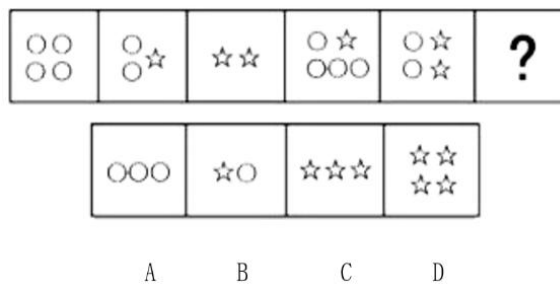
16. 从所给的四个选项中，选择最合适的一个填入问号处，使之呈现一定的规律性 ( )



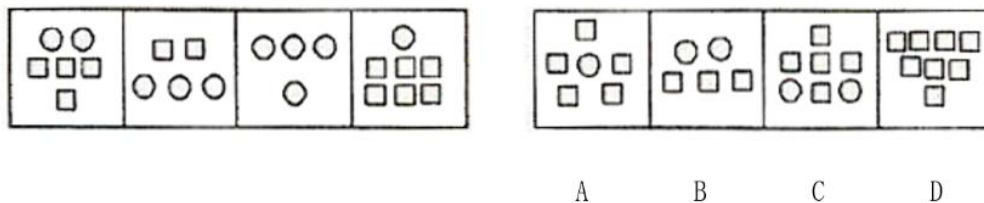
三、元素类考点



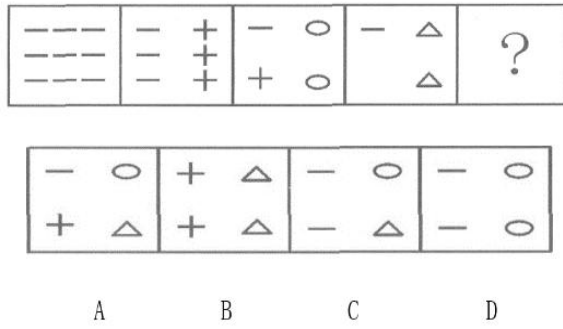
17. 请从四个选项中，选择最适合的一个，使之呈现一定的规律性（ ）



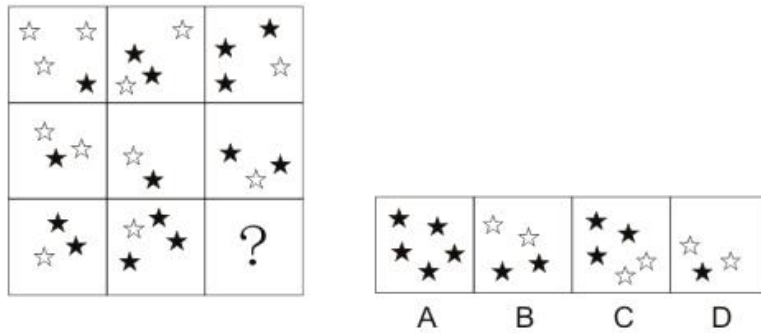
18. 请从四个选项中，选择最适合的一个，使之呈现一定的规律性（ ）



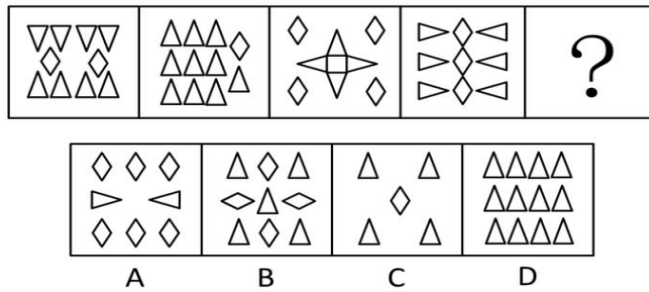
19. 从所给的选项中，选择最合适的一个，使之呈现一定的规律性（ ）



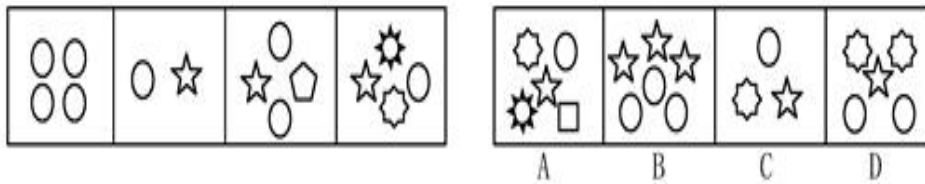
20. 请从四个选项中，选择最适合的一个填在问号处，使之呈现规律性（ ）



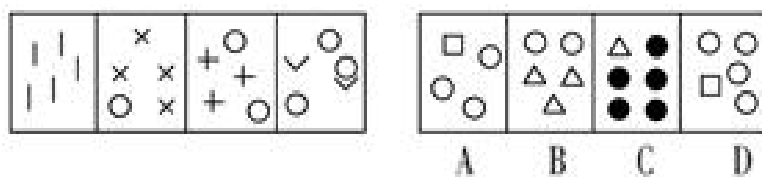
21. 从所给的四个选项中，选择最合适的一个填入括号处，使之呈现一定的规律性（ ）



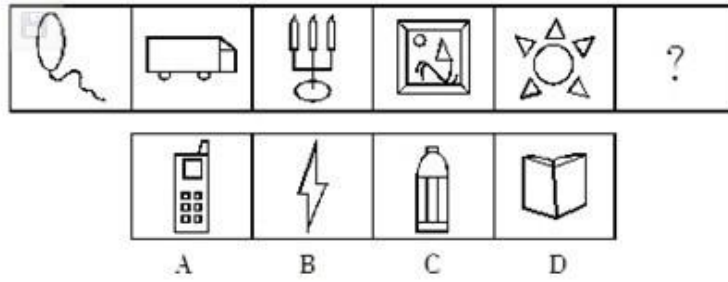
22. 请从所给的四个选项中，选择最合适的一个填入括号处，使之呈现一定的规律性（ ）



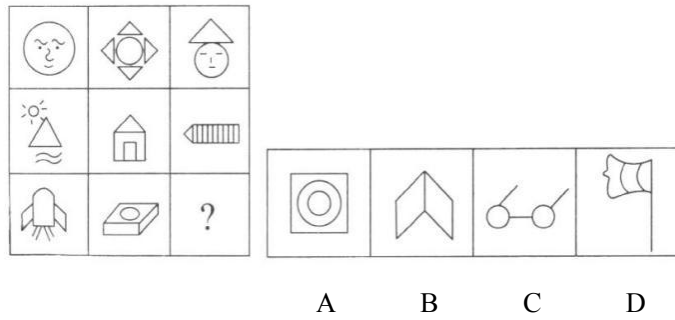
23. 从四个选项中，选择最合适的一个填入问号处，使之呈现一定的规律性（ ）




24. 请选择最符合前 5 个图形规律的一项 ( )



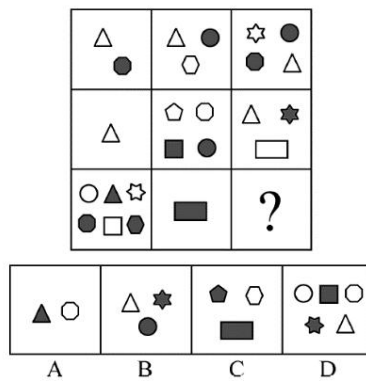
25. 请从四个选项中, 选择最合适的一个填入问号处, 使之呈现一定的规律性 ( )



26. 从所给四个选项中, 选择最合适的一个填入问号处, 使之呈现一定规律性 ( )

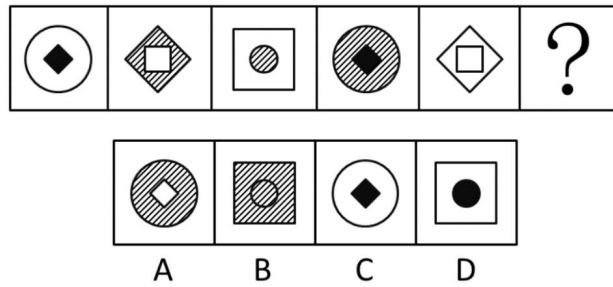


27. 从所给的四个选项中, 选择最合适的一个填入问号处, 使之呈现一定的规律性 ( )




28. 从所给四个选项中, 选择最合适的一个填入问号处, 使之呈现一定的规律性 ( )



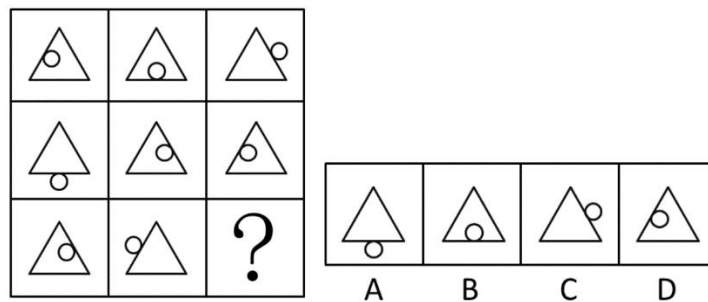


四、位置类考点

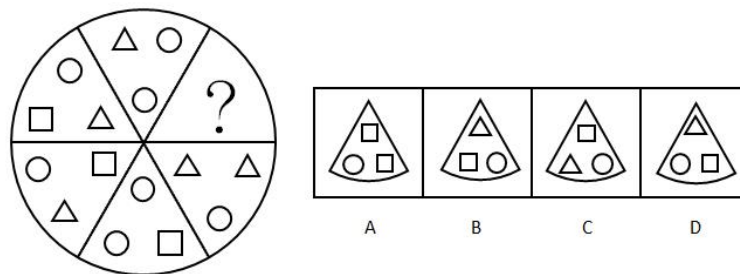
29. 请从所给的四个选项中，选择最合适的一个填入问号处，使之呈现一定的规律性（ ）



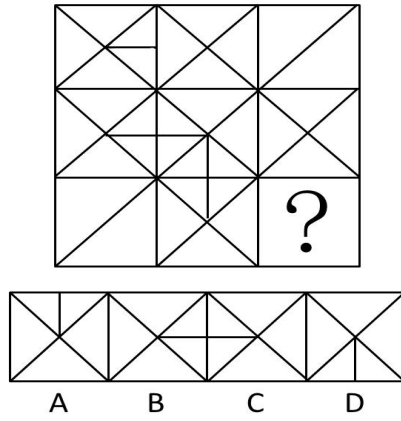
30. 从所给四个选项中，选择最合适的一个填入问号处，使之呈现一定的规律性（ ）




31. 从所给的四个选项中，选择最合适的一个填入问号处，使之呈现一定的规律性（ ）



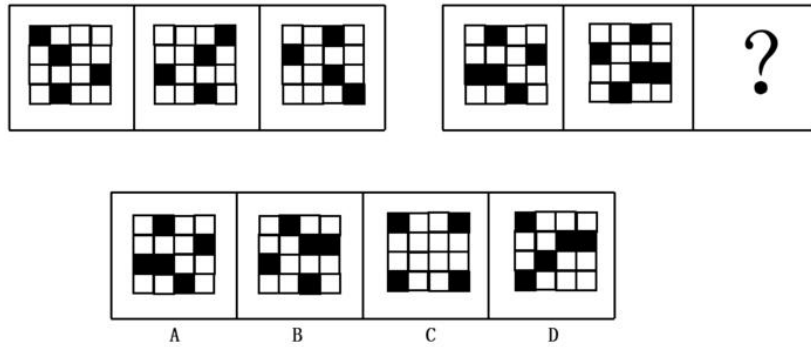
32. 从所给的四个选项中，选择最合适的一个填入问号处，使之呈现一定的规律性（ ）



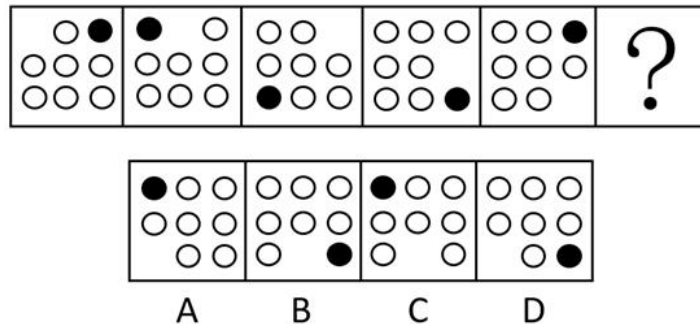
33. 从所给的四个选项中，选择最合适的一个填入问号处，使之呈现一定的规律性（ ）



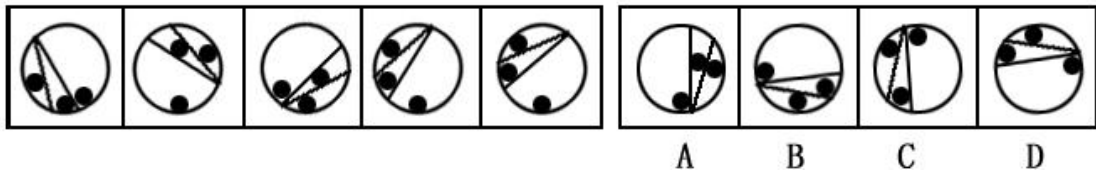
34. 从所给四个选项中，选择最合适的一个填入问号处，使之呈现一定规律性（ ）



35. 从所给的四个选项中，选择最合适的一个填入问号处，使之呈现一定的规律性（ ）

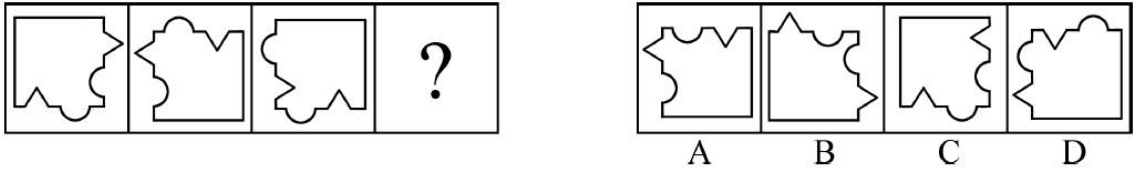


36. 从所给的四个选项中，选择最合适的一个填入问号处，使之呈现一定的规律性（ ）

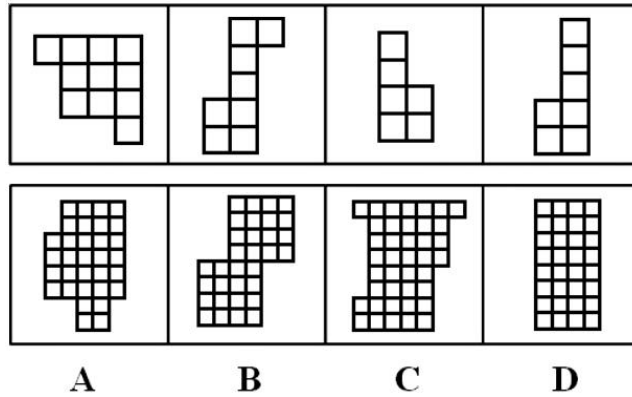


五、平面拼图


37. 从所给的四个选项中，选出一个可以同前三个碎片组成正方形的选项（ ）



38. 右边四个图形中，只有一个是左边四个图形拼合而成的，请把它找出来（ ）



39. 右边四个图形中，只有一个是左边四个图形拼合（只能通过上、下、左、右平移）而成的，请把它找出来（ ）





美好的事情即将发生...

something wonderful is about to happen