

线上行测刷题体验营讲义

公考通网校

www.chinaexam.org



公考通 APP




微信公众平台

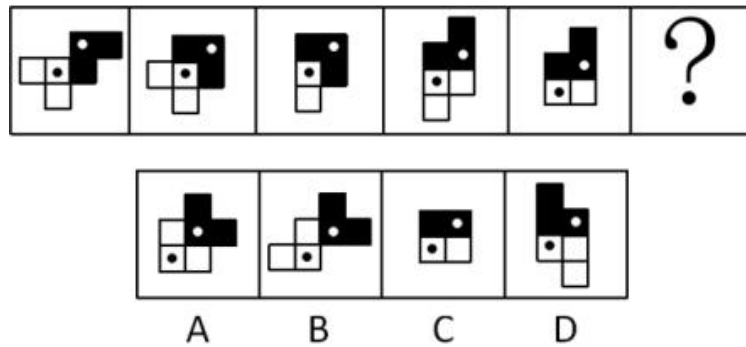
黑白图形考点专练

第一组

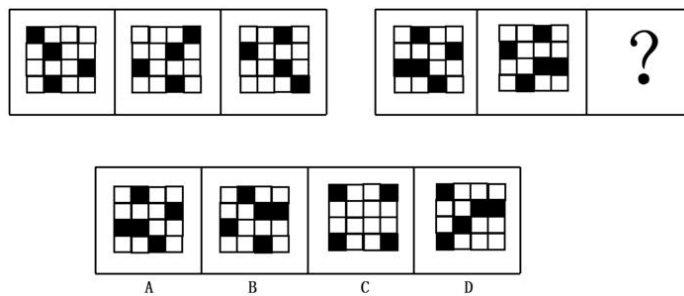
1. 从所给的选项中，选择最合适的一个填入问号处，使之呈现一定的规律性 ()




2. 从所给的四个选项中，选择最合适的一个填入问号处，使之呈现一定的规律性 ()



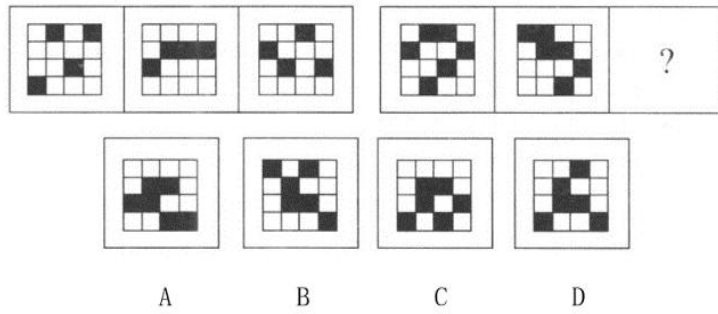
3. 从所给四个选项中，选择最合适的一个填入问号处，使之呈现一定规律性 ()




4. 从所给的四个选项中，选择最合适的一个填入问号处，使之呈现一定的规律性 ()




5. 从所给四个选项中，选择最合适的一个填入问号处，使之呈现一定规律性 ()




6. 从所给的四个选项中，选择最合适的一个填入问号处，使之呈现一定的规律性 ()



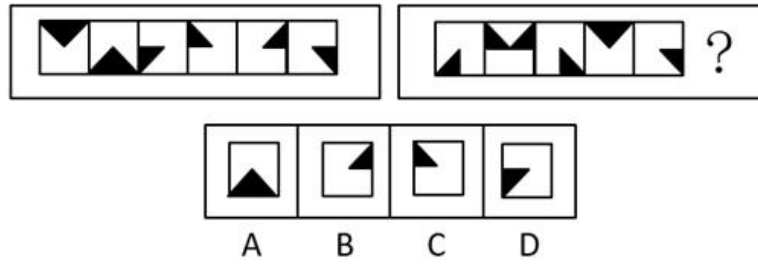
7. 从所给的四个选项中，选择最合适的一个填入问号处，使之呈现一定的规律性 ()



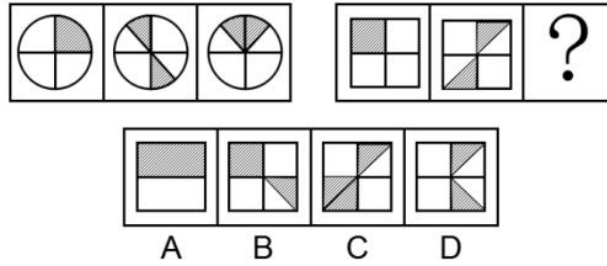
8. 下列选项中，符合所给图形的变化规律的是 ()



9. 下列选项中，符合所给图形的变化规律的是 ()

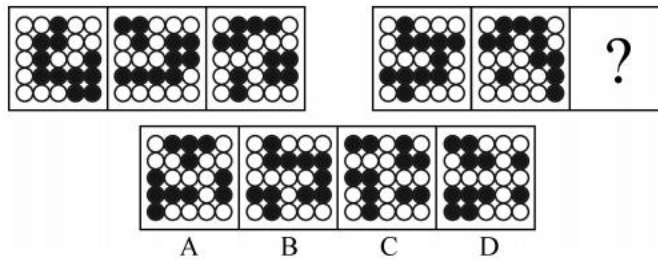


10. 从所给四个选项中，选择最合适的一个填入问号处，使之呈现一定的规律性（ ）

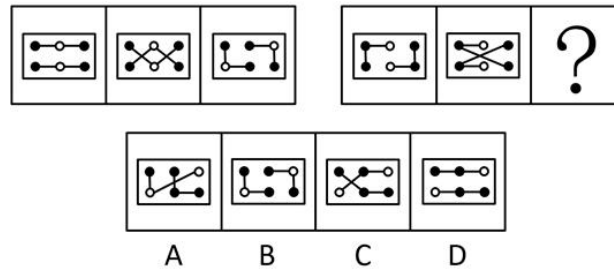


第二组

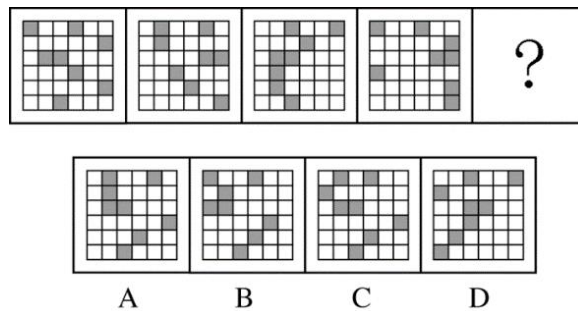
11. 从所给的四个选项中，选择最合适的一个填入问号处，使之呈现一定的规律性（ ）



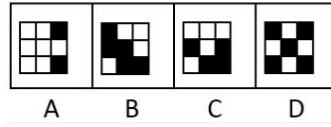

12. 下列选项中，符合所给图形的变化规律的是（ ）



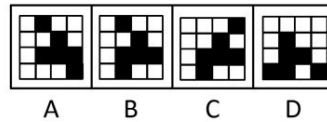

13. 从所给的四个选项中，选择最合适的一个填入问号处，使之呈现一定的规律性（ ）



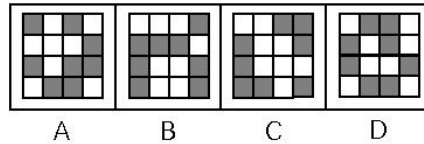
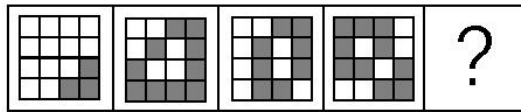
14. 从所给的四个选项中，选择最合适的一个填入问号处，使之呈现一定的规律性（ ）



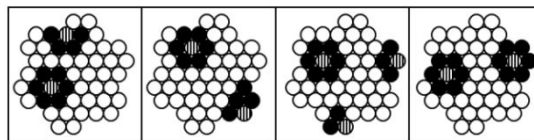
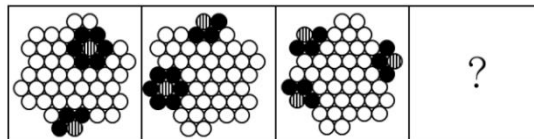
15. 从所给四个选项中，选择最合适的一个填入问号处，使之呈现一定规律性（ ）



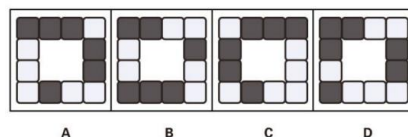
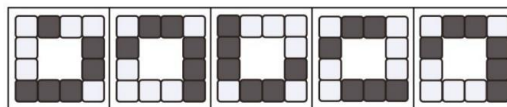
16. 从所给的四个选项中，选择最合适的一个填在问号处，使之呈现一定的规律性（ ）



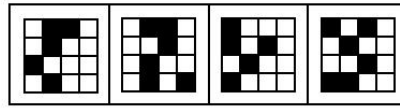
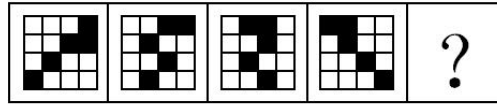
17. 从所给四个选项中，选择最合适的一个填入问号处，使之呈现一定规律性（ ）



18. 从所给四个选项中，选择最合适的一个同所给的五个图形保持规律一致性（ ）

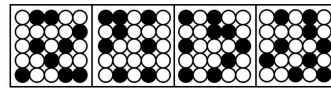



19. 从所给四个选项中，选择最合适的一个填入问号处，使之呈现一定规律性（ ）



A B C D

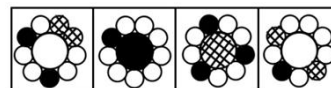

20. 从所给四个选项中，选择最合适的一个填入问号处，使之呈现一定规律性（ ）



A B C D

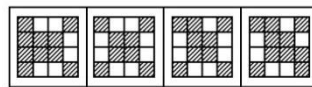

第三组

21. 从所给四个选项中，选择最合适的一个填入问号处，使之呈现一定的规律性（ ）



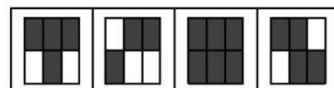
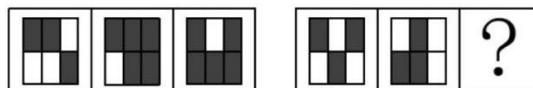
A B C D

22. 从所给四个选项中，选择最合适的一个填入问号处，使之呈现一定的规律性（ ）



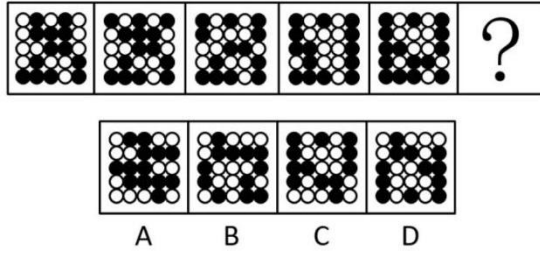
A B C D

23. 从所给四个选项中，选择最合适的一个填入问号处，使之呈现一定的规律性（ ）




A B C D


24. 从所给四个选项中，选择最合适的一个填入问号处，使之呈现一定的规律性（ ）



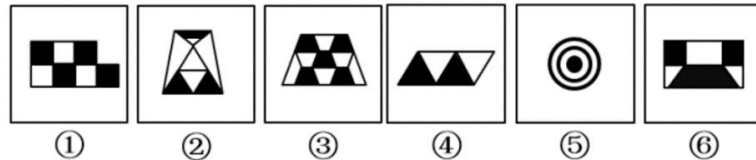
25. 从所给四个选项中，选择最合适的一个填入问号处，使之呈现一定规律性（ ）



26. 从所给四个选项中，选择最合适的一个填入问号处，使之呈现一定规律性（ ）




27. 把下面的六个图形分为两类，使每一类图形都有各自的共同特征或规律，分类正确的一项是（ ）

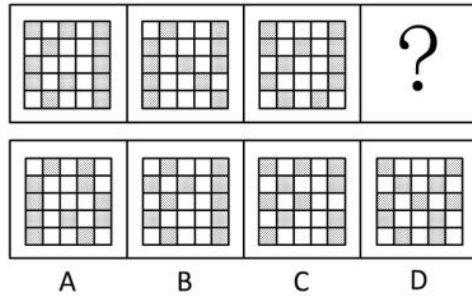


- A. ①②③, ④⑤⑥
- B. ①③④, ②⑤⑥
- C. ①③⑤, ②④⑥
- D. ①②⑤, ③④⑥

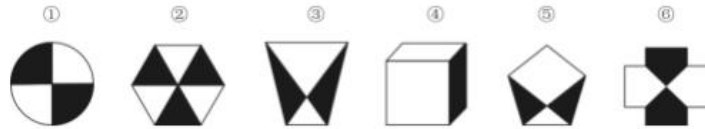
28. 从所给四个选项中，选择最合适的一个填入问号处，使之呈现一定规律性（ ）



29. 从所给四个选项中，选择最合适的一个填入问号处，使之呈现一定规律性（ ）



30. 把下面的六个图形分为两类, 使每一类图形都有各自的共同特征或规律, 分类正确的一项是 ()

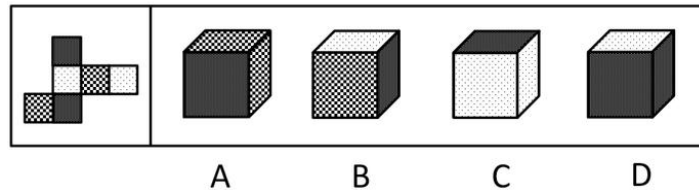


- A. ①②③, ④⑤⑥
 B. ①②⑥, ③④⑤
 C. ①④⑥, ②③⑤
 D. ①③④, ②⑤⑥

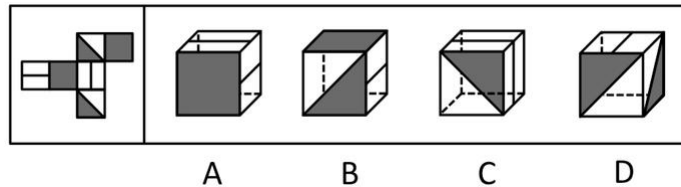
折叠专项练习

第一组

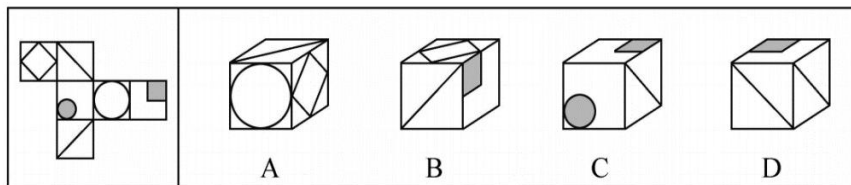
31. 左边给定的是纸盒外表面的展开图, 右边哪一项能由它折叠而成 ()



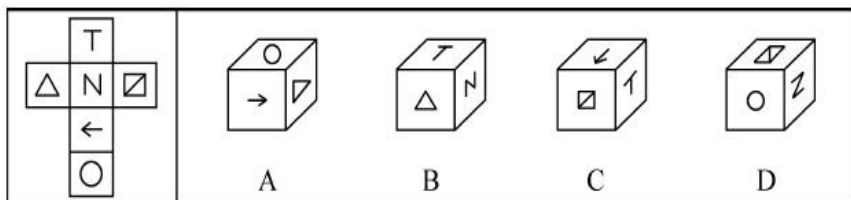
32. 左边给定的是纸盒的外表面, 下列哪一项能由它折叠而成 ()



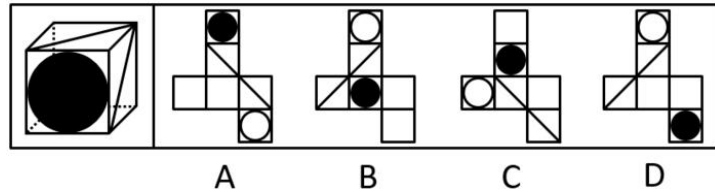
33. 左边给出的正方体的外表面展开图, 右边哪一项由它折叠而成 ()



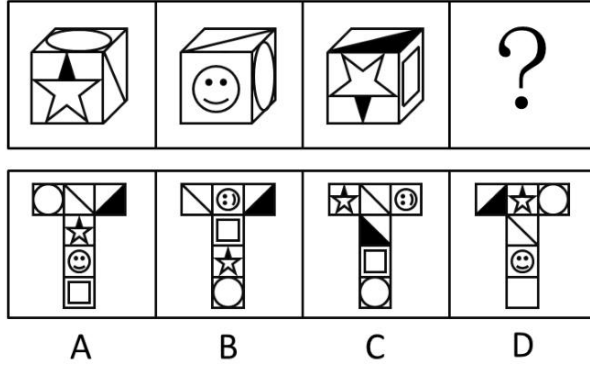
34. 左边给定的是纸盒的外表面, 下列哪一项能由它折叠而成 ()



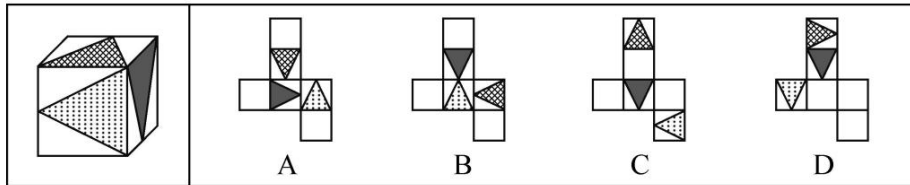
35. 右边四个图形中, 只有一个是左侧图形的展开图, 请把它找出来 ()



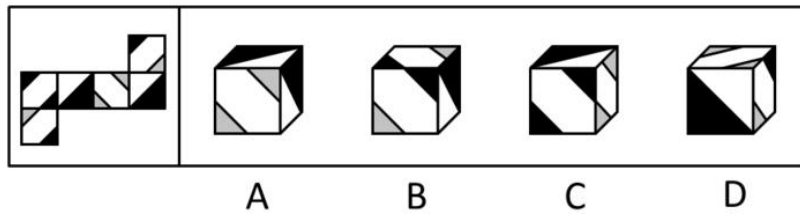
36. 从所给四个选项中考虑, 选择最合适的一个填入问号处, 使之呈现一定的规律性 ()



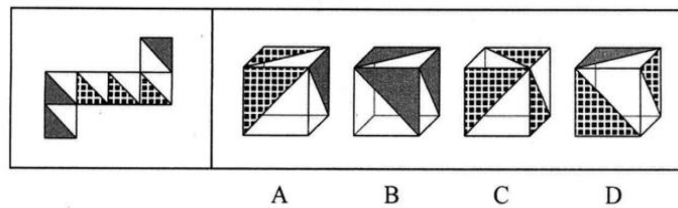
37. 右边四个图形中, 只有一个是左侧图形的展开图, 请把它找出来 ()



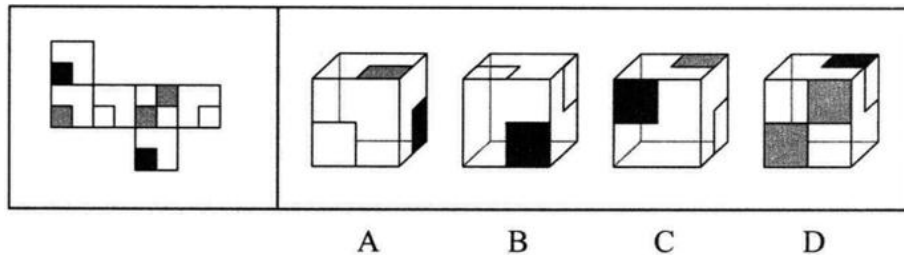
38. 左边给定的是纸盒的外表面, 下面哪一项能由它折叠而成 ()



39. 左边给定的是纸盒的外表面, 下面哪一项能由它折叠而成 ()

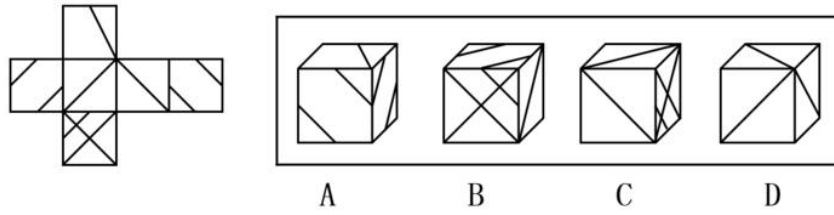


40. 左边给定的是纸盒的外表面, 下面哪一项能由它折叠而成 ()

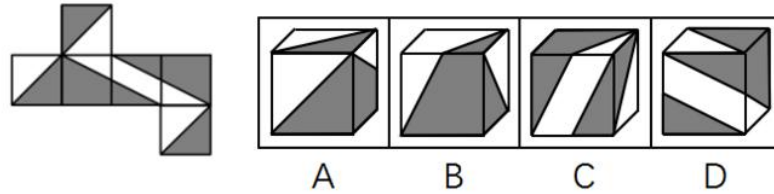


第二组

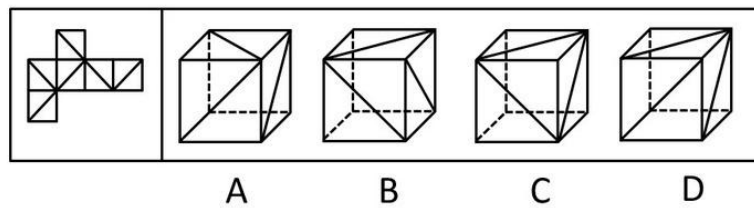
41. 左边给定的是纸盒的外表面, 下列哪一项能由它折叠而成 ()



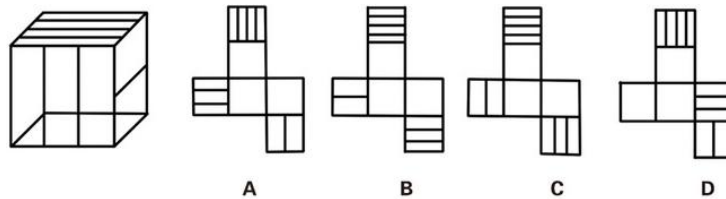
42. 左图给定的是正方体纸盒的外表面，下面哪一项能由它折叠而成 ()



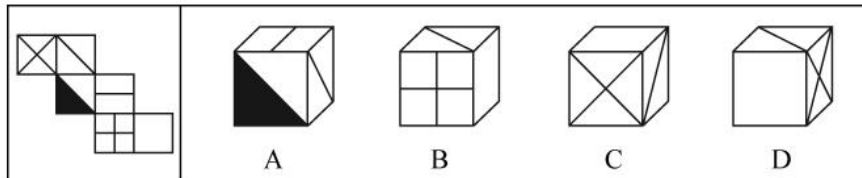
43. 左边给定的是纸盒外表面的展开图，右边哪一项能由它折叠而成 ()



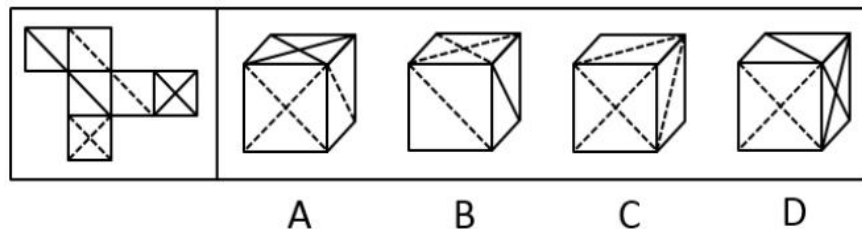
44. 右边四个图形中，只有一个是左侧图形的展开图，请把它找出来 ()



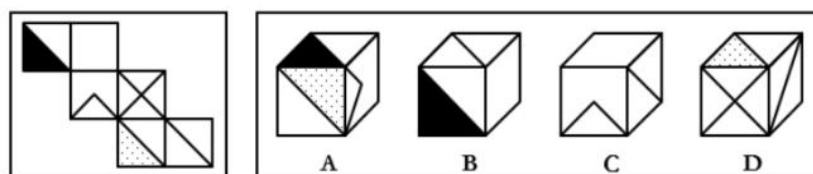
45. 左边给定的是正方体的外表面展开图，下面哪一项能由它折叠而成 ()



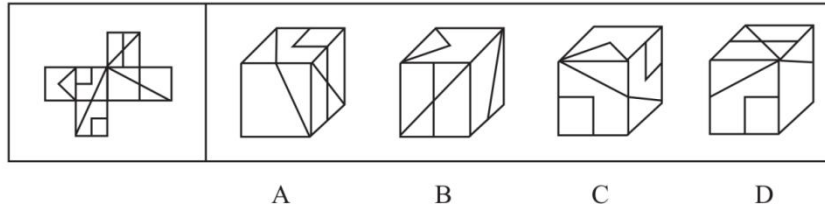
46. 左边给定的是正方体的外表面展开图，下面哪一项能由它折叠而成 ()



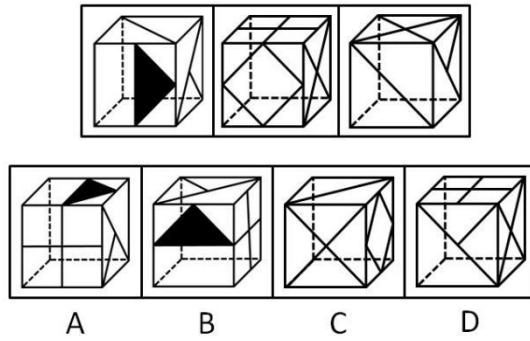
47. 左边给定的是正方体的外表面展开图，下面哪一项能由它折叠而成 ()



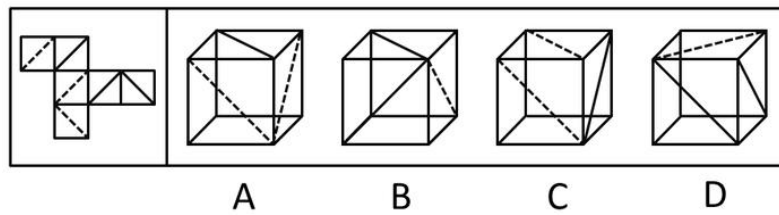
48. 左图是给定纸盒的外表面，以下哪一项能由它折叠而成 ()



49. 左边三个图形给出了同一立体图形的不同侧面，右边四个图形中只有一个与该立体图形相同，请把它找出来（ ）

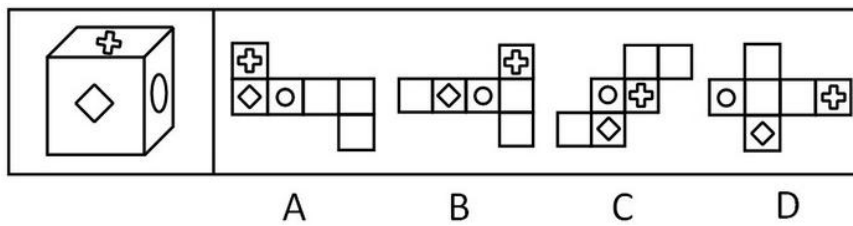


50. 左边给定的是纸盒的外表面，下面哪一项能由它折叠而成（ ）

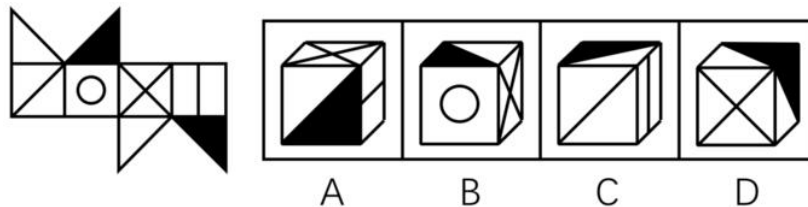


第三组

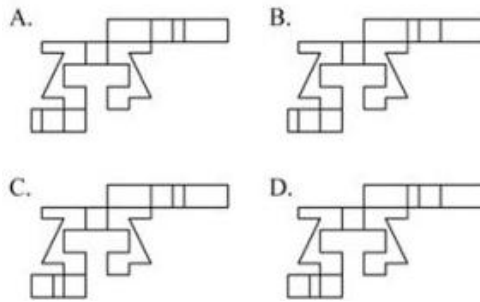
51. 下列选项中不能折成原图的是（ ）



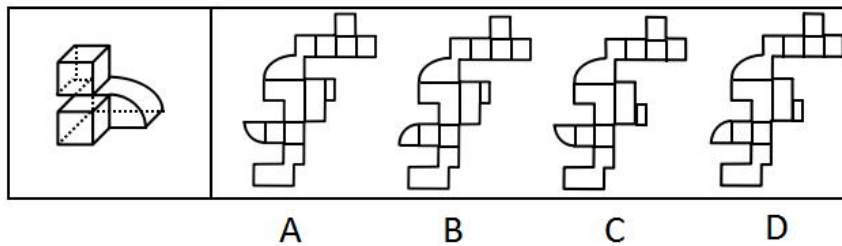
52. 左边给定的是纸盒的外表面，右边哪一项能由它折叠而成（ ）



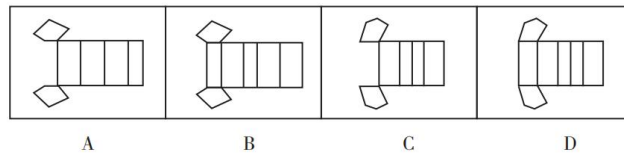
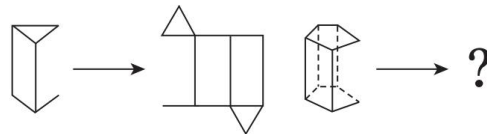
53. 下图和哪个选项一起可以拼接成一个封闭立体图形（ ）



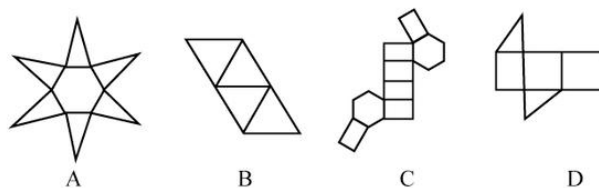
54. 下图是给定的立体图形，下列哪个选项是该立体图形的外表面展开图（ ）



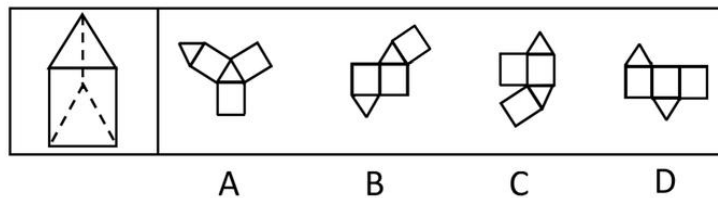
55. 从所给的四个选项选择一个最合适的填入问号处，使之呈现一定的规律性（ ）



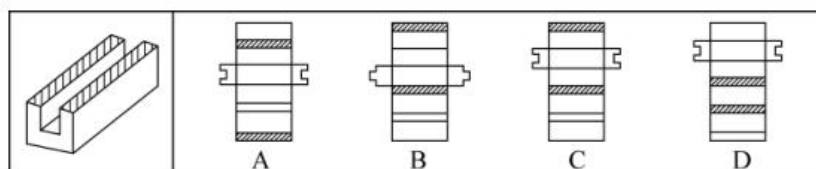
56. 下列选项中的图形不能折叠成完整封闭的立体几何结构的是（ ）



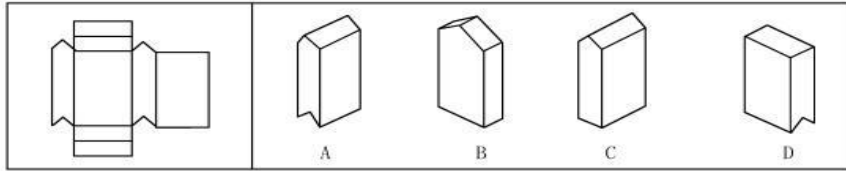
57. 给定一个纸盒，下列哪一项不能折成给定的纸盒（ ）



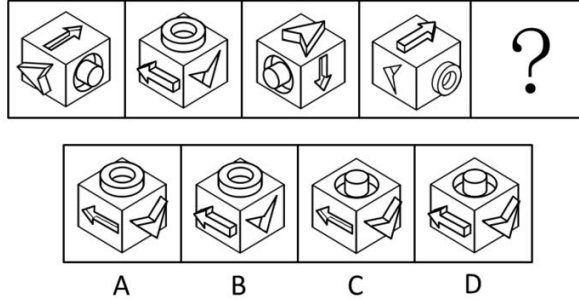
58. 左边给定的是纸盒的立体图，展开后可得到选项中哪个图形（ ）



59. 左边给定的是纸盒的外表面，下面哪一项能由它折叠而成（ ）

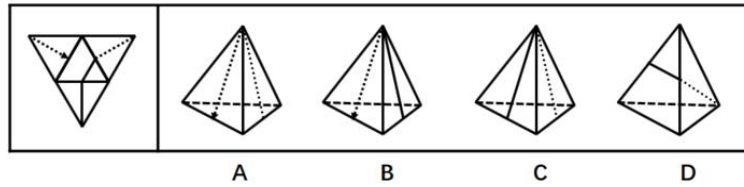


60. 从所给四个选项中，选择最合适的一个填入问号处，使之呈现一定的规律性 ()

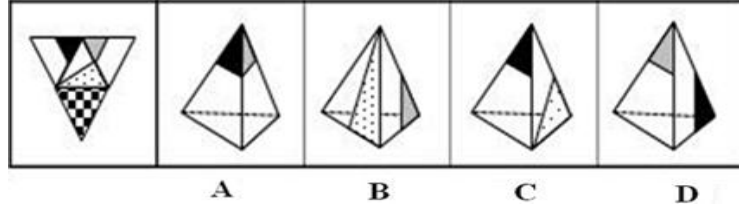


第四组

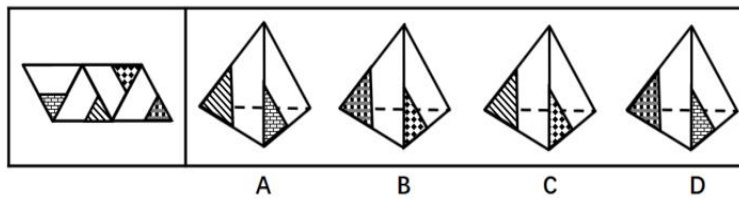
61. 左边给定的是纸盒外表面的展开图，右边哪一项能由它折叠而成 ()



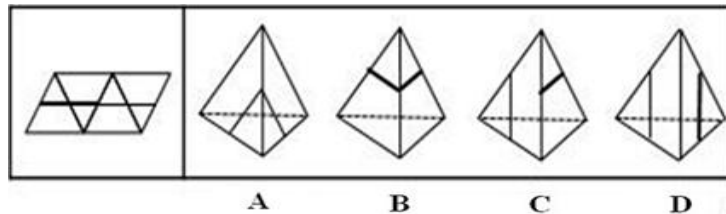
62. 左边给定的是纸盒外表面的展开图，右边哪一项能由它折叠而成 ()



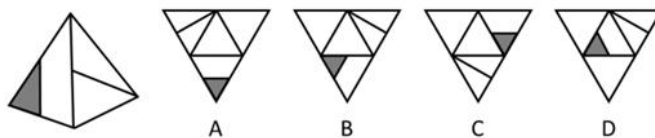
63. 左边给定的是纸盒外表面的展开图，右边哪一项能由它折叠而成 ()



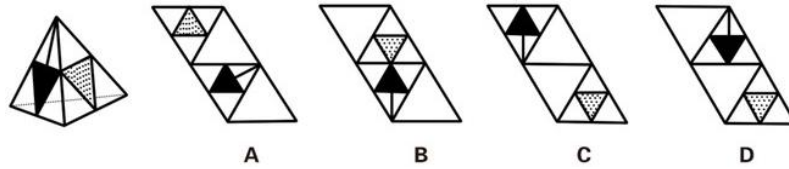
64. 左边给定的是纸盒外表面的展开图，右边哪一项能由它折叠而成 ()



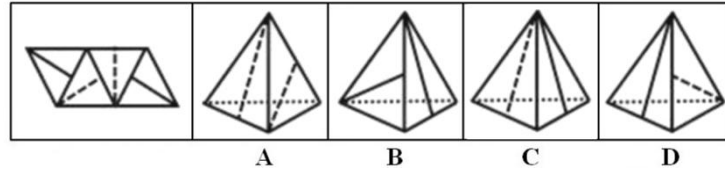
65. 右边四个图形中，只有一个是左侧图形的展开图，请把它找出来 ()



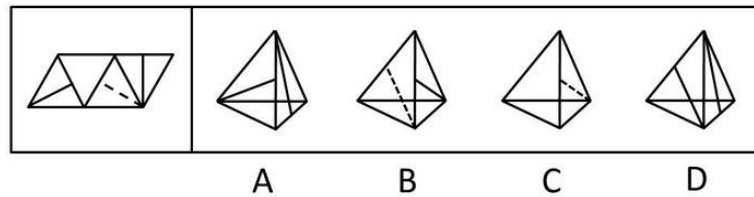
66. 右边四个图形中，只有一个是左侧图形的展开图，请把它找出来 ()



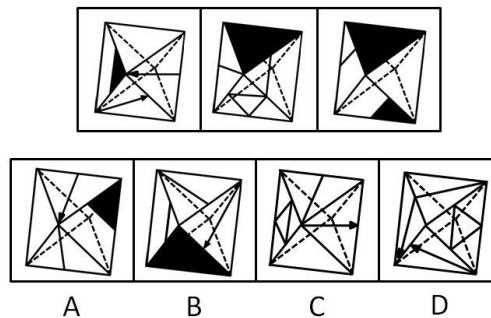
67. 左边给定的是正四面体的外表面，下面哪一项是由它折叠而成的 ()



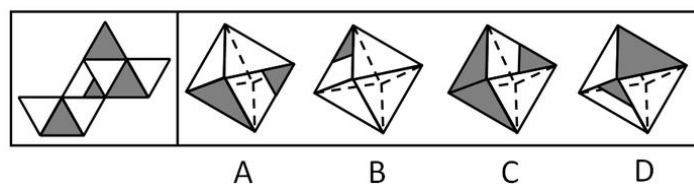
68. 左边给定的是纸盒的外表面，下面哪一项能由它折叠而成 ()



69. 上面三个图给出了同一个立体图形的不同侧面，下面四个选项图形中只有一个与该立体图形相同，请把它找出来 ()



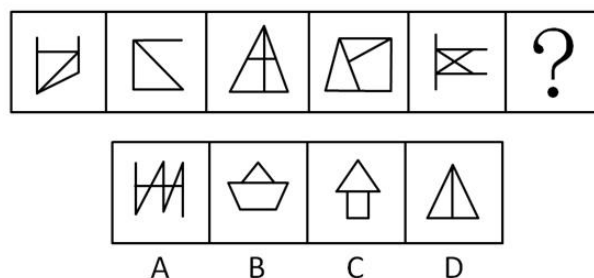
70. 左边给定的是正八面体的外表面，下面哪一项是由它折叠而成的 ()



考点综合练习

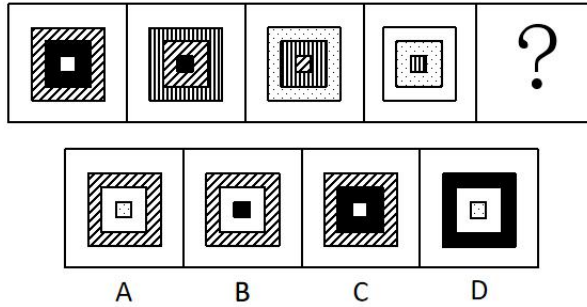
综合一

1. 从所给的四个选项中，选择最合适的一个填入问号处，使之呈现一定的规律性 ()

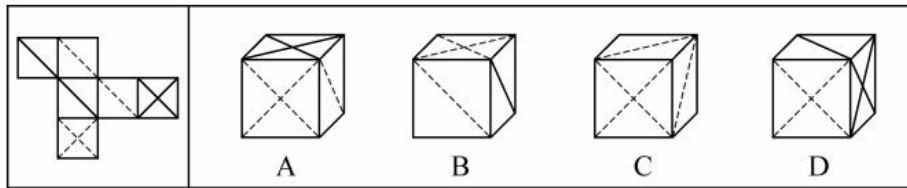


2. 从所给的四个选项中，选择最合适的一个填入问号处，使之呈现一定的规律性 ()

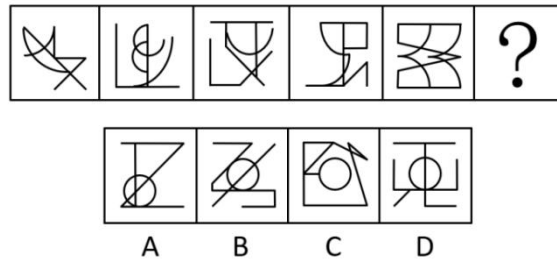
8. 下列选项中，符合所给图形的变化规律的是（ ）



9. 左边给定的是纸盒外表面的展开图，右边哪一项能由它折叠而成？请把它找出来（ ）

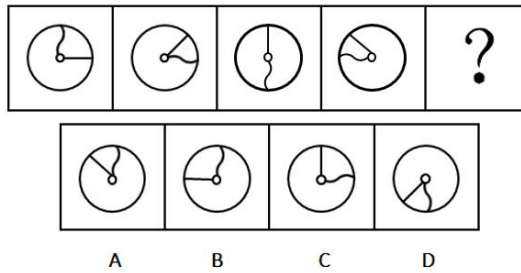


10. 从所给的四个选项中，选择最合适的一个填入问号处，使之呈现一定的规律性（ ）

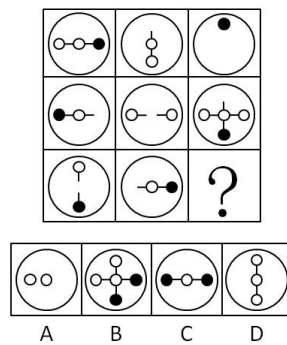


综合二

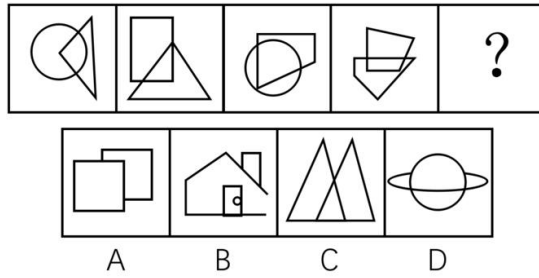
11. 请从所给的四个选项中，选择最合适的一个填入问号处，使之呈现一定的规律性（ ）



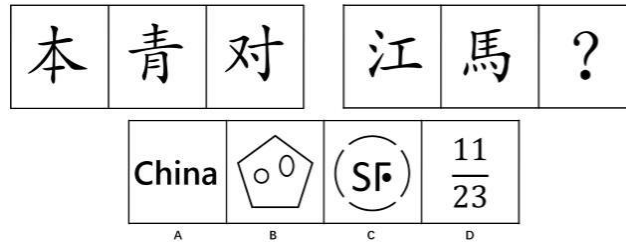
12. 请从所给的四个选项中，选出最恰当的一项填入问号处，使之呈现一定的规律性（ ）



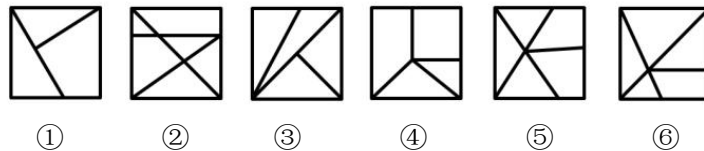
13. 请选择最适合的一项填入问号处，使之符合之前四个图形的变化规律（ ）



14. 从所给的四个选项中，选择最合适的一个填入问号处，使之呈现一定的规律性（ ）

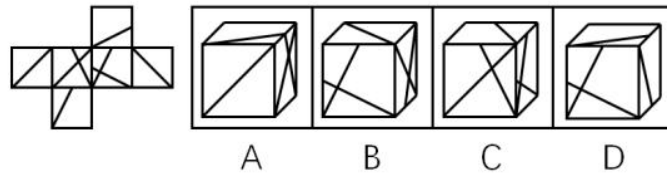


15. 把下面的六个图形分为两类，使每一类都有各自的共同特征或规律，分类正确的一项是（ ）

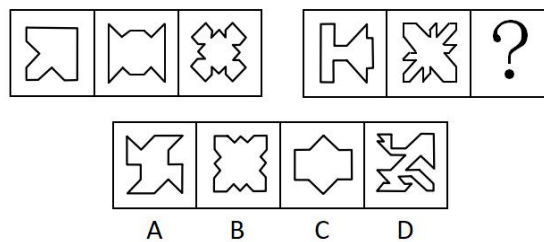


- A. ①②③, ④⑤⑥
- B. ①②⑤, ③④⑥
- C. ①②⑥, ③④⑤
- D. ①④⑤, ②③⑥

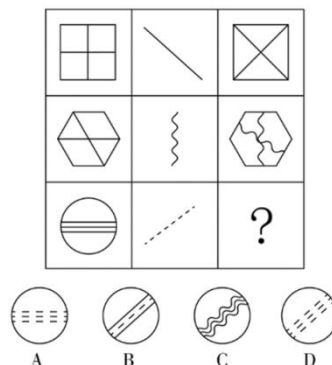
16. 左边给定的是正方体的外表面展开图，下面哪一项能由它折叠而成（ ）



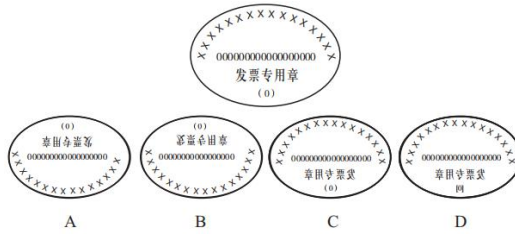
17. 从所给四个选项中，选择最合适的一个填入问号处，使之呈现一定的规律性（ ）



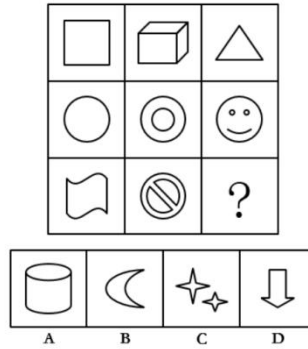
18. 下列选项中，符合所给图形的变化规律的是（ ）



19. 下列四个选项的图形，能由所给图形转动而成的是（ ）

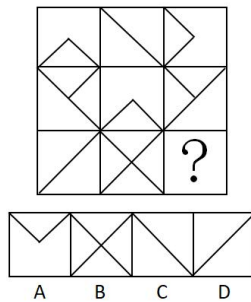


20. 从所给的四个选项中，选择最恰当的一个填入问号处，使之呈现一定的规律性 ()

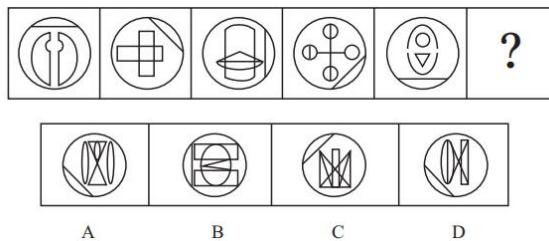


综合三

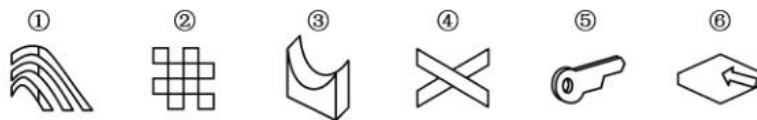
21. 从所给的四个选项中，选择最合适的一个填入问号处，使之呈现一定的规律性 ()



22. 从所给的选项中，选择最合适的一个填入问号处，使之呈现一定的规律性 ()

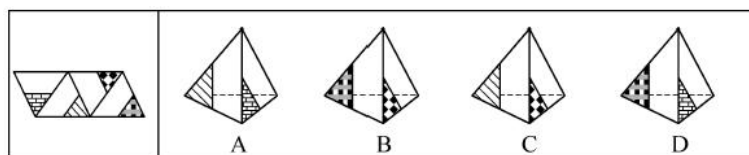


23. 把下面的六个图形分为两类，使每一类图形都有各自的共同特征或规律，分类正确的一项是 ()

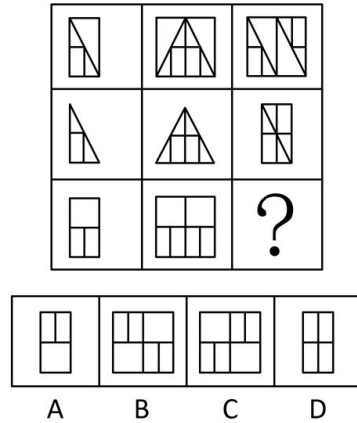


- A. ①③④, ②⑤⑥
- B. ①⑤⑥, ②③④
- C. ①④⑤, ②③⑥
- D. ①③⑤, ②④⑥

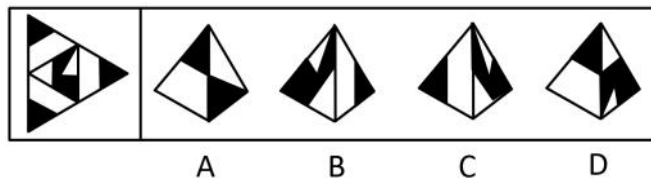
24. 左边给定的是纸盒外表面的展开图，右边哪一项能由它折叠而成？请把它找出来 ()



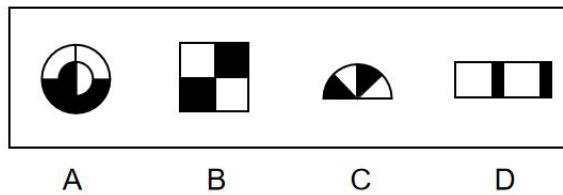
25. 下列选项中，符合所给图形的变化规律的是（ ）



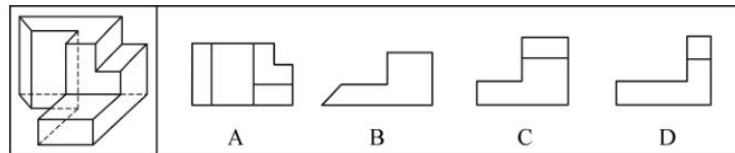
26. 下面给定的是纸盒外表面的展开图，右边哪一项能由它折叠而成？请把它找出来（ ）



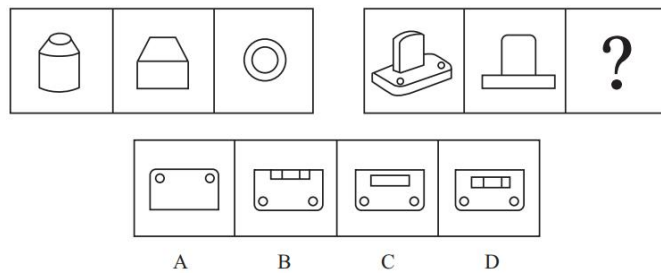
27. 下列选项中，与其他三个图形规律不同的是（ ）



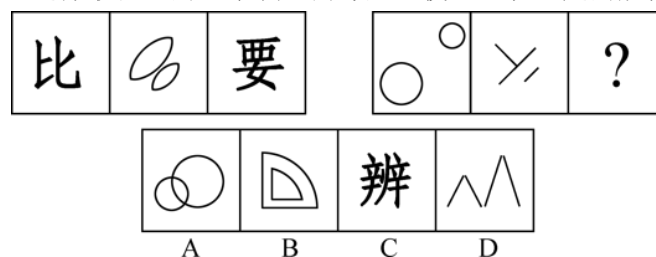
28. 左图为给定的多面体，从任一角度观看，下面哪一项不可能是该多面体的视图（ ）



29. 从所给的四个选项中，选择最合适的一个填入问号处，使之呈现一定的规律性（ ）

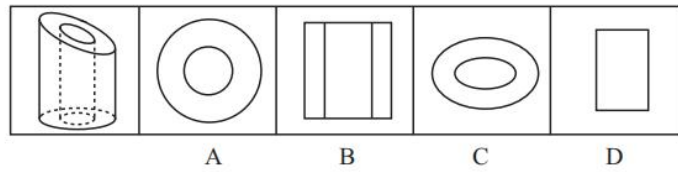


30. 从所给的四个选项中，选择最合适的一个填入问号处，使之呈现一定的规律性（ ）

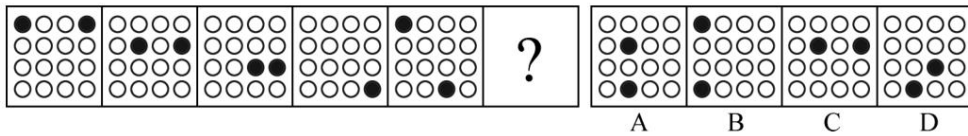


综合四

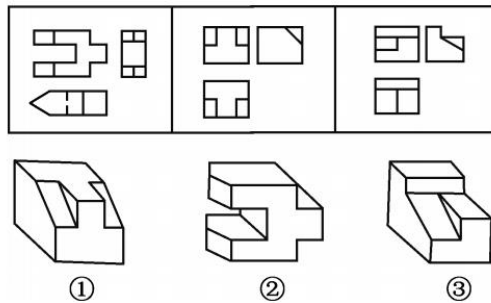
31. 把下列图形分成两类，分类正确的是（ ）



37. 从所给的四个选项中，选择最合适的一个填入问号处，使之呈现一定的规律性（ ）




38. 下面三个三视图依次与三个几何体相对应，三个几何体的正确对应顺序是（ ）

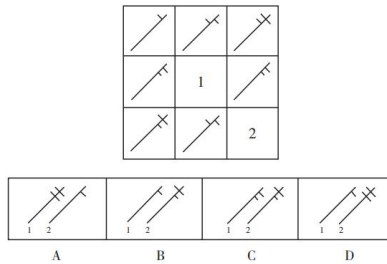


A. ②①③ B. ②③① C. ①③② D. ③①②

39. 从所给的四个选项中，选择最合适的一个填在问号处，使之呈现一定的规律性（ ）




40. 从所给的四个选项选择一个最合适的填入 1 和 2 处，使之呈现一定的规律性（ ）



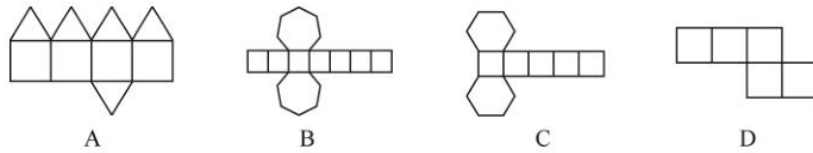
综合五

41. 把下面的图形分为两类，使每一类图形都有各自的共同特征或规律，分类正确的一项是（ ）

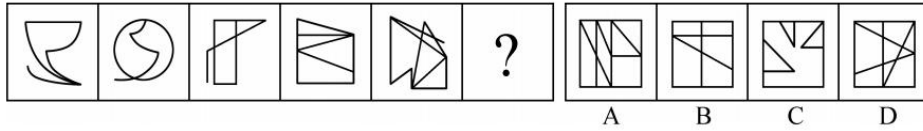


A. ①②⑤, ③④⑥ B. ①③⑥, ②④⑤
C. ①③④, ②⑤⑥ D. ①⑤⑥, ②③④


42. 下列图形能够折叠成完整封闭的立体几何结构的一项是（ ）



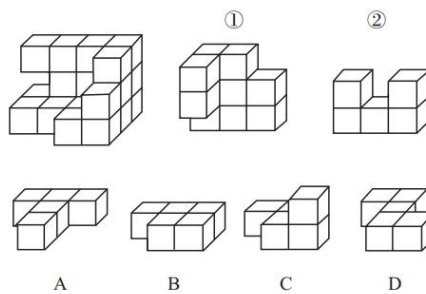
43. 从所给四个选项中，选择最合适的一个填入问号处，使之呈现一定的规律性（ ）



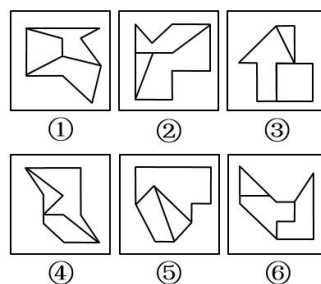
44. 下列选项中，符合所给图形的变化规律的是（ ）



45. 下图所示的多面体为 20 个一样的小正方体组合而成，问①②和以下哪个多面体可以组合成该多面体（ ）

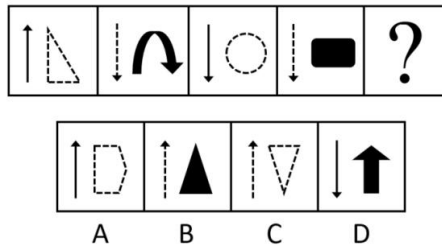


46. 把下面的六个图形分为两类，使每一类图形都有各自的共同特征或规律，分类正确的一项是（ ）

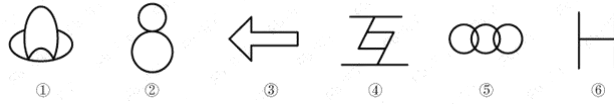


- A. ①④⑥, ②③⑤
- B. ①③⑤, ②④⑥
- C. ①②⑥, ③④⑤
- D. ①③④, ②⑤⑥

47. 每道题包含一套图形和四个选项，请从四个选项选出最恰当的一项填在问号处，使图形呈现一定的规律性（ ）

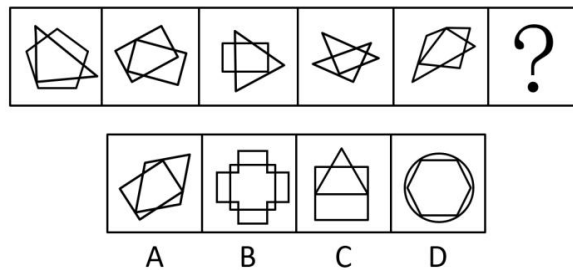


48. 把下面的图形分为两类，使每一类图形都有各自的共同特征或规律，分类正确的一项是 ()

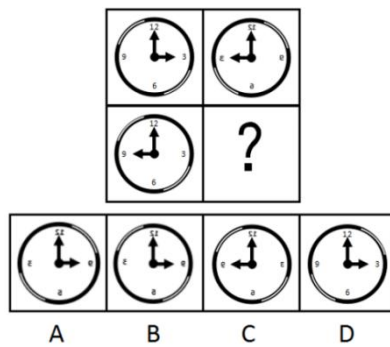


- A. ①④⑥, ②③⑤
 B. ①③④, ②⑤⑥
 C. ①②⑤, ③④⑥
 D. ①③⑤, ②④⑥

49. 从所给的四个选项中，选择最合适的一个填入问号处，使之呈现一定的规律性 ()

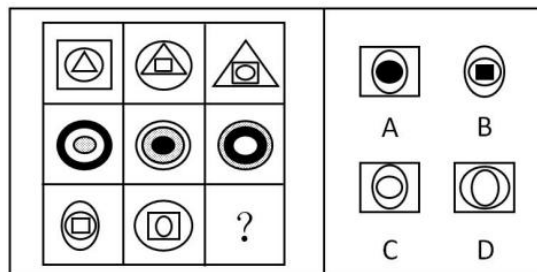


50. 请从所给的四个选项中，选择最合适的一个填入问号处，使之呈现一定的规律性 ()

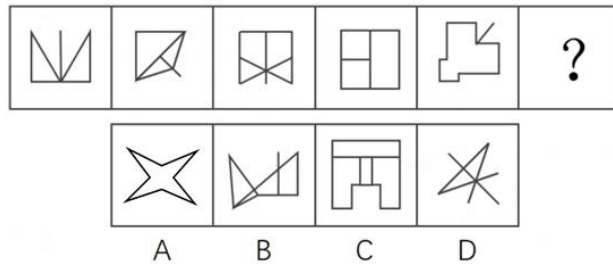


综合六

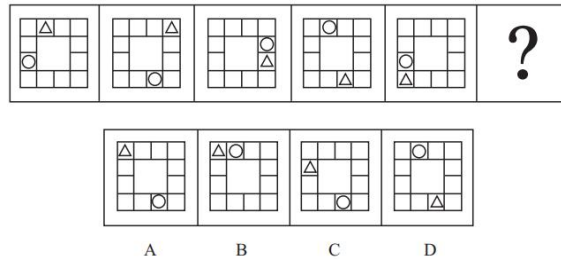
51. 下列选项中，符合所给图形的变化规律的是 ()



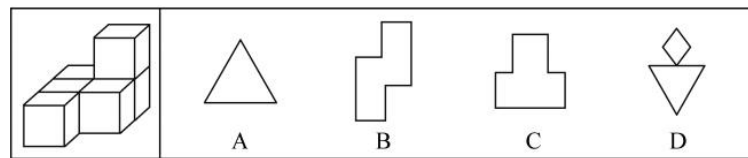
52. 把下面的六个图形分为两类，使每一类图形都有各自的共同特征或规律，分类正确的一项是 ()



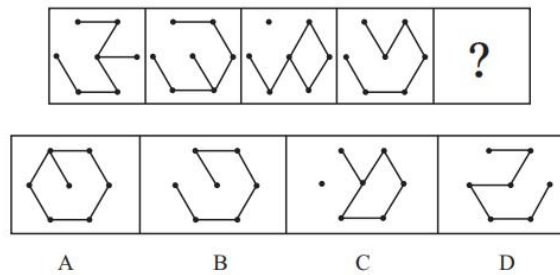
58. 从所给四个选项中，选择最合适的一个填入问号处，使之呈现一定的规律性 ()



59. 左图为 6 个相同小正方体组合成的多面体，将其从任一面剖开，以下哪一项不可能是该多面体的截面 ()

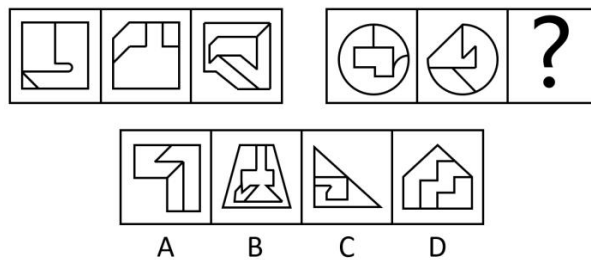


60. 从所给的选项中，选择最合适的一个填入问号处，使之呈现一定的规律性 ()




综合七

61. 从四个选项中选择最适合取代问号的一个。正确的答案应不仅使两套图形表现出最大的相似性，而且使第二套图形也表现出自己的特征 ()




62. 把下面的六个图形分为两类，使每一类图形都有各自的共同特征或规律，分类正确的一项是 ()

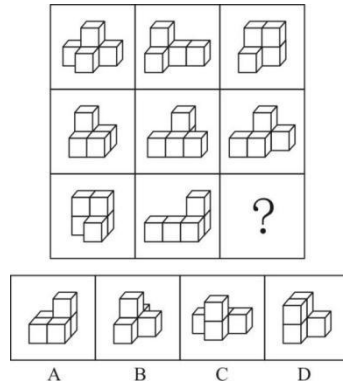


- A. ①②⑥, ③④⑤
 B. ①④⑤, ②③⑥
 C. ①③⑥, ②④⑤
 D. ①③⑤, ②④⑥


63. 从所给的四个选项中, 选择最合适的一个填入问号处, 使之呈现一定的规律性 ()



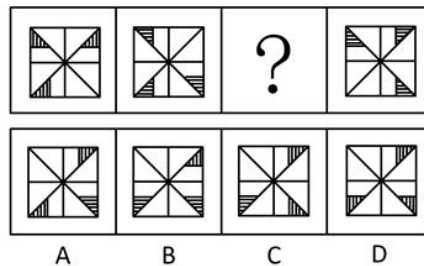
64. 从所给的四个选项中, 选择最恰当的一个填入问号处, 使之呈现一定的规律性 ()



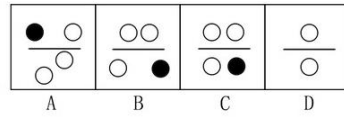

65. 从所给的四个选项中, 选择最合适的一个填入问号处, 使之呈现一定的规律性 ()



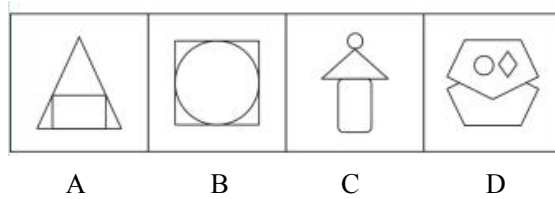

66. 下列选项中, 符合所给图形的变化规律的是 ()



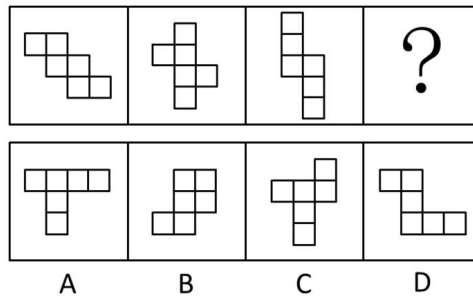
67. 从所给的四个选项中, 选择最合适的一个填入问号处, 使之呈现一定的规律性 ()



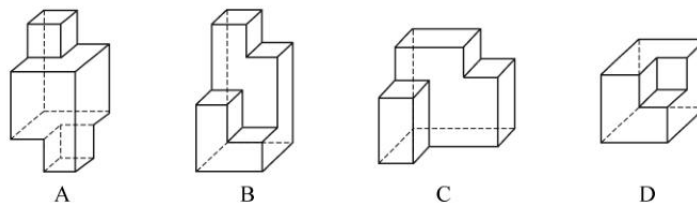
68. 从所给四个选项中，选择最合适的一个填入问号处，使之呈现一定的规律性（ ）



69. 从所给的四个选项中，选择最合适的一个填入问号处，使之呈现一定的规律性（ ）



70. 下面四个立体图形中，哪一项不能用一个平面分割为两个完全相同或互为镜像的部分（ ）



汉字专练

第一组

1. 从所给的四个选项选择一个最合适的填入第3、4行问号处，使之呈现一定的规律性（ ）

C	f	H	丰
6	《	三	#
{	“	738	?
乙	?	%	8222

- A. : 玉 B. 二 王 C. 18 279 D. 开 ”

2. 从所给的四个选项中，选择最合适的一个填入问号处，使之呈现一定的规律性 ()

5	G	手		?
---	---	---	--	---

文		8	
---	--	---	--

- A B C D

3. 把下面的图形分为两类，使每一类图形都有各自的共同特征或规律，分类正确的一项是 ()

中国	瑞士	老挝	古巴	贝宁	巴勒斯坦
----	----	----	----	----	------

- ① ② ③ ④ ⑤ ⑥

- A. ①②⑤, ③④⑥ B. ①③⑤, ②④⑥
C. ①④⑥, ②③⑤ D. ①②⑥, ③④⑤

4. 从所给的四个选项中，选择最合适的一个填入问号处，使之呈现一定的规律性 ()

Σ	了	圭
R	兄	凵
?	侶	⑥

靳	洲	有	齐
---	---	---	---

- A B C D

5. 从所给的四个选项中，选择最合适的一个填入问号处，使之呈现一定的规律性 ()

杜	鹃	徊	徘
---	---	---	---

龙	飞	四	野
---	---	---	---

- A B C D

6. 请从所给的四个选项中，选择最合适的一个填入问号处，使之呈现一定的规律性 ()

元	兆	党
---	---	---

分	具	?
---	---	---

今	儿	风	兵
---	---	---	---

A B C D

7. 请从所给的四个选项中，选择最合适的一个填入括号处，使之呈现一定的规律性（ ）

二	小	无	外
---	---	---	---

阳	春	白	雪
---	---	---	---

A B C D

8. 请从四个选项中，选择最合适的一个填入问号处，使之呈现一定的规律性（ ）

乙	乃	又	予	?
---	---	---	---	---

宀	乡	乌	四
---	---	---	---

A B C D

9. 从四个选项中，选择最合适的一个，使之呈现一定的规律性（ ）

光	沈	欣	剑
---	---	---	---

赵	梁	晓	燕
---	---	---	---

A B C D.

10. 请从所给的四个选项中，选择最合适的一个，使之呈现一定的规律性（ ）

歹	二	日	吕	?
---	---	---	---	---

五	川	四	汝
---	---	---	---

A B C D

第二组


11. 从所给的四个选项中，选择最合适的一个填入问号处，使之呈现一定的规律性（ ）

开	面	出
青	勺	什
小	对	?

无	忠	走	三
---	---	---	---


A B C D

12. 把下面的六个图形分为两类，使每一类图形都有各自的共同特征或规律，分类正确的一项是（ ）

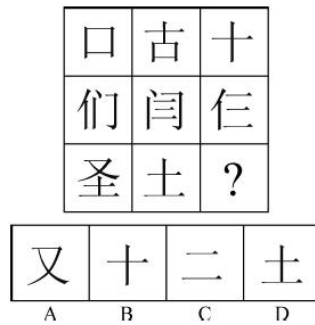


- A. ①④⑥, ②③⑤ B. ①③⑥, ②④⑤
 C. ①②③, ④⑤⑥ D. ①②④, ③⑤⑥

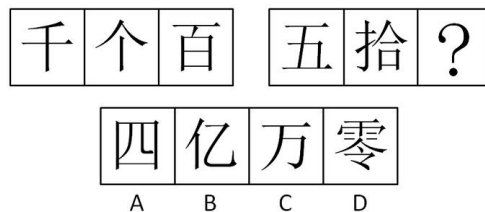
13. 从所给四个选项中, 选择最合适的一个填入问号处, 使之呈现一定规律性 ()



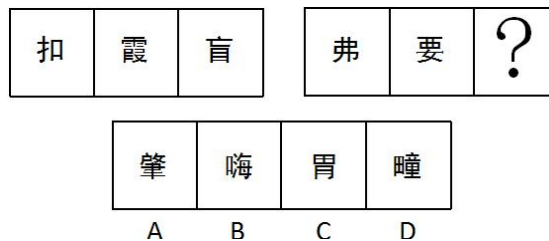
14. 从所给的四个选项中, 选择最合适的一个填入问号处, 使之呈现一定的规律性 ()



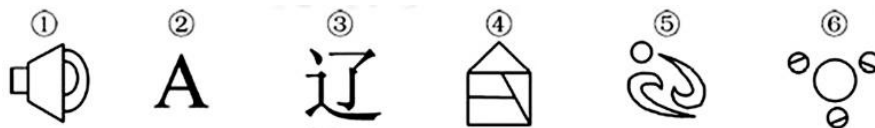
15. 下列所给出的一组图形中, 均按一定的规律组合而成, 请从所给出的四个选项中选择符合此种规律的选项 ()



16. 根据所给图形的既有规律, 选出一个最合理的答案 ()

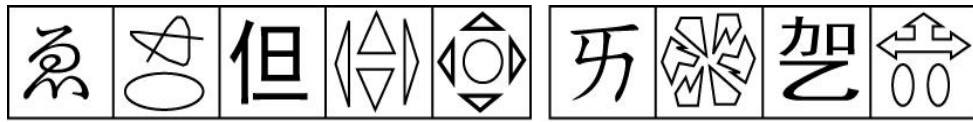


17. 把下面的六个图形分为两类, 使每一类图形都有各自的共同特征或规律, 分类正确的一项是 ()



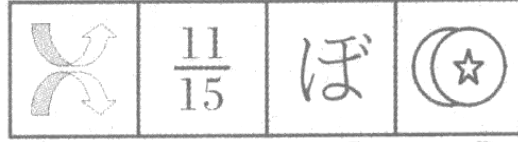
- A. ①②③, ④⑤⑥ B. ①⑤⑥, ②③④
 C. ①②④, ③⑤⑥ D. ①④⑥, ②③⑤

18. 请从所给的四个选项中, 选择最合适的一个, 使之呈现一定的规律性 ()



A B C D

19. 请从所给的四个选项中, 选择最合适的一个, 使之呈现一定的规律性 ()




A B C D

20. 把下面的六

个图形分为两类, 使每一类图形都有各自的共同特征或规律, 分类正确的一项是 ()



① ② ③



④ ⑤ ⑥

A. ①②④, ③⑤⑥

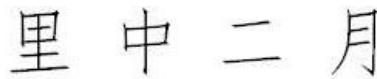
B. ①②③, ④⑤⑥

C. ①③⑥, ②④⑤

D. ①③⑤, ②④⑥

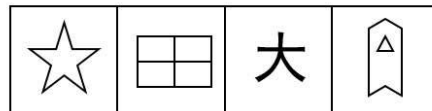
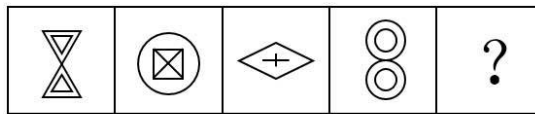
第三组

21. 请从所给的四个选项中, 选择最合适的一个, 使之呈现一定的规律性 ()



A B C D

22. 请从所给的四个选项中, 选择最合适的一个, 使之呈现一定的规律性 ()



A B C D

23. 从所给的四个选项中, 选择最合适的一个填入问号处, 使之呈现一定的规律性 ()



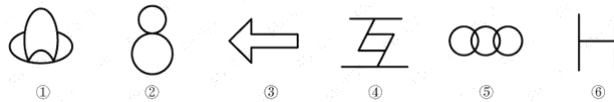
A B C D

24. 从所给的四个选项中, 选择最合适的一个填入问号处, 使之呈现一定的规律性 ()

廿	木	右
之	宁	诘
巾	同	?


柏	说	星	贩
A	B	C	D

25. 把下面的图形分为两类，使每一类图形都有各自的共同特征或规律，分类正确的一项是 ()

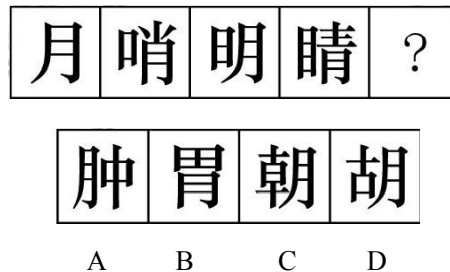


- A. ①④⑥, ②③⑤
 B. ①③④, ②⑤⑥
 C. ①②⑤, ③④⑥
 D. ①③⑤, ②④⑥

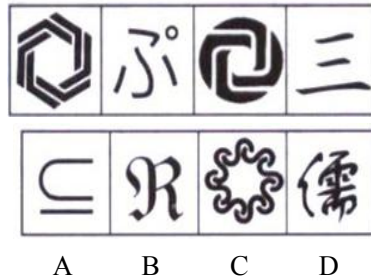
26. 请从四个选项中，选择最适合的一个，使之呈现一定的规律性 ()



27. 从所给的四个选项中，选择最合适的一个填入问号处，使之呈现一定的规律性 ()



28. 从所给的四个选项中，选择最适合的一个，使之呈现一定的规律性 ()



29. 从所给的选项中，选择最合适的一个，使之呈现一定的规律性 ()



A B C D

30. 从所给的选项中，选择最合适的一个，使之呈现一定的规律性（ ）

联	姍	藏	沮	?
---	---	---	---	---

血	意	副	廉
---	---	---	---

A B C D